

Section : Marathi Language

Q.1 वाक्याचा प्रकार ओळखा.

'चांगला अभ्यास करा.'

- Ans
- 1. उद्गारार्थी
 - 2. आज्ञार्थी
 - 3. प्रश्नार्थी
 - 4. स्वार्थी

Question Type : MCQ

Question ID : 630680291978

Option 1 ID : 6306801135794

Option 2 ID : 6306801135793

Option 3 ID : 6306801135792

Option 4 ID : 6306801135795

Status : Answered

Chosen Option : 2

Q.2 खालीलपैकी अचूक वाक्यरचना कोणती आहे ?

- Ans 1. उठतो आणि तासभर अभ्यास करतो अजय पहाटे.
 2. आणि अजय पहाटे उठतो तासभर अभ्यास करतो.
 3. करतो तासभर अभ्यास अजय पहाटे उठतो आणि.
 4. अजय पहाटे उठतो आणि तासभर अभ्यास करतो.

Question Type : MCQ

Question ID : 630680291979

Option 1 ID : 6306801135796

Option 2 ID : 6306801135797

Option 3 ID : 6306801135798

Option 4 ID : 6306801135799

Status : Answered

Chosen Option : 4

Q.3 योग्य जोड्या जुळवा.

| 'अ' गट | 'ब' गट |
|----------|--------------|
| a. आदळ | i) बशा |
| b. आप्त | ii) नातेवाईक |
| c. उठा | iii) इष्ट |
| d. आकांड | iv) आपट |
| | v) तांडव |

- Ans 1. a-ii, b-iii, c-i, d-v
 2. a-iii, b-iv, c-i, d-ii
 3. a-iv, b-iii, c-i, d-v
 4. a-iv, b-ii, c-i, d-ii

Question Type : MCQ

Question ID : 630680291983

Option 1 ID : 6306801135815

Option 2 ID : 6306801135814

Option 3 ID : 6306801135812

Option 4 ID : 6306801135813

Status : Answered

Chosen Option : 3

Q.4 'आईची माया आणि पोर जाई वाया'- म्हणीचा अर्थ ओळखा.

- Ans 1. आईची मुलावरील माया कधीच कमी होत नाही
 2. आईने फार लाड केले तर मुलगा बिघडतो
 3. आईने फार लाड केले तर मुलगा सुधारतो
 4. पोर वाया जाते तेव्हा आई माया करत नाही

Question Type : MCQ

Question ID : 630680291982

Option 1 ID : 6306801135809

Option 2 ID : 6306801135810

Option 3 ID : 6306801135808

Option 4 ID : 6306801135811

Status : Answered

Chosen Option : 2

Q.5 'मिळालेली संधी वाया जाणे' या अर्थाचा वाक्यप्रचार ओळखा.

- Ans 1. पाणी देणे
 2. पाणी पाजणे
 3. पाणी मुरणे
 4. पाणी पडणे

Question Type : MCQ

Question ID : 630680291985

Option 1 ID : 6306801135823

Option 2 ID : 6306801135821

Option 3 ID : 6306801135822

Option 4 ID : 6306801135820

Status : Answered

Chosen Option : 4

Q.6 'रंगरावचा उत्कर्ष पाहून जयसिंगच्या पोटात दुखते.' - अधोरेखित शब्दाचा खालीलपैकी कोणता विरुद्धार्थी शब्द आहे ?

- Ans 1. प्रखर
 2. अस्त
 3. अपकर्ष
 4. सदयता

Question Type : MCQ

Question ID : 630680291988

Option 1 ID : 6306801135833

Option 2 ID : 6306801135834

Option 3 ID : 6306801135835

Option 4 ID : 6306801135832

Status : Answered

Chosen Option : 3

Q.7 'माधुर्य, मोठेपण, आपुलकी' ही कोणत्या प्रकारची नामे आहेत ?

- Ans 1. भाववाचक
 2. धर्मवाचक
 3. सामान्यनाम
 4. विशेषनाम

Question Type : MCQ

Question ID : 630680291977

Option 1 ID : 6306801135788

Option 2 ID : 6306801135791

Option 3 ID : 6306801135789

Option 4 ID : 6306801135790

Status : Answered

Chosen Option : 1

Q.8 'पक्ष्यांचा थवा आकाशातून विहार करत होता.'

वरील वाक्यात समूहदर्शक शब्द कोणता आहे ?

- Ans 1. आकाशातून
 2. पक्ष्यांचा
 3. थवा
 4. विहार

Question Type : MCQ

Question ID : 630680291981

Option 1 ID : 6306801135806

Option 2 ID : 6306801135805

Option 3 ID : 6306801135804

Option 4 ID : 6306801135807

Status : Answered

Chosen Option : 3

Q.9 अ)त्तो पक्षी गातो.

ब)हे मुल रडते.

वरील अधोरेखित विशेषणे कोणत्या प्रकारची आहेत ?

- Ans 1. धातुसाधित
 2. विधि
 3. अधि
 4. सार्वनामिक

Question Type : MCQ

Question ID : 630680291976

Option 1 ID : 6306801135784

Option 2 ID : 6306801135786

Option 3 ID : 6306801135785

Option 4 ID : 6306801135787

Status : Answered

Chosen Option : 4

Q.10 लेखननियमानुसार अचूक शब्द शोधा.

- Ans 1. सार्वकालीक
 2. सार्वकालिक
 3. सावरकालिक
 4. सर्वकालिक

Question Type : MCQ
Question ID : 630680291986
Option 1 ID : 6306801135824
Option 2 ID : 6306801135826
Option 3 ID : 6306801135827
Option 4 ID : 6306801135825
Status : Answered
Chosen Option : 2

Q.11 लेखननियमानुसार अचूक शब्द कोणता आहे ?

- Ans 1. आशीर्वाद
 2. आर्शिवाद
 3. आशिरवाद
 4. आशिर्वाद

Question Type : MCQ
Question ID : 630680291987
Option 1 ID : 6306801135829
Option 2 ID : 6306801135830
Option 3 ID : 6306801135828
Option 4 ID : 6306801135831
Status : Answered
Chosen Option : 1

Q.12 खालील पर्यायांत शब्दसमूहाबद्दल एक शब्द दिलेले आहेत, त्यांतील चुकीचा पर्याय कोणता आहे ?

- Ans 1. उपकाराची जाणीव ठेवण्याची प्रवृत्ती - कृतज्ञता
 2. अस्वलाचा खेळ करणारा - दरवेशी
 3. कर्तव्याकडे पाठ फिरवणारा - कर्तव्यपरायण
 4. दररोज प्रसिद्ध होणारे - दैनिक

Question Type : MCQ
Question ID : 630680291980
Option 1 ID : 6306801135800
Option 2 ID : 6306801135803
Option 3 ID : 6306801135801
Option 4 ID : 6306801135802
Status : Answered
Chosen Option : 3

Q.13 'पोपट' शब्दाचा खालीलपैकी कोणता समानार्थी शब्द नाही ?

- Ans 1. रावा
 2. पंचानन
 3. राघू
 4. शुक

Question Type : MCQ
Question ID : 630680291989
Option 1 ID : 6306801135839
Option 2 ID : 6306801135836
Option 3 ID : 6306801135838
Option 4 ID : 6306801135837
Status : Answered
Chosen Option : 2

Q.14 'तुषार कुस्तीगीर झाला.' - अधोरेखित शब्दाचे कार्य कोणते आहे ?

- Ans 1. कर्म
 2. क्रियापद
 3. पूरक
 4. कर्ता

Question Type : MCQ
Question ID : 630680291975
Option 1 ID : 6306801135781
Option 2 ID : 6306801135782
Option 3 ID : 6306801135783
Option 4 ID : 6306801135780
Status : Answered
Chosen Option : 2

Q.15 'रोहित शर्मा लागोपाठ तीन वेळा शून्यावर बाद झाल्याने कप्तान धोनीच्या अंगाचा तिळपापड झाला.'

वरील वाक्यातील वाक्यचाराचा अर्थ कोणता आहे ?

- Ans 1. खूप आनंद वाटणे
 2. आगीवर पापड भाजणे
 3. प्रचंड संताप येणे
 4. दुःख होणे

Question Type : MCQ
Question ID : 630680291984
Option 1 ID : 6306801135816
Option 2 ID : 6306801135819
Option 3 ID : 6306801135818
Option 4 ID : 6306801135817
Status : Answered
Chosen Option : 3

Section : English Language

Q.1 Choose an option, which can be substituted for a given word/sentence/phrase out of given options.

Ann doesn't know how to read and write.

- Ans
- 1. Headstrong
 - 2. Invulnerable
 - 3. Illiterate
 - 4. Blindfolded

Question Type : MCQ

Question ID : 630680291996

Option 1 ID : 6306801135866

Option 2 ID : 6306801135867

Option 3 ID : 6306801135865

Option 4 ID : 6306801135864

Status : Answered

Chosen Option : 3

Q.2 Select the most appropriate verb to fill in the blanks for the given sentence:

We _____ in an apartment in the city center.

- Ans
- 1. live
 - 2. is living
 - 3. are lives
 - 4. lives

Question Type : MCQ

Question ID : 630680292002

Option 1 ID : 6306801135889

Option 2 ID : 6306801135891

Option 3 ID : 6306801135890

Option 4 ID : 6306801135888

Status : Answered

Chosen Option : 2

Q.3 Choose the most logical order of the words from among the four given choices to construct a sentence:

- A) brightly so better
- B) not play
- C) outside
- D) is shining too
- E) The sun

- Ans
- 1. EDABC
 - 2. EABDC
 - 3. DEABC
 - 4. BADCE

Question Type : MCQ

Question ID : 630680291998

Option 1 ID : 6306801135874

Option 2 ID : 6306801135873

Option 3 ID : 6306801135872

Option 4 ID : 6306801135875

Status : Answered

Chosen Option : 2

Q.4 Select the most appropriate verb to fill in the blanks for the given sentence:

I usually_____ or visit friends at the weekend.

- Ans 1. go out
 2. Going out
 3. goes out
 4. Had go out

Question Type : MCQ
Question ID : 630680292004
Option 1 ID : 6306801135897
Option 2 ID : 6306801135898
Option 3 ID : 6306801135896
Option 4 ID : 6306801135899
Status : Answered
Chosen Option : 2

Q.5 Choose the most appropriate meaning of the below mentioned word from the below options:

Int rigning

- Ans 1. uninteresting
 2. boring
 3. monotonous
 4. engaging

Question Type : MCQ
Question ID : 630680291990
Option 1 ID : 6306801135843
Option 2 ID : 6306801135842
Option 3 ID : 6306801135840
Option 4 ID : 6306801135841
Status : Answered
Chosen Option : 3

Q.6 Select the most appropriate verb to fill in the blanks for the given sentence:

It _____ me around half an hour to get to school.

- Ans 1. Had take
 2. taken
 3. Had took
 4. takes

Question Type : MCQ
Question ID : 630680292003
Option 1 ID : 6306801135894
Option 2 ID : 6306801135895
Option 3 ID : 6306801135893
Option 4 ID : 6306801135892
Status : Answered
Chosen Option : 1

Q.7 Choose the most appropriate meaning of the below mentioned word from the below options:

Rogue

- Ans 1. honorable
 2. Straight
 3. fraudulent
 4. ethical

Question Type : MCQ

Question ID : 630680291991

Option 1 ID : 6306801135845

Option 2 ID : 6306801135844

Option 3 ID : 6306801135846

Option 4 ID : 6306801135847

Status : Answered

Chosen Option : 2

Q.8 Choose an option, which can be substituted for a given word/sentence/phrase out of given options.

Study of birds is called.

- Ans 1. Ornithology
 2. Anthropology
 3. Zoology
 4. numismatics

Question Type : MCQ

Question ID : 630680291997

Option 1 ID : 6306801135871

Option 2 ID : 6306801135868

Option 3 ID : 6306801135869

Option 4 ID : 6306801135870

Status : Answered

Chosen Option : 2

Q.9 Choose the most appropriate meaning of the below quoted idiom from the below options:

"Asleep at the switch"

- Ans 1. Unable to sleep quickly
 2. Wanted to sleep on a comfortable bed
 3. Failed to do one's duty at the proper time
 4. Discharged one's duties with utmost sincerity

Question Type : MCQ

Question ID : 630680291995

Option 1 ID : 6306801135863

Option 2 ID : 6306801135862

Option 3 ID : 6306801135860

Option 4 ID : 6306801135861

Status : Answered

Chosen Option : 2

Q.10 Choose the most appropriate meaning of the below quoted idiom from the below options:

"Call a spade a spade"

- Ans 1. speak clearly and directly about things, even embarrassing or unpleasant things
 2. Speak in a defensive manner and not addressing the matter
 3. Getting very angry and defensive
 4. To be afraid of calling out someone

Question Type : MCQ

Question ID : 630680291994

Option 1 ID : 6306801135857

Option 2 ID : 6306801135856

Option 3 ID : 6306801135858

Option 4 ID : 6306801135859

Status : Answered

Chosen Option : 4

Q.11 Parts of the following sentence have been given as option that contains an error in spelling. If you don't find any error, mark "No error" as your answer.

We now have new evidence to corroborate the defendent's story.

- Ans 1. corroborate
 2. evidence
 3. No error
 4. defendent's

Question Type : MCQ

Question ID : 630680291993

Option 1 ID : 6306801135852

Option 2 ID : 6306801135853

Option 3 ID : 6306801135855

Option 4 ID : 6306801135854

Status : Answered

Chosen Option : 1

Q.12 Select the most appropriate article to fill in the blanks for the given sentence: Mark "No article" if there is no requirement of article.

Yest erday, I bought a blouse and a skirt. _____ blouse was surprisingly cheap, but the skirt was more expensive.

- Ans 1. No article
 2. a
 3. an
 4. The

Question Type : MCQ

Question ID : 630680292000

Option 1 ID : 6306801135883

Option 2 ID : 6306801135881

Option 3 ID : 6306801135882

Option 4 ID : 6306801135880

Status : Answered

Chosen Option : 3

Q.13 Select the most appropriate article to fill in the blanks for the given sentence: Mark "No article" if there is no requirement of article.

_____ potential for networking is huge when attending an event or meeting.

- Ans
- 1. a
 - 2. the
 - 3. an
 - 4. No article

Question Type : MCQ
Question ID : 630680292001
Option 1 ID : 6306801135884
Option 2 ID : 6306801135886
Option 3 ID : 6306801135885
Option 4 ID : 6306801135887
Status : Answered
Chosen Option : 2

Q.14 Parts of the following sentence have been given as option that contains an error in spelling. If you don't find any error, mark "No error" as your answer.

The use of credit cards in shopping without caution and a lack of commitment to settle debts has caused many young people to be categorized as bankrupt.

- Ans
- 1. No error
 - 2. categorized
 - 3. caution
 - 4. committment

Question Type : MCQ
Question ID : 630680291992
Option 1 ID : 6306801135850
Option 2 ID : 6306801135849
Option 3 ID : 6306801135848
Option 4 ID : 6306801135851
Status : Answered
Chosen Option : 4

Q.15 Choose the most logical order of the words from among the four given choices to construct a sentence:

- A)insight into the organization's overall
- B)is conducting regular financial analyses,
- C)financial health.
- D)which provide an
- E)A crucial aspect of financial management

- Ans
- 1. EBDAC
 - 2. EDBCE
 - 3. ABDEC
 - 4. DEABC

Question Type : MCQ
Question ID : 630680291999
Option 1 ID : 6306801135877
Option 2 ID : 6306801135876
Option 3 ID : 6306801135879
Option 4 ID : 6306801135878
Status : Answered
Chosen Option : 1

Q.1 यापैकी कशाद्वारे भारतातील जवळजवळ 85 टक्के प्रवासी वाहतुकीचे आणि त्याच्या वाहतूक आकाराच्या 60 टक्क्यांहून जास्तीचे वहन केले जाते?

- Ans 1. हवाई वाहतूक
 2. रस्ते वाहतूक
 3. जलमार्ग
 4. रेल्वेमार्ग

Question Type : MCQ

Question ID : 630680292011

Option 1 ID : 6306801135926

Option 2 ID : 6306801135927

Option 3 ID : 6306801135924

Option 4 ID : 6306801135925

Status : Answered

Chosen Option : 4

Q.2 राघोजी भांगरे हे कोण होते?

- Ans 1. ख्यातनाम महाराष्ट्रीय कवी
 2. महाराष्ट्रातील क्रांतिकारक
 3. महाराष्ट्रातील धर्मगुरू
 4. ब्रिटिश वसाहतीचे प्रशासक

Question Type : MCQ

Question ID : 630680292019

Option 1 ID : 6306801135958

Option 2 ID : 6306801135956

Option 3 ID : 6306801135959

Option 4 ID : 6306801135957

Status : Answered

Chosen Option : 2

Q.3 इंडियन ओव्हरसीज बँकेचे केंद्रीय कार्यालय कोठे आहे?

- Ans 1. पुणे
 2. नवी दिल्ली
 3. चेन्नई
 4. मुंबई

Question Type : MCQ

Question ID : 630680292008

Option 1 ID : 6306801135914

Option 2 ID : 6306801135915

Option 3 ID : 6306801135913

Option 4 ID : 6306801135912

Status : Answered

Chosen Option : 2

Q.4 'दिग्दर्शन' हे मराठीतील पहिले मासिक कोणी सुरु केले?

- Ans 1. त्र्यंबक शंकर शेजवळकर
 2. बाळशास्त्री जांभेकर
 3. बाळ गंगाधर टिळक
 4. गोपाळ गणेश आगरकर

Question Type : MCQ
Question ID : 630680292006
Option 1 ID : 6306801135907
Option 2 ID : 6306801135906
Option 3 ID : 6306801135905
Option 4 ID : 6306801135904
Status : Answered
Chosen Option : 2

Q.5 भिल्ल हे सर्वात मोठ्या आदिवासी गटांपैकी एक असून ते _____ वगळता खालीलपैकी सर्व राज्यांमध्ये राहतात.

- Ans 1. छत्तीसगड
 2. राजस्थान
 3. महाराष्ट्र
 4. ओडिशा

Question Type : MCQ
Question ID : 630680292012
Option 1 ID : 6306801135928
Option 2 ID : 6306801135929
Option 3 ID : 6306801135931
Option 4 ID : 6306801135930
Status : Answered
Chosen Option : 1

Q.6 भारतातील कोणत्या जागतिक सांस्कृतिक वारसास्थळाला 1989 मध्ये मान्यता मिळाली होती?

- Ans 1. सांची येथील बौद्ध स्मारके
 2. चोळ राजांची मंदिरे (Great Living Chola Temples)
 3. ताजमहाल
 4. कुतुबमिनार

Question Type : MCQ
Question ID : 630680292007
Option 1 ID : 6306801135908
Option 2 ID : 6306801135910
Option 3 ID : 6306801135909
Option 4 ID : 6306801135911
Status : Answered
Chosen Option : 3

Q.7 ----- ची पठारे ही रेगुर मृदेने व्यापलेली आहेत.

- Ans 1. मारवाड
 2. महाराष्ट्र
 3. छोटा नागपूर
 4. मेघालय

Question Type : MCQ
Question ID : 630680292010
Option 1 ID : 6306801135923
Option 2 ID : 6306801135920
Option 3 ID : 6306801135921
Option 4 ID : 6306801135922
Status : Answered
Chosen Option : 2

Q.8 महाराष्ट्राची पश्चिम किनारपट्टी कोणत्या जलाशयाने बनलेली आहे?

- Ans 1. कच्छचे आखात
 2. बंगालचा उपसागर
 3. अरबी समुद्र
 4. हिंदी महासागर

Question Type : MCQ
Question ID : 630680292009
Option 1 ID : 6306801135919
Option 2 ID : 6306801135916
Option 3 ID : 6306801135917
Option 4 ID : 6306801135918
Status : Answered
Chosen Option : 3

Q.9 भारताचा पहिला मतदाता कोण होता?

- Ans 1. सुकुमार सेन
 2. अण्णा दास
 3. दामोदर वागळे
 4. श्याम शरण नेगी

Question Type : MCQ
Question ID : 630680292014
Option 1 ID : 6306801135939
Option 2 ID : 6306801135938
Option 3 ID : 6306801135936
Option 4 ID : 6306801135937
Status : Answered
Chosen Option : 4

Q.10 महाराष्ट्रातील कोणता विशिष्ट प्रदेश हा जांभ्या खडकाच्या मृदेसाठी प्रसिद्ध आहे?

- Ans 1. पश्चिम घाटाचा प्रदेश
 2. कोकण प्रदेश
 3. विदर्भ प्रदेश
 4. मराठवाडा प्रदेश

Question Type : MCQ

Question ID : 630680292017

Option 1 ID : 6306801135948

Option 2 ID : 6306801135949

Option 3 ID : 6306801135950

Option 4 ID : 6306801135951

Status : Answered

Chosen Option : 1

Q.11 कोणत्या राज्याला पश्चिम भारतातील डाळींच्या उत्पादनातील त्याच्या लक्षणीय योगदानासाठी ओळखले जाते?

- Ans 1. महाराष्ट्र
 2. कर्नाटक
 3. उत्तर प्रदेश
 4. मध्यप्रदेश

Question Type : MCQ

Question ID : 630680292015

Option 1 ID : 6306801135942

Option 2 ID : 6306801135941

Option 3 ID : 6306801135943

Option 4 ID : 6306801135940

Status : Answered

Chosen Option : 3

Q.12 भारतातील सर्व राज्यांदरम्यान क्षेत्रफळाच्या दृष्टीने महाराष्ट्राचा क्रमांक किती आहे?

- Ans 1. दुसरा
 2. चौथा
 3. तिसरा
 4. पहिला

Question Type : MCQ

Question ID : 630680292018

Option 1 ID : 6306801135953

Option 2 ID : 6306801135955

Option 3 ID : 6306801135954

Option 4 ID : 6306801135952

Status : Answered

Chosen Option : 3

Q.13 'केसरी' आणि 'मराठा' या वृत्तपत्रांचे संस्थापक कोण होते?

- Ans 1. महात्मा गांधी आणि जवाहरलाल नेहरू
 2. गोपाळ गणेश आगरकर आणि बाळ गंगाधर टिळक
 3. सुभाषचंद्र बोस आणि भगतसिंग
 4. राजा राममोहन रॉय आणि रवींद्रनाथ टागोर

Question Type : MCQ
Question ID : 630680292005
Option 1 ID : 6306801135900
Option 2 ID : 6306801135902
Option 3 ID : 6306801135901
Option 4 ID : 6306801135903
Status : Answered
Chosen Option : 2

Q.14 महाराष्ट्रातील सातारा जिल्ह्यातील _____ पठार हा पश्चिम घाटाचा एक भाग आहे.

- Ans 1. कास
 2. माथेरान
 3. दख्खन
 4. पांचगणी

Question Type : MCQ
Question ID : 630680292016
Option 1 ID : 6306801135947
Option 2 ID : 6306801135944
Option 3 ID : 6306801135945
Option 4 ID : 6306801135946
Status : Answered
Chosen Option : 1

Q.15 संविधानाच्या 73 व्या आणि 74 व्या सुधारणेनुसार स्थानिक स्वराज्य संस्थांमध्ये महिलांसाठी किती टक्के जागा राखीव ठेवण्यात आल्या होत्या?

- Ans 1. 33%
 2. 50%
 3. 28%
 4. 25%

Question Type : MCQ
Question ID : 630680292013
Option 1 ID : 6306801135933
Option 2 ID : 6306801135934
Option 3 ID : 6306801135935
Option 4 ID : 6306801135932
Status : Answered
Chosen Option : 2

Section : Mental Ability

Q.1 खालील संख्याक्रमात असे किती '5' आहेत, ज्यांपैकी प्रत्येकाच्या लगेचच नंतर '7' येतो पण लगेचच आधी '3' किंवा '2' येत नाही?

(डावे) 9 8 3 5 7 3 6 4 7 5 7 8 7 4 2 5 7 1 8 6 3 4 5 8 7 5 2 7 3 5 7 4 7 6 5 3 4 5 9 4 7 8
0 4 7 1 5 8 9 5 9 6 4 6 (उजवे)

- Ans
- 1. 3
 - 2. 5
 - 3. 1
 - 4. 0

Question Type : MCQ

Question ID : 630680292027

Option 1 ID : 6306801135989

Option 2 ID : 6306801135990

Option 3 ID : 6306801135991

Option 4 ID : 6306801135988

Status : Answered

Chosen Option : 3

Q.2 खालील संख्या शृंखलेचा संदर्भ घ्या आणि प्रश्नाचे उत्तर द्या.

(डावे) 2 4 5 8 7 6 5 4 4 5 2 8 5 4 6 8 4 5 6 4 2 (उजवे)

दिलेल्या संख्या शृंखलेत असे किती '5' आहेत, ज्यांपैकी प्रत्येकाच्या लगेचच नंतर '4' येतो, परंतु लगेचच आधी '4' येत नाही?

- Ans
- 1. 4
 - 2. 2
 - 3. 3
 - 4. 1

Question Type : MCQ

Question ID : 630680292025

Option 1 ID : 6306801135981

Option 2 ID : 6306801135980

Option 3 ID : 6306801135983

Option 4 ID : 6306801135982

Status : Answered

Chosen Option : 2

Q.3 अक्षर-गटांच्या चार जोड्या दिलेल्या आहेत, ज्यांपैकी तीन जोड्यांमध्ये एक विशिष्ट साधर्म्य आहे आणि एक वेगळी आहे. ती वेगळी अक्षर-गट जोडी ओळखा.

- Ans
- 1. ZYXW : ABCD
 - 2. XWVU : CDEF
 - 3. CDEF : XWVU
 - 4. YXWV : BCDE

Question Type : MCQ

Question ID : 630680292024

Option 1 ID : 6306801135976

Option 2 ID : 6306801135979

Option 3 ID : 6306801135978

Option 4 ID : 6306801135977

Status : Answered

Chosen Option : 3

Q.4 ज्याप्रमाणे दुसरा शब्द पहिल्या शब्दाशी संबंधित आहे, त्याचप्रमाणे तिसऱ्या शब्दाशी संबंधित असलेला पर्याय निवडा.

तेलंगणा : हैदराबाद :: लडाख : ?

Ans

- ✓ 1. लेह
- ✗ 2. जम्मू
- ✗ 3. काश्मीर
- ✗ 4. लडाख

Question Type: MCQ

Question ID : 630680292023

Option 1 ID : 6306801135972

Option 2 ID : 6306801135975

Option 3 ID : 6306801135973

Option 4 ID : 6306801135974

Status : Answered

Chosen Option : 1

Q.5 A + B म्हणजे, A हे B चे वडील आहेत.

A - B म्हणजे, A हा B चा भाऊ आहे.

A * B म्हणजे, A ही B ची पत्नी आहे.

A/B म्हणजे, A हा B चा मुलगा आहे.

जर P / Q + R - T असेल, तर Q चे T सोबत काय नाते आहे?

Ans

- ✗ 1. सासरे
- ✗ 2. वडिलांचा भाऊ
- ✗ 3. आजोबा
- ✓ 4. वडील

Question Type: MCQ

Question ID : 630680292029

Option 1 ID : 6306801135998

Option 2 ID : 6306801135999

Option 3 ID : 6306801135997

Option 4 ID : 6306801135996

Status : Answered

Chosen Option : 4

Q.6 जर a म्हणजे +, b म्हणजे -, c म्हणजे × आणि d म्हणजे + असेल, तर खालील समीकरणाचे मूल्य शोधा.

$$[(40a^8)c^35d(27b^3)a^2]$$

Ans 1. 72

2. 45

3. 24

4. 8

Question Type : MCQ

Question ID : 630680292034

Option 1 ID : 6306801136018

Option 2 ID : 6306801136017

Option 3 ID : 6306801136019

Option 4 ID : 6306801136016

Status : Answered

Chosen Option : 1

Q.7 जर a म्हणजे +, b म्हणजे -, c म्हणजे × आणि d म्हणजे + आहे, तर खालील समीकरणाचे मूल्य शोधा.

$$[(75b^25)d^5)a^{10}c^2]$$

Ans 1. 39

2. 30

3. 62

4. 43

Question Type : MCQ

Question ID : 630680292033

Option 1 ID : 6306801136015

Option 2 ID : 6306801136013

Option 3 ID : 6306801136014

Option 4 ID : 6306801136012

Status : Answered

Chosen Option : 2

Q.8 खालील अक्षर शृंखलेचा संदर्भ घ्या आणि प्रश्नाचे उत्तर द्या.

(डावे) P N R X Z U I Q D E A V H O T B Y E F S G G R (उजवे)

असे किती स्वर आहेत, ज्यांपैकी प्रत्येकाच्या लगेचच आधी एक स्वर येतो आणि लगेचच नंतर एक व्यंजन येतो?

Ans 1. 2

2. 3

3. 0

4. 4

Question Type : MCQ

Question ID : 630680292026

Option 1 ID : 6306801135986

Option 2 ID : 6306801135985

Option 3 ID : 6306801135984

Option 4 ID : 6306801135987

Status : Answered

Chosen Option : 1

Q.9 एक मोटार प्रत्येकी 10 km प्रवास केल्यानंतर 45 अंशांत डावीकडे वळते. जर ती सुरुवातीला उत्तरेकडून येत असेल, तर 72 km पूर्ण केल्यानंतर तिची दिशा काय असेल?

- Ans
- 1. दक्षिण
 - 2. पूर्व
 - 3. पश्चिम
 - 4. नैऋत्य

Question Type : MCQ

Question ID : 630680292030

Option 1 ID : 6306801136002

Option 2 ID : 6306801136003

Option 3 ID : 6306801136000

Option 4 ID : 6306801136001

Status : Answered

Chosen Option : 3

Q.10 A + B म्हणजे, A हे B चे वडील आहेत.

A - B म्हणजे, A आणि B हे भाऊ आहेत.

A * B म्हणजे, A ही B ची पत्नी आहे.

A/B म्हणजे, A हा B चा मुलगा आहे.

जर S * T + P - Z असेल, तर Z चे S सोबत काय नाते आहे?

- Ans
- 1. भाऊ
 - 2. मुलगा
 - 3. नवरा
 - 4. आई

Question Type : MCQ

Question ID : 630680292028

Option 1 ID : 6306801135992

Option 2 ID : 6306801135993

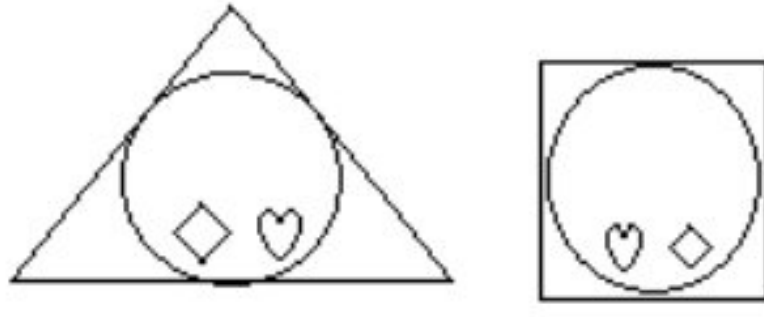
Option 3 ID : 6306801135994

Option 4 ID : 6306801135995

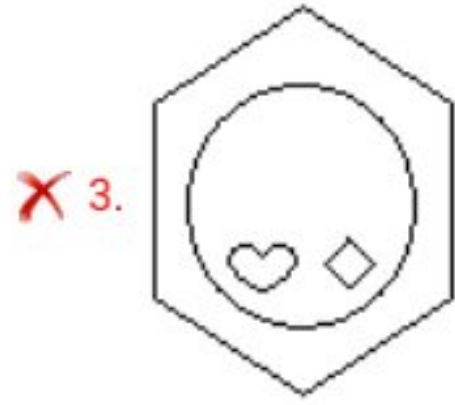
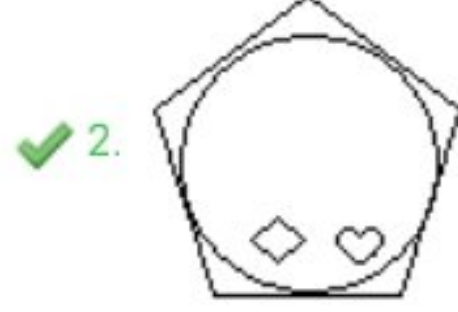
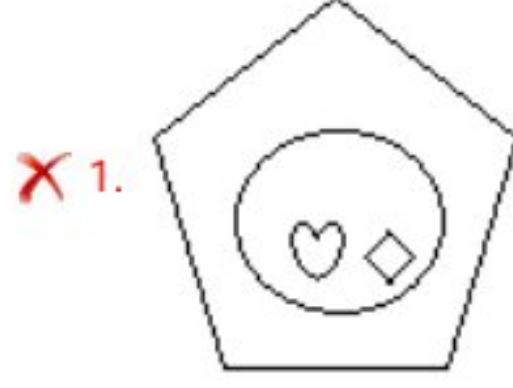
Status : Answered

Chosen Option : 2

Q.11 खालील मालिकेत येणारी पुढील आकृती निवडा.



Ans



Question Type : MCQ

Question ID : 630680292031

Option 1 ID : 6306801136004

Option 2 ID : 6306801136007

Option 3 ID : 6306801136006

Option 4 ID : 6306801136005

Status : Answered

Chosen Option : 4

Q.12 खालील मालिकेतील प्रश्नचिन्ह (?) बदलू शकेल, असा अक्षर-गट दिलेल्या पर्यायांमधून निवडा.

AJT, BKU, ?, DMW

Ans ✗ 1. CKV

✓ 2. CLV

✗ 3. CMV

✗ 4. CLU

Question Type : MCQ

Question ID : 630680292022

Option 1 ID : 6306801135970

Option 2 ID : 6306801135969

Option 3 ID : 6306801135971

Option 4 ID : 6306801135968

Status : Answered

Chosen Option : 2

Q.13 खालील मालिकेतील प्रश्नचिन्ह (?) बदलू शकेल, असे पद दिलेल्या पर्यायांमधून निवडा.

F3, G9, H18, I54, ?

- Ans
- 1. J90
 - 2. K81
 - 3. J108
 - 4. L64

Question Type: MCQ

Question ID : 630680292021

Option 1 ID : 6306801135967

Option 2 ID : 6306801135965

Option 3 ID : 6306801135966

Option 4 ID : 6306801135964

Status : Answered

Chosen Option : 3

Q.14 खालील मालिकेतील प्रश्नचिन्ह (?) बदलू शकेल, अशी संख्या दिलेल्या पर्यायांमधून निवडा.

2, 1, 2, 5, ?

- Ans
- 1. 10
 - 2. 15
 - 3. 8
 - 4. 20

Question Type: MCQ

Question ID : 630680292032

Option 1 ID : 6306801136011

Option 2 ID : 6306801136008

Option 3 ID : 6306801136010

Option 4 ID : 6306801136009

Status : Answered

Chosen Option : 1

Q.15 जर एका ओळीत राम हा पाठीमागून 41 व्या क्रमांकावर आहे आणि व्यक्तींची एकूण संख्या 89 आहे, तर पुढून त्याचा क्रमांक किती आहे?

- Ans
- 1. 44
 - 2. 50
 - 3. 48
 - 4. 49

Question Type: MCQ

Question ID : 630680292020

Option 1 ID : 6306801135961

Option 2 ID : 6306801135962

Option 3 ID : 6306801135960

Option 4 ID : 6306801135963

Status : Answered

Chosen Option : 4