

# Answer Key for PCCF Recruitment Exam 31st July to 11th Aug 2023 for Objection Handling purpose only

join telegram channel  
🔥 75000 मेगा भरती 🔥

Section : Marathi Language

Q.1 खालीलपैकी कोणते शब्दयोगी अव्यय आहे ?

- Ans
- 1. महान
  - 2. व
  - 3. आणि
  - 4. करिता

Question Type : MCQ

Question ID : 630680292047

Option 1 ID : 6306801136071

Option 2 ID : 6306801136070

Option 3 ID : 6306801136069

Option 4 ID : 6306801136068

Status : Answered

Chosen Option : 4

Q.2 लेखननियमांनुसार अचूक शब्द ओळखा.

- Ans  1. स्तुतिपाठक  
 2. स्तुतीपाठक  
 3. स्तूतीपाठक  
 4. स्तूतिपाठक

Question Type : MCQ  
Question ID : 630680292037  
Option 1 ID : 6306801136029  
Option 2 ID : 6306801136030  
Option 3 ID : 6306801136031  
Option 4 ID : 6306801136028  
Status : Answered  
Chosen Option : 2

Q.3 'डोळ्यात भरणे' म्हणजे \_\_\_\_\_

- Ans  1. डोळ्यांना वेदना होणे  
 2. खरी स्थिती समजणे  
 3. फार फार आवडणे  
 4. झोप येणे

Question Type : MCQ  
Question ID : 630680292041  
Option 1 ID : 6306801136044  
Option 2 ID : 6306801136046  
Option 3 ID : 6306801136047  
Option 4 ID : 6306801136045  
Status : Answered  
Chosen Option : 3

Q.4 'तो वारंवार आजारी पडतो.' – अधोरेखित क्रियाविशेषण अव्ययाचा प्रकार ओळखा.

- Ans  1. स्थलवाचक  
 2. गतिदर्शक  
 3. कालवाचक  
 4. प्रश्नार्थक

Question Type : MCQ  
Question ID : 630680292049  
Option 1 ID : 6306801136076  
Option 2 ID : 6306801136077  
Option 3 ID : 6306801136079  
Option 4 ID : 6306801136078  
Status : Answered  
Chosen Option : 3

Q.5 खालील लेखननियमांनुसार कोणते वाक्य आहे ते ओळखा.

- Ans  1. आजचा सुशिक्षित समाज परकी भासा बोलत आहे.  
 2. आजचा सुशिक्षित समाज परकी भाषा बोलत आहे.  
 3. आजचा सुशिक्षित समाज परकी भाषा बोलत आहे.  
 4. आजचा सुशिक्षित समाज परकी भाषा बोलत आहे.

Question Type : MCQ  
Question ID : 630680292045  
Option 1 ID : 6306801136063  
Option 2 ID : 6306801136062  
Option 3 ID : 6306801136060  
Option 4 ID : 6306801136061  
Status : Answered  
Chosen Option : 4

Q.6 'ज्याची किंमत होऊ शकत नाही असे' या शब्दसमूहासाठी खालीलपैकी योग्य शब्द निवडा.

- Ans  1. अविनाशी  
 2. अनमोल  
 3. अत्युच्च  
 4. अजिंक्य

Question Type : MCQ  
Question ID : 630680292043  
Option 1 ID : 6306801136055  
Option 2 ID : 6306801136054  
Option 3 ID : 6306801136053  
Option 4 ID : 6306801136052  
Status : Answered  
Chosen Option : 2

Q.7 'प्रतिष्ठापित करणे' या वाक्यप्रचाराचा योग्य अर्थ कोणता आहे ?

- Ans  1. माया लावणे  
 2. स्थापना करणे  
 3. छाप पाडणे  
 4. सत्कार करणे

Question Type : MCQ  
Question ID : 630680292042  
Option 1 ID : 6306801136050  
Option 2 ID : 6306801136049  
Option 3 ID : 6306801136051  
Option 4 ID : 6306801136048  
Status : Answered  
Chosen Option : 2

Q.8 खालील शब्दसमूह अचूक शब्दाने पूर्ण करा.

वेर्लीचा कुंज तसा विमानांचा \_\_\_\_\_

Ans  1. तांडा

2. ताफा

3. कळप

4. घोस

Question Type : MCQ

Question ID : 630680292044

Option 1 ID : 6306801136058

Option 2 ID : 6306801136059

Option 3 ID : 6306801136057

Option 4 ID : 6306801136056

Status : Answered

Chosen Option : 2

Q.9 म्हणीचा अर्थ ओळखा.

'औट घटकेचे राज्य'

Ans  1. थोडा वेळ टिकणारे ऐश्वर्य

2. ऐश्वर्य व धनसंपत्तीचा उपभोग घेणे

3. जास्त वेळ टिकणारी संपत्ती

4. आठ तास टिकणारे राज्य

Question Type : MCQ

Question ID : 630680292040

Option 1 ID : 6306801136041

Option 2 ID : 6306801136043

Option 3 ID : 6306801136040

Option 4 ID : 6306801136042

Status : Answered

Chosen Option : 1

Q.10 खालील गटातील समानार्थी नसलेला शब्द कोणता आहे ?

'सुत, तनय, नंदन, सुता'

Ans  1. सुता

2. नंदन

3. तनय

4. सुत

Question Type : MCQ

Question ID : 630680292036

Option 1 ID : 6306801136024

Option 2 ID : 6306801136027

Option 3 ID : 6306801136025

Option 4 ID : 6306801136026

Status : Answered

Chosen Option : 1

Q.11 'मी काय सांगतो ते नीट ऐक.' - अधोरेखित सर्वनामाचा प्रकार ओळखा.

- Ans
- 1. संबंधी सर्वनाम
  - 2. प्रश्नार्थक सर्वनाम
  - 3. अनिश्चित सर्वनाम
  - 4. आत्मवाचक सर्वनाम

Question Type : MCQ

Question ID : 630680292048

Option 1 ID : 6306801136072

Option 2 ID : 6306801136074

Option 3 ID : 6306801136073

Option 4 ID : 6306801136075

Status : Answered

Chosen Option : 3

Q.12 विरुद्धार्थी शब्दांच्या योग्य जोड्या जुळवा.

'अ' गट	'ब' गट
a. अल्लड	i) कृपण
b. उदार	ii) पोक्त
c. इहलोक	iii) बेरकी
d. प्रसन्न	iv) खिन्न
	v) परलोक

- Ans
- 1. a-ii, b-i, c-v, d-iii
  - 2. a-i, b-v, c-iii, d-iv
  - 3. a-ii, b-i, c-iii, d-v
  - 4. a-ii, b-i, c-v, d-iv

Question Type : MCQ

Question ID : 630680292035

Option 1 ID : 6306801136020

Option 2 ID : 6306801136022

Option 3 ID : 6306801136023

Option 4 ID : 6306801136021

Status : Answered

Chosen Option : 4

Q.13 'उष्टे' शब्दाच्या जोडीने येणारा शब्द कोणता आहे ?

- Ans  1. मिष्टे  
 2. विष्टे  
 3. निष्टे  
 4. खरकटे

Question Type : MCQ  
Question ID : 630680292039  
Option 1 ID : 6306801136037  
Option 2 ID : 6306801136036  
Option 3 ID : 6306801136038  
Option 4 ID : 6306801136039  
Status : Answered  
Chosen Option : 1

Q.14 ज्या वाक्यात भावनेचा उद्गार काढलेला असतो, त्यास \_\_\_\_\_ वाक्य म्हणतात.

- Ans  1. उद्गारार्थी  
 2. आज्ञार्थी  
 3. संकेतार्थी  
 4. प्रश्नार्थी

Question Type : MCQ  
Question ID : 630680292046  
Option 1 ID : 6306801136066  
Option 2 ID : 6306801136067  
Option 3 ID : 6306801136065  
Option 4 ID : 6306801136064  
Status : Answered  
Chosen Option : 1

Q.15 लेखननियमांनुसार अचूक शब्द ओळखा.

- Ans  1. बहिष्कृत  
 2. बहीष्कृत  
 3. बहिश्कृत  
 4. बहिष्कृत

Question Type : MCQ  
Question ID : 630680292038  
Option 1 ID : 6306801136034  
Option 2 ID : 6306801136033  
Option 3 ID : 6306801136035  
Option 4 ID : 6306801136032  
Status : Answered  
Chosen Option : 4

Section : English Language

Q.1 Sentences of a paragraph are given below in jumbled order. Arrange the sentences in the correct order to form a meaningful and coherent paragraph.

- A. In a jungle, there was a big cave.
- B. One day Naveen and his friends decided to unfold the mystery.
- C. Everyone said it had a ghost living in it.
- D. They decided to explore the cave in the night.

- Ans  1. ACBD  
 2. ABDC  
 3. ADCB  
 4. ABCD

Question Type : MCQ

Question ID : 630680292058

Option 1 ID : 6306801136113

Option 2 ID : 6306801136115

Option 3 ID : 6306801136112

Option 4 ID : 6306801136114

Status : Answered

Chosen Option : 1

Q.2 Read the following sentence and select the option that has a spelling error.

Albert Einstein's 1916 general theory of relativity first predicted the phenomanon of gravitational waves.

- Ans  1. relativity  
 2. gravitational  
 3. phenomanon  
 4. Theory

Question Type : MCQ

Question ID : 630680292053

Option 1 ID : 6306801136093

Option 2 ID : 6306801136095

Option 3 ID : 6306801136094

Option 4 ID : 6306801136092

Status : Answered

Chosen Option : 3

Q.3 Select the most appropriate option to fill in the blanks.

I told \_\_\_\_\_anxious parents that \_\_\_\_\_baby needed a lot of sleep.

- Ans  1. a, a  
 2. an, a  
 3. a, the  
 4. the, the

Question Type : MCQ

Question ID : 630680292061

Option 1 ID : 6306801136124

Option 2 ID : 6306801136126

Option 3 ID : 6306801136127

Option 4 ID : 6306801136125

Status : Answered

Chosen Option : 2

Q.4 Select the most appropriate synonym of the given word.

Dainty

- Ans  1. Harsh  
 2. Delicate  
 3. Clumsy  
 4. Smooth

Question Type : MCQ  
Question ID : 630680292050  
Option 1 ID : 6306801136082  
Option 2 ID : 6306801136081  
Option 3 ID : 6306801136080  
Option 4 ID : 6306801136083  
Status : Answered  
Chosen Option : 4

Q.5 Select the most appropriate option to fill in the blank.

The distinction \_\_\_\_\_right and wrong is not always crystal clear.

- Ans  1. from  
 2. between  
 3. of  
 4. among

Question Type : MCQ  
Question ID : 630680292062  
Option 1 ID : 6306801136130  
Option 2 ID : 6306801136129  
Option 3 ID : 6306801136131  
Option 4 ID : 6306801136128  
Status : Answered  
Chosen Option : 2

Q.6 Select the option that can be used as a one word substitute for the underlined segment.

In our village there was a large lake used a source of water supply.

- Ans  1. receptacle  
 2. stockpile  
 3. lagoon  
 4. reservoir

Question Type : MCQ  
Question ID : 630680292057  
Option 1 ID : 6306801136110  
Option 2 ID : 6306801136109  
Option 3 ID : 6306801136108  
Option 4 ID : 6306801136111  
Status : Answered  
Chosen Option : 3



Q.7 Select the most appropriate option to fill in the blank.

She \_\_\_\_\_dismissed my suggestion.

- Ans
- 1. badly
  - 2. quickly
  - 3. quick
  - 4. fast

Question Type : MCQ  
Question ID : 630680292064  
Option 1 ID : 6306801136137  
Option 2 ID : 6306801136138  
Option 3 ID : 6306801136136  
Option 4 ID : 6306801136139  
Status : Answered  
Chosen Option : 2

Q.8 Read the following sentence and select the option that has a spelling error.

Seek help from a mental health profesional if this fear of happiness interferes with your personal and professional life.

- Ans
- 1. health
  - 2. interferes
  - 3. profesional
  - 4. Happiness

Question Type : MCQ  
Question ID : 630680292052  
Option 1 ID : 6306801136091  
Option 2 ID : 6306801136090  
Option 3 ID : 6306801136088  
Option 4 ID : 6306801136089  
Status : Answered  
Chosen Option : 3

Q.9 Select the most appropriate meaning of the given proverb.

It takes two to tango

- Ans
- 1. Both parties in a difficult situation can be blameless
  - 2. Only one party takes the blame
  - 3. A third person decides who is to be blamed
  - 4. Both parties in a difficult situation are equally responsible

Question Type : MCQ  
Question ID : 630680292055  
Option 1 ID : 6306801136100  
Option 2 ID : 6306801136101  
Option 3 ID : 6306801136103  
Option 4 ID : 6306801136102  
Status : Answered  
Chosen Option : 1

Q.10 Select the most appropriate option to fill in the blanks.

Jagadish Chandra Bose was \_\_\_\_\_one of the greatest scientists of the world \_\_\_\_\_a remarkable biologist, botanist, bio-physicist and science-fiction writer.

- Ans  1. not only, but also  
 2. so, that  
 3. however, nevertheless  
 4. as, as

Question Type : MCQ  
Question ID : 630680292063  
Option 1 ID : 6306801136135  
Option 2 ID : 6306801136132  
Option 3 ID : 6306801136134  
Option 4 ID : 6306801136133  
Status : Answered  
Chosen Option : 1

Q.11 Select the most appropriate meaning of the given idiom.

Fit as a fiddle

- Ans  1. To be musical  
 2. To be consistent  
 3. To be very healthy  
 4. To be fidgety

Question Type : MCQ  
Question ID : 630680292054  
Option 1 ID : 6306801136098  
Option 2 ID : 6306801136099  
Option 3 ID : 6306801136097  
Option 4 ID : 6306801136096  
Status : Answered  
Chosen Option : 2

Q.12 Select the option that can be used as a one word substitute for the underlined segment.

Mr. Gupta completed a course on the study of the Earth's structure, and its formation.

- Ans  1. cytology  
 2. morphology  
 3. cartography  
 4. geology

Question Type : MCQ  
Question ID : 630680292056  
Option 1 ID : 6306801136106  
Option 2 ID : 6306801136104  
Option 3 ID : 6306801136107  
Option 4 ID : 6306801136105  
Status : Answered  
Chosen Option : 4

Q.13 Select the most appropriate option to fill in the blanks.

When we were at \_\_\_\_\_Delhi Zoo, my daughter played with \_\_\_\_\_baby elephant.

- Ans
- 1. an, an
  - 2. a, the
  - 3. a, a
  - 4. the, a

Question Type : MCQ

Question ID : 630680292060

Option 1 ID : 6306801136121

Option 2 ID : 6306801136123

Option 3 ID : 6306801136120

Option 4 ID : 6306801136122

Status : Answered

Chosen Option : 4

Q.14 Sentences of a paragraph are given below in jumbled order. Arrange the sentences in the correct order to form a meaningful and coherent paragraph.

- A. People, started experimenting with nest boxes to help species revive.
- B. Though not all efforts succeeded, birds that used cavities to nest like mynas, parakeets, owls, robins and sparrows stood a better chance.
- C. However, nest boxes can be quite a problem too, often, some other species, not the one you want, occupy the nest box.
- D. The Industrial Revolution brought habitat loss, excessive use of pesticides, and pollution in its wake, resulting in dwindling bird numbers.

- Ans
- 1. DABC
  - 2. BCDA
  - 3. ABCD
  - 4. CDBA

Question Type : MCQ

Question ID : 630680292059

Option 1 ID : 6306801136116

Option 2 ID : 6306801136119

Option 3 ID : 6306801136117

Option 4 ID : 6306801136118

Status : Answered

Chosen Option : 1

Q.15 Select the most appropriate ANTONYM of the given word.

Clandestine

- Ans  1. Concealed  
 2. Secret  
 3. Forthright  
 4. Cloudy

Question Type : MCQ

Question ID : 630680292051

Option 1 ID : 6306801136087

Option 2 ID : 6306801136085

Option 3 ID : 6306801136086

Option 4 ID : 6306801136084

Status : Answered

Chosen Option : 1

Section : General Knowledge

Q.1 पहिला हिंदू विधवा पुनर्विवाह अधिनियम खालीलपैकी कोणत्या वर्षी लागू करण्यात आला होता?

- Ans  1. 1858  
 2. 1856  
 3. 1865  
 4. 1875

Question Type : MCQ

Question ID : 630680292066

Option 1 ID : 6306801136145

Option 2 ID : 6306801136144

Option 3 ID : 6306801136146

Option 4 ID : 6306801136147

Status : Answered

Chosen Option : 2

Q.2 भारतातील कोणत्या घाटांना 'सह्याद्री' पर्वतरांगा असे देखील म्हटले जाते?

- Ans  1. पश्चिमेकडील  
 2. पूर्वेकडील  
 3. उत्तरेकडील  
 4. दक्षिणेकडील

Question Type : MCQ

Question ID : 630680292076

Option 1 ID : 6306801136184

Option 2 ID : 6306801136186

Option 3 ID : 6306801136185

Option 4 ID : 6306801136187

Status : Answered

Chosen Option : 1

Q.3 कोणाची निवड ही संसदेच्या दोन्ही सभागृहांच्या तसेच राज्य विधानसभेच्या निर्वाचित सदस्यांचा समावेश असलेल्या एका निर्वाचक गणाकडून अप्रत्यक्षपणे केली जाते?

- Ans
- 1. राज्यपाल
  - 2. पंतप्रधान
  - 3. भारताचे राष्ट्रपती
  - 4. मुख्यमंत्री

Question Type : MCQ

Question ID : 630680292074

Option 1 ID : 6306801136178

Option 2 ID : 6306801136177

Option 3 ID : 6306801136176

Option 4 ID : 6306801136179

Status : Answered

Chosen Option : 3

Q.4 दिलेल्या पर्यायांच्या आधारे, खालीलपैकी कोण संविधान सभेचे अध्यक्ष होते?

- Ans
- 1. मोतीलाल नेहरू
  - 2. जवाहरलाल नेहरू
  - 3. डॉ. राजेंद्र प्रसाद
  - 4. डॉ. बी. आर. आंबेडकर

Question Type : MCQ

Question ID : 630680292073

Option 1 ID : 6306801136172

Option 2 ID : 6306801136174

Option 3 ID : 6306801136175

Option 4 ID : 6306801136173

Status : Answered

Chosen Option : 3

Q.5 खालीलपैकी कोणती नदी प्रामुख्याने महाराष्ट्राशी संबंधित आहे?

- Ans
- 1. गंगा
  - 2. गोदावरी
  - 3. ब्रह्मपुत्रा
  - 4. यमुना

Question Type : MCQ

Question ID : 630680292075

Option 1 ID : 6306801136180

Option 2 ID : 6306801136181

Option 3 ID : 6306801136183

Option 4 ID : 6306801136182

Status : Answered

Chosen Option : 2

Q.6 \_\_\_\_\_ हे सती प्रथेला आव्हान देण्यासाठी पुढाकार घेणारी पहिली व्यक्ती होते व लवकरच ते त्यांचे आयुष्यभरासाठीचे धर्मयुद्ध बनले.

- Ans  1. नारायण गुरु  
 2. ईश्वरचंद्र विद्या सागर  
 3. राजा राममोहन रॉय  
 4. महात्मा गांधी

Question Type : MCQ

Question ID : 630680292065

Option 1 ID : 6306801136142

Option 2 ID : 6306801136141

Option 3 ID : 6306801136140

Option 4 ID : 6306801136143

Status : Answered

Chosen Option : 3

Q.7 उत्तर भारतात लोकप्रिय झालेल्या मंदिर स्थापत्य शैलीला कोणत्या नावाने ओळखले जाते?

- Ans  1. विमान  
 2. द्रविड  
 3. नागर  
 4. गोपुरम

Question Type : MCQ

Question ID : 630680292067

Option 1 ID : 6306801136150

Option 2 ID : 6306801136148

Option 3 ID : 6306801136149

Option 4 ID : 6306801136151

Status : Answered

Chosen Option : 4

Q.8 ठराविक मार्गावरील दोन क्षेत्रांमधील लोकांनी त्यांच्या गुरांसह केलेल्या हंगामी स्थलांतरास काय म्हणतात?

- Ans  1. ऋतुचारण स्थलांतर  
 2. शहर ते शहर  
 3. वयानुसार स्थलांतर  
 4. ग्रामीण ते ग्रामीण

Question Type : MCQ

Question ID : 630680292072

Option 1 ID : 6306801136170

Option 2 ID : 6306801136168

Option 3 ID : 6306801136169

Option 4 ID : 6306801136171

Status : Answered

Chosen Option : 1

Q.9 अरबी समुद्राच्या शाखेच्या मार्गात कोणती पर्वतरांग अडथळा म्हणून कार्य करते?

- Ans  1. पूर्व घाट  
 2. बंगालचा उपसागर  
 3. राजमहाल टेकड्या  
 4. अरबी समुद्र

Question Type : MCQ  
Question ID : 630680292069  
Option 1 ID : 6306801136156  
Option 2 ID : 6306801136157  
Option 3 ID : 6306801136159  
Option 4 ID : 6306801136158  
Status : Answered  
Chosen Option : 3

Q.10 यापैकी कोणता दख्खनच्या पठाराचा भ्रंशित किनारा आहे आणि तो गोंडवाना महाद्विपाच्या विभाजनादरम्यान तयार झाला असे मानले जाते?

- Ans  1. पश्चिम घाट  
 2. उत्तर घाट  
 3. दक्षिण घाट  
 4. पूर्व घाट

Question Type : MCQ  
Question ID : 630680292077  
Option 1 ID : 6306801136189  
Option 2 ID : 6306801136190  
Option 3 ID : 6306801136191  
Option 4 ID : 6306801136188  
Status : Answered  
Chosen Option : 2

Q.11 एका उत्पादिताचे दुसऱ्या उत्पादितात रूपांतर होण्याच्या दराला काय म्हणतात?

- Ans  1. QRT  
 2. PRT  
 3. MRT  
 4. SRT

Question Type : MCQ  
Question ID : 630680292068  
Option 1 ID : 6306801136155  
Option 2 ID : 6306801136153  
Option 3 ID : 6306801136152  
Option 4 ID : 6306801136154  
Status : Answered  
Chosen Option : 2

Q.12 भारताची पहिली वंदे भारत एक्सप्रेस ट्रेन कोणत्या दोन स्थानकांदरम्यान धावली?

- Ans  1. नवी दिल्ली - लखनौ  
 2. नवी दिल्ली - कटरा  
 3. भुवनेश्वर - पुरी  
 4. नवी दिल्ली - वाराणसी

Question Type : MCQ  
Question ID : 630680292071  
Option 1 ID : 6306801136166  
Option 2 ID : 6306801136165  
Option 3 ID : 6306801136167  
Option 4 ID : 6306801136164  
Status : Answered  
Chosen Option : 4

Q.13 गुगामल राष्ट्रीय उद्यान महाराष्ट्रातील खालीलपैकी कोणत्या जिल्ह्यात आहे?

- Ans  1. अमरावती  
 2. नांदेड  
 3. सोलापूर  
 4. जळगाव

Question Type : MCQ  
Question ID : 630680292078  
Option 1 ID : 6306801136192  
Option 2 ID : 6306801136193  
Option 3 ID : 6306801136195  
Option 4 ID : 6306801136194  
Status : Answered  
Chosen Option : 1

Q.14 ज्या भागात वार्षिक पर्जन्यमान साधारणपणे 80 cm पेक्षा कमी असते, त्या भागात कोणत्या प्रकारची शेती केली जाते?

- Ans  1. मान्सून शेती  
 2. कोरडवाहू शेती  
 3. ठिबक शेती  
 4. ओलिताची शेती

Question Type : MCQ  
Question ID : 630680292070  
Option 1 ID : 6306801136163  
Option 2 ID : 6306801136161  
Option 3 ID : 6306801136162  
Option 4 ID : 6306801136160  
Status : Answered  
Chosen Option : 1



Q.15 धुळे उठाव हा प्रामुख्याने खालीलपैकी कोणत्या राज्याशी संबंधित होता?

- Ans  1. पश्चिम बंगाल  
 2. गुजरात  
 3. महाराष्ट्र  
 4. उत्तर प्रदेश

Question Type : MCQ

Question ID : 630680292079

Option 1 ID : 6306801136197

Option 2 ID : 6306801136198

Option 3 ID : 6306801136199

Option 4 ID : 6306801136196

Status : Answered

Chosen Option : 3

Section : Mental Ability

Q.1 दिलेल्या शब्दजोडीमध्ये असलेल्या सहसंबंधाच्या समान सहसंबंध दर्शविणारी शब्दजोडी असलेला पर्याय निवडा.

दूध : चीज

- Ans  1. ऊस : गूळ  
 2. गहू : अन्न  
 3. बटर : ब्रेड  
 4. लिंबू : रस

Question Type : MCQ

Question ID : 630680292083

Option 1 ID : 6306801136215

Option 2 ID : 6306801136212

Option 3 ID : 6306801136213

Option 4 ID : 6306801136214

Status : Answered

Chosen Option : 1

- Q.2
- $O + B$  म्हणजे 'O हा B चा भाऊ आहे',
  - $O - B$  म्हणजे 'O हे B चे वडील आहेत',
  - $O \times B$  म्हणजे 'O ही B ची आई आहे',
  - $O \div B$  म्हणजे 'O ही B ची मुलगी आहे'.

खालील समीकरणात P चे M सोबत काय नाते आहे?

$$K + P \times O \div L - N + M$$

Ans

- ✓ 1. आई
- ✗ 2. वडिलांच्या भावाची मुलगी
- ✗ 3. वडिलांची बहीण
- ✗ 4. बहीण

Question Type : MCQ

Question ID : 630680292088

Option 1 ID : 6306801136234

Option 2 ID : 6306801136232

Option 3 ID : 6306801136235

Option 4 ID : 6306801136233

Status : Answered

Chosen Option : 1

- Q.3 43 विद्यार्थ्यांच्या एका वर्गात, अन्विताचा क्रमांक शेवटून 37 वा आहे आणि ईवाचा क्रमांक सुरुवातीपासून 15 वा आहे. क्रमवारीत अन्विता आणि ईवा यांच्यादरम्यान किती विद्यार्थी आहेत?

Ans

- ✓ 1. 7
- ✗ 2. 5
- ✗ 3. 6
- ✗ 4. 9

Question Type : MCQ

Question ID : 630680292080

Option 1 ID : 6306801136201

Option 2 ID : 6306801136200

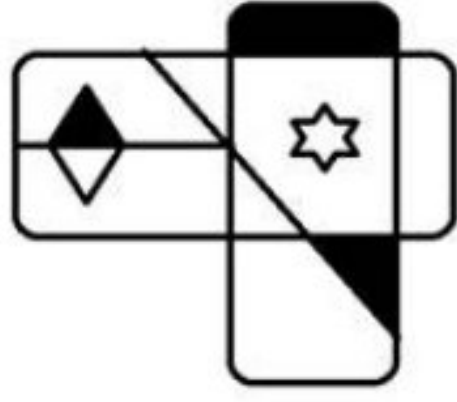
Option 3 ID : 6306801136203

Option 4 ID : 6306801136202

Status : Answered

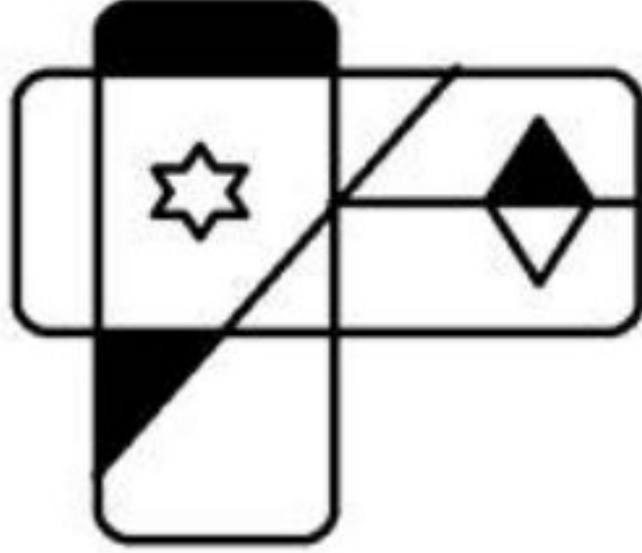
Chosen Option : 1

Q.4 दिलेल्या आकृतीच्या उजव्या बाजूला आरसा ठेवल्यावर मिळणारी अचूक दर्पण प्रतिमा निवडा.

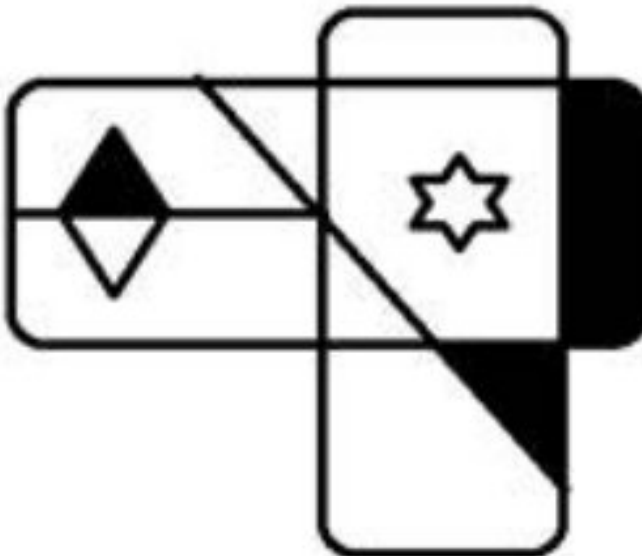


Ans

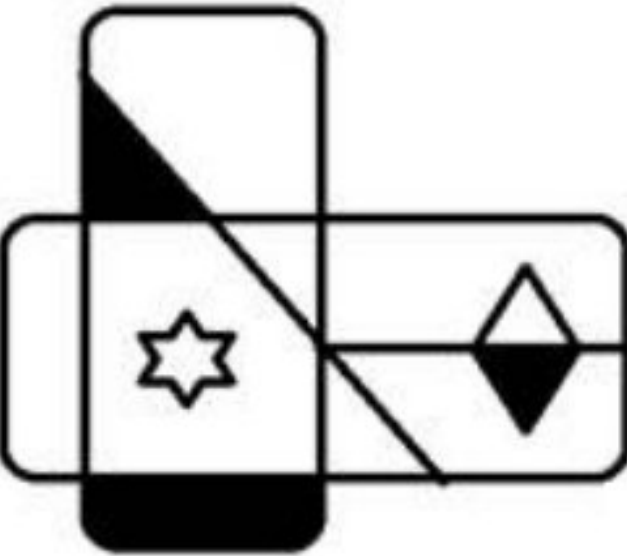
✓ 1.



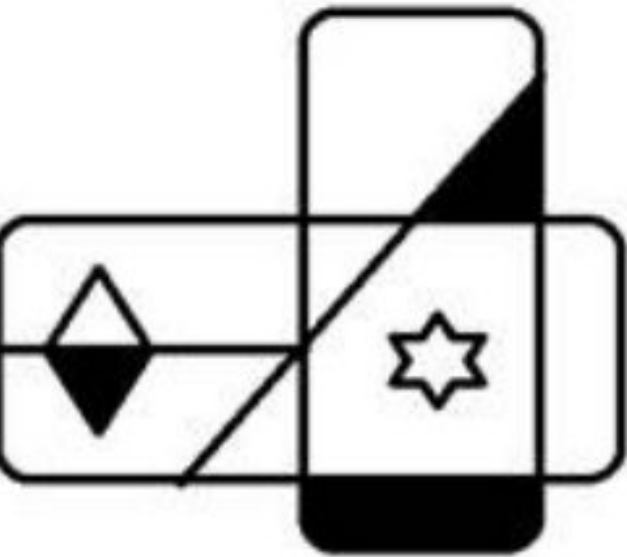
✗ 2.



✗ 3.



✗ 4.



Question Type : MCQ

Question ID : 630680292091

Option 1 ID : 6306801136247

Option 2 ID : 6306801136244

Option 3 ID : 6306801136246

Option 4 ID : 6306801136245

Status : Answered

Chosen Option : 1

Q.5 छायाचित्रातील एका पुरुषाकडे बोट दाखवत शिखा म्हणाली, "ते माझ्या एकुलत्या एका मुलाच्या वडिलांच्या आईचे पती आहेत." तर शिखाचे छायाचित्रातील त्या पुरुषाशी काय नाते आहे?

- Ans
- 1. वडील
  - 2. सासरे
  - 3. वडिलांचा भाऊ
  - 4. सून

Question Type : MCQ

Question ID : 630680292089

Option 1 ID : 6306801136238

Option 2 ID : 6306801136237

Option 3 ID : 6306801136239

Option 4 ID : 6306801136236

Status : Answered

Chosen Option : 4

Q.6 'LIBERATE' या शब्दात, (पुढे तसेच मागे अशा दोन्ही दिशांनी) अशा किती अक्षर जोड्या आहेत, ज्यांत शब्दातील त्यांच्यादरम्यानच्या अक्षरांची संख्या ही इंग्रजी वर्णक्रमातील त्यांच्यादरम्यानच्या अक्षरांच्या संख्येइतकीच आहे?

- Ans
- 1. 2
  - 2. 0
  - 3. 3
  - 4. 1

Question Type : MCQ

Question ID : 630680292087

Option 1 ID : 6306801136230

Option 2 ID : 6306801136228

Option 3 ID : 6306801136231

Option 4 ID : 6306801136229

Status : Answered

Chosen Option : 1

Q.7 MK 18 हे JH 21 शी एका विशिष्ट प्रकारे संबंधित आहे. त्याचप्रकारे, PN 17 हे MK 20 शी संबंधित आहे. या समान तर्काचे अनुसरण केल्यास, US 15 हे खालीलपैकी कशाशी संबंधित आहे?

- Ans
- 1. PR 20
  - 2. RP 18
  - 3. SQ 18
  - 4. QP 19

Question Type : MCQ

Question ID : 630680292084

Option 1 ID : 6306801136217

Option 2 ID : 6306801136218

Option 3 ID : 6306801136219

Option 4 ID : 6306801136216

Status : Answered

Chosen Option : 2

Q.8 खालील मालिकेतील प्रश्नचिन्हांची (?) जागा घेऊ शकणारे अनुक्रमे अक्षर आणि संख्या निवडा.

S, 2, X, 7, C, 12, ?, 17, M, 22, R, ?

Ans  1. H आणि 26

2. H आणि 27

3. F आणि 27

4. G आणि 26

Question Type : MCQ

Question ID : 630680292081

Option 1 ID : 6306801136204

Option 2 ID : 6306801136205

Option 3 ID : 6306801136206

Option 4 ID : 6306801136207

Status : Answered

Chosen Option : 2

Q.9 खालील समीकरण बरोबर करण्यासाठी कोणत्या दोन चिन्हांची अदलाबदल केली पाहिजे?

$$7 \div 6 + 15 \times 3 - 5 = 42$$

Ans  1. + आणि ×

2. × आणि ÷

3. + आणि -

4. ÷ आणि +

Question Type : MCQ

Question ID : 630680292094

Option 1 ID : 6306801136259

Option 2 ID : 6306801136258

Option 3 ID : 6306801136257

Option 4 ID : 6306801136256

Status : Answered

Chosen Option : 2

Q.10 खालील मालिकेत प्रश्नचिन्हाच्या (?) जागी येऊ शकणारी संख्या दिलेल्या पर्यायांतून निवडा.

1, 60, 121, 188, 259, 332, 411, 494, 583, ?

Ans  1. 630

2. 680

3. 653

4. 667

Question Type : MCQ

Question ID : 630680292092

Option 1 ID : 6306801136249

Option 2 ID : 6306801136248

Option 3 ID : 6306801136250

Option 4 ID : 6306801136251

Status : Answered

Chosen Option : 2

Q.11 जर खालीलपैकी प्रत्येक अक्षर-समूहातील डावीकडून पहिल्या आणि चौथ्या अक्षरांची अदलाबदल केली आणि नंतर परिणामी अक्षर-समूहांना इंग्रजी शब्दकोशातील क्रमाने मांडले, तर मांडणीच्या मध्यस्थानी कोणता अक्षर-समूह येईल?

GETR, GDTR, GETY, GSB D, GCGD

Ans  1. GDTR

2. GCGD

3. GETY

4. GETR

Question Type : MCQ

Question ID : 630680292086

Option 1 ID : 6306801136225

Option 2 ID : 6306801136226

Option 3 ID : 6306801136227

Option 4 ID : 6306801136224

Status : Answered

Chosen Option : 4

Q.12 'x' चा अर्थ बेरीज आहे,  
'÷' चा अर्थ वजाबाकी आहे,  
'+' चा अर्थ गुणाकार आहे, आणि,  
'-' चा अर्थ भागाकार आहे.

तर खालील समीकरणात प्रश्नचिन्हाचे (?) मूल्य किती असेल?

$$7 + 5 \div 21 - 7 \times 13 = ?$$

- Ans
- 1. 99
  - 2. 55
  - 3. 45
  - 4. 25

Question Type : MCQ  
Question ID : 630680292093  
Option 1 ID : 6306801136252  
Option 2 ID : 6306801136255  
Option 3 ID : 6306801136254  
Option 4 ID : 6306801136253  
Status : Answered  
Chosen Option : 3

Q.13 दिलेल्या मालिकेत रिकाम्या जागी क्रमवार भरल्यास ती मालिका पूर्ण करणारे अक्षरांचे संयोजन निवडा.

TM\_ \_UTMCP\_ \_MCPUT\_CP\_

- Ans
- 1. CPUTUU
  - 2. CPCTMU
  - 3. CPUTMC
  - 4. CPUTMU

Question Type : MCQ  
Question ID : 630680292082  
Option 1 ID : 6306801136208  
Option 2 ID : 6306801136209  
Option 3 ID : 6306801136211  
Option 4 ID : 6306801136210  
Status : Answered  
Chosen Option : 4

Q.14 जर खालील 4 अंकी संख्यांमधील प्रत्येकीच्या डावीकडून पहिल्या आणि तिसऱ्या अंकांची अदलाबदल केली आणि परिणामी संख्यांना चढत्या क्रमाने लिहिले, तर मांडणीच्या अंतिमस्थानी कोणती संख्या येईल?

7465, 4657, 3657, 5767, 6456

- Ans
- 1. 7465
  - 2. 3657
  - 3. 5767
  - 4. 6456

Question Type : MCQ

Question ID : 630680292085

Option 1 ID : 6306801136223

Option 2 ID : 6306801136220

Option 3 ID : 6306801136222

Option 4 ID : 6306801136221

Status : Answered

Chosen Option : 3

Q.15 एके सकाळी पौर्णिमा तिच्या सावलीच्या दिशेने चालू लागली. 400 मीटर चालल्यानंतर, ती उत्तरेकडे वळली आणि 400 मीटर चालत गेली. नंतर ती तिच्या उजवीकडे वळली आणि 600 मीटर चालत गेली. नंतर ती दक्षिणेकडे वळली आणि 600 मीटर चालत गेली. शेवटी, ती तिच्या उजवीकडे वळली आणि 200 मीटर चालत गेली. ती आता तिच्या सुरुवातीच्या बिंदूपासून किती अंतरावर आणि कोणत्या दिशेला आहे?

- Ans
- 1. 200 मीटर, दक्षिण
  - 2. 200 मीटर, उत्तर
  - 3. 400 मीटर, दक्षिण
  - 4. 400 मीटर, पूर्व

Question Type : MCQ

Question ID : 630680292090

Option 1 ID : 6306801136243

Option 2 ID : 6306801136242

Option 3 ID : 6306801136241

Option 4 ID : 6306801136240

Status : Answered

Chosen Option : 1