

## Answer Key for PCCF Recruitment Exam 31st July to 11th Aug 2023 for [redacted] purpose only

Participant ID  
Participant Name  
Test Center Name  
Test Date  
Test Time  
Subject

Candidate Registered Photo

Candidate Exam Day Photo

Section : Marathi Language

Q.1 ' आज तरी करणार ना काम तुम्ही? ' या वाक्यातील क्रियापद सांगा.

- Ans
- 1. तुम्ही
  - 2. काम
  - 3. करणार
  - 4. आज

Question Type : MCQ

Question ID : 630680290135

Option 1 ID : 6306801128447

Option 2 ID : 6306801128450

Option 3 ID : 6306801128448

Option 4 ID : 6306801128449

Status : Answered

Chosen Option : 1

Q.2 पुढीलपैकी अचूक वाक्यरचना कोणती आहे?

- Ans  1. या महाविद्यालयाने मला आर्थिक स्थैर्य दिले,तसेच अनेक गोष्टींशी परिचय करून दिला.  
 2. या महाविद्यालयाने मला आर्थिक स्थैर्य दिले,तसेच अनेक गोष्टींशी परिचय करून दिला.  
 3. या महाविद्यालयाने मला आर्थिक स्थैर्य दिले,तसेच अनेक गोष्टींशी परिचय करून दिला.  
 4. या महाविद्यालयाने मला आर्थिक स्थैर्य दिले,तसेच अनेक गोष्टींशी परिचय करून दिला.

Question Type : MCQ

Question ID : 630680290129

Option 1 ID : 6306801128426

Option 2 ID : 6306801128423

Option 3 ID : 6306801128425

Option 4 ID : 6306801128424

Status : Answered

Chosen Option : 1

Q.3 ' वाहनांसाठी डोंगरातून काढलेला रस्ता ' या शब्दसमूहाबद्दल एक शब्द शोधा.

- Ans  1. हमरस्ता  
 2. पाऊलवाट  
 3. राजमार्ग  
 4. घाट

Question Type : MCQ

Question ID : 630680290127

Option 1 ID : 6306801128418

Option 2 ID : 6306801128416

Option 3 ID : 6306801128415

Option 4 ID : 6306801128417

Status : Answered

Chosen Option : 3

Q.4 किल्ल्यांचा \_\_\_\_\_ तिने कमरेला खोचला! रिकाम्या जागी योग्य समूहवाचक शब्द कोणता आहे?

- Ans  1. टोळी  
 2. कळप  
 3. जुडगा  
 4. घोळका

Question Type : MCQ

Question ID : 630680290128

Option 1 ID : 6306801128422

Option 2 ID : 6306801128421

Option 3 ID : 6306801128419

Option 4 ID : 6306801128420

Status : Answered

Chosen Option : 3

Q.5 प्रमाणलेखनानुसार अचूक शब्द कोणता आहे?

- Ans  1. औक्षवंत  
 2. ओक्षवंत  
 3. अवक्षवंत  
 4. आऊक्षवंत

Question Type : MCQ  
Question ID : 630680290123  
Option 1 ID : 6306801128399  
Option 2 ID : 6306801128401  
Option 3 ID : 6306801128402  
Option 4 ID : 6306801128400  
Status : Answered  
Chosen Option : 2

Q.6 'सुदैवी' या शब्दाचा विरुद्धार्थी शब्द शोधा.

- Ans  1. दुर्दैवी  
 2. दैवी  
 3. भाग्यवान  
 4. भाग्यवंत

Question Type : MCQ  
Question ID : 630680290122  
Option 1 ID : 6306801128396  
Option 2 ID : 6306801128398  
Option 3 ID : 6306801128395  
Option 4 ID : 6306801128397  
Status : Answered  
Chosen Option : 1

Q.7 खाली दिलेल्या शब्दांपैकी शुद्ध शब्द कोणता आहे ते ओळखा.

- Ans  1. जिज्ञासुवृत्ती  
 2. जिज्ञासूव्रती  
 3. जीज्ञासूवृत्ती  
 4. जिज्ञासूवृत्ती

Question Type : MCQ  
Question ID : 630680290124  
Option 1 ID : 6306801128404  
Option 2 ID : 6306801128406  
Option 3 ID : 6306801128405  
Option 4 ID : 6306801128403  
Status : Answered  
Chosen Option : 2

Q.8 ' अरेरे, म्हणून, अगबाई, बाहेर, वाहवा, कारण की ...' पुढीलपैकी केवळप्रयोगी अव्यये कोणती आहेत?

- Ans  1. अरेरे, अगबाई, वाहवा  
 2. बाहेर, वाहवा, म्हणून  
 3. अरेरे, कारण की, अगबाई  
 4. म्हणून, कारण की, अरेरे

Question Type : MCQ  
Question ID : 630680290132  
Option 1 ID : 6306801128438  
Option 2 ID : 6306801128436  
Option 3 ID : 6306801128437  
Option 4 ID : 6306801128435  
Status : Answered  
Chosen Option : 4

Q.9 अति शहाणा \_\_\_\_\_ म्हण पूर्ण करा.

- Ans  1. त्याचा बैल रिकामा  
 2. आणि झोपा केला  
 3. परी कीर्ती रूपे उरावे  
 4. त्याची वंदावी पावले

Question Type : MCQ  
Question ID : 630680290125  
Option 1 ID : 6306801128410  
Option 2 ID : 6306801128407  
Option 3 ID : 6306801128409  
Option 4 ID : 6306801128408  
Status : Answered  
Chosen Option : 1

Q.10 ' पाऊस पडला असता तर वातावरण गार झाले असते !' या वाक्याचा प्रकार ओळखा.

- Ans  1. संकेतार्थी  
 2. आज्ञार्थी  
 3. होकारार्थी  
 4. नकारार्थी

Question Type : MCQ  
Question ID : 630680290130  
Option 1 ID : 6306801128427  
Option 2 ID : 6306801128430  
Option 3 ID : 6306801128428  
Option 4 ID : 6306801128429  
Status : Answered  
Chosen Option : 1

Q.11 ' शंख करणे ' या वाक्यप्रचाराचा योग्य अर्थ सांगा.

- Ans  1. आहुती देणे  
 2. आरडाओरडा करणे  
 3. देवपूजा करणे  
 4. कृतज्ञ राहणे

Question Type : MCQ  
Question ID : 630680290126  
Option 1 ID : 6306801128413  
Option 2 ID : 6306801128412  
Option 3 ID : 6306801128411  
Option 4 ID : 6306801128414  
Status : Answered  
Chosen Option : 1

Q.12 ' जो,जी, जे ' या शब्दांची जात ओळखा.

- Ans  1. सर्वनाम  
 2. विशेषण  
 3. भाववाचक नाम  
 4. क्रियापद

Question Type : MCQ  
Question ID : 630680290134  
Option 1 ID : 6306801128445  
Option 2 ID : 6306801128446  
Option 3 ID : 6306801128444  
Option 4 ID : 6306801128443  
Status : Answered  
Chosen Option : 4

Q.13 ' प्रशंसा ' या शब्दाचा समानार्थी शब्द शोधा.

- Ans  1. स्तुती  
 2. विस्तार  
 3. प्रस्थ  
 4. प्रवाह

Question Type : MCQ  
Question ID : 630680290121  
Option 1 ID : 6306801128391  
Option 2 ID : 6306801128392  
Option 3 ID : 6306801128394  
Option 4 ID : 6306801128393  
Status : Answered  
Chosen Option : 1

Q.14 " गोपाळ हा मुलगा मुंबईत असून आणि त्याची बहीण दुसऱ्या गावात राहते. " या वाक्यातील सामान्यनामे कोणती आहेत?

- Ans  1. मुलगा, बहीण, गाव  
 2. गोपाळ, मुंबई, दुसऱ्या  
 3. मुलगा, त्याची, बहीण  
 4. मुंबई, गाव, बहीण

Question Type : MCQ

Question ID : 630680290133

Option 1 ID : 6306801128439

Option 2 ID : 6306801128440

Option 3 ID : 6306801128442

Option 4 ID : 6306801128441

Status : Answered

Chosen Option : 3

Q.15 नामाबद्दल विशेष माहिती सांगणाऱ्या शब्दाला काय म्हणतात?

- Ans  1. विशेष्य  
 2. क्रियाविशेषण  
 3. विश्लेषण  
 4. विशेषण

Question Type : MCQ

Question ID : 630680290131

Option 1 ID : 6306801128431

Option 2 ID : 6306801128432

Option 3 ID : 6306801128434

Option 4 ID : 6306801128433

Status : Answered

Chosen Option : 2

Section : English Language

Q.1 Select the option that can be used as a one-word substitute for the underlined segment.

Many people suffer from the fear of closed spaces.

- Ans  1. aerophobia  
 2. claustrophobia  
 3. zoophobia  
 4. hydrophobia

Question Type : MCQ

Question ID : 630680290143

Option 1 ID : 6306801128480

Option 2 ID : 6306801128481

Option 3 ID : 6306801128482

Option 4 ID : 6306801128479

Status : Answered

Chosen Option : 1

Q.2 Select the most appropriate option to fill in the blank.

It was an amazing sight to see a \_\_\_\_\_ of lions in the forest.

- Ans
- 1. herd
  - 2. colony
  - 3. flock
  - 4. pride

Question Type : MCQ  
Question ID : 630680290149  
Option 1 ID : 6306801128505  
Option 2 ID : 6306801128506  
Option 3 ID : 6306801128504  
Option 4 ID : 6306801128503  
Status : Answered  
Chosen Option : 2

Q.3 Select the most appropriate option to fill in the blank.

The train bound \_\_\_\_\_ Jaipur is running late.

- Ans
- 1. to
  - 2. on
  - 3. in
  - 4. for

Question Type : MCQ  
Question ID : 630680290150  
Option 1 ID : 6306801128507  
Option 2 ID : 6306801128508  
Option 3 ID : 6306801128510  
Option 4 ID : 6306801128509  
Status : Answered  
Chosen Option : 4

Q.4 Sentences of a paragraph are given below in jumbled order. Arrange the sentences in the correct order to form a meaningful and coherent paragraph.

- A. They return to you in a variety of ways, though you do not realise it.
- B. Polythene shopping bags and wrappers are potential threat to urban environment.
- C. Once you have discarded them after use, you do not lose your link with them.
- D. For example, they choke your drains and provide breeding facilities to deadly germs.

- Ans
- 1. BCAD
  - 2. BDAC
  - 3. BADC
  - 4. BDCA

Question Type : MCQ  
Question ID : 630680290144  
Option 1 ID : 6306801128485  
Option 2 ID : 6306801128483  
Option 3 ID : 6306801128484  
Option 4 ID : 6306801128486  
Status : Answered  
Chosen Option : 4

Q.5 Select the most appropriate meaning of the given idiom.

Egg on

- Ans  1. To fall  
 2. To oppose  
 3. To provoke  
 4. To pretend

Question Type : MCQ

Question ID : 630680290138

Option 1 ID : 6306801128462

Option 2 ID : 6306801128459

Option 3 ID : 6306801128460

Option 4 ID : 6306801128461

Status : Answered

Chosen Option : 1

Q.6 Sentences of a paragraph are given below in jumbled order. Arrange the sentences in the correct order to form a meaningful and coherent paragraph.

- A. While he was sawing, a man passing by in the street noticed him and said: "Bade mian (big brother), if you continue sawing the branch you are sitting on, you will fall down with it."  
B. Nasiruddin mused to himself: "This foolish man has nothing better to do than go around telling other people what to do and what not to do."  
C. One sunny morning, Mullah Nasiruddin was cutting off the branch of a tree in his garden.  
D. As can be expected, Nasiruddin happened to be sitting on that very branch.

- Ans  1. CDAB  
 2. CBDA  
 3. BDCA  
 4. DCAB

Question Type : MCQ

Question ID : 630680290145

Option 1 ID : 6306801128489

Option 2 ID : 6306801128488

Option 3 ID : 6306801128490

Option 4 ID : 6306801128487

Status : Answered

Chosen Option : 2

Q.7 Select the most appropriate ANTONYM of the given word.

Diffidence

- Ans  1. Similarity  
 2. Difference  
 3. Patience  
 4. Confidence

Question Type : MCQ

Question ID : 630680290137

Option 1 ID : 6306801128457

Option 2 ID : 6306801128456

Option 3 ID : 6306801128458

Option 4 ID : 6306801128455

Status : Answered

Chosen Option : 4



Q.8 Select the most appropriate option to fill in the blanks.

He turned \_\_\_\_\_deaf ear to \_\_\_\_\_advice of his parents.

- Ans  1. a; a  
 2. a; the  
 3. the; the  
 4. the; an

Question Type : MCQ

Question ID : 630680290146

Option 1 ID : 6306801128491

Option 2 ID : 6306801128494

Option 3 ID : 6306801128493

Option 4 ID : 6306801128492

Status : Answered

Chosen Option : 3

Q.9 Select the most appropriate synonym of the given word.

Obstinate

- Ans  1. Unknown  
 2. Clever  
 3. Stubborn  
 4. Friendly

Question Type : MCQ

Question ID : 630680290136

Option 1 ID : 6306801128452

Option 2 ID : 6306801128451

Option 3 ID : 6306801128454

Option 4 ID : 6306801128453

Status : Answered

Chosen Option : 1

Q.10 Select the most appropriate meaning of the given idiom.

At the eleventh hour

- Ans  1. Immediately  
 2. At the earliest  
 3. At the last moment  
 4. Slowly and steadily

Question Type : MCQ

Question ID : 630680290139

Option 1 ID : 6306801128465

Option 2 ID : 6306801128463

Option 3 ID : 6306801128464

Option 4 ID : 6306801128466

Status : Answered

Chosen Option : 3

Q.11 Parts of the following sentence have been given as options. Select the option that contains a spelling error.

The district administration rose to the occasion and rehabilitated the displaced people after the devastating earthquake.

- Ans
- 1. after the devastating earthquake
  - 2. rose to the occasion and
  - 3. rehabilitated the displaced people
  - 4. The district administration

Question Type : MCQ

Question ID : 630680290141

Option 1 ID : 6306801128474

Option 2 ID : 6306801128472

Option 3 ID : 6306801128473

Option 4 ID : 6306801128471

Status : Answered

Chosen Option : 1

Q.12 Select the most appropriate option to fill in the blank.

The children could \_\_\_\_\_ wait for their turn on the roller coaster.

- Ans
- 1. barely
  - 2. daily
  - 3. mostly
  - 4. usually

Question Type : MCQ

Question ID : 630680290148

Option 1 ID : 6306801128501

Option 2 ID : 6306801128502

Option 3 ID : 6306801128499

Option 4 ID : 6306801128500

Status : Answered

Chosen Option : 3

Q.13 Parts of the following sentence have been given as options. Select the option that contains a spelling error.

You will soon get a promotion since your boss is well disposed towards you.

- Ans
- 1. disposed towards you
  - 2. your boss is well
  - 3. a promotion since
  - 4. You will soon get

Question Type : MCQ

Question ID : 630680290140

Option 1 ID : 6306801128470

Option 2 ID : 6306801128469

Option 3 ID : 6306801128468

Option 4 ID : 6306801128467

Status : Answered

Chosen Option : 3

Q.14 Select the most appropriate option to fill in the blank. If no word is needed in the blank, select 'no word'.

Do you have \_\_\_\_\_good reason for your absence?

- Ans
- 1. no word
  - 2. an
  - 3. the
  - 4. a

Question Type : MCQ

Question ID : 630680290147

Option 1 ID : 6306801128495

Option 2 ID : 6306801128497

Option 3 ID : 6306801128498

Option 4 ID : 6306801128496

Status : Answered

Chosen Option : 3

Q.15 Select the option that can be used as a one-word substitute for the underlined segment.

My sister is interested in the study of plants.

- Ans
- 1. Zoology
  - 2. Botany
  - 3. Astronomy
  - 4. Geology

Question Type : MCQ

Question ID : 630680290142

Option 1 ID : 6306801128475

Option 2 ID : 6306801128476

Option 3 ID : 6306801128478

Option 4 ID : 6306801128477

Status : Answered

Chosen Option : 2

Section : General Knowledge

Q.1 खालीलपैकी कोणती 2020-21 मधील महाराष्ट्रातील सर्वात मौल्यवान किरकोळ वन उपज आहे?

- Ans
- 1. बांबू
  - 2. मोहाची फुले आणि बिया
  - 3. शिकेकाई
  - 4. डिक

Question Type : MCQ

Question ID : 630680290163

Option 1 ID : 6306801128559

Option 2 ID : 6306801128562

Option 3 ID : 6306801128561

Option 4 ID : 6306801128560

Status : Answered

Chosen Option : 1

Q.2 फॉरेस्ट सर्व्हे ऑफ इंडियाने तयार केलेला इंडिया स्टेट ऑफ फॉरेस्ट अहवाल प्रत्येकी किती वर्षानी प्रकाशित केला जातो?

- Ans  1. प्रत्येकी 2 वर्षानी  
 2. प्रत्येकी 6 वर्षानी  
 3. प्रत्येकी 5 वर्षानी  
 4. प्रत्येकी 4 वर्षानी

Question Type : MCQ

Question ID : 630680290155

Option 1 ID : 6306801128529

Option 2 ID : 6306801128530

Option 3 ID : 6306801128527

Option 4 ID : 6306801128528

Status : Answered

Chosen Option : 3

Q.3 विशिष्ट कालावधीत, एखाद्या विशिष्ट क्षेत्रात जन्मलेल्या जिवंत अर्भकांच्या एकूण संख्येला, त्या क्षेत्रातील हजारच्या एककातील एकूण लोकसंख्येने भागल्यास त्यास \_\_\_\_\_ म्हणतात.

- Ans  1. मृत्यू दर  
 2. मृत जन्म  
 3. जन्म दर  
 4. जिवंत जन्म

Question Type : MCQ

Question ID : 630680290158

Option 1 ID : 6306801128540

Option 2 ID : 6306801128541

Option 3 ID : 6306801128539

Option 4 ID : 6306801128542

Status : Answered

Chosen Option : 1

Q.4 ज्योतिराव गोविंदराव फुले यांनी 1873 मध्ये प्रकाशित झालेल्या त्यांच्या '\_\_\_\_\_' या पुस्तकात, ब्राह्मणी वर्चस्वाखालील शूद्रांच्या गुलामगिरीच्या ऐतिहासिक मूळ संकल्पनेचे सविस्तर वर्णन केले आणि त्याची तुलना अमेरिकेतील आफ्रिकी-अमेरिकी लोकांच्या गुलामगिरीशी केली.

- Ans  1. गुलामगिरी  
 2. वर्णाश्रम  
 3. पट्टुपट्टू  
 4. सत्यशोधक

Question Type : MCQ

Question ID : 630680290165

Option 1 ID : 6306801128567

Option 2 ID : 6306801128569

Option 3 ID : 6306801128570

Option 4 ID : 6306801128568

Status : Answered

Chosen Option : 2

Q.5 इंडिया स्टेट ऑफ फॉरेस्ट रिपोर्ट (ISFR) 2019 नुसार, महाराष्ट्रातील वार्षिक पर्जन्यमान \_\_\_\_\_ च्या दरम्यान आहे.

- Ans  1. 2000 mm आणि 6000 mm  
 2. 400 mm आणि 6000 mm  
 3. 800 mm आणि 9000 mm  
 4. 1000 mm आणि 2000 mm

Question Type : MCQ

Question ID : 630680290161

Option 1 ID : 6306801128554

Option 2 ID : 6306801128551

Option 3 ID : 6306801128552

Option 4 ID : 6306801128553

Status : Answered

Chosen Option : 2

Q.6 खालीलपैकी कोण हे बॉम्बे उच्च न्यायालयात बॅरिस्टर म्हणून आणि भारतीय राष्ट्रीय काँग्रेसचे तिसरे अध्यक्ष म्हणून काम करणारे पहिले भारतीय होते?

- Ans  1. देवेंद्रनाथ टागोर  
 2. सहजानंद सरस्वती  
 3. अरुणा असफ अली  
 4. बदरुद्दीन तय्यबजी

Question Type : MCQ

Question ID : 630680290152

Option 1 ID : 6306801128515

Option 2 ID : 6306801128518

Option 3 ID : 6306801128517

Option 4 ID : 6306801128516

Status : Answered

Chosen Option : 4

Q.7 इंडिया स्टेट ऑफ फॉरेस्ट रिपोर्ट-2021 नुसार, अरुणाचल प्रदेशमधील खालीलपैकी कोणत्या व्याघ्र प्रकल्पात सर्वाधिक विशाल वनाच्छादित क्षेत्र आहे?

- Ans  1. सरिस्का व्याघ्र प्रकल्प  
 2. पाके व्याघ्र प्रकल्प  
 3. काली व्याघ्र प्रकल्प  
 4. सातपुडा व्याघ्र प्रकल्प

Question Type : MCQ

Question ID : 630680290156

Option 1 ID : 6306801128531

Option 2 ID : 6306801128532

Option 3 ID : 6306801128534

Option 4 ID : 6306801128533

Status : Answered

Chosen Option : 1

Q.8 आदिम समाजातील व्यापाराच्या प्रारंभिक स्वरूपाला काय म्हणतात, ज्यामध्ये वस्तूंची थेट देवाणघेवाण होत असे?

- Ans  1. वस्तुविनिमय प्रणाली  
 2. गुलामांचा व्यापार  
 3. आयात  
 4. निर्यात

Question Type : MCQ

Question ID : 630680290157

Option 1 ID : 6306801128536

Option 2 ID : 6306801128535

Option 3 ID : 6306801128537

Option 4 ID : 6306801128538

Status : Answered

Chosen Option : 1

Q.9 स्वामी दयानंद सरस्वती यांनी 1845 ते 1860 पर्यंत धार्मिक सत्याच्या शोधात भारतभर प्रवास केला आणि शेवटी ते \_\_\_\_\_ यांचे शिष्य बनले.

- Ans  1. स्वामी विवेकानंद  
 2. स्वामी विराजानंद  
 3. ईश्वरचंद्र विद्यासागर  
 4. राजा राममोहन रॉय

Question Type : MCQ

Question ID : 630680290151

Option 1 ID : 6306801128512

Option 2 ID : 6306801128513

Option 3 ID : 6306801128514

Option 4 ID : 6306801128511

Status : Answered

Chosen Option : 3

Q.10 व्यावसायिक बँकांनी राखीव ठेवलेल्या एकूण ठेवींच्या टक्केवारीला काय म्हटले जाते?

- Ans  1. गुंतवणूक  
 2. राखीव भांडवल गुणोत्तर  
 3. कर्ज  
 4. राखीव ठेव गुणोत्तर

Question Type : MCQ

Question ID : 630680290154

Option 1 ID : 6306801128525

Option 2 ID : 6306801128526

Option 3 ID : 6306801128524

Option 4 ID : 6306801128523

Status : Answered

Chosen Option : 1

Q.11 स्थानिक बांबू कारागिरांची कौशल्ये वाढवण्याच्या उद्देशाने, महाराष्ट्र सरकारने 2014 साली कोणत्या जिल्ह्यात बांबू संशोधन आणि प्रशिक्षण केंद्र (BRTC) स्थापन केले?

- Ans
- 1. अकोला
  - 2. बीड
  - 3. बुलढाणा
  - 4. चंद्रपूर

Question Type : MCQ

Question ID : 630680290164

Option 1 ID : 6306801128564

Option 2 ID : 6306801128563

Option 3 ID : 6306801128565

Option 4 ID : 6306801128566

Status : Answered

Chosen Option : 4

Q.12 महाराष्ट्रामध्ये कोणती तीन भूरोपिक क्षेत्रे आहेत?

- Ans
- 1. पूर्वेकडील तटीय मैदान, मध्य पर्वत आणि गिरिभूमी प्रदेश
  - 2. दख्खनचे पठार, पश्चिम घाट आणि पश्चिम किनारा
  - 3. गिरिभूमी प्रदेश, मध्य पठारे, पश्चिमेकडील आवर्तनी उच्चभूमी (Western Rolling Uplands)
  - 4. कोकण किनारा, मध्य पर्वत आणि दख्खनचे पठार

Question Type : MCQ

Question ID : 630680290162

Option 1 ID : 6306801128557

Option 2 ID : 6306801128555

Option 3 ID : 6306801128556

Option 4 ID : 6306801128558

Status : Answered

Chosen Option : 2

Q.13 भारताच्या उपराष्ट्रपतींची निवड कोण करते?

- Ans
- 1. भारताचे राष्ट्रपती
  - 2. राज्यसभेचे सदस्य
  - 3. लोकसभेचे सदस्य
  - 4. संसदेच्या दोन्ही सभागृहांचे सदस्य

Question Type : MCQ

Question ID : 630680290160

Option 1 ID : 6306801128550

Option 2 ID : 6306801128549

Option 3 ID : 6306801128548

Option 4 ID : 6306801128547

Status : Answered

Chosen Option : 4

Q.14 भारतीय राज्यघटनेच्या खालीलपैकी कोणत्या भागात मूलभूत कर्तव्यांचा उल्लेख आहे?

- Ans  1. भाग 4A  
 2. भाग 5  
 3. भाग 6  
 4. भाग 6A

Question Type : MCQ  
Question ID : 630680290159  
Option 1 ID : 6306801128545  
Option 2 ID : 6306801128543  
Option 3 ID : 6306801128544  
Option 4 ID : 6306801128546  
Status : Answered  
Chosen Option : 1

Q.15 खालीलपैकी कोणते सिंधू संस्कृतीचे एकमेव बंदर शहर होते?

- Ans  1. कालीबंगन  
 2. सुजानगड  
 3. लोथल  
 4. हनुमानगड

Question Type : MCQ  
Question ID : 630680290153  
Option 1 ID : 6306801128520  
Option 2 ID : 6306801128522  
Option 3 ID : 6306801128521  
Option 4 ID : 6306801128519  
Status : Answered  
Chosen Option : 1

Section : Mental Ability

Q.1 खालील समीकरण अचूक करण्यासाठी कोणत्या दोन चिन्हांची अदलाबदल करावी लागेल?

$$35 \div 9 \times 4 - 7 = 192 + 3$$

- Ans  1. +, -  
 2. -, ÷  
 3. ÷, +  
 4. ÷, ×

Question Type : MCQ  
Question ID : 630680290180  
Option 1 ID : 6306801128628  
Option 2 ID : 6306801128629  
Option 3 ID : 6306801128627  
Option 4 ID : 6306801128630  
Status : Answered  
Chosen Option : 3



Q.2 खालील संख्याक्रमामध्ये असे किती '6' आहेत, ज्यांपैकी प्रत्येकाच्या ताबडतोब नंतर '2' येतो पण ताबडतोब आधी '1' येत नाही?

(डावी) 1 2 6 7 2 6 1 6 2 8 6 2 6 1 1 6 2 8 6 2 5 6 1 3 6 1 6 2 9 1 7 6 2 1 6 2 (उजवी)

- Ans
- 1. 5
  - 2. 2
  - 3. 4
  - 4. 3

Question Type : MCQ

Question ID : 630680290173

Option 1 ID : 6306801128600

Option 2 ID : 6306801128599

Option 3 ID : 6306801128602

Option 4 ID : 6306801128601

Status : Answered

Chosen Option : 4

Q.3 एका चौकामधून जाणारे चार रस्ते हे बाजार, शाळा, हॉस्पिटल आणि मनोजचे घर असे जातात. मनोज दक्षिणेकडे प्रवास करतो आणि घराकडून येतो. जर तो चालत राहिला, तर तो बाजारात पोहोचेल. हॉस्पिटल हे चौकाच्या पश्चिमेला आहे. चौकापासून शाळा कोणत्या दिशेला आहे?

- Ans
- 1. पश्चिम
  - 2. दक्षिण
  - 3. उत्तर
  - 4. पूर्व

Question Type : MCQ

Question ID : 630680290176

Option 1 ID : 6306801128614

Option 2 ID : 6306801128612

Option 3 ID : 6306801128611

Option 4 ID : 6306801128613

Status : Answered

Chosen Option : 4

Q.4 यात असे किती स्वर आहेत, ज्यांच्या लगेचच आधी एक व्यंजन येते आणि तसेच लगेचच नंतर एक व्यंजन येते?

(डावी) A D F L H E F H E O D F D K E U S E D F Z U M P O N S G I M (उजवी)

Ans  1. 6

2. 4

3. 1

4. 5

Question Type : MCQ

Question ID : 630680290172

Option 1 ID : 6306801128596

Option 2 ID : 6306801128597

Option 3 ID : 6306801128598

Option 4 ID : 6306801128595

Status : Answered

Chosen Option : 1

Q.5 खालील मालिकेत प्रश्नचिन्हाच्या (?) जागी येऊ शकणारा अक्षर-समूह दिलेल्या पर्यायांतून निवडा.

WORD, BTWI, GYBN, LDGS, ?

Ans  1. QILY

2. QJLY

3. PJKX

4. QILX

Question Type : MCQ

Question ID : 630680290168

Option 1 ID : 6306801128579

Option 2 ID : 6306801128581

Option 3 ID : 6306801128580

Option 4 ID : 6306801128582

Status : Answered

Chosen Option : 4

Q.6 चार अक्षर-समूह दिले आहेत, ज्यांपैकी तीन एका विशिष्ट पद्धतीने समान आहेत आणि एक वेगळा आहे. गटात न बसणारा शोधा.

Ans  1. VTRP

2. HFDB

3. MKIG

4. XVTS

Question Type : MCQ

Question ID : 630680290170

Option 1 ID : 6306801128588

Option 2 ID : 6306801128587

Option 3 ID : 6306801128589

Option 4 ID : 6306801128590

Status : Answered

Chosen Option : 4

Q.7 'DESCRIPTION' या शब्दामधील अक्षरांची इंग्रजी वर्णक्रमानुसार पुनर्रचना केल्यास, पुनर्रचना केल्यानंतर किती अक्षरांचे स्थान बदलणार नाही?

- Ans
- 1. 3
  - 2. 2
  - 3. 1
  - 4. 0

Question Type : MCQ

Question ID : 630680290171

Option 1 ID : 6306801128594

Option 2 ID : 6306801128592

Option 3 ID : 6306801128591

Option 4 ID : 6306801128593

Status : Answered

Chosen Option : 4

Q.8 एका वर्गात मोहन आणि सोहन हे शेवटून अनुक्रमे 12 व्या आणि 14 व्या स्थानावर आहेत. वर्गात जर एकूण 82 मुले असतील, तर सुरुवातीपासून त्यांचे स्थान काय आहे?

- Ans
- 1. अनुक्रमे, 71 आणि 70
  - 2. अनुक्रमे, 71 आणि 69
  - 3. अनुक्रमे, 70 आणि 68
  - 4. अनुक्रमे, 70 आणि 72

Question Type : MCQ

Question ID : 630680290166

Option 1 ID : 6306801128573

Option 2 ID : 6306801128571

Option 3 ID : 6306801128572

Option 4 ID : 6306801128574

Status : Answered

Chosen Option : 3

Q.9 A + B म्हणजे, A हे B चे वडील आहेत.

A - B म्हणजे, A हा B चा भाऊ आहे.

A \* B म्हणजे, A ही B ची पत्नी आहे.

A / B म्हणजे, A हा B चा मुलगा आहे.

जर R + T - W \* P आहे, तर P चे R सोबत काय नाते आहे?

Ans  1. वडिलांचा भाऊ

2. सासरे

3. जावई

4. वडिलांचे वडील

Question Type : MCQ

Question ID : 630680290174

Option 1 ID : 6306801128604

Option 2 ID : 6306801128605

Option 3 ID : 6306801128603

Option 4 ID : 6306801128606

Status : Answered

Chosen Option : 2

Q.10 खालील मालिकेत प्रश्नचिन्हाच्या (?) जागी येईल अशी संख्या दिलेल्या पर्यायांतून निवडा.

1, 2, 3, ?, 29

Ans  1. 10

2. 18

3. 7

4. 8

Question Type : MCQ

Question ID : 630680290178

Option 1 ID : 6306801128622

Option 2 ID : 6306801128620

Option 3 ID : 6306801128621

Option 4 ID : 6306801128619

Status : Answered

Chosen Option : 3

Q.11 ज्याप्रमाणे दुसरा शब्द पहिल्या शब्दाशी संबंधित आहे, त्याचप्रमाणे तिसऱ्या शब्दाशी संबंधित असलेला पर्याय निवडा.

अल्जेरिया : आफ्रिका :: क्युबा : ?

- Ans
- 1. आशिया
  - 2. दक्षिण अमेरिका
  - 3. उत्तर अमेरिका
  - 4. युरोप

Question Type : MCQ

Question ID : 630680290169

Option 1 ID : 6306801128583

Option 2 ID : 6306801128586

Option 3 ID : 6306801128585

Option 4 ID : 6306801128584

Status : Answered

Chosen Option : 2

Q.12 A + B म्हणजे, A हे B चे वडील आहेत.

A - B म्हणजे, A हा B चा भाऊ आहे.

A \* B म्हणजे, A ही B ची पत्नी आहे.

A / B म्हणजे, A हा B चा मुलगा आहे.

जर M - T / P \* N आहे, तर N चे T सोबत काय नाते आहे?

- Ans
- 1. मुलगी
  - 2. वडील
  - 3. मुलगा
  - 4. आई

Question Type : MCQ

Question ID : 630680290175

Option 1 ID : 6306801128609

Option 2 ID : 6306801128610

Option 3 ID : 6306801128608

Option 4 ID : 6306801128607

Status : Answered

Chosen Option : 3

Q.13 खालील मालिकेत न बसणारे पद ओळखा.

B2A, D4C, F6E, H10G, J10I.

- Ans
- 1. F6E
  - 2. D4C
  - 3. B2A
  - 4. H10G

Question Type : MCQ

Question ID : 630680290167

Option 1 ID : 6306801128577

Option 2 ID : 6306801128578

Option 3 ID : 6306801128575

Option 4 ID : 6306801128576

Status : Answered

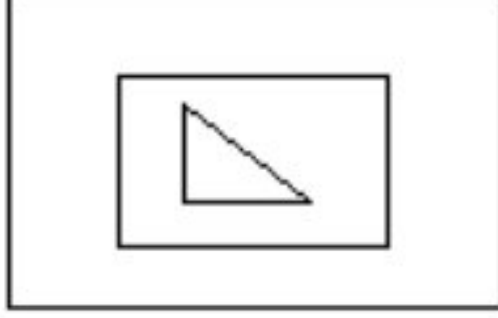
Chosen Option : 4

Q.14 खालील मालिकेत पुढे येणारी आकृती निवडा.

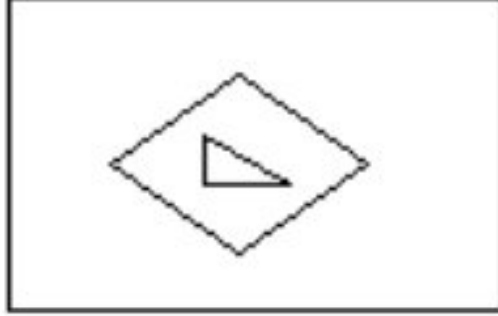


Ans

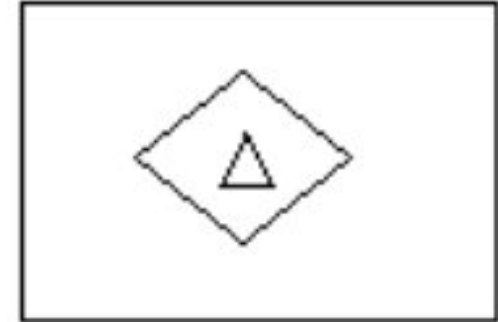
✗ 1.



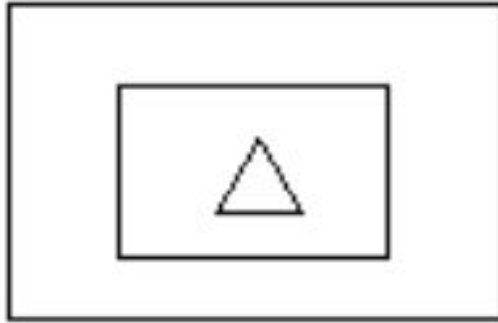
✗ 2.



✓ 3.



✗ 4.



Question Type : MCQ

Question ID : 630680290177

Option 1 ID : 6306801128616

Option 2 ID : 6306801128618

Option 3 ID : 6306801128615

Option 4 ID : 6306801128617

Status : Answered

Chosen Option : 3

Q.15 खालील समीकरणातील कोणत्या दोन अंकगणितीय क्रियांची अदलाबदल करणे आवश्यक आहे, जेणेकरून समीकरण गणितीयदृष्ट्या अचूक होईल?

$$7 - 28 \div 4 \times 9 = 87 + 17$$

- Ans
- 1. - आणि  $\times$
  - 2.  $\div$  आणि +
  - 3. + आणि -
  - 4.  $\times$  आणि  $\div$

Question Type : MCQ

Question ID : 630680290179

Option 1 ID : 6306801128624

Option 2 ID : 6306801128625

Option 3 ID : 6306801128626

Option 4 ID : 6306801128623

Status : Answered

Chosen Option : 3