


Answer Key for PCCF Recruitment Exam 31st July to 11th Aug 2023 for Objection Handling purpose only

Participant ID	Fog000000000000
Participant Name	www.mpscmaterial.com
Test Center Name	iON Digital Zone iDZ Ramtekdi 3
Test Date	10/08/2023
Test Time	4:30 PM - 6:30 PM
Subject	Forest Guard
Candidate Registered Photo	
Candidate Exam Day Photo	

Section : Marathi Language

Q.1 म्हणीचा अर्थ ओळखा.

'औट घटकेचे राज्य'

- Ans
- 1. आठ तास टिकणारे राज्य
 - 2. थोडा वेळ टिकणारे ऐश्वर्य
 - 3. जास्त वेळ टिकणारी संपत्ती
 - 4. ऐश्वर्य व धनसंपत्तीचा उपभोग घेणे

Question Type : MCQ

Question ID : 630680292040

Option 1 ID : 6306801136042

Option 2 ID : 6306801136041

Option 3 ID : 6306801136040

Option 4 ID : 6306801136043

Status : Answered

Chosen Option : 2

Q.2 'ज्याची किंमत होऊ शकत नाही असे' या शब्दसमूहासाठी खालीलपैकी योग्य शब्द निवडा.

- Ans
- 1. अजिंक्य
 - 2. अत्युच्च
 - 3. अविनाशी
 - 4. अनमोल

Question Type : MCQ
Question ID : 630680292043
Option 1 ID : 6306801136052
Option 2 ID : 6306801136053
Option 3 ID : 6306801136055
Option 4 ID : 6306801136054
Status : Answered
Chosen Option : 4

Q.3 'प्रतिष्ठापित करणे' या वाक्यप्रचाराचा योग्य अर्थ कोणता आहे ?

- Ans
- 1. सत्कार करणे
 - 2. माया लावणे
 - 3. स्थापना करणे
 - 4. छाप पाडणे

Question Type : MCQ
Question ID : 630680292042
Option 1 ID : 6306801136048
Option 2 ID : 6306801136050
Option 3 ID : 6306801136049
Option 4 ID : 6306801136051
Status : Answered
Chosen Option : 3

Q.4 'तो वारंवार आजारी पडतो.' - अधोरेखित क्रियाविशेषण अव्ययाचा प्रकार ओळखा.

- Ans
- 1. कालवाचक
 - 2. गतिदर्शक
 - 3. स्थलवाचक
 - 4. प्रश्नार्थक

Question Type : MCQ
Question ID : 630680292049
Option 1 ID : 6306801136079
Option 2 ID : 6306801136077
Option 3 ID : 6306801136076
Option 4 ID : 6306801136078
Status : Answered
Chosen Option : 1

Q.5 'मी काय सांगतो ते नीट ऐक.' – अधोरेखित सर्वनामाचा प्रकार ओळखा.

- Ans 1. अनिश्चित सर्वनाम
 2. प्रश्नार्थक सर्वनाम
 3. संबंधी सर्वनाम
 4. आत्मवाचक सर्वनाम

Question Type : MCQ

Question ID : 630680292048

Option 1 ID : 6306801136073

Option 2 ID : 6306801136074

Option 3 ID : 6306801136072

Option 4 ID : 6306801136075

Status : Answered

Chosen Option : 1

Q.6 लेखननियमांनुसार अचूक शब्द ओळखा.

- Ans 1. बहिशकृत
 2. बहिश्कृत
 3. बहिष्कृत
 4. बहीष्कृत

Question Type : MCQ

Question ID : 630680292038

Option 1 ID : 6306801136035

Option 2 ID : 6306801136034

Option 3 ID : 6306801136032

Option 4 ID : 6306801136033

Status : Answered

Chosen Option : 3

Q.7 'डोळ्यात भरणे' म्हणजे _____

- Ans 1. डोळ्यांना वेदना होणे
 2. फार फार आवडणे
 3. झोप येणे
 4. खरी स्थिती समजणे

Question Type : MCQ

Question ID : 630680292041

Option 1 ID : 6306801136044

Option 2 ID : 6306801136047

Option 3 ID : 6306801136045

Option 4 ID : 6306801136046

Status : Answered

Chosen Option : 2

Q.8 विरुद्धार्थी शब्दांच्या योग्य जोड्या जुळवा.

'अ' गट	'ब' गट
a. अल्लड	i) कृपण
b. उदार	ii) पोक्त
c. इहलोक	iii) बेरकी
d. प्रसन्न	iv) खिन्न
	v) परलोक

- Ans
- 1. a-i, b-v, c-iii, d-iv
 - 2. a-ii, b-i, c-iii, d-v
 - 3. a-ii, b-i, c-v, d-iv
 - 4. a-ii, b-i, c-v, d-iii

Question Type : MCQ
Question ID : 630680292035
Option 1 ID : 6306801136022
Option 2 ID : 6306801136023
Option 3 ID : 6306801136021
Option 4 ID : 6306801136020
Status : Answered
Chosen Option : 3

Q.9 लेखननियमांनुसार अचूक शब्द ओळखा.

- Ans
- 1. स्तूतीपाठक
 - 2. स्तूतिपाठक
 - 3. स्तूतीपाठक
 - 4. स्तूतिपाठक

Question Type : MCQ
Question ID : 630680292037
Option 1 ID : 6306801136031
Option 2 ID : 6306801136028
Option 3 ID : 6306801136030
Option 4 ID : 6306801136029
Status : Answered
Chosen Option : 3

Q.10 खालील लेखननियमांनुसार कोणते वाक्य आहे ते ओळखा.

- Ans 1. आजचा सुशिक्षित समाज परकी भाषा बोलत आहे.
 2. आजचा सुशिक्षित समाज परकी भाषा बोलत आहे.
 3. आजचा सुशिक्षित समाज परकी भासा बोलत आहे.
 4. आजचा सुशिक्षित समाज परकी भाषा बोलत आहे.

Question Type : MCQ

Question ID : 630680292045

Option 1 ID : 6306801136060

Option 2 ID : 6306801136062

Option 3 ID : 6306801136063

Option 4 ID : 6306801136061

Status : Answered

Chosen Option : 4

Q.11 ज्या वाक्यात भावनेचा उद्धार काढलेला असतो, त्यास _____ वाक्य म्हणतात.

- Ans 1. संकेतार्थी
 2. उद्गारार्थी
 3. आज्ञार्थी
 4. प्रश्नार्थी

Question Type : MCQ

Question ID : 630680292046

Option 1 ID : 6306801136065

Option 2 ID : 6306801136066

Option 3 ID : 6306801136067

Option 4 ID : 6306801136064

Status : Answered

Chosen Option : 2

Q.12 खालील गटातील समानार्थी नसलेला शब्द कोणता आहे ?

‘सुत, तनय, नंदन, सुता’

- Ans 1. सुत
 2. सुता
 3. नंदन
 4. तनय

Question Type : MCQ

Question ID : 630680292036

Option 1 ID : 6306801136026

Option 2 ID : 6306801136024

Option 3 ID : 6306801136027

Option 4 ID : 6306801136025

Status : Answered

Chosen Option : 2

Q.13 खालील शब्दसमूह अचूक शब्दाने पूर्ण करा.

'वेलींचा कुंज तसा विमानांचा _____

Ans 1. कळप

2. ताफा

3. घोस

4. तांडा

Question Type : MCQ

Question ID : 630680292044

Option 1 ID : 6306801136057

Option 2 ID : 6306801136059

Option 3 ID : 6306801136056

Option 4 ID : 6306801136058

Status : Answered

Chosen Option : 2

Q.14 खालीलपैकी कोणते शब्दयोगी अव्यय आहे ?

Ans 1. महान

2. व

3. आणि

4. करिता

Question Type : MCQ

Question ID : 630680292047

Option 1 ID : 6306801136071

Option 2 ID : 6306801136070

Option 3 ID : 6306801136069

Option 4 ID : 6306801136068

Status : Answered

Chosen Option : 4

Q.15 'उष्टे' शब्दाच्या जोडीने येणारा शब्द कोणता आहे ?

Ans 1. मिष्टे

2. खरकटे

3. विष्टे

4. निष्टे

Question Type : MCQ

Question ID : 630680292039

Option 1 ID : 6306801136037

Option 2 ID : 6306801136039

Option 3 ID : 6306801136036

Option 4 ID : 6306801136038

Status : Answered

Chosen Option : 2

Q.1 Select the most appropriate option to fill in the blank.

She _____dismissed my suggestion.

- Ans 1. quickly
 2. fast
 3. badly
 4. quick

Question Type : MCQ
Question ID : 630680292064
Option 1 ID : 6306801136138
Option 2 ID : 6306801136139
Option 3 ID : 6306801136137
Option 4 ID : 6306801136136
Status : Answered
Chosen Option : 1

Q.2 Read the following sentence and select the option that has a spelling error.

Albert Einstein's 1916 general theory of relativity first predicted the phenomanon of gravitational waves.

- Ans 1. relativity
 2. Theory
 3. phenomanon
 4. gravitational

Question Type : MCQ
Question ID : 630680292053
Option 1 ID : 6306801136093
Option 2 ID : 6306801136092
Option 3 ID : 6306801136094
Option 4 ID : 6306801136095
Status : Answered
Chosen Option : 3

Q.3 Select the most appropriate option to fill in the blanks.

I told _____anxious parents that _____baby needed a lot of sleep.

- Ans 1. a, a
 2. a, the
 3. an, a
 4. the, the

Question Type : MCQ
Question ID : 630680292061
Option 1 ID : 6306801136124
Option 2 ID : 6306801136127
Option 3 ID : 6306801136126
Option 4 ID : 6306801136125
Status : Answered
Chosen Option : 3

Q.4 Select the most appropriate option to fill in the blanks.

Jagadish Chandra Bose was _____one of the greatest scientists of the world _____a remarkable biologist, botanist, bio-physicist and science-fiction writer.

- Ans
- 1. however, nevertheless
 - 2. so, that
 - 3. as, as
 - 4. not only, but also

Question Type : MCQ
Question ID : 630680292063
Option 1 ID : 6306801136134
Option 2 ID : 6306801136132
Option 3 ID : 6306801136133
Option 4 ID : 6306801136135
Status : Answered
Chosen Option : 4

Q.5 Select the option that can be used as a one word substitute for the underlined segment.

In our village there was a large lake used a source of water supply.

- Ans
- 1. receptacle
 - 2. reservoir
 - 3. stockpile
 - 4. lagoon

Question Type : MCQ
Question ID : 630680292057
Option 1 ID : 6306801136110
Option 2 ID : 6306801136111
Option 3 ID : 6306801136109
Option 4 ID : 6306801136108
Status : Answered
Chosen Option : 4

Q.6 Select the most appropriate option to fill in the blanks.

When we were at _____Delhi Zoo, my daughter played with _____baby elephant.

- Ans
- 1. an, an
 - 2. a, the
 - 3. the, a
 - 4. a, a

Question Type : MCQ
Question ID : 630680292060
Option 1 ID : 6306801136121
Option 2 ID : 6306801136123
Option 3 ID : 6306801136122
Option 4 ID : 6306801136120
Status : Answered
Chosen Option : 3

Q.7 Select the option that can be used as a one word substitute for the underlined segment.

Mr. Gupta completed a course on the study of the Earth's structure, and its formation.

- Ans
- 1. cytology
 - 2. morphology
 - 3. geology
 - 4. cartography

Question Type : MCQ
Question ID : 630680292056
Option 1 ID : 6306801136106
Option 2 ID : 6306801136104
Option 3 ID : 6306801136105
Option 4 ID : 6306801136107
Status : Answered
Chosen Option : 3

Q.8 Select the most appropriate ANTONYM of the given word.

Clandestine

- Ans
- 1. Secret
 - 2. Forthright
 - 3. Cloudy
 - 4. Concealed

Question Type : MCQ
Question ID : 630680292051
Option 1 ID : 6306801136085
Option 2 ID : 6306801136086
Option 3 ID : 6306801136084
Option 4 ID : 6306801136087
Status : Answered
Chosen Option : 2

Q.9 Select the most appropriate meaning of the given proverb.

It takes two to tango

- Ans
- 1. Both parties in a difficult situation can be blameless
 - 2. A third person decides who is to be blamed
 - 3. Only one party takes the blame
 - 4. Both parties in a difficult situation are equally responsible

Question Type : MCQ
Question ID : 630680292055
Option 1 ID : 6306801136100
Option 2 ID : 6306801136103
Option 3 ID : 6306801136101
Option 4 ID : 6306801136102
Status : Answered
Chosen Option : 4

Q.10 Select the most appropriate meaning of the given idiom.

Fit as a fiddle

- Ans 1. To be consistent
 2. To be very healthy
 3. To be musical
 4. To be fidgety

Question Type : MCQ

Question ID : 630680292054

Option 1 ID : 6306801136099

Option 2 ID : 6306801136097

Option 3 ID : 6306801136098

Option 4 ID : 6306801136096

Status : Answered

Chosen Option : 2

Q.11 Sentences of a paragraph are given below in jumbled order. Arrange the sentences in the correct order to form a meaningful and coherent paragraph.

- A. In a jungle, there was a big cave.
B. One day Naveen and his friends decided to unfold the mystery.
C. Everyone said it had a ghost living in it.
D. They decided to explore the cave in the night.

- Ans 1. ABDC
 2. ACBD
 3. ADCB
 4. ABCD

Question Type : MCQ

Question ID : 630680292058

Option 1 ID : 6306801136115

Option 2 ID : 6306801136113

Option 3 ID : 6306801136112

Option 4 ID : 6306801136114

Status : Answered

Chosen Option : 1

Q.12 Select the most appropriate option to fill in the blank.

The distinction _____right and wrong is not always crystal clear.

- Ans 1. between
 2. of
 3. from
 4. among

Question Type : MCQ

Question ID : 630680292062

Option 1 ID : 6306801136129

Option 2 ID : 6306801136131

Option 3 ID : 6306801136130

Option 4 ID : 6306801136128

Status : Answered

Chosen Option : 1

Q.13 Sentences of a paragraph are given below in jumbled order. Arrange the sentences in the correct order to form a meaningful and coherent paragraph.

- A. People, started experimenting with nest boxes to help species revive.
- B. Though not all efforts succeeded, birds that used cavities to nest like mynas, parakeets, owls, robins and sparrows stood a better chance.
- C. However, nest boxes can be quite a problem too, often, some other species, not the one you want, occupy the nest box.
- D. The Industrial Revolution brought habitat loss, excessive use of pesticides, and pollution in its wake, resulting in dwindling bird numbers.

- Ans
- 1. DABC
 - 2. BCDA
 - 3. ABCD
 - 4. CDBA

Question Type : MCQ
Question ID : 630680292059
Option 1 ID : 6306801136116
Option 2 ID : 6306801136119
Option 3 ID : 6306801136117
Option 4 ID : 6306801136118
Status : Answered
Chosen Option : 1

Q.14 Select the most appropriate synonym of the given word.

Dainty

- Ans
- 1. Clumsy
 - 2. Smooth
 - 3. Harsh
 - 4. Delicate

Question Type : MCQ
Question ID : 630680292050
Option 1 ID : 6306801136080
Option 2 ID : 6306801136083
Option 3 ID : 6306801136082
Option 4 ID : 6306801136081
Status : Answered
Chosen Option : 4

Q.15 Read the following sentence and select the option that has a spelling error.

Seek help from a mental health professional if this fear of happiness interferes with your personal and professional life.

- Ans 1. Happiness
 2. interferences
 3. profesional
 4. health

Question Type : MCQ
Question ID : 630680292052
Option 1 ID : 6306801136089
Option 2 ID : 6306801136090
Option 3 ID : 6306801136088
Option 4 ID : 6306801136091
Status : Answered
Chosen Option : 3

Section : General Knowledge

Q.1 _____ हे सती प्रथेला आढ्यान देण्यासाठी पुढाकार घेणारी पहिली व्यक्ती होते व लवकरच ते त्यांचे आयुष्यभरासाठीचे धर्मयुद्ध बनले.

- Ans 1. नारायण गुरु
 2. ईश्वरचंद्र विद्या सागर
 3. राजा राममोहन रॉय
 4. महात्मा गांधी

Question Type : MCQ
Question ID : 630680292065
Option 1 ID : 6306801136142
Option 2 ID : 6306801136141
Option 3 ID : 6306801136140
Option 4 ID : 6306801136143
Status : Answered
Chosen Option : 3

Q.2 ज्या भागात वार्षिक पर्जन्यमान साधारणपणे 80 cm पेक्षा कमी असते, त्या भागात कोणत्या प्रकारची शेती केली जाते?

- Ans 1. कोरडवाहू शेती
 2. ओलिताची शेती
 3. ठिबक शेती
 4. मान्सून शेती

Question Type : MCQ
Question ID : 630680292070
Option 1 ID : 6306801136161
Option 2 ID : 6306801136160
Option 3 ID : 6306801136162
Option 4 ID : 6306801136163
Status : Answered
Chosen Option : 3

Q.3 यापैकी कोणता दख्खनच्या पठाराचा भ्रंशित किनारा आहे आणि तो गोंडवाना महाद्विपाच्या विभाजनादरम्यान तयार झाला असे मानले जाते?

- Ans
- 1. उत्तर घाट
 - 2. दक्षिण घाट
 - 3. पश्चिम घाट
 - 4. पूर्व घाट

Question Type : MCQ
Question ID : 630680292077
Option 1 ID : 6306801136190
Option 2 ID : 6306801136191
Option 3 ID : 6306801136189
Option 4 ID : 6306801136188
Status : Answered
Chosen Option : 3

Q.4 दिलेल्या पर्यायांच्या आधारे, खालीलपैकी कोण संविधान सभेचे अध्यक्ष होते?

- Ans
- 1. डॉ. राजेंद्र प्रसाद
 - 2. मोतीलाल नेहरू
 - 3. डॉ. बी. आर. आंबेडकर
 - 4. जवाहरलाल नेहरू

Question Type : MCQ
Question ID : 630680292073
Option 1 ID : 6306801136175
Option 2 ID : 6306801136172
Option 3 ID : 6306801136173
Option 4 ID : 6306801136174
Status : Answered
Chosen Option : 3

Q.5 भारताची पहिली वंदे भारत एक्सप्रेस ट्रेन कोणत्या दोन स्थानकांदरम्यान धावली?

- Ans
- 1. नवी दिल्ली - वाराणसी
 - 2. नवी दिल्ली - लखनौ
 - 3. नवी दिल्ली - कटरा
 - 4. भुवनेश्वर - पुरी

Question Type : MCQ
Question ID : 630680292071
Option 1 ID : 6306801136164
Option 2 ID : 6306801136166
Option 3 ID : 6306801136165
Option 4 ID : 6306801136167
Status : Answered
Chosen Option : 1

Q.6 कोणाची निवड ही संसदेच्या दोन्ही सभागृहांच्या तसेच राज्य विधानसभेच्या निर्वाचित सदस्यांचा समावेश असलेल्या एका निर्वाचक गणाकडून अप्रत्यक्षपणे केली जाते?

- Ans
- 1. राज्यपाल
 - 2. मुख्यमंत्री
 - 3. पंतप्रधान
 - 4. भारताचे राष्ट्रपती

Question Type : MCQ

Question ID : 630680292074

Option 1 ID : 6306801136178

Option 2 ID : 6306801136179

Option 3 ID : 6306801136177

Option 4 ID : 6306801136176

Status : Answered

Chosen Option : 4

Q.7 एका उत्पादिताचे दुसऱ्या उत्पादितात रूपांतर होण्याच्या दराला काय म्हणतात?

- Ans
- 1. PRT
 - 2. SRT
 - 3. QRT
 - 4. MRT

Question Type : MCQ

Question ID : 630680292068

Option 1 ID : 6306801136153

Option 2 ID : 6306801136154

Option 3 ID : 6306801136155

Option 4 ID : 6306801136152

Status : Answered

Chosen Option : 1

Q.8 धुळे उठाव हा प्रामुख्याने खालीलपैकी कोणत्या राज्याशी संबंधित होता?

- Ans
- 1. उत्तर प्रदेश
 - 2. पश्चिम बंगाल
 - 3. महाराष्ट्र
 - 4. गुजरात

Question Type : MCQ

Question ID : 630680292079

Option 1 ID : 6306801136196

Option 2 ID : 6306801136197

Option 3 ID : 6306801136199

Option 4 ID : 6306801136198

Status : Answered

Chosen Option : 3

Q.9 खालीलपैकी कोणती नदी प्रामुख्याने महाराष्ट्राशी संबंधित आहे?

- Ans 1. यमुना
 2. गंगा
 3. गोदावरी
 4. ब्रह्मपुत्रा

Question Type : MCQ

Question ID : 630680292075

Option 1 ID : 6306801136182

Option 2 ID : 6306801136180

Option 3 ID : 6306801136181

Option 4 ID : 6306801136183

Status : Answered

Chosen Option : 3

Q.10 भारतातील कोणत्या घाटांना 'सह्याद्री' पर्वतरांगा असे देखील म्हटले जाते?

- Ans 1. पूर्वेकडील
 2. दक्षिणेकडील
 3. पश्चिमेकडील
 4. उत्तरेकडील

Question Type : MCQ

Question ID : 630680292076

Option 1 ID : 6306801136186

Option 2 ID : 6306801136187

Option 3 ID : 6306801136184

Option 4 ID : 6306801136185

Status : Answered

Chosen Option : 3

Q.11 उत्तर भारतात लोकप्रिय झालेल्या मंदिर स्थापत्य शैलीला कोणत्या नावाने ओळखले जाते?

- Ans 1. गोपुरम
 2. विमान
 3. द्रविड
 4. नागर

Question Type : MCQ

Question ID : 630680292067

Option 1 ID : 6306801136151

Option 2 ID : 6306801136150

Option 3 ID : 6306801136148

Option 4 ID : 6306801136149

Status : Answered

Chosen Option : 1

Q.12 पहिला हिंदू विधवा पुनर्विवाह अधिनियम खालीलपैकी कोणत्या वर्षी लागू करण्यात आला होता?

- Ans 1. 1875
 2. 1865
 3. 1858
 4. 1856

Question Type : MCQ

Question ID : 630680292066

Option 1 ID : 6306801136147

Option 2 ID : 6306801136146

Option 3 ID : 6306801136145

Option 4 ID : 6306801136144

Status : Answered

Chosen Option : 4

Q.13 ठराविक मार्गावरील दोन क्षेत्रांमधील लोकांनी त्यांच्या गुरांसह केलेल्या हंगामी स्थलांतरास काय म्हणतात?

- Ans 1. शहर ते शहर
 2. ग्रामीण ते ग्रामीण
 3. ऋतुचरण स्थलांतर
 4. वयानुसार स्थलांतर

Question Type : MCQ

Question ID : 630680292072

Option 1 ID : 6306801136168

Option 2 ID : 6306801136171

Option 3 ID : 6306801136170

Option 4 ID : 6306801136169

Status : Answered

Chosen Option : 3

Q.14 अरबी समुद्राच्या शाखेच्या मार्गात कोणती पर्वतरांग अडथळा म्हणून कार्य करते?

- Ans 1. बंगालचा उपसागर
 2. पूर्व घाट
 3. अरबी समुद्र
 4. राजमहाल टेकड्या

Question Type : MCQ

Question ID : 630680292069

Option 1 ID : 6306801136157

Option 2 ID : 6306801136156

Option 3 ID : 6306801136158

Option 4 ID : 6306801136159

Status : Answered

Chosen Option : 4

Q.15 गुगामल राष्ट्रीय उद्यान महाराष्ट्रातील खालीलपैकी कोणत्या जिल्ह्यात आहे?

- Ans 1. जळगाव
 2. नांदेड
 3. सोलापूर
 4. अमरावती

Question Type : MCQ

Question ID : 630680292078

Option 1 ID : 6306801136194

Option 2 ID : 6306801136193

Option 3 ID : 6306801136195

Option 4 ID : 6306801136192

Status : Answered

Chosen Option : 4

Section : Mental Ability

Q.1 'LIBERATE' या शब्दात, (पुढे तसेच मागे अशा दोन्ही दिशांनी) अशा किती अक्षर जोड्या आहेत, ज्यांत शब्दातील त्यांच्यादरम्यानच्या अक्षरांची संख्या ही इंग्रजी वर्णक्रमातील त्यांच्यादरम्यानच्या अक्षरांच्या संख्येइतकीच आहे?

- Ans 1. 2
 2. 3
 3. 0
 4. 1

Question Type : MCQ

Question ID : 630680292087

Option 1 ID : 6306801136230

Option 2 ID : 6306801136231

Option 3 ID : 6306801136228

Option 4 ID : 6306801136229

Status : Answered

Chosen Option : 1

Q.2 दिलेल्या मालिकेत रिकाम्या जागी क्रमवार भरल्यास ती मालिका पूर्ण करणारे अक्षरांचे संयोजन निवडा.

TM_ _UTMCP_ _MCPUT_CP_

- Ans 1. CPUTMU
 2. CPCTMU
 3. CPUTMC
 4. CPUTUU

Question Type : MCQ

Question ID : 630680292082

Option 1 ID : 6306801136210

Option 2 ID : 6306801136209

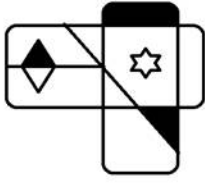
Option 3 ID : 6306801136211

Option 4 ID : 6306801136208

Status : Answered

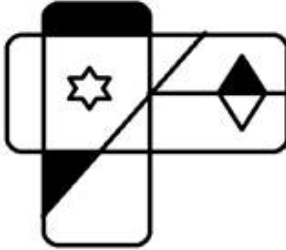
Chosen Option : 1

Q.3 दिलेल्या आकृतीच्या उजव्या बाजूला आरसा ठेवल्यावर मिळणारी अचूक दर्पण प्रतिमा निवडा.

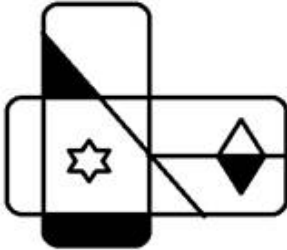


Ans

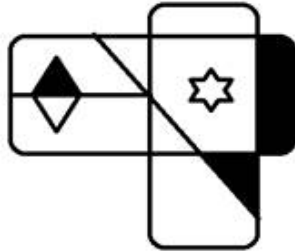
✓ 1.



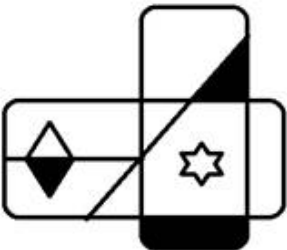
✗ 2.



✗ 3.



✗ 4.



Question Type : MCQ

Question ID : 630680292091

Option 1 ID : 6306801136247

Option 2 ID : 6306801136246

Option 3 ID : 6306801136244

Option 4 ID : 6306801136245

Status : Answered

Chosen Option : 1

Q.4 दिलेल्या शब्दजोडीमध्ये असलेल्या सहसंबंधाच्या समान सहसंबंध दर्शविणारी शब्दजोडी असलेला पर्याय निवडा.

दूध : चीज

- Ans
- ✗ 1. गहू : अन्न
 - ✗ 2. लिंबू : रस
 - ✓ 3. ऊस : गूळ
 - ✗ 4. बटर : ब्रेड

Question Type : MCQ

Question ID : 630680292083

Option 1 ID : 6306801136212

Option 2 ID : 6306801136214

Option 3 ID : 6306801136215

Option 4 ID : 6306801136213

Status : Answered

Chosen Option : 3

Q.5 खालील समीकरण बरोबर करण्यासाठी कोणत्या दोन चिन्हांची अदलाबदल केली पाहिजे?

$$7 \div 6 + 15 \times 3 - 5 = 42$$

- Ans
- ✗ 1. + आणि -
 - ✗ 2. + आणि ×
 - ✓ 3. × आणि ÷
 - ✗ 4. ÷ आणि +

Question Type : MCQ

Question ID : 630680292094

Option 1 ID : 6306801136257

Option 2 ID : 6306801136259

Option 3 ID : 6306801136258

Option 4 ID : 6306801136256

Status : Answered

Chosen Option : 3

Q.6 MK 18 हे JH 21 शी एका विशिष्ट प्रकारे संबंधित आहे. त्याचप्रकारे, PN 17 हे MK 20 शी संबंधित आहे. या समान तर्काचे अनुसरण केल्यास, US 15 हे खालीलपैकी कशाशी संबंधित आहे?

- Ans
- 1. SQ 18
 - 2. PR 20
 - 3. QP 19
 - 4. RP 18

Question Type : MCQ

Question ID : 630680292084

Option 1 ID : 6306801136219

Option 2 ID : 6306801136217

Option 3 ID : 6306801136216

Option 4 ID : 6306801136218

Status : Answered

Chosen Option : 1

Q.7

- + B म्हणजे 'O हा B चा भाऊ आहे',
- B म्हणजे 'O हे B चे वडील आहेत',
- × B म्हणजे 'O ही B ची आई आहे',
- ÷ B म्हणजे 'O ही B ची मुलगी आहे'.

खालील समीकरणात P चे M सोबत काय नाते आहे?

$$K + P \times O \div L - N + M$$

- Ans
- 1. वडिलांच्या भावाची मुलगी
 - 2. वडिलांची बहीण
 - 3. बहीण
 - 4. आई

Question Type : MCQ

Question ID : 630680292088

Option 1 ID : 6306801136232

Option 2 ID : 6306801136235

Option 3 ID : 6306801136233

Option 4 ID : 6306801136234

Status : Answered

Chosen Option : 4

Q.8 एके सकाळी पौर्णिमा तिच्या सावलीच्या दिशेने चालू लागली. 400 मीटर चालल्यानंतर, ती उत्तरेकडे वळली आणि 400 मीटर चालत गेली. नंतर ती तिच्या उजवीकडे वळली आणि 600 मीटर चालत गेली. नंतर ती दक्षिणेकडे वळली आणि 600 मीटर चालत गेली. शेवटी, ती तिच्या उजवीकडे वळली आणि 200 मीटर चालत गेली. ती आता तिच्या सुरुवातीच्या बिंदूपासून किती अंतरावर आणि कोणत्या दिशेला आहे?

- Ans
- ✓ 1. 200 मीटर, दक्षिण
 - ✗ 2. 200 मीटर, उत्तर
 - ✗ 3. 400 मीटर, दक्षिण
 - ✗ 4. 400 मीटर, पूर्व

Question Type : MCQ
Question ID : 630680292090
Option 1 ID : 6306801136243
Option 2 ID : 6306801136242
Option 3 ID : 6306801136241
Option 4 ID : 6306801136240
Status : Answered
Chosen Option : 1

Q.9 खालील मालिकेतील प्रश्नचिन्हांची (?) जागा घेऊ शकणारे अनुक्रमे अक्षर आणि संख्या निवडा.

S, 2, X, 7, C, 12, ?, 17, M, 22, R, ?

- Ans
- ✓ 1. H आणि 27
 - ✗ 2. H आणि 26
 - ✗ 3. G आणि 26
 - ✗ 4. F आणि 27

Question Type : MCQ
Question ID : 630680292081
Option 1 ID : 6306801136205
Option 2 ID : 6306801136204
Option 3 ID : 6306801136207
Option 4 ID : 6306801136206
Status : Answered
Chosen Option : 1

Q.10 खालील मालिकेत प्रश्नचिन्हाच्या (?) जागी येऊ शकणारी संख्या दिलेल्या पर्यायांतून निवडा.

1, 60, 121, 188, 259, 332, 411, 494, 583, ?

Ans ✓ 1. 680

✗ 2. 667

✗ 3. 653

✗ 4. 630

Question Type : MCQ

Question ID : 630680292092

Option 1 ID : 6306801136248

Option 2 ID : 6306801136251

Option 3 ID : 6306801136250

Option 4 ID : 6306801136249

Status : Answered

Chosen Option : 1

Q.11 'x' चा अर्थ बेरीज आहे,

'÷' चा अर्थ वजाबाकी आहे,

'+' चा अर्थ गुणाकार आहे, आणि,

'-' चा अर्थ भागाकार आहे.

तर खालील समीकरणात प्रश्नचिन्हाचे (?) मूल्य किती असेल?

$$7 + 5 \div 21 - 7 \times 13 = ?$$

Ans ✗ 1. 55

✗ 2. 99

✓ 3. 45

✗ 4. 25

Question Type : MCQ

Question ID : 630680292093

Option 1 ID : 6306801136255

Option 2 ID : 6306801136252

Option 3 ID : 6306801136254

Option 4 ID : 6306801136253

Status : Answered

Chosen Option : 3

Q.12 जर खालील 4 अंकी संख्यांमधील प्रत्येकीच्या डावीकडून पहिल्या आणि तिसऱ्या अंकांची अदलाबदल केली आणि परिणामी संख्यांना चढत्या क्रमाने लिहिले, तर मांडणीच्या अंतिमस्थानी कोणती संख्या येईल?

7465, 4657, 3657, 5767, 6456

Ans 1. 3657

2. 5767

3. 7465

4. 6456

Question Type : MCQ

Question ID : 630680292085

Option 1 ID : 6306801136220

Option 2 ID : 6306801136222

Option 3 ID : 6306801136223

Option 4 ID : 6306801136221

Status : Answered

Chosen Option : 2

Q.13 छायाचित्रातील एका पुरुषाकडे बोट दाखवत शिखा म्हणाली, "ते माझ्या एकुलत्या एका मुलाच्या वडिलांच्या आईचे पती आहेत." तर शिखाचे छायाचित्रातील त्या पुरुषाशी काय नाते आहे?

Ans 1. सून

2. वडिलांचा भाऊ

3. सासरे

4. वडील

Question Type : MCQ

Question ID : 630680292089

Option 1 ID : 6306801136236

Option 2 ID : 6306801136239

Option 3 ID : 6306801136237

Option 4 ID : 6306801136238

Status : Answered

Chosen Option : 3

Q.14 43 विद्यार्थ्यांच्या एका वर्गात, अन्विताचा क्रमांक शेवटून 37 वा आहे आणि ईवाचा क्रमांक सुरुवातीपासून 15 वा आहे. क्रमवारीत अन्विता आणि ईवा यांच्यादरम्यान किती विद्यार्थी आहेत?

Ans 1. 6

2. 5

3. 7

4. 9

Question Type : MCQ

Question ID : 630680292080

Option 1 ID : 6306801136203

Option 2 ID : 6306801136200

Option 3 ID : 6306801136201

Option 4 ID : 6306801136202

Status : Answered

Chosen Option : 3

Q.15 जर खालीलपैकी प्रत्येक अक्षर-समूहातील डावीकडून पहिल्या आणि चौथ्या अक्षरांची अदलाबदल केली आणि नंतर परिणामी अक्षर-समूहांना इंग्रजी शब्दकोशातील क्रमाने मांडले, तर मांडणीच्या मध्यस्थानी कोणता अक्षर-समूह येईल?

GETR, GDTR, GETY, GSBG, GCGD

- Ans 1. GDTR
 2. GETR
 3. GETY
 4. GCGD

Question Type : MCQ

Question ID : 630680292086

Option 1 ID : 6306801136225

Option 2 ID : 6306801136224

Option 3 ID : 6306801136227

Option 4 ID : 6306801136226

Status : Answered

Chosen Option : 1