

Answer Key for PCCF Recruitment Exam 31st July to 11th Aug 2023 for Objection Handling purpose only

Participant ID	
Participant Name	
Test Center Name	
Test Date	07/08/2023
Test Time	4:30 PM - 6:30 PM
Subject	Forest Guard

Section : Marathi Language

Q.1 पाटाचे पाणी झुळूझुळू वाहते. या वाक्यातील क्रियाविशेषण अव्यय कोणते?

- Ans
- 1. वाहते.
 - 2. पाणी
 - 3. पाटाचे
 - 4. झुळूझुळू

Question Type : MCQ

Question ID : 630680290553

Option 1 ID : 6306801130122

Option 2 ID : 6306801130120

Option 3 ID : 6306801130119

Option 4 ID : 6306801130121

Status : Answered

Chosen Option : 4

Q.2 चांगला अभ्यास करा. या वाक्याचा प्रकार कोणता?

- Ans 1. आज्ञार्थी
 2. स्वार्थी
 3. प्रश्नार्थी
 4. विधानार्थी

Question Type : MCQ

Question ID : 630680290552

Option 1 ID : 6306801130116

Option 2 ID : 6306801130118

Option 3 ID : 6306801130117

Option 4 ID : 6306801130115

Status : Answered

Chosen Option : 1

Q.3 खालीलपैकी प्रमाणलेखनानुसार अचूक शब्द कोणता आहे?

- Ans 1. साहाय्य
 2. साहाय
 3. सहाय
 4. सहाय्य

Question Type : MCQ

Question ID : 630680290544

Option 1 ID : 6306801130084

Option 2 ID : 6306801130086

Option 3 ID : 6306801130085

Option 4 ID : 6306801130083

Status : Answered

Chosen Option : 4

Q.4 जोडीने येणारे शब्द ओळखा.

- Ans 1. तक्रारतंटा
 2. भांडणतंटा
 3. तंटाघंटा
 4. भांडणकुंडी

Question Type : MCQ

Question ID : 630680290545

Option 1 ID : 6306801130088

Option 2 ID : 6306801130087

Option 3 ID : 6306801130089

Option 4 ID : 6306801130090

Status : Answered

Chosen Option : 2

Q.5 शेतकऱ्याने गवत कापून गवताचा _____ बांधला. या वाक्यातील रिकाम्या जागी कोणता शब्द असेल?

- Ans 1. भारा
 2. चारा
 3. मोळी
 4. ताटवा

Question Type : MCQ

Question ID : 630680290550

Option 1 ID : 6306801130107

Option 2 ID : 6306801130108

Option 3 ID : 6306801130110

Option 4 ID : 6306801130109

Status : Answered

Chosen Option : 1

Q.6 खालील शब्दसमूहाबद्दल योग्य शब्द कोणता ते ओळखा.

डोक्यावर मोरपिसांची टोपी, पायघोळ अंगरखा, एका हाताता चिपळ्या, दुसऱ्या हातात टाळ घेऊन अभंग गवळणी गात सकाळच्या प्रहरी घरोघर दान मागणारा.

- Ans 1. वासुदेव
 2. दरवेशी
 3. गारूडी
 4. पोतराज

Question Type : MCQ

Question ID : 630680290549

Option 1 ID : 6306801130106

Option 2 ID : 6306801130104

Option 3 ID : 6306801130103

Option 4 ID : 6306801130105

Status : Answered

Chosen Option : 1

Q.7 खालीलपैकी कोणती वाक्यरचना अचूक आहे?

- Ans 1. मला पुरणपोळी खूप आवडते.
 2. खूप आवडते मला पुरणपोळी.
 3. आवडते मला पुरणपोळी खूप.
 4. पुरणपोळी खूप आवडते मला.

Question Type : MCQ

Question ID : 630680290551

Option 1 ID : 6306801130111

Option 2 ID : 6306801130113

Option 3 ID : 6306801130112

Option 4 ID : 6306801130114

Status : Answered

Chosen Option : 1

Q.8 खालील वाक्यतील सामान्यनाम ओळखा?

माझी शाळा जवळ आहे.

- Ans 1. शाळा
 2. माझी
 3. आहे
 4. जवळ

Question Type : MCQ

Question ID : 630680290554

Option 1 ID : 6306801130124

Option 2 ID : 6306801130123

Option 3 ID : 6306801130126

Option 4 ID : 6306801130125

Status : Answered

Chosen Option : 1

Q.9 खालील म्हणीचा अर्थ सांगा.

बळी तो कान पिळी.

- Ans 1. कोठेही गेले तरी मनुष्यस्वभाव सारखाच.
 2. ज्याच्या अंगात सामर्थ्य आहे तो इतरांवर अंमल गाजवतो.
 3. नावडत्या माणसाने काहीही केले तरी ते वाईटच लागते.
 4. पुष्कळ लोक जे बोलतात ते खरे.

Question Type : MCQ

Question ID : 630680290546

Option 1 ID : 6306801130092

Option 2 ID : 6306801130091

Option 3 ID : 6306801130094

Option 4 ID : 6306801130093

Status : Answered

Chosen Option : 2

Q.10 खालील शब्दाचा विरुद्धार्थी शब्द ओळखा.

ज्ञात

- Ans 1. आडाणी
 2. अज्ञानी
 3. ज्ञानी
 4. अज्ञात

Question Type : MCQ

Question ID : 630680290542

Option 1 ID : 6306801130077

Option 2 ID : 6306801130076

Option 3 ID : 6306801130078

Option 4 ID : 6306801130075

Status : Answered

Chosen Option : 4

Q.11 खालील वाक्यातील सर्वनाम ओळखा.

वैभव माझा मित्र आहे. तो फार गुणी आहे.

- Ans 1. तो
 2. वैभव
 3. माझा
 4. मित्र

Question Type : MCQ

Question ID : 630680290555

Option 1 ID : 6306801130130

Option 2 ID : 6306801130129

Option 3 ID : 6306801130127

Option 4 ID : 6306801130128

Status : Answered

Chosen Option : 1

Q.12 खालीलपैकी प्रमाणलेखनानुसार अचूक शब्द कोणता आहे?

- Ans 1. पौलीस
 2. पोलिस
 3. पोलीस
 4. पौलिस

Question Type : MCQ

Question ID : 630680290543

Option 1 ID : 6306801130082

Option 2 ID : 6306801130081

Option 3 ID : 6306801130079

Option 4 ID : 6306801130080

Status : Answered

Chosen Option : 3

Q.13 'आकशपाताळ एक करणे' या वाक्यचाराचा अर्थ खालीलपैकी कोणता आहे?

- Ans 1. रागाने बेफाम होणे.
 2. आकस्मित आपत्ती येणे.
 3. मोठे काम करणे.
 4. नाहक आरडाओरडा करणे.

Question Type : MCQ

Question ID : 630680290547

Option 1 ID : 6306801130095

Option 2 ID : 6306801130096

Option 3 ID : 6306801130097

Option 4 ID : 6306801130098

Status : Answered

Chosen Option : 1

Q.14 'चोरवर मोर होणे' या वाक्यप्रचाराचा अर्थ खालीलपैकी कोणता आहे?

- Ans 1. मात करणे/ वरचढ होणे.
 2. स्वाधीन करणे.
 3. मायेने सांभाळणे.
 4. कैद होणे.

Question Type : MCQ

Question ID : 630680290548

Option 1 ID : 6306801130099

Option 2 ID : 6306801130102

Option 3 ID : 6306801130101

Option 4 ID : 6306801130100

Status : Answered

Chosen Option : 1

Q.15 खालील शब्दाचा समानार्थी शब्द ओळखा.

रस्ता

- Ans 1. चढण
 2. मार्ग
 3. अरी
 4. उतार

Question Type : MCQ

Question ID : 630680290541

Option 1 ID : 6306801130073

Option 2 ID : 6306801130072

Option 3 ID : 6306801130071

Option 4 ID : 6306801130074

Status : Marked For Review

Chosen Option : 2

Section : English Language

Q.1 Select the option that can be used as a one-word substitute for the underlined group of words.

As we entered, we noticed that the house looked ordinary and dull and not at all like we had imagined a star's house to be.

- Ans 1. dishevelled
 2. immaculate
 3. mundane
 4. pristine

Question Type : MCQ

Question ID : 630680290563

Option 1 ID : 6306801130162

Option 2 ID : 6306801130160

Option 3 ID : 6306801130161

Option 4 ID : 6306801130159

Status : Answered

Chosen Option : 3

Q.2 Select the most appropriate option to fill in the blank.

The drops of rain that _____ on the flower petals looked like pearls.

- Ans
- 1. fallen
 - 2. fell
 - 3. had fall
 - 4. have fell

Question Type : MCQ
Question ID : 630680290569
Option 1 ID : 6306801130185
Option 2 ID : 6306801130184
Option 3 ID : 6306801130183
Option 4 ID : 6306801130186
Status : Answered
Chosen Option : 2

Q.3 Select the correctly spelt sentence.

- Ans
- 1. The temporary helper demanded extra wages.
 - 2. The temprary helper demanded extra wages.
 - 3. The temporary helper demanded extra wages.
 - 4. The temporary helper demanded extra wages.

Question Type : MCQ
Question ID : 630680290559
Option 1 ID : 6306801130143
Option 2 ID : 6306801130145
Option 3 ID : 6306801130144
Option 4 ID : 6306801130146
Status : Answered
Chosen Option : 4

Q.4 Select the most appropriate meaning of the given idiom.

To make ends meet

- Ans
- 1. Close a stuffed bag with difficulty
 - 2. Help to settle a tricky problem
 - 3. Become an expert in mending things
 - 4. Earn just enough money to live on

Question Type : MCQ
Question ID : 630680290560
Option 1 ID : 6306801130150
Option 2 ID : 6306801130149
Option 3 ID : 6306801130147
Option 4 ID : 6306801130148
Status : Answered
Chosen Option : 3

Q.5 Select the most appropriate option to fill in the blank.

Silas was ____honest man.

- Ans 1. the
 2. an
 3. a
 4. No word required

Question Type : MCQ
Question ID : 630680290567
Option 1 ID : 6306801130175
Option 2 ID : 6306801130178
Option 3 ID : 6306801130177
Option 4 ID : 6306801130176
Status : Answered
Chosen Option : 3

Q.6 Select the most appropriate synonym of the given word.

Fabrication

- Ans 1. Falsehood
 2. Clothes
 3. Fact
 4. Gossip

Question Type : MCQ
Question ID : 630680290556
Option 1 ID : 6306801130132
Option 2 ID : 6306801130133
Option 3 ID : 6306801130131
Option 4 ID : 6306801130134
Status : Answered
Chosen Option : 2

Q.7 Sentences of a paragraph are given below in jumbled order. Arrange the sentences in the correct order to form a meaningful and coherent paragraph.

- A. Then, there are lots of the things we throw in the bin that take thousands of years to go away, so we must reuse whatever we can.
B. They are called 'the three Rs': Reduce! Reuse! Recycle!
C. First, we must not throw away too many things and make too much rubbish.
D. There are three simple ways in which we can look after our planet.

- Ans 1. ACDB
 2. CBDA
 3. DBCA
 4. BDCA

Question Type : MCQ
Question ID : 630680290565
Option 1 ID : 6306801130167
Option 2 ID : 6306801130169
Option 3 ID : 6306801130170
Option 4 ID : 6306801130168
Status : Answered
Chosen Option : 2

Q.8 Select the most appropriate option to fill in the blank.

Riya got ____second prize in the competition.

- Ans 1. the
 2. an
 3. No word required
 4. a

Question Type : MCQ
Question ID : 630680290566
Option 1 ID : 6306801130173
Option 2 ID : 6306801130172
Option 3 ID : 6306801130174
Option 4 ID : 6306801130171
Status : Answered
Chosen Option : 1

Q.9 Select the most appropriate option to fill in the blank.

The kitten slept ____on the warm cushion.

- Ans 1. comfortably
 2. completely
 3. utterly
 4. solely

Question Type : MCQ
Question ID : 630680290570
Option 1 ID : 6306801130187
Option 2 ID : 6306801130188
Option 3 ID : 6306801130189
Option 4 ID : 6306801130190
Status : Answered
Chosen Option : 2

Q.10 Select the most appropriate ANTONYM of the given word.

Crammed

- Ans 1. Shallow
 2. Broken
 3. Empty
 4. Heavy

Question Type : MCQ
Question ID : 630680290557
Option 1 ID : 6306801130135
Option 2 ID : 6306801130136
Option 3 ID : 6306801130137
Option 4 ID : 6306801130138
Status : Answered
Chosen Option : 3

Q.11 Select the correctly spelt sentence.

- Ans 1. He remained quiet when he was scolded.
 2. He remained quiet when he was scolded.
 3. He remmained quiet when he was scolded.
 4. He remaned quiet when he was scolded.

Question Type : MCQ

Question ID : 630680290558

Option 1 ID : 6306801130141

Option 2 ID : 6306801130139

Option 3 ID : 6306801130142

Option 4 ID : 6306801130140

Status : Answered

Chosen Option : 2

Q.12 Sentences of a paragraph are given below in jumbled order. Arrange the sentences in the correct order to form a meaningful and coherent paragraph.

- A. Linda's picture is so colourful.
B. Against that, there is her portrait with so many details.
C. On the far right, there are some tall buildings which are all of different colours and shapes.
D. To begin with, in the background, there's the big blue sky.

- Ans 1. ABDC
 2. ACDB
 3. ACBD
 4. ADBC

Question Type : MCQ

Question ID : 630680290564

Option 1 ID : 6306801130165

Option 2 ID : 6306801130166

Option 3 ID : 6306801130163

Option 4 ID : 6306801130164

Status : Answered

Chosen Option : 1

Q.13 Select the most appropriate option to fill in the blank.

The jug slipped _____ my hand and broke.

- Ans 1. by
 2. at
 3. with
 4. from

Question Type : MCQ

Question ID : 630680290568

Option 1 ID : 6306801130180

Option 2 ID : 6306801130182

Option 3 ID : 6306801130181

Option 4 ID : 6306801130179

Status : Answered

Chosen Option : 3

Q.14 Select the option that can be used as a one-word substitute for the underlined group of words.

He gave them instructions which were spoken not written.

- Ans 1. said
 2. sound
 3. oral
 4. replied

Question Type : MCQ
Question ID : 630680290562
Option 1 ID : 6306801130156
Option 2 ID : 6306801130157
Option 3 ID : 6306801130155
Option 4 ID : 6306801130158
Status : Answered
Chosen Option : 4

Q.15 Select the most appropriate meaning of the given proverb.

All that glitters is not gold.

- Ans 1. Do not judge things by their outer appearance.
 2. Gold should always be polished to make it shine.
 3. Everybody is not as clever as they say.
 4. These days gold is being adulterated.

Question Type : MCQ
Question ID : 630680290561
Option 1 ID : 6306801130153
Option 2 ID : 6306801130154
Option 3 ID : 6306801130152
Option 4 ID : 6306801130151
Status : Answered
Chosen Option : 1

Section : General Knowledge

Q.1 खालीलपैकी कोणते/ती विधान/ने भारताच्या न्यायव्यवस्थेच्या संदर्भात योग्य आहे/आहेत?

I. भारतीय संविधानात एकाच एकात्मिक न्यायव्यवस्थेची तरतूद आहे.

II. भारतात स्वतंत्र राज्य न्यायालये नाहीत.

- Ans 1. फक्त विधान II योग्य आहे.
 2. फक्त विधान I योग्य आहे.
 3. I आणि II ही दोन्ही विधाने योग्य आहेत.
 4. I आणि II ही दोन्ही विधाने योग्य नाहीत.

Question Type : MCQ
Question ID : 630680290580
Option 1 ID : 6306801130230
Option 2 ID : 6306801130229
Option 3 ID : 6306801130227
Option 4 ID : 6306801130228
Status : Answered
Chosen Option : 3

Q.2 खालीलपैकी कोणत्या दशकात भारतातील लोकसंख्यावाढीचा दर ऋण होता?

- Ans 1. 1951-1961
 2. 1981-1991
 3. 1911-1921
 4. 1941-1951

Question Type : MCQ

Question ID : 630680290578

Option 1 ID : 6306801130219

Option 2 ID : 6306801130222

Option 3 ID : 6306801130221

Option 4 ID : 6306801130220

Status : Answered

Chosen Option : 4

Q.3 भारतीय रिझर्व्ह बँकेच्या संदर्भात, खालीलपैकी कोणते योग्य नाही?

- Ans 1. ती सरकारची बँकर म्हणून कार्य करते.
 2. ती देशाचे चलन जारी करते.
 3. 1951 मध्ये भारताची मध्यवर्ती बँक स्थापन झाली; तिचे नाव 'भारतीय रिझर्व्ह बँक' आहे.
 4. ती अर्थव्यवस्थेच्या परकीय चलनाच्या साठ्याची संरक्षक असते.

Question Type : MCQ

Question ID : 630680290574

Option 1 ID : 6306801130205

Option 2 ID : 6306801130204

Option 3 ID : 6306801130203

Option 4 ID : 6306801130206

Status : Answered

Chosen Option : 3

Q.4 नर्मदा नदी महाराष्ट्राच्या _____ सीमेच्या बाजूने वाहते.

- Ans 1. पश्चिम
 2. दक्षिण
 3. उत्तर
 4. पूर्व

Question Type : MCQ

Question ID : 630680290582

Option 1 ID : 6306801130238

Option 2 ID : 6306801130236

Option 3 ID : 6306801130235

Option 4 ID : 6306801130237

Status : Answered

Chosen Option : 1

Q.5 दुसऱ्या महायुद्धादरम्यान भारताच्या स्वातंत्र्यलढ्याच्या संदर्भात खालीलपैकी कोणते/ती विधान/ने योग्य आहे/आहेत?

I. दुसऱ्या महायुद्धाच्या मध्यात, महात्मा गांधींनी ब्रिटीशांविरुधातील चळवळीचा एक नवीन टप्पा सुरू करण्याचा निर्णय घेतला आणि सांगितले की, ब्रिटीशांनी ताबडतोब भारत सोडला पाहिजे.

II. भारतातील जनतेला महात्मा गांधी म्हणाले, "ब्रिटीशांशी लढण्याच्या प्रयत्नात करा किंवा मरा - तुमचे स्वातंत्र्य मिळवण्यासाठी, हिंसक आणि अहिंसक, दोन्हीपैकी कोणत्याही प्रकारे लढा.

- Ans
- 1. I आणि II ही दोन्ही विधाने योग्य आहेत.
 - 2. फक्त विधान I योग्य आहे.
 - 3. I आणि II ही दोन्ही विधाने योग्य नाहीत.
 - 4. फक्त विधान II योग्य आहे.

Question Type : MCQ

Question ID : 630680290572

Option 1 ID : 6306801130197

Option 2 ID : 6306801130195

Option 3 ID : 6306801130198

Option 4 ID : 6306801130196

Status : Answered

Chosen Option : 1

Q.6 हिंदुस्तान एरोनॉटिक्स लिमिटेड हा कोणत्या प्रकारचा उद्योग आहे?

- Ans
- 1. खाजगी क्षेत्रातील उद्योग
 - 2. सहकारी क्षेत्रातील उद्योग
 - 3. संयुक्त क्षेत्रातील उद्योग
 - 4. सार्वजनिक क्षेत्रातील उद्योग

Question Type : MCQ

Question ID : 630680290577

Option 1 ID : 6306801130215

Option 2 ID : 6306801130218

Option 3 ID : 6306801130217

Option 4 ID : 6306801130216

Status : Answered

Chosen Option : 2

Q.7 भारतीय संविधानाच्या प्रस्तावनेत काही विशिष्ट स्वातंत्र्यांचा उल्लेख आहे. खालीलपैकी कोणते त्यापैकी एक नाही?

- Ans
- 1. विचार
 - 2. श्रद्धा व उपासना
 - 3. कृती
 - 4. अभिव्यक्ती

Question Type : MCQ

Question ID : 630680290579

Option 1 ID : 6306801130223

Option 2 ID : 6306801130226

Option 3 ID : 6306801130225

Option 4 ID : 6306801130224

Status : Answered

Chosen Option : 3

Q.8 स्तूपांच्या संदर्भात खालीलपैकी कोणते विधान योग्य नाही?

- Ans 1. स्तूपाचा उगम जमिनीच्या एका सामान्य अर्धवर्तुळाकार टेकाडाच्या (mound) रुपात झाला, ज्याला नंतर अंड म्हटले गेले.
2. हर्मिकेतून उत्पन्न होणारा यष्टी नावाचा एक डोलखांब (mast) असे, ज्याला बहुधा छत्री किंवा छत्राने वेढलेले असे.
3. टेकाडाच्या भोवती एक कठडा होता, जो त्या पवित्र स्थानास ऐहिक जगापासून वेगळे करत असे.
4. अंडाच्या वर हर्मिका ही सज्जासारखी रचना होती, जी जीवात्मा आणि आत्म्यांच्या निवासस्थानाचे प्रतिनिधित्व करते.

Question Type : MCQ

Question ID : 630680290573

Option 1 ID : 6306801130199

Option 2 ID : 6306801130201

Option 3 ID : 6306801130202

Option 4 ID : 6306801130200

Status : Answered

Chosen Option : 3

Q.9 वन सर्वेक्षण अहवाल 2021 च्या माहितीनुसार, भारतातील कोणत्या राज्यात क्षेत्रफळानुसार सर्वाधिक वनाच्छादित क्षेत्र आहे?

- Ans 1. तामिळनाडू
2. मध्यप्रदेश
3. उत्तर प्रदेश
4. पश्चिम बंगाल

Question Type : MCQ

Question ID : 630680290575

Option 1 ID : 6306801130210

Option 2 ID : 6306801130208

Option 3 ID : 6306801130209

Option 4 ID : 6306801130207

Status : Answered

Chosen Option : 2

Q.10 महाराष्ट्राच्या शेजारील राज्यांच्या संदर्भात खालीलपैकी कोणते योग्य नाही?

- Ans 1. महाराष्ट्राच्या आग्नेयेस ओडिशा आहे.
2. महाराष्ट्राच्या दक्षिण दिशेला कर्नाटक आणि गोवा आहे.
3. महाराष्ट्राच्या उत्तर बाजूला मध्य प्रदेश आहे.
4. महाराष्ट्राच्या वायव्येला गुजरात आहे.

Question Type : MCQ

Question ID : 630680290581

Option 1 ID : 6306801130233

Option 2 ID : 6306801130234

Option 3 ID : 6306801130232

Option 4 ID : 6306801130231

Status : Answered

Chosen Option : 1

Q.11 भारतीय सिंहाचा नैसर्गिक अधिवास _____ आहे.

- Ans 1. गुजरातमधील गीर जंगलात
 2. उत्तराखंडमधील कॉर्बेट पार्कमध्ये
 3. मध्यप्रदेशातील जंगलात
 4. पश्चिम बंगालच्या सुंदरबनात

Question Type : MCQ

Question ID : 630680290576

Option 1 ID : 6306801130211

Option 2 ID : 6306801130212

Option 3 ID : 6306801130213

Option 4 ID : 6306801130214

Status : Answered

Chosen Option : 2

Q.12 महाराष्ट्रातील जलविद्युत प्रकल्पांच्या संदर्भात खालीलपैकी कोणते/ती विधान/ने योग्य आहे/आहेत?

- I. भिरा धरण हे महाराष्ट्रातील रायगड जिल्ह्यात, भारताच्या पश्चिम किनारपट्टीजवळील रोहा तालुक्यात आहे.
II. धोम धरण महाराष्ट्रातील सातारा जिल्ह्यातील वाई येथील कृष्णा नदीजवळ आहे.

- Ans 1. फक्त विधान I योग्य आहे.
 2. I आणि II दोन्ही विधाने योग्य आहेत.
 3. I आणि II दोन्ही विधाने योग्य नाहीत.
 4. फक्त विधान II योग्य आहे.

Question Type : MCQ

Question ID : 630680290584

Option 1 ID : 6306801130243

Option 2 ID : 6306801130246

Option 3 ID : 6306801130245

Option 4 ID : 6306801130244

Status : Answered

Chosen Option : 2

Q.13 लहुजी वस्ताद किंवा लहुजी राघोबा साळवे यांच्याबद्दल खालीलपैकी कोणते विधान योग्य नाही?

- Ans 1. ते स्वातंत्र्यसैनिक होते.
 2. लहुजी वस्ताद किंवा लहुजी राघोबा साळवे हे ब्राह्मण कार्यकर्ते होते.
 3. ते धर्मोपदेशक होते.
 4. ते निपुण कुस्तीपटू होते.

Question Type : MCQ

Question ID : 630680290585

Option 1 ID : 6306801130249

Option 2 ID : 6306801130247

Option 3 ID : 6306801130248

Option 4 ID : 6306801130250

Status : Answered

Chosen Option : 1

Q.14 महाराष्ट्रातील दख्खनच्या पठारी प्रदेशाबद्दल खालीलपैकी कोणते विधान योग्य नाही?

- Ans 1. पठाराची उंचीचा पल्ला 1450 पासून 1750 मीटरपर्यंत आहे.
2. या पठारावरील खडक अग्निज प्रकारचे आहेत, त्यात प्रामुख्याने बेसाल्ट आणि ग्रॅनाइटचा समावेश आहे.
3. महाराष्ट्र राज्याचा एक मोठा प्रदेश हा दख्खनच्या पठाराच्या उच्चभूमीने व्यापलेला आहे.
4. पठाराच्या उत्तरेला सातपुडा पर्वतरांगा आहेत.

Question Type : MCQ
Question ID : 630680290583
Option 1 ID : 6306801130242
Option 2 ID : 6306801130241
Option 3 ID : 6306801130240
Option 4 ID : 6306801130239
Status : Answered
Chosen Option : 1

Q.15 खालीलपैकी कोणता उपक्रम असहकार चळवळीचा भाग नव्हता?

- Ans 1. ब्रिटीश पदव्या आत्मसमर्पित केल्या गेल्या.
2. ब्रिटीश विधानमंडळावर बहिष्कार टाकण्यात आला.
3. मोतीलाल नेहरू आणि सी.आर. दास यांसारख्या अनेक वकिलांनी त्यांचा सराव गांधीयाने घेतला.
4. लोकांनी परदेशी कपड्यांच्या सार्वजनिक होळ्या पेटवल्या.

Question Type : MCQ
Question ID : 630680290571
Option 1 ID : 6306801130192
Option 2 ID : 6306801130193
Option 3 ID : 6306801130191
Option 4 ID : 6306801130194
Status : Answered
Chosen Option : 4

Section : Mental Ability

Q.1 जर खालीलपैकी प्रत्येक अक्षर-समूहातील डावीकडून पहिल्या आणि तिसऱ्या अक्षरांची अदलाबदल केली आणि नंतर परिणामी अक्षर-समूहांना शब्दकोशातील क्रमाने मांडले, तर मांडणीच्या अंतिमस्थानी कोणता अक्षर-समूह येईल?

NFGT, NFGY, HDFT, HRTD, HRTF

- Ans 1. HRTD
2. HDFT
3. NFGT
4. NFGY

Question Type : MCQ
Question ID : 630680290591
Option 1 ID : 6306801130272
Option 2 ID : 6306801130271
Option 3 ID : 6306801130274
Option 4 ID : 6306801130273
Status : Answered
Chosen Option : 4

Q.2 चार अक्षर-समूह दिले आहेत, ज्यापैकी तीन एका विशिष्ट तऱ्हेने समान आहेत आणि एक वेगळा आहे. गटात न बसणारा अक्षर-समूह शोधा.

- Ans 1. AEI
 2. DHL
 3. FJN
 4. IUT

Question Type : MCQ

Question ID : 630680290590

Option 1 ID : 6306801130268

Option 2 ID : 6306801130267

Option 3 ID : 6306801130270

Option 4 ID : 6306801130269

Status : Answered

Chosen Option : 4

Q.3 ज्याप्रमाणे दुसरा अक्षर-समूह पहिल्या अक्षर-समूहाशी संबंधित आहे, त्याचप्रमाणे तिसऱ्या अक्षर-समूहाशी संबंधित असलेला पर्याय निवडा.

BTMR : BMRT :: JKRY : ?

- Ans 1. KJRY
 2. KYRJ
 3. JKRY
 4. KJYR

Question Type : MCQ

Question ID : 630680290589

Option 1 ID : 6306801130266

Option 2 ID : 6306801130265

Option 3 ID : 6306801130264

Option 4 ID : 6306801130263

Status : Answered

Chosen Option : 3

Q.4 जर खालील शृंखलेतील चिन्हांची जागा न बदलता त्यातील सर्व संख्या उतरत्या क्रमाने लिहिल्या, तर त्यात अशा किती विषम संख्या असतील, ज्यांच्या ताबडतोब आधी आणि नंतर चिन्हे असतील?

4, @, #, 1, @, \$, 7, %, 1, &, 4, %, @, 2, \$, %, 7, #, 9, @, 3, 3, @, #, 5, %, 8, #, 2, #, \$, 7, #

- Ans 1. 2
 2. 5
 3. 6
 4. 3

Question Type : MCQ

Question ID : 630680290593

Option 1 ID : 6306801130279

Option 2 ID : 6306801130281

Option 3 ID : 6306801130282

Option 4 ID : 6306801130280

Status : Answered

Chosen Option : 3

Q.5 खालील मालिकेतील प्रश्नचिन्हाच्या (?) जागी येऊ शकेल असे पद दिलेल्या पर्यायांतून निवडा.

AEM2, MQY4, YCK6, ?

- Ans 1. KOW8
 2. KPW8
 3. COW8
 4. KOV8

Question Type : MCQ

Question ID : 630680290587

Option 1 ID : 6306801130258

Option 2 ID : 6306801130255

Option 3 ID : 6306801130257

Option 4 ID : 6306801130256

Status : Answered

Chosen Option : 1

Q.6 जर खालील शृंखलेतील सर्व विषम संख्या लिहिल्यानंतर मालिकेतील सर्व सम संख्या चढत्या क्रमाने लिहिल्या, तर डावीकडून सातव्या संख्येच्या उजवीकडे चौथी संख्या कोणती असेल?

(डावे) 1, 6, 9, 3, 1, 1, 3, 3, 6, 1, 2, 3, 4, 7, 7, 8, 8, 8, 5, 5, 2, 3 (उजवे)

- Ans 1. 3
 2. 4
 3. 5
 4. 7

Question Type : MCQ

Question ID : 630680290592

Option 1 ID : 6306801130275

Option 2 ID : 6306801130278

Option 3 ID : 6306801130276

Option 4 ID : 6306801130277

Status : Answered

Chosen Option : 1

Q.7 जर

$A > B$ म्हणजे A हे B चे वडील आहेत,
 $A < B$ म्हणजे A ही B ची आई आहे,
 A / B म्हणजे A ही B ची बहीण आहे आणि
 $A \setminus B$ म्हणजे A हा B चा भाऊ आहे,

तर खालील पदावलीत M चे Q सोबत काय नाते आहे?

$M > N \setminus O / P > Q < R$

- Ans 1. आईचे वडील
 2. वडिलांचे वडील
 3. वडील
 4. काका (वडिलांचा भाऊ)

Question Type : MCQ

Question ID : 630680290595

Option 1 ID : 6306801130288

Option 2 ID : 6306801130289

Option 3 ID : 6306801130287

Option 4 ID : 6306801130290

Status : Answered

Chosen Option : 2

Q.8 खालील समीकरण अचूक करण्यासाठी कोणत्या दोन संख्यांची अदलाबदल केली पाहिजे?

$$9 - 6 \div 4 + 5 \times 8 = 37$$

- Ans 1. 6 आणि 8
 2. 9 आणि 4
 3. 5 आणि 8
 4. 6 आणि 5

Question Type : MCQ

Question ID : 630680290600

Option 1 ID : 6306801130308

Option 2 ID : 6306801130310

Option 3 ID : 6306801130309

Option 4 ID : 6306801130307

Status : Answered

Chosen Option : 1

Q.9 एका पुरुषाने एका मुलीची ओळख, त्याच्या वडिलांचे वडील यांच्या एकुलत्या एका मुलाची पत्नी अशी करून दिली. तर पुरुषाचे त्या मुलीशी काय नाते आहे?

- Ans 1. चुलतभाऊ (वडिलांच्या भावाचा मुलगा)
 2. वडील
 3. भाऊ
 4. मेहुणा (बहिणीचा नवरा)

Question Type : MCQ

Question ID : 630680290594

Option 1 ID : 6306801130285

Option 2 ID : 6306801130283

Option 3 ID : 6306801130284

Option 4 ID : 6306801130286

Status : Answered

Chosen Option : 2

Q.10 जर P चा अर्थ भागाकार आहे, Q चा अर्थ गुणाकार आहे, R चा अर्थ वजाबाकी आणि S चा अर्थ बेरीज आहे, तर खालील पदावलीचे मूल्य शोधा.

$$10 S 9 P 3 R 6 Q 8$$

- Ans 1. -35
 2. 35
 3. 41
 4. -41

Question Type : MCQ

Question ID : 630680290599

Option 1 ID : 6306801130305

Option 2 ID : 6306801130304

Option 3 ID : 6306801130306

Option 4 ID : 6306801130303

Status : Answered

Chosen Option : 1

Q.11 खालील मालिकेत प्रश्नचिन्हाच्या (?) जागी येऊ शकेल अशी संख्या दिलेल्या पर्यायांतून निवडा.

133, 124, 113, 100, 91, 80, 67, 58, 47, ?

- Ans 1. 23
 2. 36
 3. 34
 4. 32

Question Type : MCQ

Question ID : 630680290598

Option 1 ID : 6306801130302

Option 2 ID : 6306801130301

Option 3 ID : 6306801130299

Option 4 ID : 6306801130300

Status : Answered

Chosen Option : 3

Q.12 श्वेताने पूर्व दिशेला चालण्यास सुरुवात केली. ती 100 m चालली आणि नंतर तिच्या उजवीकडे वळली आणि 100 m चालली. नंतर ती तिच्या डावीकडे वळली आणि 100 m चालली. नंतर ती दक्षिणेकडे वळली आणि 100 m चालली. तिथून ती तिच्या उजवीकडे वळली आणि 150 m चालत गेली. शेवटी, ती तिच्या उजवीकडे वळली आणि 200 m चालली. आता ती तिच्या सुरुवातीच्या बिंदूपासून कोणत्या दिशेला आहे?

- Ans 1. उत्तर
 2. दक्षिण
 3. पूर्व
 4. पश्चिम

Question Type : MCQ

Question ID : 630680290596

Option 1 ID : 6306801130291

Option 2 ID : 6306801130294

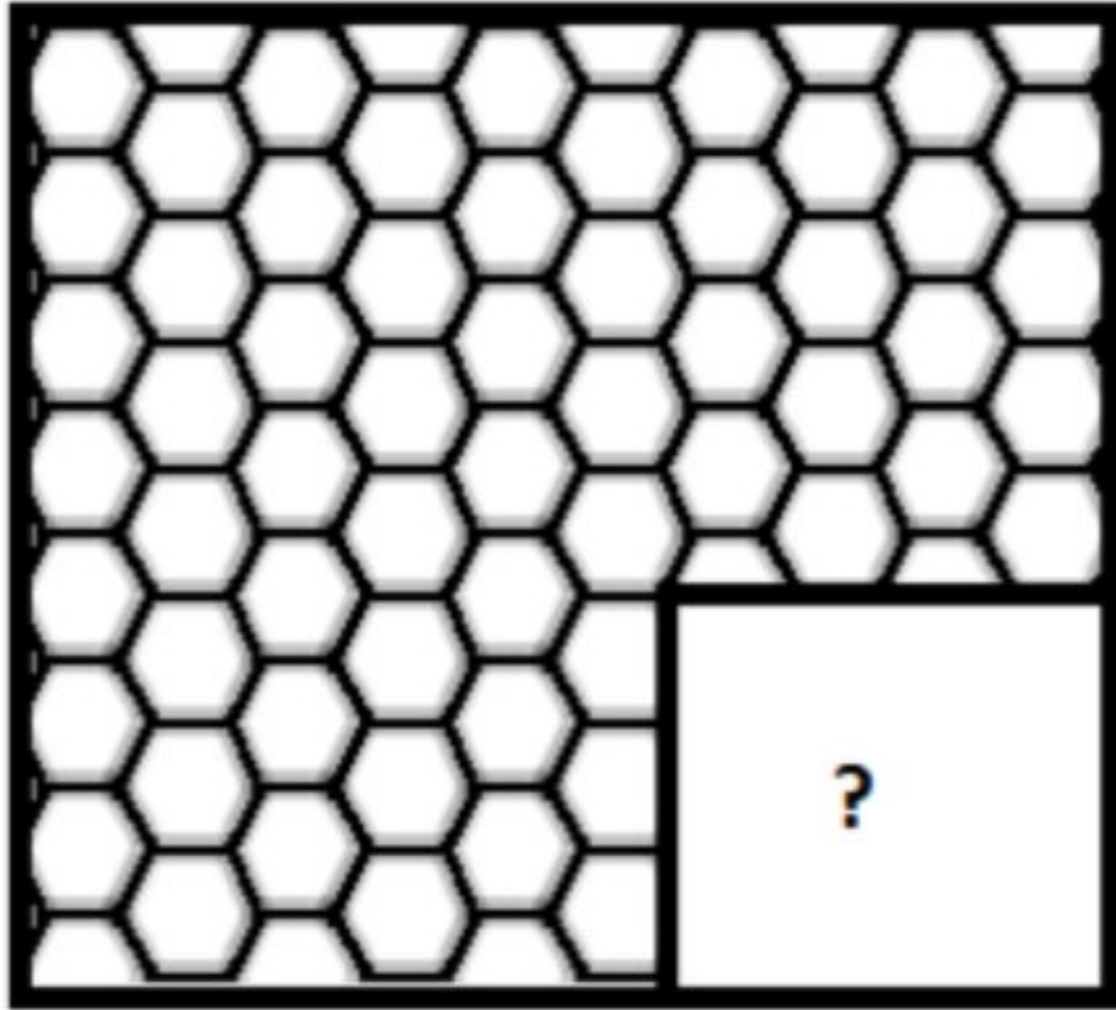
Option 3 ID : 6306801130293

Option 4 ID : 6306801130292

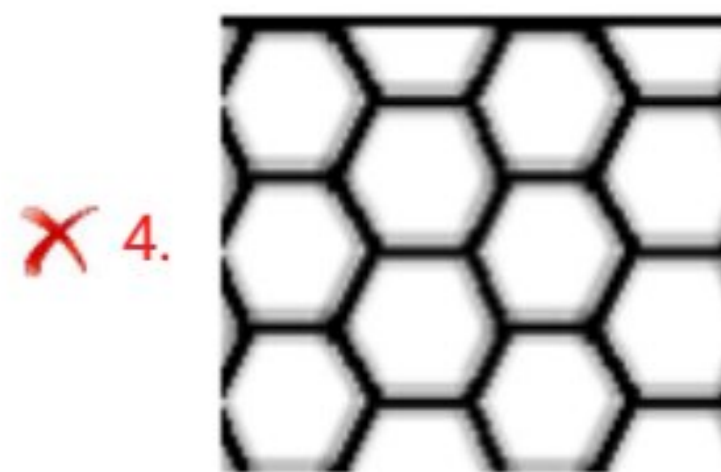
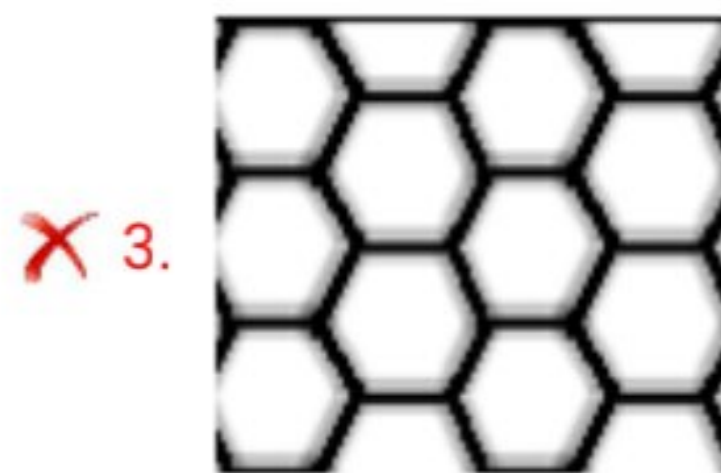
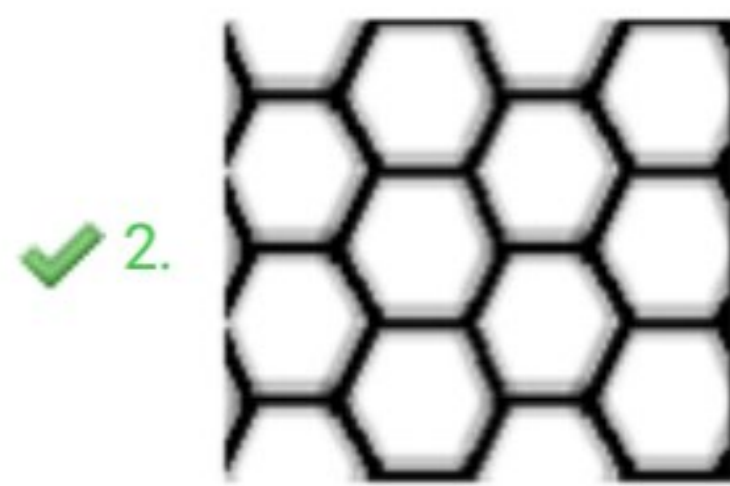
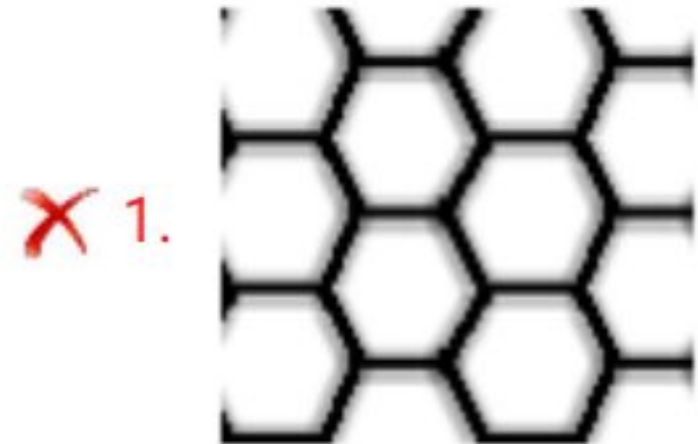
Status : Answered

Chosen Option : 1

Q.13 Select the figure from the options that can replace the question mark (?) and complete the given pattern.



Ans



Question Type : MCQ

Question ID : 630680290597

Option 1 ID : 6306801130298

Option 2 ID : 6306801130296

Option 3 ID : 6306801130295

Option 4 ID : 6306801130297

Status : Answered

Chosen Option : 2

Q.14 दिलेल्या मालिकेत रिकाम्या जागी क्रमवार भरल्यास ती मालिका पूर्ण करणारे अक्षरांचे संयोजन निवडा.

NN_ONNM___NMNO

- Ans 1. MNNOO
 2. MNNON
 3. ONNON
 4. MMNON

Question Type : MCQ

Question ID : 630680290588

Option 1 ID : 6306801130261

Option 2 ID : 6306801130259

Option 3 ID : 6306801130262

Option 4 ID : 6306801130260

Status : Answered

Chosen Option : 2

Q.15 एका वर्गात, हिमांशूचा क्रमांक हा मोहनपेक्षा दोन स्थाने मागे असून मोहनचा क्रमांक हा सुरुवातीपासून 12 वा आहे. हिमांशूचा क्रमांक शेवटून 6 वा आहे. तर वर्गात किती विद्यार्थी आहेत?

- Ans 1. 22
 2. 18
 3. 19
 4. 20

Question Type : MCQ

Question ID : 630680290586

Option 1 ID : 6306801130254

Option 2 ID : 6306801130253

Option 3 ID : 6306801130251

Option 4 ID : 6306801130252

Status : Answered

Chosen Option : 4