


Answer Key for PCCF Recruitment Exam 31st July to 11th Aug 2023 for Objection Handling purpose only

Participant ID	ACC0000000000000
Participant Name	WWW.MPSCMATERIAL.COM
Test Center Name	iON Digital Zone iDZ Ramtekdi 2
Test Date	31/07/2023
Test Time	12:30 PM - 2:30 PM
Subject	Accountant
Candidate Registered Photo	
Candidate Exam Day Photo	

Section : Marathi Language

Q.1 'भावनाहीन' या शब्दाचा विरुद्धार्थी शब्द शोधा.

- Ans
- 1. भाबडा
 - 2. भाविक
 - 3. भक्त
 - 4. भावनाशील

Question Type : MCQ

Question ID : 630680286414

Option 1 ID : 6306801113590

Option 2 ID : 6306801113587

Option 3 ID : 6306801113588

Option 4 ID : 6306801113589

Status : Answered

Chosen Option : 4

Q.2 'त्वरित' या शब्दाचा समानार्थी शब्द कोणता आहे?

Ans ✓ 1. सत्वर

✗ 2. तारांबळ

✗ 3. शीतल

✗ 4. थोर

Question Type : MCQ

Question ID : 630680286413

Option 1 ID : 6306801113584

Option 2 ID : 6306801113586

Option 3 ID : 6306801113585

Option 4 ID : 6306801113583

Status : Answered

Chosen Option : 1

Q.3 'मोहोर' या शब्दाचे दोन अर्थ सांगा.

Ans ✗ 1. आकाश, वस्त्र

✗ 2. छंद, युक्ती

✗ 3. तांदळाचे नाव, मोठा आवाज

✓ 4. सोन्या -चांदीचे नाणे, बहर

Question Type : MCQ

Question ID : 630680286407

Option 1 ID : 6306801113562

Option 2 ID : 6306801113560

Option 3 ID : 6306801113559

Option 4 ID : 6306801113561

Status : Answered

Chosen Option : 4

Q.4 पुढीलपैकी कोणती वाक्यरचना अचूक आहे?

Ans ✗ 1. बहिणाबाईंनी संसाराची तुलना अनेक गोष्टींशी केलेली आहे.

✗ 2. रात्री बाळाला झोपवताना आई अंगाई गाते.

✓ 3.

मृत्यूची वाट पाहण्याची भाषा यापुढे चुकूनही तोंडातून काढायची नाही.

✗ 4. छान चित्र त्याच्या हातातील पुस्तकाच्या मुखपृष्ठावर होते.

Question Type : MCQ

Question ID : 630680286404

Option 1 ID : 6306801113549

Option 2 ID : 6306801113550

Option 3 ID : 6306801113548

Option 4 ID : 6306801113547

Status : Answered

Chosen Option : 1

Q.5 'स्तवन' या शब्दाचा विरुद्धार्थी शब्द शोधा.

- Ans
- 1. स्तुती
 - 2. सुगम
 - 3. निंदा
 - 4. स्वस्त

Question Type : MCQ

Question ID : 630680286415

Option 1 ID : 6306801113592

Option 2 ID : 6306801113594

Option 3 ID : 6306801113593

Option 4 ID : 6306801113591

Status : Answered

Chosen Option : 3

Q.6 'फकिरा' हे अण्णाभाऊ साठे यांचे लेखन कोणत्या साहित्यप्रकारातील आहे?

- Ans
- 1. नाटक
 - 2. कथासंग्रह
 - 3. कवितासंग्रह
 - 4. कादंबरी

Question Type : MCQ

Question ID : 630680286426

Option 1 ID : 6306801113635

Option 2 ID : 6306801113638

Option 3 ID : 6306801113636

Option 4 ID : 6306801113637

Status : Answered

Chosen Option : 4

Q.7 "सारे जग ही एक रंगभूमीच आहे", या वाक्यातील हा अलंकार ओळखा.

- Ans
- 1. अनुप्रास
 - 2. यमक
 - 3. उपमा
 - 4. रूपक

Question Type : MCQ

Question ID : 630680286418

Option 1 ID : 6306801113606

Option 2 ID : 6306801113603

Option 3 ID : 6306801113604

Option 4 ID : 6306801113605

Status : Answered

Chosen Option : 3

Q.8 'भरपूर मार देणे' या अर्थाचा वाक्प्रचार शोधा.

- Ans
- 1. टीकेची झोड उठवणे
 - 2. ऊहापोह करणे
 - 3. चौदावे रत्न दाखवणे
 - 4. वनवासी करणे

Question Type : MCQ
Question ID : 630680286421
Option 1 ID : 6306801113616
Option 2 ID : 6306801113615
Option 3 ID : 6306801113617
Option 4 ID : 6306801113618
Status : Answered
Chosen Option : 3

Q.9 'छपरावर' या शब्दाचा मूळ शब्द कोणता आहे?

- Ans
- 1. छप्पर
 - 2. छपरी
 - 3. छत
 - 4. छत्री

Question Type : MCQ
Question ID : 630680286423
Option 1 ID : 6306801113625
Option 2 ID : 6306801113623
Option 3 ID : 6306801113626
Option 4 ID : 6306801113624
Status : Answered
Chosen Option : 1

Q.10 'मोराचा पिसारा हिरे-माणकांच्या राशीसारखा दिसतो', या वाक्यातील अलंकार ओळखा.

- Ans
- 1. अनुप्रास
 - 2. उपमा
 - 3. यमक
 - 4. रूपक

Question Type : MCQ
Question ID : 630680286416
Option 1 ID : 6306801113598
Option 2 ID : 6306801113595
Option 3 ID : 6306801113597
Option 4 ID : 6306801113596
Status : Answered
Chosen Option : 2

Q.11 'कितीही प्रयत्न केले तरी, त्या मालकाच्या हट्टापुढे राघवचा (काहीही उपाय चालला नाही)' कंसातील शब्दांसाठी कोणता वाक्यप्रचार योग्य आहे, ते शोधा.

- Ans
- 1. तिखटमीठ लावणे
 - 2. भाकरीला महाग होणे
 - 3. चूल न पेटणे
 - 4. डाळ न शिजणे

Question Type : MCQ
Question ID : 630680286422
Option 1 ID : 6306801113619
Option 2 ID : 6306801113622
Option 3 ID : 6306801113621
Option 4 ID : 6306801113620
Status : Answered
Chosen Option : 4

Q.12 एखादी गोष्ट वस्तुस्थितीपेक्षा अधिक फुगवून सांगितली जाते, तेव्हा कोणता अलंकार होतो?

- Ans
- 1. अर्थांतरन्यास
 - 2. उपमा
 - 3. श्लेष
 - 4. अतिशयोक्ती

Question Type : MCQ
Question ID : 630680286417
Option 1 ID : 6306801113599
Option 2 ID : 6306801113601
Option 3 ID : 6306801113602
Option 4 ID : 6306801113600
Status : Answered
Chosen Option : 4

Q.13 'नळे इंद्रासी असे बोलिजेले', या वाक्यातील प्रयोग कोणता आहे?

- Ans
- 1. पुराण कर्मणी
 - 2. समापन कर्मणी
 - 3. नवीन कर्मणी
 - 4. शक्य कर्मणी

Question Type : MCQ
Question ID : 630680286410
Option 1 ID : 6306801113571
Option 2 ID : 6306801113574
Option 3 ID : 6306801113572
Option 4 ID : 6306801113573
Status : Answered
Chosen Option : 1

Q.14 'आईसारखी आईच' यातील अलंकार ओळखा.

- Ans
- 1. उत्प्रेक्षा
 - 2. अनन्वय
 - 3. श्लेष
 - 4. उपमा

Question Type : MCQ
Question ID : 630680286419
Option 1 ID : 6306801113610
Option 2 ID : 6306801113607
Option 3 ID : 6306801113608
Option 4 ID : 6306801113609
Status : Answered
Chosen Option : 2

Q.15 अर्थानुसार योग्य जोड्या लावा.

'अ' गट	'ब' गट
a. नकुल	i. चांदणे
b. भार्या	ii. आकाश
c. कौमुदी	iii. मुंगूस
d. नभ	iv . पत्नी

- Ans
- 1. a-i, b-ii, c-iii, d-iv
 - 2. a-iii, b-iv, c-i, d-ii
 - 3. a-ii, b-iv, c-iii, d-i
 - 4. a-iii, b-i, c-ii, d-iv

Question Type : MCQ
Question ID : 630680286428
Option 1 ID : 6306801113643
Option 2 ID : 6306801113645
Option 3 ID : 6306801113644
Option 4 ID : 6306801113646
Status : Answered
Chosen Option : 2

Q.16 या वाक्यातील क्रियापद ओळखा.

वर्गातील मुले आता निबंध लिहितील.

- Ans
- 1. आता
 - 2. लिहितील
 - 3. मुले
 - 4. निबंध

Question Type : MCQ
Question ID : 630680286405
Option 1 ID : 6306801113554
Option 2 ID : 6306801113553
Option 3 ID : 6306801113551
Option 4 ID : 6306801113552
Status : Answered
Chosen Option : 2

Q.17 कोणत्या प्रयोगात कर्ता नेहमी प्रथमेत असतो?

- Ans
- 1. समापन कर्मणी
 - 2. कर्तरी
 - 3. कर्मभावसंकर
 - 4. भावे

Question Type : MCQ
Question ID : 630680286409
Option 1 ID : 6306801113569
Option 2 ID : 6306801113568
Option 3 ID : 6306801113570
Option 4 ID : 6306801113567
Status : Answered
Chosen Option : 2

Q.18 'दयक्ती आणि वल्ली' चे लेखक कोण आहेत?

- Ans
- 1. पु. ल. देशपांडे
 - 2. आचार्य अत्रे
 - 3. शंकर पाटील
 - 4. चिं. वि. जोशी

Question Type : MCQ
Question ID : 630680286425
Option 1 ID : 6306801113633
Option 2 ID : 6306801113632
Option 3 ID : 6306801113634
Option 4 ID : 6306801113631
Status : Answered
Chosen Option : 1

Q.19 समानार्थी शब्दांच्या जोड्यांमधून चुकीची जोडी शोधा.

- Ans
- 1. निशा... रात्र
 - 2. मत्स्य ... मीन
 - 3. मित्र ...सखा
 - 4. भतार ... भ्राता

Question Type : MCQ

Question ID : 630680286411

Option 1 ID : 6306801113575

Option 2 ID : 6306801113578

Option 3 ID : 6306801113576

Option 4 ID : 6306801113577

Status : Answered

Chosen Option : 4

Q.20 प्राणी आणि त्यांचे आवाज यांच्या योग्य जोड्या लावा.

'अ' गट	'ब' गट
a. मोर	i. डरकाळी
b. साप	ii. गुंजारव
c. वाघ	iii. फुत्कार
d. भुंगा	iv .केकारव

- Ans
- 1. a-ii, b-iii, c-iv, d-i
 - 2. a-iii, b-i, c-iv, d-ii
 - 3. a-i, b-ii, c-iv, d-iii .
 - 4. a-iv, b-iii, c-i, d-ii

Question Type : MCQ

Question ID : 630680286427

Option 1 ID : 6306801113642

Option 2 ID : 6306801113641

Option 3 ID : 6306801113639

Option 4 ID : 6306801113640

Status : Answered

Chosen Option : 4

Q.21 'नेहमी घरात बसून राहणारा' या शब्दसमूहाबद्दल एक शब्द शोधा.

- Ans
- 1. घरगुती
 - 2. घरभेदी
 - 3. घरकोंबडा
 - 4. घरधनी

Question Type : MCQ
Question ID : 630680286424
Option 1 ID : 6306801113629
Option 2 ID : 6306801113627
Option 3 ID : 6306801113628
Option 4 ID : 6306801113630
Status : Answered
Chosen Option : 3

Q.22 'आयजीच्या जीवावर बायजी उदार' या म्हणीचा योग्य अर्थ सांगा.

- Ans
- 1. दुसऱ्याचा पैसा हवा तसा वापरणे
 - 2. फळाची अपेक्षा न करणे
 - 3. कधी वैभव, तर कधी दैन्य
 - 4. जिव्हाळा नसेल, तर दुःखही नसते.

Question Type : MCQ
Question ID : 630680286420
Option 1 ID : 6306801113611
Option 2 ID : 6306801113612
Option 3 ID : 6306801113613
Option 4 ID : 6306801113614
Status : Answered
Chosen Option : 1

Q.23 'पोथी' या शब्दाचे अनेकवचन शोधा.

- Ans
- 1. पोथ्या
 - 2. पोती
 - 3. पोते
 - 4. पोथा

Question Type : MCQ
Question ID : 630680286408
Option 1 ID : 6306801113566
Option 2 ID : 6306801113564
Option 3 ID : 6306801113563
Option 4 ID : 6306801113565
Status : Answered
Chosen Option : 1

Q.24 'कणखर' या शब्दाचा समानार्थी शब्द शोधा.

- Ans 1. दणकट
 2. पोरकट
 3. दमट
 4. तकलादू

Question Type : MCQ

Question ID : 630680286412

Option 1 ID : 6306801113582

Option 2 ID : 6306801113581

Option 3 ID : 6306801113580

Option 4 ID : 6306801113579

Status : Answered

Chosen Option : 1

Q.25 अचूक वाक्यरचना करण्यासाठी कंसातील शब्दाचे कोणते रूप योग्य आहे?

"खरिपाची पिके याच काळात (शेतकरी) घरात येतात."

- Ans 1. शेतकरीच्या
 2. शेतकऱ्यांच्या
 3. शेतकरीने
 4. शेतकऱ्यांसाठी

Question Type : MCQ

Question ID : 630680286406

Option 1 ID : 6306801113558

Option 2 ID : 6306801113556

Option 3 ID : 6306801113555

Option 4 ID : 6306801113557

Status : Answered

Chosen Option : 2

Section : English Language

Q.1 Sentences of a paragraph are given below in jumbled order. Arrange the sentences in the correct order to form a meaningful and coherent paragraph.

- A. The king then appeared and gave him gold coins.
- B. A king placed a large rock on a roadway.
- C. Suddenly, a peasant tried to move the rock from the road.
- D. The people walking on the road did not remove the heavy load.

- Ans**
- 1. A, B, C, D
 - 2. D, B, C, A
 - 3. B, D, C, A
 - 4. C, D, A, B

Question Type : MCQ
Question ID : 630680286439
Option 1 ID : 6306801113687
Option 2 ID : 6306801113690
Option 3 ID : 6306801113688
Option 4 ID : 6306801113689
Status : Answered
Chosen Option : 3

Q.2 The following sentence has been split into four segments. Identify the segment that contains a grammatical error.

Bajrang will had /completed his/ work by/ tomorrow evening.

- Ans**
- 1. tomorrow evening
 - 2. work by
 - 3. completed his
 - 4. Bajrang will had

Question Type : MCQ
Question ID : 630680286451
Option 1 ID : 6306801113738
Option 2 ID : 6306801113737
Option 3 ID : 6306801113736
Option 4 ID : 6306801113735
Status : Answered
Chosen Option : 4

Q.3 Select the most appropriate option to fill in the blank.

The two brothers quarreled with _____.

- Ans**
- 1. himself
 - 2. each other
 - 3. one among
 - 4. themselves

Question Type : MCQ
Question ID : 630680286445
Option 1 ID : 6306801113711
Option 2 ID : 6306801113712
Option 3 ID : 6306801113714
Option 4 ID : 6306801113713
Status : Answered
Chosen Option : 2

Q.4 Select the most appropriate meaning of the given idiom.

Fair and square

- Ans
- 1. Honest
 - 2. Faithful
 - 3. Pessimist
 - 4. Opportunist

Question Type : MCQ

Question ID : 630680286434

Option 1 ID : 6306801113668

Option 2 ID : 6306801113667

Option 3 ID : 6306801113670

Option 4 ID : 6306801113669

Status : Answered

Chosen Option : 1

Q.5 Identify the INCORRECTLY spelt word in the given sentence.

Shilpi is an aspiring, young and hardworking entrepenur.

- Ans
- 1. Aspiring
 - 2. Young
 - 3. Entrepenuur
 - 4. Hardworking

Question Type : MCQ

Question ID : 630680286432

Option 1 ID : 6306801113659

Option 2 ID : 6306801113660

Option 3 ID : 6306801113662

Option 4 ID : 6306801113661

Status : Answered

Chosen Option : 3

Q.6 The following sentence has been split into four segments. Identify the segment that contains a grammatical error.

Raghvika changed her/ costume before she/ had leaves/ for home.

- Ans
- 1. costume before she
 - 2. had leaves
 - 3. for home
 - 4. Raghvika changed her

Question Type : MCQ

Question ID : 630680286450

Option 1 ID : 6306801113732

Option 2 ID : 6306801113733

Option 3 ID : 6306801113734

Option 4 ID : 6306801113731

Status : Answered

Chosen Option : 2

Q.7 Select the option that expresses the given sentence in reported speech.

Rajeshwar said to Vikas, "I am playing basketball."

- Ans
- 1. Rajeshwar says to Vikas that he was playing football.
 - 2. Rajeshwar told Vikas that he was playing football.
 - 3. Rajeshwar told Vikas that he had been playing football.
 - 4. Rajeshwar told Vikas that he were playing football.

Question Type : MCQ
Question ID : 630680286452
Option 1 ID : 6306801113739
Option 2 ID : 6306801113742
Option 3 ID : 6306801113741
Option 4 ID : 6306801113740
Status : Answered
Chosen Option : 2

Q.8 Select the most appropriate article to fill in the blank.

Saimara is _____ extremely intelligent girl.

- Ans
- 1. the
 - 2. a
 - 3. No article required
 - 4. an

Question Type : MCQ
Question ID : 630680286443
Option 1 ID : 6306801113705
Option 2 ID : 6306801113703
Option 3 ID : 6306801113706
Option 4 ID : 6306801113704
Status : Answered
Chosen Option : 4

Q.9 Select the most appropriate article to fill in the blank.

_____ principal will decide the fate of my former colleague, Vijayendra.

- Ans
- 1. The
 - 2. An
 - 3. A
 - 4. No article required

Question Type : MCQ
Question ID : 630680286441
Option 1 ID : 6306801113697
Option 2 ID : 6306801113696
Option 3 ID : 6306801113695
Option 4 ID : 6306801113698
Status : Answered
Chosen Option : 1

Q.10 Select the most appropriate option to fill in the blank.

The _____ of the court will give punishment to the culprit.

- Ans
- 1. judge
 - 2. witness
 - 3. lawyer
 - 4. jury

Question Type : MCQ
Question ID : 630680286444
Option 1 ID : 6306801113707
Option 2 ID : 6306801113710
Option 3 ID : 6306801113708
Option 4 ID : 6306801113709
Status : Answered
Chosen Option : 1

Q.11 The following sentence has been split into four segments. Identify the segment that contains a grammatical error.

The administrative council decided/ to revise her plans/ to keep a pet as / the house was their.

- Ans
- 1. to revise her plans
 - 2. to keep a pet as
 - 3. the house was their
 - 4. The administrative council decided

Question Type : MCQ
Question ID : 630680286448
Option 1 ID : 6306801113724
Option 2 ID : 6306801113725
Option 3 ID : 6306801113726
Option 4 ID : 6306801113723
Status : Answered
Chosen Option : 1

Q.12 Select the most appropriate option to fill in the blanks.

The meeting is scheduled _____ the coming Sunday.

This annual meet was already scheduled _____ the coming Sunday.

- Ans
- 1. of, of
 - 2. at, at
 - 3. for, for
 - 4. so, so

Question Type : MCQ
Question ID : 630680286446
Option 1 ID : 6306801113716
Option 2 ID : 6306801113715
Option 3 ID : 6306801113717
Option 4 ID : 6306801113718
Status : Answered
Chosen Option : 3

Q.13 Select the most appropriate meaning of the given idiom.

Pink-slipped

- Ans
- 1. Living in an imaginary world
 - 2. Chief lady of the town
 - 3. Fired from employment
 - 4. Wearing pink slippers

Question Type : MCQ
Question ID : 630680286436
Option 1 ID : 6306801113678
Option 2 ID : 6306801113676
Option 3 ID : 6306801113675
Option 4 ID : 6306801113677
Status : Answered
Chosen Option : 2

Q.14 The following sentence has been split into four segments. Identify the segment that contains a grammatical error.

The leader urged/ us to prevent/ for damage and theft/ of public property.

- Ans
- 1. for damage and theft
 - 2. The leader urged
 - 3. us to prevent
 - 4. of public property

Question Type : MCQ
Question ID : 630680286449
Option 1 ID : 6306801113729
Option 2 ID : 6306801113727
Option 3 ID : 6306801113728
Option 4 ID : 6306801113730
Status : Answered
Chosen Option : 1

Q.15 Identify the INCORRECTLY spelt word in the given sentence.

The police examined and ilustrated the murder in the court.

- Ans
- 1. Examined
 - 2. Ilustrated
 - 3. Murder
 - 4. Police

Question Type : MCQ
Question ID : 630680286433
Option 1 ID : 6306801113664
Option 2 ID : 6306801113665
Option 3 ID : 6306801113666
Option 4 ID : 6306801113663
Status : Answered
Chosen Option : 2

Q.16 Select the option that can be used as a one-word substitute for the given group of words.

Fear of water

- Ans**
- 1. Hydrophobia
 - 2. Geology
 - 3. Hydel power
 - 4. Germicide

Question Type : MCQ

Question ID : 630680286437

Option 1 ID : 6306801113682

Option 2 ID : 6306801113679

Option 3 ID : 6306801113681

Option 4 ID : 6306801113680

Status : Answered

Chosen Option : 1

Q.17 Select the most appropriate meaning of the given idiom.

Rain or shine

- Ans**
- 1. Being arrogant and irrelevant
 - 2. Favourable and unfavourable situations
 - 3. Liking and disliking things
 - 4. Going here and there

Question Type : MCQ

Question ID : 630680286435

Option 1 ID : 6306801113674

Option 2 ID : 6306801113671

Option 3 ID : 6306801113672

Option 4 ID : 6306801113673

Status : Answered

Chosen Option : 2

Q.18 Sentences of a paragraph are given below in jumbled order. Arrange the sentences in the correct order to form a meaningful and coherent paragraph.

A. I read a story about the friendship of a monkey and a crocodile.

B. The crocodile's wife wanted to eat the monkey's heart.

C. The crocodile carried the monkey on his back.

D. The monkey saved himself using his intelligence.

- Ans**
- 1. C, D, A, B
 - 2. A, B, C, D
 - 3. B, D, C, A
 - 4. D, B, C, A

Question Type : MCQ

Question ID : 630680286438

Option 1 ID : 6306801113685

Option 2 ID : 6306801113683

Option 3 ID : 6306801113684

Option 4 ID : 6306801113686

Status : Answered

Chosen Option : 2

Q.19 Sentences of a paragraph are given below in jumbled order. Arrange the sentences in the correct order to form a meaningful and coherent paragraph.

- A. However, Edmund Hillary and Tenzing Norgay reached the summit top in 1953.
- B. Since then, many successful climbs have happened.
- C. Climbing Mount Everest is a challenge to mountaineers.
- D. Early attempts failed due to the presence of harsh weather.

- Ans**
- 1. B, D, C, A
 - 2. A, B, C, D
 - 3. B, C, A, D
 - 4. C, D, A, B

Question Type : MCQ
Question ID : 630680286440
Option 1 ID : 6306801113692
Option 2 ID : 6306801113691
Option 3 ID : 6306801113694
Option 4 ID : 6306801113693
Status : Answered
Chosen Option : 4

Q.20 Select the most appropriate ANTONYM of the given word.

Valuable

- Ans**
- 1. Worthless
 - 2. Costly
 - 3. Natural
 - 4. Expensive

Question Type : MCQ
Question ID : 630680286430
Option 1 ID : 6306801113653
Option 2 ID : 6306801113651
Option 3 ID : 6306801113654
Option 4 ID : 6306801113652
Status : Answered
Chosen Option : 1

Q.21 Select the most appropriate synonym of the given word.

Object

- Ans
- 1. Dislike
 - 2. Challenge
 - 3. Approve
 - 4. Deny

Question Type : MCQ
Question ID : 630680286429
Option 1 ID : 6306801113649
Option 2 ID : 6306801113650
Option 3 ID : 6306801113647
Option 4 ID : 6306801113648
Status : Answered
Chosen Option : 2

Q.22 Select the most appropriate article to fill in the blank.

_____ screwdriver is a useful tool for mechanics.

- Ans
- 1. No article required
 - 2. A
 - 3. An
 - 4. The

Question Type : MCQ
Question ID : 630680286442
Option 1 ID : 6306801113702
Option 2 ID : 6306801113699
Option 3 ID : 6306801113700
Option 4 ID : 6306801113701
Status : Answered
Chosen Option : 2

Q.23 Select the most appropriate ANTONYM of the given word.

Grief

- Ans
- 1. Sadness
 - 2. Roughness
 - 3. Happiness
 - 4. Brevity

Question Type : MCQ
Question ID : 630680286431
Option 1 ID : 6306801113657
Option 2 ID : 6306801113658
Option 3 ID : 6306801113655
Option 4 ID : 6306801113656
Status : Answered
Chosen Option : 3

Q.24 Select the option that expresses the given sentence in passive voice.

The group had completed the project.

- Ans
- 1. The project will have been completed by the group.
 - 2. The project had been completed by the group.
 - 3. The project was been completed by the group.
 - 4. The project has been completed by the group.

Question Type : MCQ
Question ID : 630680286453
Option 1 ID : 6306801113745
Option 2 ID : 6306801113744
Option 3 ID : 6306801113746
Option 4 ID : 6306801113743
Status : Answered
Chosen Option : 2

Q.25 The following sentence has been split into four segments. Identify the segment that contains a grammatical error.

She is/ interested at/ writing/ poems.

- Ans
- 1. interested at
 - 2. She is
 - 3. poems
 - 4. writing

Question Type : MCQ
Question ID : 630680286447
Option 1 ID : 6306801113720
Option 2 ID : 6306801113719
Option 3 ID : 6306801113722
Option 4 ID : 6306801113721
Status : Answered
Chosen Option : 1

Section : General Knowledge

Q.1 कोणती मुघल राजकन्या ही बहुधा हुमायूनामाची लेखिका म्हणून ओळखली जाते?

- Ans
- 1. झीनत बेगम
 - 2. गुलबदन बेगम
 - 3. जहानिसा बेगम
 - 4. जहानआरा बेगम

Question Type : MCQ
Question ID : 630680286454
Option 1 ID : 6306801113748
Option 2 ID : 6306801113749
Option 3 ID : 6306801113750
Option 4 ID : 6306801113747
Status : Answered
Chosen Option : 2

Q.2 खालीलपैकी कोणते/ती विधान/ने हडप्पा संस्कृतीतील वसाहतींबद्दल सत्य आहे/आहेत?

- i. लोअर टाउन (Lower town) मध्ये महत्त्वाच्या इमारती आणि प्रासंगिक निवासस्थाने होती.
- ii. बहुतेक निवासस्थाने आणि कार्यशाळा मुख्यतः गडाच्या उंचवट्यात (citadel mound) होत्या.
- iii. हडप्पावासीयांना तांबे, सोने आणि चांदीच्या धातूविज्ञानाचे ज्ञान होते.

Ans 1. फक्त iii

2. i, ii आणि iii

3. फक्त ii

4. फक्त i

Question Type : MCQ

Question ID : 630680286458

Option 1 ID : 6306801113765

Option 2 ID : 6306801113766

Option 3 ID : 6306801113764

Option 4 ID : 6306801113763

Status : Answered

Chosen Option : 2

Q.3 RBI च्या माहितीनुसार, मार्च 2023 पर्यंतचा भारताचा रेपो दर किती होता?

Ans 1. 7.5%

2. 4.5%

3. 5.5%

4. 6.5%

Question Type : MCQ

Question ID : 630680286463

Option 1 ID : 6306801113786

Option 2 ID : 6306801113783

Option 3 ID : 6306801113784

Option 4 ID : 6306801113785

Status : Answered

Chosen Option : 4

Q.4 Which of the following was part of the amendment/changes in The Constitution (Forty-second Amendment) Act, 1976?

Ans 1.

Insertion of new sub-heading after Article 31, namely, 'Saving of Certain Laws'

2.

Substitution of 'Unity and Integrity of the Nation' words with 'Unity of the Nation'

3.

Substitution of 'Sovereign Socialist Secular Democratic Republic' words with 'Sovereign Democratic Republic'

4. Deletion of Part IVA, namely, 'Fundamental Duties'

Question Type : MCQ

Question ID : 630680286475

Option 1 ID : 6306801113833

Option 2 ID : 6306801113832

Option 3 ID : 6306801113831

Option 4 ID : 6306801113834

Status : Answered

Chosen Option : 1

Q.5 As per the Minister of Mines, Coal and Parliamentary Affairs written reply in Rajya Sabha, on 26 July 2021, which state in India has the largest resources of gold ore (primary) according to the National Mineral Inventory data as on 1st April 2015?

- Ans
- ✓ 1. Bihar
 - ✗ 2. Andhra Pradesh
 - ✗ 3. Rajasthan
 - ✗ 4. Jharkhand

Question Type : MCQ
Question ID : 630680286471
Option 1 ID : 6306801113815
Option 2 ID : 6306801113817
Option 3 ID : 6306801113816
Option 4 ID : 6306801113818
Status : Answered
Chosen Option : 1

Q.6 राणा कुम्भाने महमूद खिलजीवर मिळवलेल्या विजयाच्या स्मरणार्थ बांधलेला विजयस्तंभ _____ येथे आहे.

- Ans
- ✗ 1. कुम्हारगढ
 - ✓ 2. चित्तोडगढ
 - ✗ 3. हनुमानगढ
 - ✗ 4. कुंभलगढ

Question Type : MCQ
Question ID : 630680286459
Option 1 ID : 6306801113767
Option 2 ID : 6306801113769
Option 3 ID : 6306801113770
Option 4 ID : 6306801113768
Status : Answered
Chosen Option : 4

Q.7 जागोई आणि चोलोम हे _____ नृत्यातील दोन मुख्य विभाग आहेत.

- Ans
- ✗ 1. मोहिनीअट्टम
 - ✗ 2. चेराव
 - ✓ 3. मणिपुरी
 - ✗ 4. ओडिसी

Question Type : MCQ
Question ID : 630680286461
Option 1 ID : 6306801113777
Option 2 ID : 6306801113778
Option 3 ID : 6306801113775
Option 4 ID : 6306801113776
Status : Answered
Chosen Option : 2

Q.8 _____ मध्ये नमूद केल्याप्रमाणे, निवडणूक आयोग ही भारत सरकारची एक सांविधानिक संस्था आहे.

Ans 1. अनुच्छेद 324

2. अनुच्छेद 148

3. अनुच्छेद 338

4. अनुच्छेद 280

Question Type : MCQ

Question ID : 630680286476

Option 1 ID : 6306801113837

Option 2 ID : 6306801113838

Option 3 ID : 6306801113836

Option 4 ID : 6306801113835

Status : Answered

Chosen Option : 1

Q.9 Nati dance is the most famous folk dance of _____.

Ans 1. Punjab

2. Uttarakhand

3. Himachal Pradesh

4. Haryana

Question Type : MCQ

Question ID : 630680286460

Option 1 ID : 6306801113772

Option 2 ID : 6306801113774

Option 3 ID : 6306801113773

Option 4 ID : 6306801113771

Status : Answered

Chosen Option : 2

Q.10 खालीलपैकी कोणते स्मारक शाहजहानने बांधलेले नाही?

Ans 1. शालिमार बाग- श्रीनगर

2. जामा मशीद, दिल्ली

3. मोती मस्जिद, आग्रा

4. लाल किल्ला, दिल्ली

Question Type : MCQ

Question ID : 630680286457

Option 1 ID : 6306801113762

Option 2 ID : 6306801113759

Option 3 ID : 6306801113761

Option 4 ID : 6306801113760

Status : Answered

Chosen Option : 2

Q.11 जगातील सर्वात मोठी राखीव बैठक क्षमता असलेले (dedicated fully-seated) 'बिरसा मुंडा' हे हॉकी स्टेडियम कोठे आहे?

Ans

- 1. सिंगभूम
- 2. राउरकेला
- 3. गांधी नगर
- 4. रायपूर

Question Type : MCQ

Question ID : 630680286478

Option 1 ID : 6306801113845

Option 2 ID : 6306801113843

Option 3 ID : 6306801113844

Option 4 ID : 6306801113846

Status : Answered

Chosen Option : 2

Q.12 खालीलपैकी कोणती संस्था ही भारत सरकारची अ-सांविधानिक (non-Constitutional) संस्था नाही?

Ans

- 1. केंद्रीय माहिती आयोग
- 2. नीती (NITI) आयोग
- 3. केंद्रीय लोकसेवा आयोग
- 4. राज्य मानवी हक्क आयोग

Question Type : MCQ

Question ID : 630680286477

Option 1 ID : 6306801113839

Option 2 ID : 6306801113841

Option 3 ID : 6306801113842

Option 4 ID : 6306801113840

Status : Answered

Chosen Option : 3

Q.13 Which system of the human body plays its role in the production of hormones in order to regulate a wide variety of body functions?

Ans

- 1. Circulatory system
- 2. Cardiovascular system
- 3. Lymphatic system
- 4. Endocrine system

Question Type : MCQ

Question ID : 630680286473

Option 1 ID : 6306801113824

Option 2 ID : 6306801113825

Option 3 ID : 6306801113823

Option 4 ID : 6306801113826

Status : Answered

Chosen Option : 4

Q.14 Which of the following Acts is NOT matched correctly with the year?

- Ans
- 1. Defence of India Act - 1915
 - 2. Pitt's India Act - 1784
 - 3. Regulating Act - 1943
 - 4. Criminal Tribes Act - 1871

Question Type : MCQ
Question ID : 630680286455
Option 1 ID : 6306801113753
Option 2 ID : 6306801113751
Option 3 ID : 6306801113754
Option 4 ID : 6306801113752
Status : Answered
Chosen Option : 3

Q.15 खालीलपैकी कोणते प्रसिद्ध भारतीय संगीतज्ञ आणि संगीतकार मेवाती घराण्याशी संबंधित होते?

- Ans
- 1. पंडित कुमार गंधर्व
 - 2. पंडित भीमसेन गुरुराज जोशी
 - 3. पंडित जसराज
 - 4. पंडित रविशंकर

Question Type : MCQ
Question ID : 630680286462
Option 1 ID : 6306801113781
Option 2 ID : 6306801113780
Option 3 ID : 6306801113782
Option 4 ID : 6306801113779
Status : Answered
Chosen Option : 2

Q.16 मार्च 2023 पर्यंतच्या माहितीनुसार, सिक्युरिटीज आणि एक्सचेंज बोर्ड ऑफ इंडिया (Securities and Exchange Board of India) चे कार्यध्यक्ष कोण होते?

- Ans
- 1. चंदा कोचर
 - 2. माधवी पुरी बुच
 - 3. अजय त्यागी
 - 4. शशीकांत दास

Question Type : MCQ
Question ID : 630680286464
Option 1 ID : 6306801113790
Option 2 ID : 6306801113789
Option 3 ID : 6306801113787
Option 4 ID : 6306801113788
Status : Answered
Chosen Option : 2

Q.17 खालील सुधारणा चळवळी आणि त्यांचे प्रमुख नेते यांच्या जोड्या जुळवा.

a	यंग बंगाल मुव्हमेंट	i	श्री नारायण गुरु
b	सुगुणवर्धिनी चळवळ	ii	हेन्री लुई व्हिद्वियन डेरोझिओ
c	वायकोम सत्याग्रह	iii	अय्याथन गोपालन
d	थिओसॉफिकल सोसायटी	iv	अॅनी बेझंट

- Ans
- ✗ 1. a-i, b-iii, c-iv, d-ii
 - ✗ 2. a-ii, b-i, c-iv, d-iii
 - ✗ 3. a-i, b-ii, c-iv, d-iii
 - ✓ 4. a-ii, b-iii, c-i, d-iv

Question Type : MCQ

Question ID : 630680286456

Option 1 ID : 6306801113755

Option 2 ID : 6306801113756

Option 3 ID : 6306801113758

Option 4 ID : 6306801113757

Status : Answered

Chosen Option : 4

Q.18 What is the Indian Geo-Platform of the Indian Space Research Agency named?

- Ans
- ✗ 1. Antrixa
 - ✗ 2. Earthdata
 - ✗ 3. Git Hub
 - ✓ 4. Bhuvan

Question Type : MCQ

Question ID : 630680286472

Option 1 ID : 6306801113822

Option 2 ID : 6306801113819

Option 3 ID : 6306801113820

Option 4 ID : 6306801113821

Status : Answered

Chosen Option : 3

Q.19 मार्च 2023 मधील MNRE च्या नोंदीनुसार, कोणत्या राज्यात सर्वाधिक स्थापित पवन ऊर्जा आहे?

- Ans
- 1. आंध्रप्रदेश
 - 2. गुजरात
 - 3. तामिळनाडू
 - 4. महाराष्ट्र

Question Type : MCQ

Question ID : 630680286470

Option 1 ID : 6306801113814

Option 2 ID : 6306801113812

Option 3 ID : 6306801113811

Option 4 ID : 6306801113813

Status : Answered

Chosen Option : 3

Q.20 Dry ice used commonly as a cooling agent is a solid form of:

- Ans
- 1. carbon dioxide
 - 2. nitrogen oxide
 - 3. chlorofluorocarbon
 - 4. hydrogen peroxide

Question Type : MCQ

Question ID : 630680286474

Option 1 ID : 6306801113828

Option 2 ID : 6306801113827

Option 3 ID : 6306801113829

Option 4 ID : 6306801113830

Status : Answered

Chosen Option : 1

Q.21 कोणत्या एजन्सीने 'अनपॅकिंग डीप्रायव्हेशन बंडल्स टू रिड्यूस मल्टीडायमेंशनल पॉव्हर्टी (Unpacking deprivation bundles to reduce multidimensional poverty)' नामक जागतिक बहुआयामी दारिद्र्य निर्देशांक 2022 (Global Multidimensional Poverty Index 2022) प्रकाशित केला आहे?

- Ans
- 1. संयुक्त राष्ट्रसंघ विकास कार्यक्रम (United Nations Development Programme)
 - 2. संयुक्त राष्ट्रसंघ अन्न आणि कृषी संघटना (Food and Agriculture Organisation of the United Nations)
 - 3. जागतिक बँक (World Bank)
 - 4. जागतिक आरोग्य संघटना (World Health Organisation)

Question Type : MCQ

Question ID : 630680286465

Option 1 ID : 6306801113793

Option 2 ID : 6306801113794

Option 3 ID : 6306801113791

Option 4 ID : 6306801113792

Status : Answered

Chosen Option : 1

Q.22 2011 च्या जनगणनेनुसार, भारताच्या लोकसंख्येच्या घनतेत दशकभरात सुमारे _____ इतकी वाढ होऊन ती _____ इतकी झाली होती.

- Ans
- 1. 13.7%, 532/km²
 - 2. 7.7%, 312/km²
 - 3. 11.7%, 424/km²
 - 4. 17.7%, 382/km²

Question Type : MCQ

Question ID : 630680286469

Option 1 ID : 6306801113809

Option 2 ID : 6306801113807

Option 3 ID : 6306801113808

Option 4 ID : 6306801113810

Status : Answered

Chosen Option : 4

Q.23 कन्सर्न वर्ल्डवाईड (Concern Worldwide) आणि वेल्थुंगरहिल्फ (Welt Hunger Hilfe) यांनी जाहीर केलेल्या 2022 सालच्या जागतिक उपासमारी निर्देशांकात, 121 देशांदरम्यान भारताचा क्रमांक _____ वा आहे.

- Ans
- 1. 97
 - 2. 113
 - 3. 101
 - 4. 107

Question Type : MCQ

Question ID : 630680286466

Option 1 ID : 6306801113795

Option 2 ID : 6306801113798

Option 3 ID : 6306801113796

Option 4 ID : 6306801113797

Status : Answered

Chosen Option : 4

Q.24 मार्च 2023 पर्यंतच्या माहितीनुसार, MoEFCC नुसार भारतात अधिकृतपणे चार जैवविविधता अधिक्षेत्रे (बायोडायव्हर्सिटी हॉटस्पॉट) आहेत. खालीलपैकी कोणते त्यात समाविष्ट नाही?

- Ans
- 1. उत्तर घाट
 - 2. इंडो म्यानमार भूदृष्य (लँडस्केप)
 - 3. पूर्व हिमालय
 - 4. अंदमान आणि निकोबार बेटे

Question Type : MCQ

Question ID : 630680286467

Option 1 ID : 6306801113800

Option 2 ID : 6306801113802

Option 3 ID : 6306801113799

Option 4 ID : 6306801113801

Status : Answered

Chosen Option : 1

Q.25 एखाद्या कालावधीतील पर्जन्यवृष्टीच्या तीव्रतेच्या वितरणाच्या आलेखी निरूपणाला _____ म्हणतात.

- Ans
- 1. क्लायमोग्राफ (Climograph)
 - 2. हायड्रोग्राफ (Hydrograph)
 - 3. हायटोग्राफ (Hyetograph)
 - 4. प्लुवियोग्राफ (Pluviograph)

Question Type : MCQ
Question ID : 630680286468
Option 1 ID : 6306801113803
Option 2 ID : 6306801113804
Option 3 ID : 6306801113805
Option 4 ID : 6306801113806
Status : Answered
Chosen Option : 4

Section : Mental Ability

Q.1 एका विशिष्ट सांकेतिक भाषेत, 'COPY' हे 'DNQX' असे लिहिले जाते आणि 'NOTE' हे 'ONUD' असे लिहिले जाते. तर त्याच सांकेतिक भाषेत 'BIRD' हे कसे लिहिले जाईल?

- Ans
- 1. AJQE
 - 2. AHQC
 - 3. CHSC
 - 4. CJSE

Question Type : MCQ
Question ID : 630680286491
Option 1 ID : 6306801113898
Option 2 ID : 6306801113895
Option 3 ID : 6306801113897
Option 4 ID : 6306801113896
Status : Answered
Chosen Option : 3

Q.2 जर '+' म्हणजे '+', '-' म्हणजे '+', 'x' म्हणजे '-' आणि '+' म्हणजे 'x' असेल, तर खालील पदावलीचे मूल्य काय येईल?

$$[[(15 \times 3) - (2 \div 1)] + (3 - 4)] \div 4$$

- Ans
- 1. 1
 - 2. 4
 - 3. 8
 - 4. 12

Question Type : MCQ
Question ID : 630680286502
Option 1 ID : 6306801113939
Option 2 ID : 6306801113940
Option 3 ID : 6306801113941
Option 4 ID : 6306801113942
Status : Answered
Chosen Option : 3

Q.3 A, B, C, D, E, F, G आणि H हे आठ गायक एका चौरसाकृती टेबलाभोवती टेबलाच्या केंद्राभिमुख बसलेले आहेत. त्यांपैकी काही कोपऱ्यावर बसलेले आहेत तर काही जण बाजूंच्या बरोबर मध्यभागी बसलेले आहेत.

E हा A च्या उजवीकडे तिसऱ्या स्थानावर आणि C च्या डावीकडे तिसऱ्या स्थानावर बसला आहे. A आणि F हे एकमेकांच्या कर्णरेषेत समोरील स्थानावर बसलेले आहेत. D हा B च्या उजवीकडे तिसऱ्या स्थानावर बसला आहे. H हा C च्या लगतच डावीकडे बसला आहे. तर A च्या उजवीकडे कोण बसलेला असेल?

- Ans
- 1. E
 - 2. H
 - 3. G
 - 4. B

Question Type : MCQ

Question ID : 630680286479

Option 1 ID : 6306801113848

Option 2 ID : 6306801113849

Option 3 ID : 6306801113847

Option 4 ID : 6306801113850

Status : Answered

Chosen Option : 3

Q.4 फिरोज हा एमिलाचा पती आहे. नताशा ही जितेंद्रची पत्नी आहे. एमिली ही जलालची बहीण आहे. भूषण हा फिरोजचा मुलगा आहे. जलाल हा नताशाचा मुलगा आहे. तर भूषणचे जितेंद्रशी काय नाते असेल?

- Ans
- 1. जावई
 - 2. मुलाचा मुलगा
 - 3. मुलगा
 - 4. मुलीचा मुलगा

Question Type : MCQ

Question ID : 630680286489

Option 1 ID : 6306801113889

Option 2 ID : 6306801113888

Option 3 ID : 6306801113887

Option 4 ID : 6306801113890

Status : Answered

Chosen Option : 4

Q.5 खालील मालिकेत प्रश्नचिन्हाच्या (?) जागी येणारे पद दिलेल्या पर्यायांतून निवडा.

30AC, 32EA, 35IY, 40MW, ?

- Ans
- 1. 47TU
 - 2. 47QU
 - 3. 47UT
 - 4. 45QU

Question Type : MCQ

Question ID : 630680286484

Option 1 ID : 6306801113870

Option 2 ID : 6306801113868

Option 3 ID : 6306801113867

Option 4 ID : 6306801113869

Status : Answered

Chosen Option : 2

Q.6 चार अक्षर-त्रिके दिलेली आहेत, त्यातील तीन अक्षर-त्रिके एका विशिष्ट तऱ्हेने समान आहेत आणि एक वेगळे आहे. ते वेगळे असलेली अक्षर-त्रिक निवडा.

- Ans
- 1. QJ-SH-VE
 - 2. SH-VE-XC
 - 3. VE-XC-AZ
 - 4. EV-GT-JQ

Question Type : MCQ

Question ID : 630680286488

Option 1 ID : 6306801113886

Option 2 ID : 6306801113885

Option 3 ID : 6306801113884

Option 4 ID : 6306801113883

Status : Answered

Chosen Option : 2

Q.7 चार अक्षर-जोड्या दिल्या आहेत, त्यातील तीन अक्षर-जोड्या एका विशिष्ट तऱ्हेने समान आहेत आणि एक वेगळी आहे. ती वेगळी असलेली अक्षर-जोडी निवडा.

- Ans
- 1. XACE
 - 2. ZCDE
 - 3. TWYA
 - 4. VYAC

Question Type : MCQ

Question ID : 630680286487

Option 1 ID : 6306801113880

Option 2 ID : 6306801113879

Option 3 ID : 6306801113881

Option 4 ID : 6306801113882

Status : Answered

Chosen Option : 2

- Q.8 'A % B' म्हणजे 'A ही B ची आई आहे'.
'A \$ B' म्हणजे 'A हे B चे वडील आहेत'.
'A & B' म्हणजे 'A ही B च्या आईची आई आहे'.
'A # B' म्हणजे 'A ही B ची बहिण आहे'.
'A ^ B' म्हणजे 'A हा B च्या वडिलांचा भाऊ आहे'.
'A @ B' म्हणजे 'A ही B ची पत्नी आहे'.
खालील पदावलीनुसार, K चे G शी काय नाते असेल?

K % J # I @ H \$ G

- Ans
- 1. बहीण
 - 2. वडिलांची आई
 - 3. आईची बहीण
 - 4. आईची आई

Question Type : MCQ
Question ID : 630680286490
Option 1 ID : 6306801113894
Option 2 ID : 6306801113892
Option 3 ID : 6306801113893
Option 4 ID : 6306801113891
Status : Answered
Chosen Option : 4

- Q.9 P, Q, R, S, T आणि U हे एकाच इमारतीच्या सहा वेगवेगळ्या मजल्यांवर राहतात. इमारतीतील तळमजल्याचा क्रमांक 6 आहे, त्याच्या वरच्या मजल्याचा क्रमांक 5 आणि याच क्रमाने क्रमांक 1 च्या मजल्यापर्यंत क्रमांकित केलेले आहे.

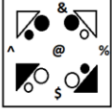
S हा सभ क्रमांकाच्या मजल्यावर राहतो. P आणि T हे प्रत्येकी विषम क्रमांकाच्या मजल्यावर राहतात. R हा क्रमांक 2 च्या मजल्यावर राहतो. Q हा एका विषम क्रमांकाच्या, U च्या लगेचच वरच्या आणि R च्या लगेचच खालच्या मजल्यावर राहतो. P सर्वात वरच्या मजल्यावर राहत नाही. तर सर्वात खालच्या मजल्यावर कोण राहत असेल?

- Ans
- 1. S
 - 2. P
 - 3. U
 - 4. T

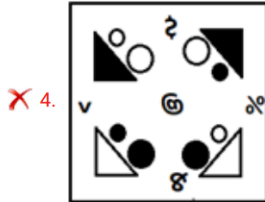
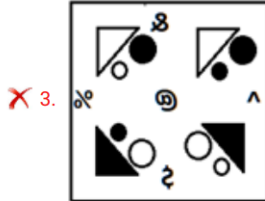
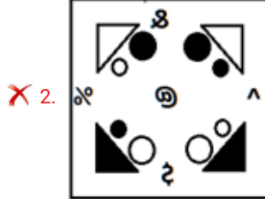
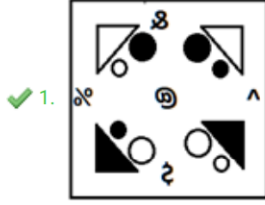
Question Type : MCQ
Question ID : 630680286480
Option 1 ID : 6306801113852
Option 2 ID : 6306801113853
Option 3 ID : 6306801113851
Option 4 ID : 6306801113854
Status : Answered
Chosen Option : 1

Q.10 जेव्हा दर्पण उजव्या बाजूस धरलेला असेल, तेव्हा दिलेल्या प्रश्न आकृतीचे अचूक दर्पण प्रतिबिंब असलेली उत्तर आकृती कोणती असेल?

प्रश्न आकृती:



Ans



Question Type : MCQ

Question ID : 630680286498

Option 1 ID : 6306801113926

Option 2 ID : 6306801113925

Option 3 ID : 6306801113923

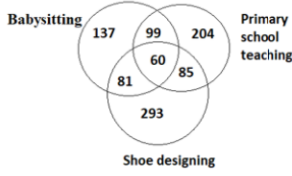
Option 4 ID : 6306801113924

Status : Answered

Chosen Option : 1

Q.11 दिलेल्या व्हेन आकृतीचा लक्षपूर्वक अभ्यास करा आणि प्रश्नाचे उत्तर द्या.

वेगवेगळ्या विभागातील संख्या या वेगवेगळ्या व्यवसायांत असलेल्या व्यक्तींची संख्या दर्शवतात.



संदर्भ - Babysitting - बाळांचे संगोपन, Primary School Teaching - प्राथमिक शाळेतील शिकवणी, Shoe designing - शू डिझायनिंग

बाळांचे संगोपन तसेच शू डिझायनिंग या व्यवसायांत किती व्यक्ती आहेत?

- Ans
- 1. 163
 - 2. 141
 - 3. 189
 - 4. 152

Question Type : MCQ

Question ID : 630680286482

Option 1 ID : 6306801113861

Option 2 ID : 6306801113859

Option 3 ID : 6306801113862

Option 4 ID : 6306801113860

Status : Answered

Chosen Option : 2

Q.12 दिलेली विधाने आणि निष्कर्ष लक्षपूर्वक वाचा. सामान्यतः जात तथ्यांपेक्षा वेगळी वाटली तरी विधानांमध्ये दिलेली माहिती सत्य आहे असे मानून दिलेल्या निष्कर्षांपैकी कोणता/कोणते निष्कर्ष दिलेल्या विधानांशी तर्कसंगत आहे/आहेत ते ठरवा.

विधाने:

सर्व कुकीज डोनट्स आहेत.

सर्व डोनट्स चॉकलेट्स आहेत.

सर्व चॉकलेट्स बिस्किटे आहेत.

निष्कर्ष:

I. काही बिस्किटे डोनट्स आहेत.

II. काही कुकीज चॉकलेट्स आहेत.

III. काही बिस्किटे चॉकलेट्स आहेत.

- Ans
- 1. सर्व निष्कर्ष I, II आणि III तर्कसंगत आहेत
 - 2. निष्कर्ष I आणि III तर्कसंगत आहेत
 - 3. निष्कर्ष I आणि II तर्कसंगत आहेत
 - 4. निष्कर्ष II आणि III तर्कसंगत आहेत

Question Type : MCQ

Question ID : 630680286483

Option 1 ID : 6306801113866

Option 2 ID : 6306801113864

Option 3 ID : 6306801113863

Option 4 ID : 6306801113865

Status : Answered

Chosen Option : 2

Q.13 दुसरा शब्द ज्या तऱ्हेने पहिल्या शब्दाशी संबंधित आहे, त्याच तऱ्हेने तिसऱ्या शब्दाशी संबंधित असणारा पर्याय निवडा.

(दिलेले शब्द अर्थपूर्ण मराठी शब्द आहेत असेच मानावे आणि त्यांमधील संबंध त्या शब्दांची अक्षरसंख्या/ शब्दांतील स्वरांची संख्या/व्यंजनाची संख्या या आधारवर मानू नये.)

पुतण्या : पुतणी :: मॉन्क : ?

Ans

✓ 1. नन

✗ 2. धावपटू

✗ 3. परिचारिका

✗ 4. मुख्याध्यापिका

Question Type : MCQ

Question ID : 630680286486

Option 1 ID : 6306801113877

Option 2 ID : 6306801113875

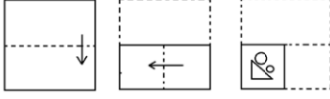
Option 3 ID : 6306801113876

Option 4 ID : 6306801113878

Status : Answered

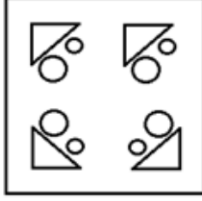
Chosen Option : 1

Q.14 एका कागदाच्या तुकड्याला दुमडण्याचा क्रम आणि दुमडलेला कागद कापण्याची पद्धत खाली दर्शविली आहे. कागदाचा तो तुकडा उलगडल्यावर दिसेल याच्याशी सर्वाधिक मिळतीजुळती आकृती निवडा.

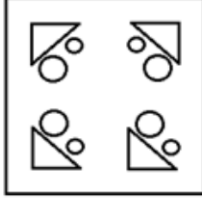


Ans

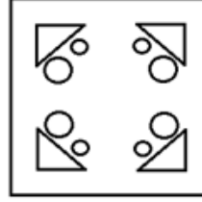
✗ 1.



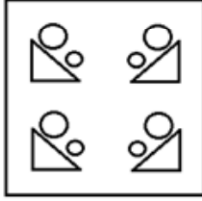
✗ 2.



✓ 3.



✗ 4.



Question Type : MCQ

Question ID : 630680286496

Option 1 ID : 6306801113916

Option 2 ID : 6306801113918

Option 3 ID : 6306801113915

Option 4 ID : 6306801113917

Status : Answered

Chosen Option : 3

Q.15 एटीएमच्या शोधात, पन्ना रेल्वे स्थानकाच्या बाहेर आली आणि उत्तरेकडे सरळ 5 km चालत गेली. ती उजवीकडे वळली आणि 6 km चालली. त्यानंतर ती डावीकडे वळली आणि एटीएमपर्यंत पोहोचण्यासाठी 3 km अंतर चालली. तर रेल्वे स्थानक आणि एटीएममधील किमान अंतर किती असेल?

Ans

✗ 1. 2 km

✓ 2. 10 km

✗ 3. 4 km

✗ 4. 14 km

Question Type : MCQ

Question ID : 630680286493

Option 1 ID : 6306801113903

Option 2 ID : 6306801113905

Option 3 ID : 6306801113906

Option 4 ID : 6306801113904

Status : Answered

Chosen Option : 2

Q.16 खालील मालिकेत प्रश्नचिन्हाच्या (?) जागी येणारी संख्या दिलेल्या पर्यायांतून निवडा.

35, 99, 148, 184, 209, ?

Ans 1. 225

2. 220

3. 228

4. 234

Question Type : MCQ

Question ID : 630680286500

Option 1 ID : 6306801113933

Option 2 ID : 6306801113934

Option 3 ID : 6306801113932

Option 4 ID : 6306801113931

Status : Answered

Chosen Option : 1

Q.17 खालील समीकरणात प्रश्नचिन्हाच्या (?) जागी कोणते अंदाजित मूल्य येईल?

$$(\sqrt{325} + 12 \div 3 \times 2 - \sqrt{145}) \div 2 = ?$$

Ans 1. 8

2. 5

3. 6

4. 7

Question Type : MCQ

Question ID : 630680286501

Option 1 ID : 6306801113938

Option 2 ID : 6306801113935

Option 3 ID : 6306801113936

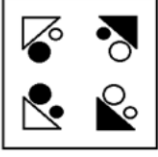
Option 4 ID : 6306801113937

Status : Answered

Chosen Option : 4

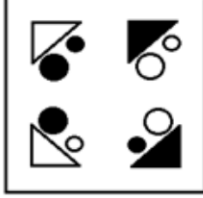
Q.18 दिलेल्या प्रश्न आकृतीचे अचूक जल प्रतिबिंब असलेली उत्तर आकृती कोणती असेल?

प्रश्न आकृती:

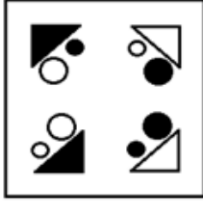


Ans

✓ 1.



✗ 2.



✗ 3.



✗ 4.



Question Type : MCQ

Question ID : 630680286497

Option 1 ID : 6306801113919

Option 2 ID : 6306801113920

Option 3 ID : 6306801113921

Option 4 ID : 6306801113922

Status : Answered

Chosen Option : 1

Q.19 खालील मालिकेत प्रश्नचिन्हाच्या (?) जागी येणारी संख्या दिलेल्या पर्यायांतून निवडा.

16, 18, 36, 38, 76, ?

- Ans
- 1. 152
 - 2. 74
 - 3. 78
 - 4. 150

Question Type : MCQ

Question ID : 630680286499

Option 1 ID : 6306801113927

Option 2 ID : 6306801113930

Option 3 ID : 6306801113929

Option 4 ID : 6306801113928

Status : Answered

Chosen Option : 2

Q.20 दिलेल्या समीकरणात Y च्या जागी येऊन समीकरणास संतुलित करणारा गणितीय चिन्हांचा योग्य क्रम निवडा.

40 Y 8 Y 12 Y 15 Y 4

- Ans
- 1. $\times, \div, =, -$
 - 2. $\div, \times, =, \times$
 - 3. $\times, =, -, \div$
 - 4. $\div, \times, =, -$

Question Type : MCQ

Question ID : 630680286503

Option 1 ID : 6306801113946

Option 2 ID : 6306801113945

Option 3 ID : 6306801113943

Option 4 ID : 6306801113944

Status : Answered

Chosen Option : 2

Q.21 खालील मालिकेत प्रश्नचिन्हाच्या (?) जागी येणारे पद दिलेल्या पर्यायांतून निवडा.

O25N, M18P, K13R, I10T, ?

- Ans
- 1. G9V
 - 2. G7V
 - 3. H8V
 - 4. G8U

Question Type : MCQ

Question ID : 630680286485

Option 1 ID : 6306801113873

Option 2 ID : 6306801113872

Option 3 ID : 6306801113874

Option 4 ID : 6306801113871

Status : Answered

Chosen Option : 1

Q.22 Q, W, E, R, T, Y आणि U या प्रत्येकाची, प्रत्येकी एक बैठक, सोमवारी सुरु होणाऱ्या आणि रविवारी संपणाऱ्या आठवड्यात पण निरनिराळ्या दिवशी आहे.

T ची बैठक ही Q च्या आधी एके दिवशी आहे. E आणि U यांच्यामध्ये फक्त एका व्यक्तीची बैठक आहे. केवळ R ची बैठक ही Y च्या नंतर आहे. E ची बैठक बुधवारी आहे. W ची बैठक T च्या आधी आहे, परंतु गुरुवारी नाही. तर खालीलपैकी कोणाची बैठक गुरुवारी असेल?

- Ans
- 1. T
 - 2. U
 - 3. Q
 - 4. W

Question Type : MCQ

Question ID : 630680286481

Option 1 ID : 6306801113858

Option 2 ID : 6306801113855

Option 3 ID : 6306801113856

Option 4 ID : 6306801113857

Status : Answered

Chosen Option : 1

Q.23 एका विशिष्ट सांकेतिक भाषेत, 'PUBLIC' हे 'EKNDWR' असे लिहिले जाते आणि 'MARKET' हे 'VGMTCO' असे लिहिले जाते. तर त्याच सांकेतिक भाषेत 'PLACES' हे कसे लिहिले जाईल?

- Ans
- 1. RNCEGU
 - 2. UGECNR
 - 3. UGEBMR
 - 4. UGDCMQ

Question Type : MCQ

Question ID : 630680286492

Option 1 ID : 6306801113902

Option 2 ID : 6306801113899

Option 3 ID : 6306801113900

Option 4 ID : 6306801113901

Status : Answered

Chosen Option : 2

Q.24 दिलेल्या विधानाचा विचार करा आणि दिलेल्यांपैकी कोणता/ते निष्कर्ष तर्कसंगत आहे/आहेत ते ठरवा.

विधान:

एका प्राध्यापकाने आपल्या सहकाऱ्याला सांगितले, "मी माझ्या विद्यार्थ्यांना त्यांचे प्रबंध वेळेवर सादर करण्याची तंबी दिली आहे अन्यथा मी त्यांना यावेळी त्यांचा निरोप समारंभ साजरा करू देणार नाही."

निष्कर्ष:

- I. नवीन विद्यार्थ्यांकडून निरोप समारंभाचे आयोजन केले जाते.
- II. प्रबंध सर्वसामान्यपणे विद्यापीठाची पदवी किंवा पदविकेसाठी लिहिलेले असतात.

Ans

1. दोन्ही निष्कर्ष तर्कसंगत आहेत
2. केवळ निष्कर्ष II तर्कसंगत आहे
3. I किंवा II पैकी एकही निष्कर्ष तर्कसंगत नाही
4. केवळ निष्कर्ष I तर्कसंगत आहे

Question Type : MCQ

Question ID : 630680286495

Option 1 ID : 6306801113913

Option 2 ID : 6306801113912

Option 3 ID : 6306801113914

Option 4 ID : 6306801113911

Status : Answered

Chosen Option : 1

Q.25 दिलेल्या विधानाचा विचार करा आणि दिलेल्यांपैकी कोणते/ती गृहितक/के वैध आहे/आहेत ते ठरवा.

विधान:

नियमित व्यायामाने मानसिक आरोग्य सुधारू शकते, असे नुकत्याच झालेल्या अभ्यासात दिसून आले आहे.

गृहितके:

- I. केवळ व्यायामाने सर्व मानसिक आरोग्य विकार पूर्णपणे बरे होऊ शकतात.
- II. नियमित व्यायामाचा मानसिक आरोग्यावर सकारात्मक परिणाम होतो.

Ans

1. दोन्ही गृहितके वैध आहेत
2. I किंवा II यांपैकी कोणतेही गृहितक वैध नाही
3. केवळ गृहितक I वैध आहे
4. केवळ गृहितक II वैध आहे

Question Type : MCQ

Question ID : 630680286494

Option 1 ID : 6306801113909

Option 2 ID : 6306801113910

Option 3 ID : 6306801113907

Option 4 ID : 6306801113908

Status : Answered

Chosen Option : 4