



महाराष्ट्र शासन
GOVERNMENT OF MAHARASHTRA

मुख्य कार्यालय : महसूल व वन विभाग, मंत्रालय, मुंबई-32

राज्य समन्वयक कार्यालय :

2 व 3 मजला नवीन प्रशासकीय इमारत, जमाबंदी आयुक्त आणि संचालक,
भूमि अभिलेख कार्यालय, महाराष्ट्र राज्य, पुणे.



Participant ID	0000000000000
Participant Name	www.mpscmaterial.com
Test Center Name	ION Digital Zone iDZ Ramtekdi 1
Test Date	28/08/2023
Test Time	9:00 AM - 11:00 AM
Subject	Talathi
Registration Photograph	
Capture Photo	
Upload Photo	

Section : Marathi Language

Q.1 'सर्वाना समज दिली जाईल' वाक्यातील प्रयोग ओळखा.

- Ans
- 1. भावे
 - 2. कर्मणी
 - 3. कर्तरी
 - 4. कर्मकर्तरी

Question Type : MCQ
Question ID : 630680322238
Option 1 ID : 6306801253603
Option 2 ID : 6306801253604
Option 3 ID : 6306801253601
Option 4 ID : 6306801253602
Status : Answered
Chosen Option : 1
Marks : 0

Q.2 'ददात' शब्दाचा विरुद्धार्थी शब्द काय आहे?

- Ans
- 1. उणीव
 - 2. मुबलक
 - 3. तुटवडा
 - 4. दरोडा

Question Type : MCQ
Question ID : 630680322243
Option 1 ID : 6306801253624
Option 2 ID : 6306801253623
Option 3 ID : 6306801253621
Option 4 ID : 6306801253622
Status : Answered
Chosen Option : 2
Marks : 2

Q.3 वाक्यरचना योग्य असलेला पर्याय निवडा.

- Ans
- ✗ 1. पहिल्या परीक्षेत मला वर्ग मिळाला.
 - ✔ 2. नागरिकांनी संस्कृतीचे जतन करावे.
 - ✗ 3. गाव आला तर पूर वाहून जाईल.
 - ✗ 4. हेतू प्रकरण मुख्याध्यापकांकडे ने.

Question Type : MCQ

Question ID : 630680322234

Option 1 ID : 6306801253585

Option 2 ID : 6306801253587

Option 3 ID : 6306801253586

Option 4 ID : 6306801253588

Status : Answered

Chosen Option : 2

Marks : 2

Q.4 'लग्नाला वीस, तर वाजंत्रीला तीस' या म्हणीचा अर्थ सांगा.

- Ans
- ✗ 1. एका गोष्टीमुळे दुसरी गोष्ट घडून येणे
 - ✔ 2. मुख्य कार्यापेक्षा गौण कार्याला अधिक खर्च करणे
 - ✗ 3. लोकांच्या नादी लागून घरदार विकणे
 - ✗ 4. मुद्दाम वेड्याचे सोंग घेणे

Question Type : MCQ

Question ID : 630680322246

Option 1 ID : 6306801253635

Option 2 ID : 6306801253633

Option 3 ID : 6306801253634

Option 4 ID : 6306801253636

Status : Answered

Chosen Option : 2

Marks : 2

Q.5 'तळहाताचा पाळणा करणे' या वाक्प्रचाराचा योग्य उपयोग शोधा.

Ans ✗ 1.

जत्रा, जलसा म्हणजे खिसेकापूंसाठी जणू तळहाताचा पाळणा

✗ 2.

मोहन स्वतःची प्रसिद्धी व्हावी यासाठी तळहाताचा पाळणा करतो

✗ 3.

सामना जिंकण्यासाठी सर्व खेळाडू तळहाताचा पाळणा करतात

✔ 4.

शिक्षिका मुलांची काळजी घेताना तळहाताचा पाळणा करतात

Question Type : MCQ

Question ID : 630680322249

Option 1 ID : 6306801253647

Option 2 ID : 6306801253648

Option 3 ID : 6306801253645

Option 4 ID : 6306801253646

Status : Answered

Chosen Option : 4

Marks : 2

Q.6 'सभेत हजर असलेल्यांपैकी कोणीही बोलायला तयार नव्हते. शेवटी विठ्ठलरावांनी सुरुवात केली.' विठ्ठलरावांच्या कृतीस अनुकूल वाक्प्रचार सुचवा.

Ans ✗ 1. हरदासाची कथा

✔ 2. सूतोवाच करणे

✗ 3. आटापिटा करणे

✗ 4. सिंहावलोकन

Question Type : MCQ

Question ID : 630680322251

Option 1 ID : 6306801253655

Option 2 ID : 6306801253654

Option 3 ID : 6306801253656

Option 4 ID : 6306801253653

Status : Answered

Chosen Option : 4

Marks : 0

Q.7 'सौम्य स्वभावाचा' या अर्थाचा पर्याय निवडा

- Ans
- 1. मलिन
 - 2. मवाळ
 - 3. मनस्वी
 - 4. मवाली

Question Type : MCQ
Question ID : 630680322252
Option 1 ID : 6306801253659
Option 2 ID : 6306801253660
Option 3 ID : 6306801253658
Option 4 ID : 6306801253657
Status : Answered
Chosen Option : 2
Marks : 2

Q.8 'गलितगात्र' शब्दाचा विरुद्धार्थी शब्द कोणता आहे?

- Ans
- 1. गराडा
 - 2. शक्तिवान
 - 3. गहिरा
 - 4. घाणेरडा

Question Type : MCQ
Question ID : 630680322241
Option 1 ID : 6306801253616
Option 2 ID : 6306801253614
Option 3 ID : 6306801253615
Option 4 ID : 6306801253613
Status : Answered
Chosen Option : 3
Marks : 0

Q.9 'आमूलाग्र' शब्दाचा समास कोणता आहे?

- Ans
- 1. द्विगू
 - 2. अव्ययीभाव
 - 3. तत्पुरुष
 - 4. द्वंद्व

Question Type : MCQ
Question ID : 630680322244
Option 1 ID : 6306801253627
Option 2 ID : 6306801253626
Option 3 ID : 6306801253628
Option 4 ID : 6306801253625
Status : Answered
Chosen Option : 3
Marks : 0

Q.10 पुढील उदाहरणावरून प्रयोग निश्चित करा.

'तू मुंबईला जायचे होते.'

- Ans
- 1. कर्तरी
 - 2. भावे प्रयोग
 - 3. कर्मणी
 - 4. संकर प्रयोग

Question Type : MCQ
Question ID : 630680322237
Option 1 ID : 6306801253597
Option 2 ID : 6306801253599
Option 3 ID : 6306801253598
Option 4 ID : 6306801253600
Status : Answered
Chosen Option : 1
Marks : 0

Q.11 'स्वच्छ' शब्दाचा विरुद्धार्थी आशय असलेला शब्द शोधा.

- Ans
- 1. नीडर
 - 2. नेटका
 - 3. बरवा
 - 4. गचाळ

Question Type : MCQ
Question ID : 630680322242
Option 1 ID : 6306801253618
Option 2 ID : 6306801253619
Option 3 ID : 6306801253617
Option 4 ID : 6306801253620
Status : Answered
Chosen Option : 4
Marks : 2

Q.12 'अघळपघळ' या विनोदी लेखसंग्रहाचे लेखक कोण आहेत?

- Ans
- 1. ग. ल. ठोकळ
 - 2. प्र. के. अत्रे
 - 3. पु. ल. देशपांडे
 - 4. वसंतराव देशपांडे

Question Type : MCQ
Question ID : 630680322254
Option 1 ID : 6306801253667
Option 2 ID : 6306801253668
Option 3 ID : 6306801253665
Option 4 ID : 6306801253666
Status : Answered
Chosen Option : 3
Marks : 2

Q.13 पुढीलपैकी कर्मधारय समासाचे उदाहरण शोधा.

- Ans
- ✗ 1. महिपाल
 - ✗ 2. मालवाहू
 - ✓ 3. शुभ वर्तमान
 - ✗ 4. व्रतस्थ

Question Type : MCQ
Question ID : 630680322245
Option 1 ID : 6306801253632
Option 2 ID : 6306801253631
Option 3 ID : 6306801253629
Option 4 ID : 6306801253630
Status : Answered
Chosen Option : 2
Marks : 0

Q.14 वाक्यरचना योग्य असलेला पर्याय शोधा.

- Ans
- ✗ 1. सभेत आपण शब्द दोन बोला.
 - ✗ 2. छत्रपती तानाजी शिवाजींना म्हणतो.
 - ✓ 3. उष्णतेने पदार्थ प्रसरण पावतात.
 - ✗ 4. पालवी ऋतूत वृक्षांना वसंत फुटतो.

Question Type : MCQ
Question ID : 630680322233
Option 1 ID : 6306801253584
Option 2 ID : 6306801253582
Option 3 ID : 6306801253581
Option 4 ID : 6306801253583
Status : Answered
Chosen Option : 3
Marks : 2

Q.15 'केसांच्या अंबाड्या होणे' हा वाक्प्रचार काय सुचवतो.

- Ans
- 1. न बोलायची गोष्ट बोलून जाणे
 - 2. वृद्धावस्था येणे
 - 3. संबंध न यावा अशी इच्छा करणे
 - 4. आशीर्वाद देणे

Question Type : MCQ
Question ID : 630680322248
Option 1 ID : 6306801253643
Option 2 ID : 6306801253644
Option 3 ID : 6306801253642
Option 4 ID : 6306801253641
Status : Answered
Chosen Option : 2
Marks : 2

Q.16 'हातघाईवर येणे' या वाक्प्रचाराचा योग्य वापर असलेला पर्याय निवडा.

- Ans
- 1. मजुरी करणारे लोक म्हणजे हातघाईवर जीवन जगणारे
 - 2. महाविद्यालयीन मुले क्षुल्लक कारणावरून हातघाईवर येतात.
 - 3. हातघाईवर आल्यामुळे संपतराव गडगंज श्रीमंत झाले.
 - 4. परीक्षेला जाताना उशीर झाल्याने सारिका हातघाईवर आली.

Question Type : MCQ
Question ID : 630680322250
Option 1 ID : 6306801253650
Option 2 ID : 6306801253649
Option 3 ID : 6306801253652
Option 4 ID : 6306801253651
Status : Answered
Chosen Option : 2
Marks : 2

Q.17 'गाणी बजावण्याची मैफल' याचा समानार्थी शब्द शोधा.

- Ans 1. जलसा
 2. परिहार
 3. जल्लोष
 4. जानवसा

Question Type : MCQ

Question ID : 630680322240

Option 1 ID : 6306801253611

Option 2 ID : 6306801253612

Option 3 ID : 6306801253609

Option 4 ID : 6306801253610

Status : Answered

Chosen Option : 1

Marks : 2

Q.18 'घर गंगेच्या काठी' ही कादंबरी कोणी लिहिली आहे?

- Ans 1. ज्योत्स्ना देवधर
 2. नयना आचार्य
 3. सुमती क्षेत्रमाडे
 4. आसावरी काकडे

Question Type : MCQ

Question ID : 630680322255

Option 1 ID : 6306801253671

Option 2 ID : 6306801253672

Option 3 ID : 6306801253669

Option 4 ID : 6306801253670

Status : Answered

Chosen Option : 1

Marks : 2

Q.19 'झुपका', 'तुरा' या अर्थाचा शब्द कोणता आहे?

- Ans
- ✓ 1. घोस
 - ✗ 2. घोशा
 - ✗ 3. दबा
 - ✗ 4. घोळका

Question Type : MCQ

Question ID : 630680322236

Option 1 ID : 6306801253594

Option 2 ID : 6306801253593

Option 3 ID : 6306801253595

Option 4 ID : 6306801253596

Status : Answered

Chosen Option : 4

Marks : 0

Q.20 'तुकारामबुवाची मेख' वाकप्रचाराचा अर्थ सुचवा.

- Ans
- ✗ 1. बळेच लावलेला संबंध
 - ✗ 2. अभंग लिहिणारा
 - ✓ 3. अनाकलनीय गोष्ट
 - ✗ 4. नास्तिक असणे

Question Type : MCQ

Question ID : 630680322247

Option 1 ID : 6306801253638

Option 2 ID : 6306801253640

Option 3 ID : 6306801253639

Option 4 ID : 6306801253637

Status : Answered

Chosen Option : 4

Marks : 0

Q.21 'काकुळती' शब्दाचा समानार्थी शब्द शोधा.

- Ans
- ✗ 1. पाझरणे
 - ✗ 2. घडामोड
 - ✗ 3. चुटपूट
 - ✓ 4. गयावया

Question Type : MCQ
Question ID : 630680322239
Option 1 ID : 6306801253606
Option 2 ID : 6306801253605
Option 3 ID : 6306801253607
Option 4 ID : 6306801253608
Status : Answered
Chosen Option : 4
Marks : 2

Q.22 वाक्यरचना योग्य असलेला पर्याय शोधा.

- Ans
- ✗ 1. मोठा आजीला आवाज ऐकवत नाही.
 - ✗ 2. समुद्रात बुडताना जहाज मी पाहिले.
 - ✓ 3. त्याच्या घरात खाणारी पुष्कळ माणसे आहेत.
 - ✗ 4. फेडून शेतकऱ्यांची टाकली कर्जे बँकेने

Question Type : MCQ
Question ID : 630680322232
Option 1 ID : 6306801253580
Option 2 ID : 6306801253577
Option 3 ID : 6306801253578
Option 4 ID : 6306801253579
Status : Answered
Chosen Option : 3
Marks : 2

Q.23 'खोडकर', 'उनाड' मुलासाठी कोणता शब्द वापरता येईल?

- Ans
- 1. वाटकूळ
 - 2. वाच्या
 - 3. वांझ
 - 4. वांड

Question Type : MCQ
Question ID : 630680322253
Option 1 ID : 6306801253664
Option 2 ID : 6306801253663
Option 3 ID : 6306801253662
Option 4 ID : 6306801253661
Status : Answered
Chosen Option : 2
Marks : 0

Q.24 'एखादी गोष्ट पुनःपुन्हा म्हणणे' म्हणजे काय आहे?

- Ans
- 1. दडपणे
 - 2. घोक्णे
 - 3. घोंघावणे
 - 4. घोटणे

Question Type : MCQ
Question ID : 630680322235
Option 1 ID : 6306801253592
Option 2 ID : 6306801253591
Option 3 ID : 6306801253590
Option 4 ID : 6306801253589
Status : Answered
Chosen Option : 2
Marks : 2

Q.25 'ययाती आणि देवयानी' या नाटकाचे कर्ते कोण आहेत?

- Ans
- ✓ 1. वि. वा. शिरवाडकर
 - ✗ 2. वसंत कानेटकर
 - ✗ 3. वि. स. खांडेकर
 - ✗ 4. प्र. के. अत्रे

Question Type : MCQ

Question ID : 630680322256

Option 1 ID : 6306801253674

Option 2 ID : 6306801253676

Option 3 ID : 6306801253673

Option 4 ID : 6306801253675

Status : Answered

Chosen Option : 3

Marks : 0

Section : English Language

Q.1 Choose the most appropriate synonym of the given word.

Heedless

- Ans
- ✗ 1. Safe
 - ✗ 2. Vigilant
 - ✓ 3. Negligent
 - ✗ 4. Wary

Question Type : MCQ

Question ID : 630680311685

Option 1 ID : 6306801212828

Option 2 ID : 6306801212826

Option 3 ID : 6306801212827

Option 4 ID : 6306801212825


Status : Answered


Chosen Option : 2


Marks : 0


Q.2 Choose the most appropriate synonym of the given word.

Infamous

Ans  1. Immoral

 2. Noble

 3. Seemly

 4. Ethical

Question Type : **MCQ**

Question ID : **630680311686**

Option 1 ID : **6306801212830**

Option 2 ID : **6306801212829**

Option 3 ID : **6306801212832**

Option 4 ID : **6306801212831**

Status : **Answered**


Chosen Option : **1**


Marks : **2**


Q.3 Select the most appropriate option for the given blank.

They did buy _____ gold cups for about half the price of the metal.

Ans  1. a few

 2. any

 3. little

 4. much

Question Type : **MCQ**

Question ID : **630680311689**

Option 1 ID : **6306801212842**

Option 2 ID : **6306801212843**

Option 3 ID : **6306801212841**

Option 4 ID : **6306801212844**

Status : **Answered**

Chosen Option : **4**

Marks : **0**

Q.4 Select the most appropriate option for the given blank.

You won't tell everyone about this crime, _____?

- Ans
- 1. will not you
 - 2. are you
 - 3. will you
 - 4. should you

Question Type : MCQ

Question ID : 630680311668

Option 1 ID : 6306801212757

Option 2 ID : 6306801212759

Option 3 ID : 6306801212760

Option 4 ID : 6306801212758

Status : Answered

Chosen Option : 3

Marks : 2

Q.5 Find the part of the sentence that has a grammatical error.

In the elevated stage stands a barker dressed in clown style, red pin-stripe pants.

- Ans
- 1. In the elevated stage
 - 2. dressed in
 - 3. stands a barker
 - 4. clown style, red pin-stripe pants

Question Type : MCQ

Question ID : 630680311676

Option 1 ID : 6306801212789

Option 2 ID : 6306801212791

Option 3 ID : 6306801212790

Option 4 ID : 6306801212792

Status : Answered

Chosen Option : 3

Marks : 0

Q.6 Find the part of the sentence that has a grammatical error.

Yesterday afternoon we have been steaming over a summer sea.

- Ans
- 1. summer sea
 - 2. Yesterday afternoon we
 - 3. have been steaming
 - 4. over a

Question Type : MCQ
Question ID : 630680311669
Option 1 ID : 6306801212764
Option 2 ID : 6306801212761
Option 3 ID : 6306801212762
Option 4 ID : 6306801212763
Status : Answered
Chosen Option : 3
Marks : 2

Q.7 Select the correct passive form of the given sentence.

Do you like this yellow stone?

- Ans
- 1. Is this yellow stone liked by you?
 - 2. Was this yellow stone liked by you?
 - 3. Is this yellow stone like by you?
 - 4. Has this yellow stone liked by you?

Question Type : MCQ
Question ID : 630680311673
Option 1 ID : 6306801212777
Option 2 ID : 6306801212779
Option 3 ID : 6306801212778
Option 4 ID : 6306801212780
Status : Answered
Chosen Option : 2
Marks : 0

Q.8 Choose the most appropriate antonym of the given word.

Invigorate

- Ans
- 1. Debilitate
 - 2. Animate
 - 3. Provoke
 - 4. Embolden

Question Type : MCQ
Question ID : 630680311687
Option 1 ID : 6306801212836
Option 2 ID : 6306801212833
Option 3 ID : 6306801212834
Option 4 ID : 6306801212835
Status : Answered
Chosen Option : 3
Marks : 0

Q.9 Select the most appropriate option for the given blank.

Come _____ with us and see what these fellows are made _____.

- Ans
- 1. upon, from
 - 2. across, off
 - 3. on, of
 - 4. along, of

Question Type : MCQ
Question ID : 630680311675
Option 1 ID : 6306801212787
Option 2 ID : 6306801212785
Option 3 ID : 6306801212788
Option 4 ID : 6306801212786
Status : Answered
Chosen Option : 3
Marks : 0

Q.10 Select the option that uses the correct punctuation marks for the given sentence.

The municipal government is funding a _____ education system.

- Ans
- 1. community, based
 - 2. community-based
 - 3. community based,
 - 4. community;based

Question Type : **MCQ**
Question ID : **630680311666**
Option 1 ID : **6306801212751**
Option 2 ID : **6306801212750**
Option 3 ID : **6306801212749**
Option 4 ID : **6306801212752**
Status : **Answered**
Chosen Option : **2**
Marks : **2**

Q.11 Identify the most appropriate meaning of the given idiom/phrase.

Long in the tooth

- Ans
- 1. To be old
 - 2. To be very tall
 - 3. To trust blindly
 - 4. To be wise

Question Type : **MCQ**
Question ID : **630680311682**
Option 1 ID : **6306801212813**
Option 2 ID : **6306801212815**
Option 3 ID : **6306801212814**
Option 4 ID : **6306801212816**
Status : **Not Answered**
Chosen Option : **--**
Marks : **0**

Q.12 Select the most appropriate option for the given blank.

Music continues playing until the audience exits _____ theatre.

- Ans
- ✓ 1. the
 - ✗ 2. No article
 - ✗ 3. a
 - ✗ 4. an

Question Type : MCQ
Question ID : 630680311678
Option 1 ID : 6306801212800
Option 2 ID : 6306801212797
Option 3 ID : 6306801212798
Option 4 ID : 6306801212799
Status : Answered
Chosen Option : 1
Marks : 2

Q.13 Find the part of the sentence that has a grammatical error.

The honour of France was been foully stained, and there was no one to wipe away the shame.

- Ans
- ✗ 1. foully stained, and there
 - ✗ 2. wipe away the shame
 - ✓ 3. The honour of France was been
 - ✗ 4. was no one to

Question Type : MCQ
Question ID : 630680311670
Option 1 ID : 6306801212766
Option 2 ID : 6306801212768
Option 3 ID : 6306801212765
Option 4 ID : 6306801212767
Status : Answered
Chosen Option : 3
Marks : 2

Q.14 Select the most appropriate option for the given blank.

Lucius was ready _____ to do as he was told.

- Ans
- 1. so
 - 2. enough
 - 3. too
 - 4. some

Question Type : MCQ

Question ID : 630680311688

Option 1 ID : 6306801212840

Option 2 ID : 6306801212837

Option 3 ID : 6306801212838

Option 4 ID : 6306801212839

Status : Answered

Chosen Option : 2

Marks : 2

Q.15 Select the INCORRECTLY spelt word.

- Ans
- 1. Vaccinate
 - 2. Affordable
 - 3. Apetite
 - 4. Rescue

Question Type : MCQ

Question ID : 630680311680

Option 1 ID : 6306801212805

Option 2 ID : 6306801212807

Option 3 ID : 6306801212806

Option 4 ID : 6306801212808

Status : Answered

Chosen Option : 4

Marks : 0

Q.16 Select the most appropriate option for the given blank.

He _____ himself in a large plainly furnished tent.

- Ans
- 1. find
 - 2. found
 - 3. founded
 - 4. finds

Question Type : MCQ
Question ID : 630680311674
Option 1 ID : 6306801212782
Option 2 ID : 6306801212781
Option 3 ID : 6306801212783
Option 4 ID : 6306801212784
Status : Answered
Chosen Option : 2
Marks : 2

Q.17 Identify the most appropriate meaning of the given idiom/phrase.

Till the cows come home

- Ans
- 1. For certain
 - 2. For a very long time
 - 3. Not to be taken seriously
 - 4. To be turned away

Question Type : MCQ
Question ID : 630680311684
Option 1 ID : 6306801212824
Option 2 ID : 6306801212821
Option 3 ID : 6306801212822
Option 4 ID : 6306801212823
Status : Answered
Chosen Option : 2
Marks : 2

Q.18 Find the part of the sentence that has a grammatical error.

For three days, Lina laid on her bed almost without giving a sign of life.

- Ans
- ✔ 1. laid on her bed
 - ✘ 2. giving a sign of life
 - ✘ 3. almost without
 - ✘ 4. For three days, Lina

Question Type : **MCQ**
Question ID : **630680311677**
Option 1 ID : **6306801212794**
Option 2 ID : **6306801212796**
Option 3 ID : **6306801212795**
Option 4 ID : **6306801212793**
Status : **Answered**
Chosen Option : **3**
Marks : **0**

Q.19 Identify the most appropriate meaning of the given idiom/phrase.

Put a sock in it

- Ans
- ✔ 1. To tell someone to stop talking
 - ✘ 2. To make someone extremely angry
 - ✘ 3. To beat someone
 - ✘ 4. To lock someone in a room

Question Type : **MCQ**
Question ID : **630680311683**
Option 1 ID : **6306801212818**
Option 2 ID : **6306801212819**
Option 3 ID : **6306801212820**
Option 4 ID : **6306801212817**
Status : **Answered**
Chosen Option : **2**
Marks : **0**

Q.20 Select the correct passive form of the given sentence.

Monika squandered all her money.

- Ans
- 1. All her money is being squandered by Monika.
 - 2. All her money was squandered by Monika.
 - 3. All her money was being squandered by Monika.
 - 4. All her money is squandered by Monika.

Question Type : MCQ
Question ID : 630680311672
Option 1 ID : 6306801212773
Option 2 ID : 6306801212775
Option 3 ID : 6306801212774
Option 4 ID : 6306801212776
Status : Answered
Chosen Option : 2
Marks : 2

Q.21 Select the most appropriate option for the given blank.

It was pouring that day, _____?

- Ans
- 1. wasn't it
 - 2. is it
 - 3. hadn't it
 - 4. did it

Question Type : MCQ
Question ID : 630680311667
Option 1 ID : 6306801212755
Option 2 ID : 6306801212756
Option 3 ID : 6306801212753
Option 4 ID : 6306801212754
Status : Answered
Chosen Option : 1
Marks : 2

Q.22 Select the most appropriate option for the given blank.

He applied to various universities including _____ Stanford.

- Ans
- 1. the
 - 2. No article
 - 3. a
 - 4. an

Question Type : **MCQ**
Question ID : **630680311679**
Option 1 ID : **6306801212804**
Option 2 ID : **6306801212801**
Option 3 ID : **6306801212802**
Option 4 ID : **6306801212803**
Status : **Answered**
Chosen Option : 1
Marks : 0

Q.23 Select the sentence with no spelling error.

- Ans
- 1. I never experienced these feelings of self-misturst.
 - 2. I never experienced these feelings of self-mistrust.
 - 3. I never experienced these felings of self-mistrust.
 - 4. I never expereinced these feelings of self-mistrust.

Question Type : **MCQ**
Question ID : **630680311681**
Option 1 ID : **6306801212811**
Option 2 ID : **6306801212812**
Option 3 ID : **6306801212810**
Option 4 ID : **6306801212809**
Status : **Answered**
Chosen Option : 2
Marks : 2

Q.24 Select the most appropriate option for the given blank.

It is now important to note that Peter's influence over those millions of people _____ a shallow venture.

- Ans**
- 1. would not been
 - 2. had not
 - 3. hasn't been
 - 4. had not been

Question Type : **MCQ**
Question ID : **630680311671**
Option 1 ID : **6306801212772**
Option 2 ID : **6306801212769**
Option 3 ID : **6306801212770**
Option 4 ID : **6306801212771**
Status : **Answered**
Chosen Option : **3**
Marks : **2**

Q.25 Select the option that uses the correct punctuation marks for the given sentence.

My _____ to fade gradually.

- Ans**
- 1. troubles, though, began
 - 2. troubles though began,
 - 3. troubles though, began
 - 4. troubles, though began

Question Type : **MCQ**
Question ID : **630680311665**
Option 1 ID : **6306801212745**
Option 2 ID : **6306801212748**
Option 3 ID : **6306801212746**
Option 4 ID : **6306801212747**
Status : **Answered**
Chosen Option : **4**
Marks : **0**

Section : **General Knowledge**

Q.1 खालीलपैकी कोणत्या वर्षी सिंधू जल करार केला गेला?

- Ans 1. 1960
 2. 1972
 3. 1948
 4. 1954

Question Type : MCQ
Question ID : 630680312469
Option 1 ID : 6306801215759
Option 2 ID : 6306801215760
Option 3 ID : 6306801215757
Option 4 ID : 6306801215758
Status : Answered
Chosen Option : 2
Marks : 0

Q.2 खालीलपैकी कोणत्या संघाने राष्ट्रीय क्रीडा स्पर्धा 2022 मध्ये सर्वाधिक सुवर्णपदके जिंकली होती?

- Ans 1. गुजरात
 2. केरळ
 3. कर्नाटक
 4. हरियाणा

Question Type : MCQ
Question ID : 630680312460
Option 1 ID : 6306801215723
Option 2 ID : 6306801215724
Option 3 ID : 6306801215721
Option 4 ID : 6306801215722
Status : Answered
Chosen Option : 4
Marks : 2

Q.3 सामाजिक सुरक्षा संहिता, 2020 नुसार, कोणत्याही स्त्रीला मातृत्व लाभ मिळण्यासाठीचा कमाल कालावधी _____ असेल.

- Ans
- 1. अठ्ठावीस आठवडे
 - 2. सव्वीस आठवडे
 - 3. चोवीस आठवडे
 - 4. बावीस आठवडे

Question Type : MCQ
Question ID : 630680312464
Option 1 ID : 6306801215740
Option 2 ID : 6306801215739
Option 3 ID : 6306801215738
Option 4 ID : 6306801215737
Status : Answered
Chosen Option : 3
Marks : 0

Q.4 _____ मध्ये, बहादूर शाह जफरचा रंगूनच्या तुरुंगात मृत्यू झाला.

- Ans
- 1. 1868
 - 2. 1860
 - 3. 1862
 - 4. 1865

Question Type : MCQ
Question ID : 630680312466
Option 1 ID : 6306801215748
Option 2 ID : 6306801215745
Option 3 ID : 6306801215746
Option 4 ID : 6306801215747
Status : Answered
Chosen Option : 2
Marks : 0

Q.5 पंडिता रमाबाई यांच्याबाबत खालीलपैकी कोणते/ती विधान/ने अचूक आहे/आहेत?

- I. त्यांनी प्रार्थना समाजाच्या सहाय्याने, आर्य महिला समाजाची स्थापना केली.
- II. त्या शारदा सदनच्या संस्थापक होत्या.

Ans 1. किंवा II पैकी एकही नाही

2. केवळ I

3. केवळ II

4. आणि II दोन्हीही

Question Type : MCQ

Question ID : 630680312481

Option 1 ID : 6306801215808

Option 2 ID : 6306801215805

Option 3 ID : 6306801215806

Option 4 ID : 6306801215807

Status : Answered

Chosen Option : 4

Marks : 2

Q.6 महाराष्ट्र राज्य माहिती आयोगाचे पहिले मुख्य माहिती आयुक्त कोण होते?

Ans 1. रत्नाकर गायकवाड

2. सुरेश व्ही. जोशी

3. सुमित मलिक

4. विलास पाटील

Question Type : MCQ

Question ID : 630680312482

Option 1 ID : 6306801215809

Option 2 ID : 6306801215811

Option 3 ID : 6306801215812

Option 4 ID : 6306801215810

Status : Answered

Chosen Option : 2

Marks : 2

Q.7 _____ मध्ये, सोसायटी नोंदणी अधिनियम, 1860 च्या अंतर्गत एक स्वायत्त संस्था म्हणून महाराष्ट्र विकास प्रशासन प्राधिकरणाची स्थापना केली गेली.

- Ans
- 1. 1972
 - 2. 1974
 - 3. 1982
 - 4. 1984

Question Type : MCQ
Question ID : 630680312483
Option 1 ID : 6306801215813
Option 2 ID : 6306801215814
Option 3 ID : 6306801215815
Option 4 ID : 6306801215816
Status : Answered
Chosen Option : 2
Marks : 0

Q.8 The energy required for various chemical activities needed for life is released by _____ in the form of ATP.

- Ans
- 1. Mitochondria
 - 2. Lysosomes
 - 3. Ribosome
 - 4. Nucleous

Question Type : MCQ
Question ID : 630680312478
Option 1 ID : 6306801215795
Option 2 ID : 6306801215793
Option 3 ID : 6306801215794
Option 4 ID : 6306801215796
Status : Answered
Chosen Option : 1
Marks : 2

Q.9 2011 च्या जणगणनेनुसार, 2001-2011 च्या दशकात बौद्ध धर्मीय समुदायाच्या लोकसंख्येच्या वाढीचा दर _____ होता.

- Ans
- 1. 5.4 टक्के
 - 2. 6.1 टक्के
 - 3. 7.4 टक्के
 - 4. 8.1 टक्के

Question Type : MCQ
Question ID : 630680312472
Option 1 ID : 6306801215769
Option 2 ID : 6306801215770
Option 3 ID : 6306801215771
Option 4 ID : 6306801215772
Status : Answered
Chosen Option : 2
Marks : 2

- Q.10 कावेरी दक्षिण वन्यजीव अभयारण्याच्या संदर्भात खालीलपैकी कोणते/ती विधान/ने योग्य आहे/आहेत?
- ते सस्तन प्राण्यांच्या 35 प्रजाती आणि पक्ष्यांच्या 238 प्रजातींचे घर आहे.
 - नोव्हेंबर 2022 मध्ये त्यास तामिळनाडूचे 17 वे वन्यजीव अभयारण्य म्हणून अधिसूचित करण्यात आले आहे.

- Ans
1. केवळ I
2. I आणि II दोन्हीही
3. केवळ II
4. किंवा II पैकी एकही नाही

Question Type : MCQ
Question ID : 630680312462
Option 1 ID : 6306801215729
Option 2 ID : 6306801215731
Option 3 ID : 6306801215730
Option 4 ID : 6306801215732
Status : Answered
Chosen Option : 2
Marks : 2

- Q.11 खालीलपैकी कोणते/ती विधान/ने अचूक आहे/आहेत?
- प्राणिजात (fauna) ही संज्ञा विशिष्ट प्रदेश किंवा विशिष्ट काळातील वनस्पतींना दर्शविण्यासाठी वापरली जाते.
 - भारतात सुमारे 47000 वनस्पती प्रजाती आहेत.

- Ans
1. I आणि II दोन्हीही
2. केवळ II
3. किंवा II पैकी एकही नाही
4. केवळ I

Question Type : MCQ
Question ID : 630680312471
Option 1 ID : 6306801215767
Option 2 ID : 6306801215766
Option 3 ID : 6306801215768
Option 4 ID : 6306801215765
Status : Answered
Chosen Option : 1
Marks : 0

Q.12 2011 च्या जणगणनेनुसार, खालीलपैकी कोणते/ती विधान/ने अचूक आहे/आहेत?

- I. उत्तर प्रदेश हे भारतातील सर्वाधिक लोकसंख्येचे राज्य होते.
- II. गोवा हे भारतातील सर्वात कमी लोकसंख्येचे राज्य होते.

Ans 1. | किंवा II पैकी एकही नाही

2. | आणि II दोन्हीही

3. केवळ I

4. केवळ II

Question Type : MCQ

Question ID : 630680312473

Option 1 ID : 6306801215776

Option 2 ID : 6306801215775

Option 3 ID : 6306801215773

Option 4 ID : 6306801215774

Status : Answered

Chosen Option : 2

Marks : 0

Q.13 _____ यांनी अभिनव भारत सोसायटीची स्थापना केली होती.

Ans 1. आत्माराम पांडुरंग

2. महादेव गोविंद रानडे

3. गोपाळ कृष्ण गोखले

4. गणेश सावरकर

Question Type : MCQ

Question ID : 630680312480

Option 1 ID : 6306801215804

Option 2 ID : 6306801215802

Option 3 ID : 6306801215803

Option 4 ID : 6306801215801

Status : Answered

Chosen Option : 4

Marks : 2

Q.14 भारताच्या कोणत्या मंत्रालयाद्वारे नई रोशनी ही योजना राबविली जात आहे?

- Ans
- 1. कौशल्य विकास आणि उद्योजकता मंत्रालय
 - 2. शिक्षण मंत्रालय
 - 3. अल्पसंख्याक व्यवहार मंत्रालय
 - 4. महिला आणि बाल विकास मंत्रालय

Question Type : MCQ

Question ID : 630680312463

Option 1 ID : 6306801215733

Option 2 ID : 6306801215734

Option 3 ID : 6306801215735

Option 4 ID : 6306801215736

Status : Answered

Chosen Option : 4

Marks : 0

Q.15 परिषदेच्या राजकारणाकडे परतण्याच्या हेतूने युक्तिवाद करण्यासाठी म्हणून काँग्रेसच्या अंतर्गतच स्वराज पक्षाची स्थापना कोणी केली?

- I. सी.आर. दास
- II. मोतीलाल नेहरू

- Ans
- 1. केवळ II
 - 2. I आणि II दोन्हीही
 - 3. I किंवा II पैकी एकही नाही
 - 4. केवळ I

Question Type : MCQ

Question ID : 630680312467

Option 1 ID : 6306801215750

Option 2 ID : 6306801215751

Option 3 ID : 6306801215752

Option 4 ID : 6306801215749

Status : Answered

Chosen Option : 2

Marks : 2

Q.16 इंडिया स्टेट ऑफ फॉरेस्ट रिपोर्ट 2021 नुसार, भारतातील वनक्षेत्र हे देशाच्या भौगोलिक क्षेत्राच्या _____ टक्के आहे.

- Ans
- 1. 30.07
 - 2. 24.62
 - 3. 10.08
 - 4. 5.03

Question Type : MCQ

Question ID : 630680312470

Option 1 ID : 6306801215764

Option 2 ID : 6306801215763

Option 3 ID : 6306801215762

Option 4 ID : 6306801215761

Status : Answered

Chosen Option : 1

Marks : 0

Q.17 बंदी ही गायीची देशी जात भारतातील कोणत्या राज्यातील आहे?

- Ans
- 1. उत्तराखंड
 - 2. हरियाणा
 - 3. ओडिशा
 - 4. गुजरात

Question Type : MCQ

Question ID : 630680312461

Option 1 ID : 6306801215727

Option 2 ID : 6306801215726

Option 3 ID : 6306801215728

Option 4 ID : 6306801215725

Status : Answered

Chosen Option : 1

Marks : 2

Q.18 भारतीय राज्यघटनेच्या 'भाग-I' मध्ये खालीलपैकी कोणता अनुच्छेद उल्लेखित नाही?

Ans 1.

धर्म, वंश, जात, लिंग किंवा जन्मस्थान यांच्या आधारे केल्या जाणाऱ्या भेदभावास प्रतिबंध

2. नवीन राज्यांची स्वीकृती किंवा स्थापना करणे

3.

नवीन राज्यांची निर्मिती आणि अस्तित्वात असलेल्या राज्यांच्या क्षेत्र, सीमा, नावे यांत परिवर्तन करणे

4. संघराज्याचे नाव आणि प्रदेश

Question Type : MCQ

Question ID : 630680312475

Option 1 ID : 6306801215784

Option 2 ID : 6306801215782

Option 3 ID : 6306801215783

Option 4 ID : 6306801215781

Status : Answered

Chosen Option : 1

Marks : 2

Q.19 भारताचा नागरिक अशी कोणीही व्यक्ती असेल, जिचा जन्म 26 जानेवारी 1950 रोजी किंवा त्यानंतर, पण _____ च्या पहिल्या दिवसापूर्वी झालेला असेल.

Ans 1. जून 1983

2. जुलै 1985

3. जुलै 1987

4. जून 1985

Question Type : MCQ

Question ID : 630680312476

Option 1 ID : 6306801215785

Option 2 ID : 6306801215788

Option 3 ID : 6306801215787

Option 4 ID : 6306801215786

Status : Answered

Chosen Option : 3

Marks : 2

Q.20 भारतीय राज्यघटनेतील खालीलपैकी कोणत्या अनुच्छेदात मूलभूत कर्तव्ये समाविष्ट आहेत?

- Ans
- 1. अनुच्छेद 50
 - 2. अनुच्छेद 45A
 - 3. अनुच्छेद 51A
 - 4. अनुच्छेद 51

Question Type : MCQ
Question ID : 630680312474
Option 1 ID : 6306801215778
Option 2 ID : 6306801215777
Option 3 ID : 6306801215780
Option 4 ID : 6306801215779
Status : Answered
Chosen Option : 3
Marks : 2

Q.21 _____ मध्ये वेद समाजाची स्थापना झाली होती.

- Ans
- 1. 1883
 - 2. 1864
 - 3. 1867
 - 4. 1897

Question Type : MCQ
Question ID : 630680312465
Option 1 ID : 6306801215743
Option 2 ID : 6306801215741
Option 3 ID : 6306801215742
Option 4 ID : 6306801215744
Status : Answered
Chosen Option : 3
Marks : 0

Q.22 Which of the following statement is correct?

I. Prokaryotic cell contain single chromosome.

II. Eukaryotic cell contain more than one chromosome.

- Ans
- 1. Only I
 - 2. Both I and II
 - 3. Neither I nor II
 - 4. Only II

Question Type : MCQ
Question ID : 630680312479
Option 1 ID : 6306801215797
Option 2 ID : 6306801215799
Option 3 ID : 6306801215800
Option 4 ID : 6306801215798
Status : Answered
Chosen Option : 2
Marks : 2

Q.23 लॉर्ड हेस्टिंग्जच्या बाबतीत खालीलपैकी कोणते/ती विधान/ने अचूक आहे/आहेत?

I. तो 1813 ते 1823 दरम्यान भारताचा गव्हर्नर जनरल होता.

II. त्याने आखलेले धोरण पुढे हडपनीती (Doctrine of Lapse) म्हणून ओळखले जाऊ लागले.

- Ans
- 1. केवळ I
 - 2. I किंवा II पैकी एकही नाही
 - 3. I आणि II दोन्हीही
 - 4. केवळ II

Question Type : MCQ
Question ID : 630680312468
Option 1 ID : 6306801215753
Option 2 ID : 6306801215756
Option 3 ID : 6306801215755
Option 4 ID : 6306801215754
Status : Answered
Chosen Option : 3
Marks : 0

Q.24 खालीलपैकी कोणते/ती विधान/ने अचूक आहे/आहेत?

- I. मोझिला फायरफॉक्स (Mozilla Firefox) हा एक ओपन सोर्स ब्राऊझर आहे.
II. मोझिला फायरफॉक्स (Mozilla Firefox) मोफत डाऊनलोड केला जाऊ शकत नाही.

Ans

✓ 1. केवळ I

✗ 2. I आणि II दोन्हीही

✗ 3. किंवा II पैकी एकही नाही

✗ 4. केवळ II

Question Type : MCQ

Question ID : 630680312484

Option 1 ID : 6306801215817

Option 2 ID : 6306801215819

Option 3 ID : 6306801215820

Option 4 ID : 6306801215818

Status : Answered

Chosen Option : 1

Marks : 2

Q.25 Which of the following organism does NOT belong to Protista kingdom of living organism?

Ans

✗ 1. Diatoms

✓ 2. Blue-green algae

✗ 3. Golden algae

✗ 4. Protozoan

Question Type : MCQ

Question ID : 630680312477

Option 1 ID : 6306801215790

Option 2 ID : 6306801215792

Option 3 ID : 6306801215789

Option 4 ID : 6306801215791

Status : Answered

Chosen Option : 3

Marks : 0

Section : General Intelligence

Q.1 खालील प्रश्नात, दिलेल्या पर्यायांतून संबंधित अक्षर-जोडी निवडा.

MZ : IV :: ?

- Ans
- 1. RE : EU
 - 2. NA : AN
 - 3. SF : UV
 - 4. YL : UH

Question Type : MCQ

Question ID : 630680312911

Option 1 ID : 6306801217524

Option 2 ID : 6306801217522

Option 3 ID : 6306801217521

Option 4 ID : 6306801217523

Status : Answered

Chosen Option : 4

Marks : 2

Q.2 खालील प्रश्नात, चार अक्षर-जोड्या दिलेल्या आहेत.

(-) च्या डावीकडील अक्षरे ही (-) च्या उजवीकडील अक्षरांशी काही तर्क/नियम/संबंध यानुसार संबंधित आहेत. त्याच तर्क/नियम/संबंधाच्या आधारे तीन अक्षर-जोड्या एकसमान आहेत. दिलेल्या पर्यायांतून गटात न बसणारा पर्याय निवडा.

- Ans
- 1. MH - NS
 - 2. PK - KP
 - 3. YU - AE
 - 4. UP - FK

Question Type : MCQ

Question ID : 630680312913

Option 1 ID : 6306801217529

Option 2 ID : 6306801217531

Option 3 ID : 6306801217530

Option 4 ID : 6306801217532

Status : Answered

Chosen Option : 3

Marks : 2

Q.3 खालील प्रश्नात, दिलेल्या मालिकेत प्रश्नचिन्हाच्या जागी येणारी संख्या निवडा.

730, 714, 734, ?, 738, 706

Ans 1. 705

2. 700

3. 708

4. 710

Question Type : MCQ

Question ID : 630680312916

Option 1 ID : 6306801217542

Option 2 ID : 6306801217541

Option 3 ID : 6306801217543

Option 4 ID : 6306801217544

Status : Answered

Chosen Option : 4

Marks : 2

Q.4 खाली दिलेली अक्षरे आणि चिन्हांनी बनलेली शृंखला लक्षात घ्या. अशी किती चिन्हे आहेत ज्यांच्या लगेचच नंतर इतर कोणतेही चिन्ह येत नाही?

B @ * @ A # N @ O * P Q R S # @ * # @ *

Ans 1. 8

2. 5

3. 7

4. 6

Question Type : MCQ

Question ID : 630680312910

Option 1 ID : 6306801217518

Option 2 ID : 6306801217519

Option 3 ID : 6306801217517

Option 4 ID : 6306801217520

Status : Answered

Chosen Option : 2

Marks : 2

Q.5 एक पद गहाळ असलेली एक मालिका दिली आहे. दिलेल्या पर्यायांतून ती मालिका पूर्ण करणारा अचूक पर्याय निवडा.

NRTS, OUVV, PXVY, QAWB, ?

- Ans
- 1. RMNO
 - 2. REAS
 - 3. RDXE
 - 4. DMRQ

Question Type : MCQ

Question ID : 630680312908

Option 1 ID : 6306801217512

Option 2 ID : 6306801217510

Option 3 ID : 6306801217511

Option 4 ID : 6306801217509

Status : Answered

Chosen Option : 3

Marks : 2

Q.6 खालील प्रश्नात, चार अक्षर-जोड्या दिलेल्या आहेत.

(-) च्या डावीकडील अक्षरे ही (-) च्या उजवीकडील अक्षरांशी काही तर्क/नियम/संबंध यानुसार संबंधित आहेत. त्याच तर्क/नियम/संबंधाच्या आधारे तीन अक्षर-जोड्या एकसमान आहेत. दिलेल्या पर्यायांतून गटात न बसणारा पर्याय निवडा.

- Ans
- 1. VDBK - TBYH
 - 2. FNLU - DLIR
 - 3. LTRA - JROX
 - 4. YDMK - WBKG

Question Type : MCQ

Question ID : 630680312914

Option 1 ID : 6306801217535

Option 2 ID : 6306801217536

Option 3 ID : 6306801217534

Option 4 ID : 6306801217533

Status : Answered

Chosen Option : 4

Marks : 2

Q.7 एक पद गहाळ असलेली एक मालिका दिली आहे. दिलेल्या पर्यायांतून ती मालिका पूर्ण करणारा अचूक पर्याय निवडा.

MHDM, FCUB, YXLQ, RSCF, ?

- Ans
- 1. KOPQ
 - 2. KNOP
 - 3. KNTU
 - 4. KTOQ

Question Type : MCQ
Question ID : 630680312909
Option 1 ID : 6306801217514
Option 2 ID : 6306801217516
Option 3 ID : 6306801217515
Option 4 ID : 6306801217513
Status : Answered
Chosen Option : 3
Marks : 2

Q.8 खालील प्रश्नात, दिलेल्या मालिकेत प्रश्नचिन्हाच्या जागी येणारी संख्या निवडा.

$$5 + 4 - 6 \div 3 \times 1 = 19$$

- Ans
- 1. \times आणि $-$
 - 2. \times आणि $+$
 - 3. $+$ आणि $-$
 - 4. \div आणि \times

Question Type : MCQ
Question ID : 630680312917
Option 1 ID : 6306801217547
Option 2 ID : 6306801217545
Option 3 ID : 6306801217548
Option 4 ID : 6306801217546
Status : Answered
Chosen Option : 2
Marks : 2

Q.9 एक पद गहाळ असलेली एक मालिका दिली आहे. दिलेल्या पर्यायांतून ती मालिका पूर्ण करणारा अचूक पर्याय निवडा.

PQRS, ONQP, NKPM, MHOJ, ?

- Ans
- 1. LMQR
 - 2. LQRS
 - 3. LMNO
 - 4. LENG

Question Type : MCQ

Question ID : 630680312907

Option 1 ID : 6306801217505

Option 2 ID : 6306801217507

Option 3 ID : 6306801217508

Option 4 ID : 6306801217506

Status : Answered

Chosen Option : 4

Marks : 2

Q.10 खालील प्रश्नात, दिलेल्या मालिकेत प्रश्नचिन्हाच्या जागी येणारी संख्या निवडा.

110, 114, 122, 138, 170, ?

- Ans
- 1. 230
 - 2. 260
 - 3. 234
 - 4. 280

Question Type : MCQ

Question ID : 630680312915

Option 1 ID : 6306801217537

Option 2 ID : 6306801217539

Option 3 ID : 6306801217538

Option 4 ID : 6306801217540

Status : Answered

Chosen Option : 3

Marks : 2

Q.11 खालील प्रश्नात, दिलेल्या पर्यायांतून संबंधित अक्षर-जोडी निवडा.

NA : SF :: ?

- Ans
- ✗ 1. XY : ZZ
 - ✗ 2. SF : OO
 - ✓ 3. OB : TG
 - ✗ 4. XK : TG

Question Type : MCQ

Question ID : 630680312912

Option 1 ID : 6306801217526

Option 2 ID : 6306801217525

Option 3 ID : 6306801217528

Option 4 ID : 6306801217527

Status : Answered

Chosen Option : 4

Marks : 0

Q.12 खालील प्रश्नात काही विधाने आणि त्या विधानांवर आधारित काही निष्कर्ष दिले आहेत. जरी दिलेली विधाने सामान्यतः ज्ञात तथ्यांशी विसंगत वाटत असली तरीही, ती सत्य आहेत असे गृहीत धरा. दिलेले सर्व निष्कर्ष वाचा आणि त्यानंतर दिलेल्यांपैकी कोणता/ते निष्कर्ष दिलेल्या विधानांशी तर्कसंगत आहे/आहेत, ते ठरवा.

विधाने:

- I. काही टोकयंत्रे शुभ आहेत.
- II. सर्व हिरवे शुभ आहेत.

निष्कर्ष:

- I. काही हिरवे टोकयंत्रे नाहीत.
- II. काही शुभ टोकयंत्रे नाहीत.
- III. सर्व शुभ हिरवे आहेत.

- Ans
- ✗ 1. केवळ निष्कर्ष II तर्कसंगत आहे
 - ✗ 2. I आणि II हे दोन्ही निष्कर्ष तर्कसंगत आहेत
 - ✓ 3. एकही निष्कर्ष तर्कसंगत नाही
 - ✗ 4. II आणि III हे दोन्ही निष्कर्ष तर्कसंगत आहेत

Question Type : MCQ

Question ID : 630680312906

Option 1 ID : 6306801217501

Option 2 ID : 6306801217502

Option 3 ID : 6306801217503

Option 4 ID : 6306801217504

Status : Answered

Chosen Option : 1

Marks : 0

Q.13 खालील प्रश्नात काही विधाने आणि त्या विधानांवर आधारित काही निष्कर्ष दिले आहेत. जरी दिलेली विधाने सामान्यतः जात तथ्यांशी विसंगत वाटत असली तरीही, ती सत्य आहेत असे गृहीत धरा. दिलेले सर्व निष्कर्ष वाचा आणि त्यानंतर दिलेल्यांपैकी कोणता/ते निष्कर्ष दिलेल्या विधानांशी तर्कसंगत आहे/आहेत, ते ठरवा.

विधाने:

- I. काही वर्ग शाळा आहेत.
- II. सर्व वर्ग शिक्षक आहेत.

निष्कर्ष:

- I. सर्व शिक्षक वर्ग आहेत.
- II. सर्व शाळा वर्ग आहेत.
- III. सर्व शाळा शिक्षक आहेत.

- Ans
- 1. II आणि III हे दोन्ही निष्कर्ष तर्कसंगत आहेत
 - 2. I आणि III हे दोन्ही निष्कर्ष तर्कसंगत आहेत
 - 3. सर्व निष्कर्ष तर्कसंगत आहेत
 - 4. एकही निष्कर्ष तर्कसंगत नाही

Question Type : MCQ

Question ID : 630680312905

Option 1 ID : 6306801217500

Option 2 ID : 6306801217499

Option 3 ID : 6306801217497

Option 4 ID : 6306801217498

Status : Answered

Chosen Option : 4

Marks : 2

Q.14 $\frac{117}{3} \times \left(\frac{56}{21} \div \frac{8}{7} \right) + \frac{28}{4}$ चे मूल्य काय आहे?

- Ans
- 1. 46
 - 2. 98
 - 3. 112
 - 4. 128

Question Type : MCQ

Question ID : 630680312766

Option 1 ID : 6306801216945

Option 2 ID : 6306801216946

Option 3 ID : 6306801216947

Option 4 ID : 6306801216948

Status : Answered

Chosen Option : 2

Marks : 2

Q.15 एक काम राजू एकट्याने 36 दिवसांत पूर्ण करू शकतो आणि तेच काम राज हा एकट्याने, राजूला लागलेल्या कालावधीपेक्षा निम्न्या कालावधीत पूर्ण करू शकतो. त्या दोघांना एकत्र मिळून एकूण कामाचा 1/4 भाग पूर्ण करण्यासाठी किती दिवस लागतील?

- Ans
- 1. 5 दिवस
 - 2. 3 दिवस
 - 3. 3.5 दिवस
 - 4. 2.5 दिवस

Question Type : MCQ

Question ID : 630680312776

Option 1 ID : 6306801216988

Option 2 ID : 6306801216986

Option 3 ID : 6306801216987

Option 4 ID : 6306801216985

Status : Answered

Chosen Option : 2

Marks : 2

Q.16 रु. 7000 ची रक्कम चक्रवाढ व्याजाच्या (सहामाही गणना करून) वार्षिक 20 टक्के दराने कर्जाऊ दिली जाते. 18 महिन्यांचे चक्रवाढ व्याज किती असेल?

- Ans
- 1. रु. 2800
 - 2. रु. 2780
 - 3. रु. 2317
 - 4. रु. 2480

Question Type : MCQ

Question ID : 630680312773

Option 1 ID : 6306801216975

Option 2 ID : 6306801216976

Option 3 ID : 6306801216974

Option 4 ID : 6306801216973

Status : Answered

Chosen Option : 4

Marks : 0

Q.17 जेव्हा एका संख्येस 136 ने भागले जाते, तेव्हा 36 बाकी उरते. जर त्याच संख्येला 17 ने भागले, तर किती बाकी उरेल?

- Ans 1. 3
 2. 1
 3. 2
 4. 7

Question Type : MCQ

Question ID : 630680312768

Option 1 ID : 6306801216956

Option 2 ID : 6306801216955

Option 3 ID : 6306801216954

Option 4 ID : 6306801216953

Status : Answered

Chosen Option : 1

Marks : 0

Q.18 रु. 120 ला 100 पेन्सिली विकल्यामुळे एका किरकोळ विक्रेत्यास 40 टक्के तोटा होतो. 20 टक्के नफा मिळवण्यासाठी, त्याने किती पेन्सिली रु. 180 ला विकल्या पाहिजेत?

- Ans 1. 80
 2. 75
 3. 60
 4. 88

Question Type : MCQ

Question ID : 630680312770

Option 1 ID : 6306801216962

Option 2 ID : 6306801216963

Option 3 ID : 6306801216961

Option 4 ID : 6306801216964

Status : Answered

Chosen Option : 2

Marks : 2

Q.19 रामने तीन प्रकारची सफरचंदे खरेदी केली. त्याने पहिल्या प्रकारची सफरचंदे रु. 480 प्रति 8 kg या दराने खरेदी केली, दुसऱ्या प्रकारची रु. 520 प्रति 13 kg या दराने खरेदी केली, तिसऱ्या प्रकारची रु. 280 प्रति 4 kg या दराने खरेदी केली. त्याने तिन्ही प्रकारची सफरचंदे एकत्र केली आणि त्यांना रु. 70 प्रति kg या दराने विकले. जर त्याने सफरचंदाच्या सर्व प्रकारांची समान प्रमाणात खरेदी केली असेल, तर रामच्या नफा/तोट्याची टक्केवारी किती असेल?

- Ans
- 1. 20 टक्के नफा
 - 2. 23.53 टक्के नफा
 - 3. 27.27 टक्के नफा
 - 4. 12.5 टक्के नफा

Question Type : MCQ
Question ID : 630680312771
Option 1 ID : 6306801216965
Option 2 ID : 6306801216968
Option 3 ID : 6306801216967
Option 4 ID : 6306801216966
Status : Answered
Chosen Option : 2
Marks : 2

Q.20 रु. 5500 ची रक्कम सरळव्याजाच्या वार्षिक 5 टक्के दराने किती कालावधीत रु. 6600 होईल?

- Ans
- 1. 4 वर्षे
 - 2. 5 वर्षे
 - 3. 2 वर्षे
 - 4. 3 वर्षे

Question Type : MCQ
Question ID : 630680312772
Option 1 ID : 6306801216971
Option 2 ID : 6306801216972
Option 3 ID : 6306801216969
Option 4 ID : 6306801216970
Status : Answered
Chosen Option : 1
Marks : 2

Q.21 एक रेल्वेगाडी 50 km/hr वेगाने जात आहे. 625 मीटरचे अंतर पार करण्यासाठी तिला किती सेकंद लागतील?

Ans 1. 36

2. 45

3. 54

4. 30

Question Type : MCQ

Question ID : 630680312774

Option 1 ID : 6306801216978

Option 2 ID : 6306801216980

Option 3 ID : 6306801216979

Option 4 ID : 6306801216977

Status : Answered

Chosen Option : 2

Marks : 2

Q.22 13 खेळाडू असलेल्या एका संघाचे सरासरी वय 30 वर्षे आहे. जर त्यात प्रशिक्षकाचे वयदेखील समाविष्ट केले, तर सरासरी वय 1.8 वर्षांनी वाढते. तर प्रशिक्षकाचे वय किती आहे?

Ans 1. 59.8 वर्षे

2. 55.2 वर्षे

3. 57.2 वर्षे

4. 56 वर्षे

Question Type : MCQ

Question ID : 630680312769

Option 1 ID : 6306801216959

Option 2 ID : 6306801216958

Option 3 ID : 6306801216960

Option 4 ID : 6306801216957

Status : Answered

Chosen Option : 2

Marks : 2

Q.23 एका टाकीस J आणि T या दोन तोट्या अनुक्रमे 120 मिनिटांत आणि 144 मिनिटांत भरू शकतात. जर Z ही निर्गम तोटी सुरु केली, तर सर्व तिन्ही तोट्या मिळून त्याच टाकीला 240 मिनिटांत भरू शकतात. त्याच टाकीला केवळ तोटी Z द्वारे रिकामी होण्यास किती वेळ लागेल?

- Ans
- ✗ 1. 110 मिनिटे
 - ✗ 2. 85 मिनिटे
 - ✗ 3. 120 मिनिटे
 - ✓ 4. 90 मिनिटे

Question Type : MCQ

Question ID : 630680312777

Option 1 ID : 6306801216989

Option 2 ID : 6306801216991

Option 3 ID : 6306801216992

Option 4 ID : 6306801216990

Status : Answered

Chosen Option : 3

Marks : 0

Q.24 एक व्यक्ती L km चे अंतर 12 तासांत पार करू शकते. तो त्याचा वेग 10 m/s ने वाढवितो आणि तितकेच अंतर 8 तासांत पार करतो. खालीलपैकी कोणते/ती विधान/ने अचूक आहे/आहेत?
I. L चे मूल्य 760 km आहे.
II. व्यक्तीचा मूळ वेग 72 km/hr आहे.

- Ans
- ✓ 1. केवळ II
 - ✗ 2. केवळ I
 - ✗ 3. I किंवा II पैकी एकही नाही
 - ✗ 4. I आणि II दोन्ही

Question Type : MCQ

Question ID : 630680312775

Option 1 ID : 6306801216982

Option 2 ID : 6306801216981

Option 3 ID : 6306801216984

Option 4 ID : 6306801216983

Status : Answered

Chosen Option : 4

Marks : 0

Q.25 $1.6 \times 1.6 + 1.5 \times 1.5 - 4.8$ चे मूल्य काय आहे?

- Ans
- 1. 9.02
 - 2. .01
 - 3. 3.1
 - 4. 1.09

Question Type : MCQ

Question ID : 630680312767

Option 1 ID : 6306801216951

Option 2 ID : 6306801216949

Option 3 ID : 6306801216950

Option 4 ID : 6306801216952

Status : Answered

Chosen Option : 2

Marks : 2