



सत्यमेव जयते

महाराष्ट्र शासन



GOVERNMENT OF MAHARASHTRA

मुख्य कार्यालय : महसूल व वन विभाग, मंत्रालय, मुंबई-32

राज्य समन्वयक कार्यालय :

2 व 3 मजला नवीन प्रशासकीय इमारत, जमाबंदी आयुक्त आणि संचालक,
भूमि अभिलेख कार्यालय, महाराष्ट्र राज्य, पुणे.



Participant ID	000000000000000000
Participant Name	www.mpscmaterial.com
Test Center Name	Hon.Shri.Babanrao Pachpute Vichardhara Trust's Parikrama G.O.I. College Of Engineering Kashti.
Test Date	21/08/2023
Test Time	12:30 PM - 2:30 PM
Subject	Talathi
Registration Photograph	
Capture Photo	
Upload Photo	

Section : Marathi Language

Q.1 'पौराणिक चित्रपटाच्या सेटवर अभिनय करताना प्रणवने हे औट घटकेचे राज्य मनापासून जगून घेतले.' - या वाक्यातील म्हणीचा अर्थ कोणता आहे?

- Ans
- 1. उत्कृष्ट अभिनय करणे
 - 2. कायम टिकणारे ऐश्वर्य
 - 3. मायावी शक्ती
 - 4. थोडा वेळ टिकणारे ऐश्वर्य

Question Type : MCQ
Question ID : 630680296130
Option 1 ID : 6306801152190
Option 2 ID : 6306801152189
Option 3 ID : 6306801152191
Option 4 ID : 6306801152188
Status : Answered
Chosen Option : 4
Marks : 2

Q.2 'माझे विद्यापीठ' हा कविता संग्रह कोणाचा आहे?

- Ans
- 1. दया पवार
 - 2. नारायण सुर्वे
 - 3. अनुराधा पाटील
 - 4. इंदिरा संत

Question Type : MCQ
Question ID : 630680296138
Option 1 ID : 6306801152222
Option 2 ID : 6306801152221
Option 3 ID : 6306801152223
Option 4 ID : 6306801152220
Status : Answered
Chosen Option : 3
Marks : 0

Q.3 'कबीर सदादित जप करत असतो.' - अधोरेखित शब्दाचा विरुद्धार्थी शब्द कोणता आहे?

- Ans
- 1. नियमित
 - 2. निरंतर
 - 3. पीछेहाट
 - 4. क्वचित

Question Type : MCQ
Question ID : 630680296123
Option 1 ID : 6306801152160
Option 2 ID : 6306801152161
Option 3 ID : 6306801152162
Option 4 ID : 6306801152163
Status : Answered
Chosen Option : 4
Marks : 2

Q.4 'वडिलांनी मुलाला शाळेत घातले.' - प्रयोग ओळखा.

- Ans
- 1. शक्य कर्मणी
 - 2. शक्य भावे
 - 3. कर्तृकर्म भावे
 - 4. कर्म-भाव संकर

Question Type : MCQ
Question ID : 630680296119
Option 1 ID : 6306801152144
Option 2 ID : 6306801152145
Option 3 ID : 6306801152146
Option 4 ID : 6306801152147
Status : Answered
Chosen Option : 3
Marks : 0

Q.5 'साडेसाती' म्हणजे _____ होय.

- Ans
- 1. सुवर्णकाळ
 - 2. आपत्तीचा काळ
 - 3. निरर्थक त्रास
 - 4. एखाद्या वस्तूचा नाश

Question Type : MCQ
Question ID : 630680296134
Option 1 ID : 6306801152206
Option 2 ID : 6306801152205
Option 3 ID : 6306801152204
Option 4 ID : 6306801152207
Status : Answered
Chosen Option : 2
Marks : 2

Q.6 'हौशी' शब्दाचा विरुद्धार्थी शब्द ओळखा.

- Ans
- 1. कपटी
 - 2. हताश
 - 3. रसिक
 - 4. अरसिक

Question Type : MCQ
Question ID : 630680296125
Option 1 ID : 6306801152171
Option 2 ID : 6306801152170
Option 3 ID : 6306801152169
Option 4 ID : 6306801152168
Status : Answered
Chosen Option : 3
Marks : 0

Q.7 लेखन नियमांनुसार अचूक वाक्य लिहा.

- Ans
- 1. त्याचा शरीरात हळूहळू विष भिनत चालले.
 - 2. त्याच्या शरीरात हळूहळू वीष भिनत चालले.
 - 3. त्याच्या शरीरात हळूहळु विष भिनत चालले.
 - 4. त्याच्या शरीरात हळूहळू विष भिनत चालले.

Question Type : MCQ
Question ID : 630680296115
Option 1 ID : 6306801152128
Option 2 ID : 6306801152129
Option 3 ID : 6306801152131
Option 4 ID : 6306801152130
Status : Answered
Chosen Option : 4
Marks : 2

Q.8 'तृप्तीने दोन बाहुल्यांची एका दिवसात वाट लावली.' - वाक्प्रचाराचा योग्य अर्थ कोणता आहे?

- Ans
- 1. हाकलून देणे
 - 2. खाऊन टाकणे
 - 3. आपल्या वाटेतून काढून टाकणे
 - 4. तोडून टाकणे

Question Type : MCQ
Question ID : 630680296132
Option 1 ID : 6306801152197
Option 2 ID : 6306801152198
Option 3 ID : 6306801152199
Option 4 ID : 6306801152196
Status : Answered
Chosen Option : 4
Marks : 2

Q.9 'समास' शब्दाचा समानार्थी नसलेला पर्याय ओळखा.

- Ans
- 1. व्याप्त
 - 2. समुदाय
 - 3. एकीकरण
 - 4. संयोग

Question Type : MCQ
Question ID : 630680296121
Option 1 ID : 6306801152153
Option 2 ID : 6306801152155
Option 3 ID : 6306801152152
Option 4 ID : 6306801152154
Status : Answered
Chosen Option : 1
Marks : 2

Q.10 भालचंद्र नेमाडे यांची कादंबरी खालीलपैकी कोणती आहे?

Ans 1. रथ

2. कोसला

3. स्वामी

4. छावा

Question Type : MCQ

Question ID : 630680296136

Option 1 ID : 6306801152215

Option 2 ID : 6306801152214

Option 3 ID : 6306801152213

Option 4 ID : 6306801152212

Status : Answered

Chosen Option : 2

Marks : 2

Q.11 'शेजार' गावात एक बलाढ्य सावकार मरण (पावणे) बातमी ऐकून वामनने ताडकन उडी मारली.'

कंसातील शब्दांचे योग्य रूप बनवून योग्य वाक्य तयार करा.

Ans 1.

शेजारचा गावात एक बलाढ्य सावकार मरण पावल्याची बातमी ऐकून वामनने ताडकन उडी मारली.

2.

शेजारची गावात एक बलाढ्य सावकार मरण पावल्या बातमी ऐकून वामनने ताडकन उडी मारली.

3.

शेजारच्या गावात एक बलाढ्य सावकार मरण पावल्याची बातमी ऐकून वामनने ताडकन उडी मारली.

4.

शेजारच्या गावात एक बलाढ्य सावकार मरण पावणे बातमी ऐकून वामनने ताडकन उडी मारली.

Question Type : MCQ

Question ID : 630680296116

Option 1 ID : 6306801152135

Option 2 ID : 6306801152132

Option 3 ID : 6306801152134

Option 4 ID : 6306801152133

Status : Answered

Chosen Option : 3

Marks : 2

Q.12 'तो पत्र लिहितो.' - या वाक्याचे समापन कर्तरी प्रयोगात रूपांतर करा.

Ans 1. त्याने पत्र लिहावे

2. त्याचे पत्र लिहून झाले.

3. तो पत्र लिहील.

4. तो पत्र लिहित आहे.

Question Type : MCQ

Question ID : 630680296120

Option 1 ID : 6306801152150

Option 2 ID : 6306801152148

Option 3 ID : 6306801152151

Option 4 ID : 6306801152149

Status : Answered

Chosen Option : 2

Marks : 2

Q.13 कोणत्या समासात पहिले पद महत्त्वाचे असते ?

- Ans
- 1. द्वंद्व
 - 2. बहुर्वीही
 - 3. अव्ययीभाव
 - 4. द्विगू

Question Type : MCQ
Question ID : 630680296127
Option 1 ID : 6306801152176
Option 2 ID : 6306801152179
Option 3 ID : 6306801152177
Option 4 ID : 6306801152178
Status : Answered
Chosen Option : 3
Marks : 2

Q.14 'घरकोंबडा' म्हणजे _____ होय.

- Ans
- 1. घरात बसून राहणारा
 - 2. घराचा कोंबडा
 - 3. पहाटे उठून पूजा करणारा
 - 4. अत्यंत जवळची व्यक्ती

Question Type : MCQ
Question ID : 630680296117
Option 1 ID : 6306801152137
Option 2 ID : 6306801152138
Option 3 ID : 6306801152136
Option 4 ID : 6306801152139
Status : Answered
Chosen Option : 1
Marks : 2

Q.15 खालीलपैकी विरुद्धार्थी शब्दाची चुकीची जोडी कोणती आहे?

- Ans
- 1. श्लील x अश्लील
 - 2. सध्या x पूर्वी
 - 3. विषम x सम
 - 4. अनुपम x अनुनय

Question Type : MCQ
Question ID : 630680296124
Option 1 ID : 6306801152164
Option 2 ID : 6306801152166
Option 3 ID : 6306801152167
Option 4 ID : 6306801152165
Status : Answered
Chosen Option : 4
Marks : 2

Q.16 'नखशिखांत' शब्दाचा अर्थ ओळखा.

Ans 1. सर्व शरीरभर

2. मेंदूत

3. डोक्यापासून हाताच्या बोटापर्यंत

4. नखांत

Question Type : MCQ

Question ID : 630680296135

Option 1 ID : 6306801152211

Option 2 ID : 6306801152210

Option 3 ID : 6306801152209

Option 4 ID : 6306801152208

Status : Answered

Chosen Option : 1

Marks : 2

Q.17 खाली वाक्प्रचारांचा वाक्यात उपयोग केलेला आहे त्यांमधील चुकीचा पर्याय ओळखा.

Ans 1. आज पाली भाषा लोप पावण्याच्या उंबरठ्यावर आहे.

2.

आपला मुलगा अड्डल चोर आहे असे कळताच दगडाला पाझर फुटला.

3.

गावाच्या हितासाठी दोन्ही गटांनी आपापसातील मतभेदांना मूठमाती दिली.

4.

तुषारने लावालावी केल्याने आरती व भारतीमध्ये भांडण झाले.

Question Type : MCQ

Question ID : 630680296133

Option 1 ID : 6306801152200

Option 2 ID : 6306801152203

Option 3 ID : 6306801152202

Option 4 ID : 6306801152201

Status : Answered

Chosen Option : 2

Marks : 2

Q.18 'शेतकऱ्याचा असूड' ग्रंथ कोणाचा आहे?

- Ans
- 1. लोकमान्य टिळक
 - 2. महात्मा फुले
 - 3. डॉ.बाबासाहेब आंबेडकर
 - 4. सावित्रीबाई फुले

Question Type : MCQ
Question ID : 630680296137
Option 1 ID : 6306801152219
Option 2 ID : 6306801152216
Option 3 ID : 6306801152218
Option 4 ID : 6306801152217
Status : Answered
Chosen Option : 2
Marks : 2

Q.19 सामासिक शब्दांचा खाली विग्रह केलेला आहे त्यांतील अयोग्य पर्याय कोणता आहे?

- Ans
- 1. पंकेरूह - चिखलात माखलेला
 - 2. कर्तरीप्रयोग - कर्तरीचा प्रयोग
 - 3. कुंभकार - कुंभ करणारा
 - 4. कर्मणीप्रयोग - कर्मणीचा प्रयोग

Question Type : MCQ
Question ID : 630680296126
Option 1 ID : 6306801152174
Option 2 ID : 6306801152172
Option 3 ID : 6306801152175
Option 4 ID : 6306801152173
Status : Answered
Chosen Option : 1
Marks : 2

Q.20 'समाजातीत' या शब्दाचा अर्थ कोणता आहे?

- Ans
- 1. ज्याला समाजाची जरूर आहे असा
 - 2. दोन समाजाला तोडणारा
 - 3. ज्याला समाजाची जरूर नाही असा
 - 4. समाजातील महत्त्वाचा घटक

Question Type : MCQ
Question ID : 630680296118
Option 1 ID : 6306801152141
Option 2 ID : 6306801152143
Option 3 ID : 6306801152140
Option 4 ID : 6306801152142
Status : Answered
Chosen Option : 4
Marks : 0

Q.21 'तेजीत चालणाऱ्या व्यक्तीसाठी दिवाळे निघाल्याने जवळचे नातेवाईकही पंकजला टाळू लागले म्हणतात ना, _____.

- Ans
- 1. अपमानाची पोळी सर्वांग जाळी
 - 2. जगाच्या हाती दोन धोंडे
 - 3. असतील शिते तर जमतील भुते
 - 4. घर फिरले म्हणजे घराचे वासेही फिरतात

Question Type : MCQ
Question ID : 630680296131
Option 1 ID : 6306801152193
Option 2 ID : 6306801152195
Option 3 ID : 6306801152192
Option 4 ID : 6306801152194
Status : Answered
Chosen Option : 4
Marks : 2

Q.22 लेखन नियमांनुसार अचूक वाक्यरचना ओळखा.

- Ans
- 1. थकला होता तो खूप आता.
 - 2. एकदा राजा आमच्या शाळेत आला.
 - 3. सांगू लागला प्रत्येकजण आपली आठवण.
 - 4. केला मी पायाला स्पर्श नमस्कार करून.

Question Type : MCQ
Question ID : 630680296114
Option 1 ID : 6306801152125
Option 2 ID : 6306801152124
Option 3 ID : 6306801152127
Option 4 ID : 6306801152126
Status : Answered
Chosen Option : 2
Marks : 2

Q.23 समानार्थी शब्द ओळखा.

'मृग'

- Ans
- 1. सिंह
 - 2. रावा
 - 3. हरीण
 - 4. गज




Question Type : MCQ
Question ID : 630680296122
Option 1 ID : 6306801152159
Option 2 ID : 6306801152158
Option 3 ID : 6306801152156
Option 4 ID : 6306801152157
Status : Answered
Chosen Option : 3
Marks : 2

Q.24 'गाढवाने शेत खाल्ल्याचे पाप ना पुण्य.' - म्हणीचा अर्थ कोणता आहे?

- Ans
- 1. गाढव शेतात चरले तर पाप लागते.
 - 2. गाढवाला शेतात जाऊ देऊ नये.
 - 3. दुर्जनावर उपकार केला तरी काही उपयोग नसतो.
 - 4. निरुद्योगी माणसांपासून दूर राहावे.

Question Type : MCQ
Question ID : 630680296129
Option 1 ID : 6306801152185
Option 2 ID : 6306801152184
Option 3 ID : 6306801152186
Option 4 ID : 6306801152187
Status : Answered
Chosen Option : 3
Marks : 2

Q.25 खाली वाक्प्रचार व त्यांचे अर्थ दिलेले आहेत, त्यांतील चुकीचा पर्याय ओळखा.

- Ans
- 1. 
 - 2. भूक मरणे - भूक नाहीशी होणे
 - 3. 
 - 4. 

Question Type : MCQ
Question ID : 630680296128
Option 1 ID : 6306801152180
Option 2 ID : 6306801152183
Option 3 ID : 6306801152182
Option 4 ID : 6306801152181
Status : Answered
Chosen Option : 1
Marks : 2

Section : English Language

Q.1 Select the most appropriate option to fill in the blanks.

All _____ disciples of _____ hermit had gathered outside the hermitage.

- Ans
- 1. a; the
 - 2. the; a
 - 3. the; the
 - 4. a; a

Question Type : MCQ
Question ID : 630680274453
Option 1 ID : 6306801066326
Option 2 ID : 6306801066324
Option 3 ID : 6306801066323
Option 4 ID : 6306801066325
Status : Answered
Chosen Option : 2
Marks : 0

Q.2 Select the most appropriate meaning of the given proverb.

Don't count your chickens before they hatch.

- Ans 1. Don't be too optimistic about the future.
 2. Don't count your money.
 3. Don't count your blessings.
 4. Don't be too pessimistic about the future.

Question Type : MCQ
Question ID : 630680274550
Option 1 ID : 6306801066711
Option 2 ID : 6306801066714
Option 3 ID : 6306801066713
Option 4 ID : 6306801066712
Status : Answered
Chosen Option : 4
Marks : 0

Q.3 The following sentence contains an error. Parts of the sentence have been given as options with some changes. Select the option that correctly rectifies the error.
We had been having dinner at Sara's house last night when the building nearby fell.

- Ans 1. building nearby felt
 2. were having
 3. building had fallen
 4. had had

Question Type : MCQ
Question ID : 630680280648
Option 1 ID : 6306801090829
Option 2 ID : 6306801090827
Option 3 ID : 6306801090830
Option 4 ID : 6306801090828
Status : Answered
Chosen Option : 1
Marks : 0

Q.4 Select the most appropriate synonym of the given word.

Deadly

- Ans 1. Fatal
 2. Filial
 3. Banal
 4. Frugal

Question Type : MCQ
Question ID : 630680252317
Option 1 ID : 630680979250
Option 2 ID : 630680979247
Option 3 ID : 630680979248
Option 4 ID : 630680979249
Status : Answered
Chosen Option : 1
Marks : 2

Q.5 The following sentence has been split into four segments. Identify the segment that contains a grammatical error.

The circle of Willis, a loop of blood vessels near the bottom of the brain that connects major arteries, / circulates blood from the front of the brain to the back / and helps the arterial systems / communicating with one another.

- Ans
- 1. circulates blood from the front of the brain to the back
 - 2. The circle of Willis, a loop of blood vessels near the bottom of the brain that connects major arteries
 - 3. and helps the arterial systems
 - 4. communicating with one another

Question Type : MCQ
Question ID : 630680274451
Option 1 ID : 6306801066316
Option 2 ID : 6306801066315
Option 3 ID : 6306801066317
Option 4 ID : 6306801066318
Status : Answered
Chosen Option : 2
Marks : 0

Q.6 The following sentence has been split into four segments. Identify the segment that contains a grammatical error.

As the teacher / stepped in the room / the students stood up / to greet him.

- Ans
- 1. to greet him.
 - 2. the students stood up
 - 3. stepped in the room
 - 4. As the teacher

Question Type : MCQ
Question ID : 630680252295
Option 1 ID : 630680979162
Option 2 ID : 630680979161
Option 3 ID : 630680979160
Option 4 ID : 630680979159
Status : Answered
Chosen Option : 1
Marks : 0

Q.7 Select the most appropriate question tag to fill in the blank.

My friends had not gone there, _____?

- Ans
- 1. haven't they
 - 2. could they
 - 3. have they
 - 4. had they

Question Type : MCQ
Question ID : 630680274676
Option 1 ID : 6306801067216
Option 2 ID : 6306801067218
Option 3 ID : 6306801067215
Option 4 ID : 6306801067217
Status : Answered
Chosen Option : 3
Marks : 0

Q.8 Select the most appropriate option to fill in the blank.

Our new maid is _____ lazy to do any extra household chores.

Ans 1. too

2. so

3. to

4. lately

Question Type : MCQ
Question ID : 630680252555
Option 1 ID : 630680980201
Option 2 ID : 630680980199
Option 3 ID : 630680980200
Option 4 ID : 630680980202
Status : Answered
Chosen Option : 1
Marks : 2

Q.9 Choose the correct set of punctuation marks to be used in the given sentence. Option (i) includes the first two blanks. Both blanks may or may not be used.

(i)_____ Arihant is trying hard this academic year (ii), _____ said Mr. Agarwal (iii)_____ his father.

Ans 1. (i) Quotation mark, (ii) Colon, (iii) Quotation mark

2. (i) Apostrophe, (ii) Quotation mark, (iii) Comma

3. (i) Quotation mark, (ii) Quotation mark, (iii) Comma

4. (i) Parentheses, (ii) Colon, (iii) Parentheses

Question Type : MCQ
Question ID : 630680281019
Option 1 ID : 6306801092312
Option 2 ID : 6306801092313
Option 3 ID : 6306801092314
Option 4 ID : 6306801092311
Status : Answered
Chosen Option : 4
Marks : 0

Q.10 Select the most appropriate option to fill in the blank.

I only care about three things nowadays _____ my family, my health, and my personal growth.

Ans 1. ; (Semi-colon)

2. . (Full stop)

3. : (Colon)

4. ! (Exclamation mark)

Question Type : MCQ
Question ID : 630680252515
Option 1 ID : 630680980039
Option 2 ID : 630680980042
Option 3 ID : 630680980041
Option 4 ID : 630680980040
Status : Answered
Chosen Option : 3
Marks : 2

Q.11 Select the most appropriate meaning of the given proverb.

Make hay while the sun shines.

- Ans
- 1. Circumstances sometimes compel us to do things which we do not like to do.
 - 2. A person will enjoy freely when master is away.
 - 3. Avail yourself of opportunities when they occur.
 - 4. Do not examine a free gift too critically.

Question Type : MCQ
Question ID : 630680252308
Option 1 ID : 630680979213
Option 2 ID : 630680979212
Option 3 ID : 630680979214
Option 4 ID : 630680979211
Status : Answered
Chosen Option : 3
Marks : 2

Q.12 Select the INCORRECTLY spelt word in the following sentence.

The student was awarded a scholarship for her academic achievements.

- Ans
- 1. scholarship
 - 2. student
 - 3. awarded
 - 4. achievements

Question Type : MCQ
Question ID : 630680274543
Option 1 ID : 6306801066685
Option 2 ID : 6306801066683
Option 3 ID : 6306801066684
Option 4 ID : 6306801066686
Status : Answered
Chosen Option : 1
Marks : 2

Q.13 Select the most appropriate option to fill in the blanks.

I am planning to take _____ break in _____ next semester.

- Ans
- 1. the; a
 - 2. a; the
 - 3. the; the
 - 4. a; a

Question Type : MCQ
Question ID : 630680274458
Option 1 ID : 6306801066345
Option 2 ID : 6306801066343
Option 3 ID : 6306801066344
Option 4 ID : 6306801066346
Status : Answered
Chosen Option : 1
Marks : 0

Q.14 Select the most appropriate option to fill in the blank.

The bag that I _____ is yours and the other bag lying there on the bench is mine.

- Ans 1. am holding
 2. has being holding
 3. were holding
 4. will have been holding

Question Type : MCQ

Question ID : 630680280748

Option 1 ID : 6306801091229

Option 2 ID : 6306801091227

Option 3 ID : 6306801091230

Option 4 ID : 6306801091228

Status : Answered

Chosen Option : 4

Marks : 0

Q.15 Select the most appropriate ANTONYM of the given word.

Prime

- Ans 1. Secondary
 2. Bloom
 3. Under
 4. Best

Question Type : MCQ

Question ID : 630680280665

Option 1 ID : 6306801090896

Option 2 ID : 6306801090898

Option 3 ID : 6306801090895

Option 4 ID : 6306801090897

Status : Answered

Chosen Option : 1

Marks : 2

Q.16 Select the most appropriate option to fill in the blank.

He spread out the papers _____ the table, and gave little darting glances from one to the other.

- Ans 1. upon
 2. in
 3. at
 4. over

Question Type : MCQ

Question ID : 630680274370

Option 1 ID : 6306801065992

Option 2 ID : 6306801065993

Option 3 ID : 6306801065994

Option 4 ID : 6306801065991

Status : Answered

Chosen Option : 1

Marks : 2

Q.17 Select the most appropriate synonym of the given word.

Reprimand

- Ans 1. Rebuke
 2. Greet
 3. Vanish
 4. Spoil

Question Type : MCQ
Question ID : 630680252551
Option 1 ID : 630680980186
Option 2 ID : 630680980184
Option 3 ID : 630680980185
Option 4 ID : 630680980183
Status : Answered
Chosen Option : 2
Marks : 0

Q.18 Select the option that expresses the given sentence in passive voice.

The blue-eyed boy kicked a ball.

- Ans 1. A ball has kicked the blue-eyed boy.
 2. A ball were kicked by the blue-eyed boy.
 3. A ball is kicked by the blue-eyed boy.
 4. A ball was kicked by the blue-eyed boy.

Question Type : MCQ
Question ID : 630680274684
Option 1 ID : 6306801067249
Option 2 ID : 6306801067248
Option 3 ID : 6306801067247
Option 4 ID : 6306801067250
Status : Answered
Chosen Option : 3
Marks : 0

Q.19 Select the option that expresses the given sentence in active voice.
Savita was attacked by a dangerous snake in the garden.

- Ans 1. The dangerous snake was attacked by Savita in the garden.
 2. Savita attacked the snake in the garden.
 3. The dangerous snake attacked Savita in the garden.
 4. The garden attacked dangerous snake by Savita in the garden.

Question Type : MCQ
Question ID : 630680281075
Option 1 ID : 6306801092535
Option 2 ID : 6306801092538
Option 3 ID : 6306801092537
Option 4 ID : 6306801092536
Status : Answered
Chosen Option : 1
Marks : 0

Q.20 Select the most appropriate option to fill in the blank.

You can ask my friend for help. He is _____ to provide for us.

- Ans
- 1. rich enough
 - 2. too rich
 - 3. enough rich
 - 4. rich too

Question Type : MCQ
Question ID : 630680274500
Option 1 ID : 6306801066512
Option 2 ID : 6306801066511
Option 3 ID : 6306801066514
Option 4 ID : 6306801066513
Status : Answered
Chosen Option : 3
Marks : 0

Q.21 Select the most appropriate question tag for the given sentence.
The peon has locked the classrooms, _____?

- Ans
- 1. didn't he
 - 2. hasn't he
 - 3. don't he
 - 4. does he

Question Type : MCQ
Question ID : 630680280622
Option 1 ID : 6306801090724
Option 2 ID : 6306801090725
Option 3 ID : 6306801090723
Option 4 ID : 6306801090726
Status : Answered
Chosen Option : 4
Marks : 0

Q.22 Select the most appropriate meaning of the given proverb.

Actions speak louder than words.

- Ans
- 1. One must always speak loudly after a prolonged silence
 - 2. Practical experience can help one speak better
 - 3. The first step should always be taken after consulting others.
 - 4. What one does is more important than what one says

Question Type : MCQ
Question ID : 630680252530
Option 1 ID : 630680980100
Option 2 ID : 630680980101
Option 3 ID : 630680980099
Option 4 ID : 630680980102
Status : Answered
Chosen Option : 4
Marks : 2

Q.23 Select the most appropriate option to fill in the blank and make a grammatically correct sentence.

Do you _____ the rains in the monsoon ?

- Ans
- 1. enjoy
 - 2. enjoying
 - 3. enjoyed
 - 4. enjoys

Question Type : MCQ
Question ID : 630680280762
Option 1 ID : 6306801091283
Option 2 ID : 6306801091285
Option 3 ID : 6306801091286
Option 4 ID : 6306801091284
Status : Answered
Chosen Option : 2
Marks : 0

Q.24 The following sentence has been split into four segments. Identify the segment that contains a grammatical error.

The gardener / grow a tomato / plant in the / garden last summer.

- Ans
- 1. plant in the
 - 2. The gardener
 - 3. garden last summer
 - 4. grow a tomato

Question Type : MCQ
Question ID : 630680274681
Option 1 ID : 6306801067237
Option 2 ID : 6306801067235
Option 3 ID : 6306801067238
Option 4 ID : 6306801067236
Status : Answered
Chosen Option : 3
Marks : 0

Q.25 In the following sentence, four words are underlined out of which one word is misspelled. Find the INCORRECTLY spelt word.

The use of pillows remained uncommon after the fall of the Roman Empire and throughout the Middle Ages, as the only people who could reliably affrod such a luxurious use of fabric were nobility.

- Ans
- 1. affrod
 - 2. Empire
 - 3. reliably
 - 4. nobility

Question Type : MCQ
Question ID : 630680280652
Option 1 ID : 6306801090845
Option 2 ID : 6306801090843
Option 3 ID : 6306801090844
Option 4 ID : 6306801090846
Status : Answered
Chosen Option : 1
Marks : 2

Section : General Knowledge

Q.1 संपूर्णपणे जल आणि सौर ऊर्जेवर चालणाऱ्या भारतातील पहिल्या विमानतळाबाबत खालीलपैकी कोणते/ती विधान/ने अचूक आहे/आहेत?

- I) दिल्लीच्या या विमानतळाचे नाव इंदिरा गांधी आंतरराष्ट्रीय (IGI) विमानतळ आहे.
II) दिल्लीच्या इंदिरा गांधी आंतरराष्ट्रीय (IGI) विमानतळाने आपल्या वापराच्या गरजांसाठी 1 जून 2022 पासून अक्षय शक्ती ऊर्जेस अवलंबिले आहे.
III) येथील 94% ऊर्जा ही सौरऊर्जा संयंत्रातून येत आहे.

- Ans 1. II आणि III
 2. फक्त III
 3. फक्त I
 4. I आणि II

Question Type : MCQ
Question ID : 630680278295
Option 1 ID : 6306801081538
Option 2 ID : 6306801081540
Option 3 ID : 6306801081537
Option 4 ID : 6306801081539
Status : Answered
Chosen Option : 4
Marks : 2

Q.2 पित ज्वरासाठी संक्रमणाचे माध्यम काय आहे?

- Ans 1. 
 2. 
 3. 
 4. 

Question Type : MCQ
Question ID : 630680270132
Option 1 ID : 6306801049780
Option 2 ID : 6306801049781
Option 3 ID : 6306801049782
Option 4 ID : 6306801049779
Status : Answered
Chosen Option : 3
Marks : 0

Q.3 रेल्वे आरक्षण प्रणालीच्या संदर्भात PQWL चे पूर्ण रूप काय आहे?

- Ans 1. पब्लिक क्यू वेटिंग लिस्ट (Public Queue Waiting List)
 2. प्रायमरी क्यू वेटिंग लिस्ट (Primary Queue Waiting List)
 3. पूल्ड क्वोटा वेटिंग लिस्ट (Pooled Quota Waiting List)
 4. पूअर क्यू वेटिंग लिस्ट (Poor Queue Waiting List)

Question Type : MCQ
Question ID : 630680275738
Option 1 ID : 6306801071466
Option 2 ID : 6306801071463
Option 3 ID : 6306801071465
Option 4 ID : 6306801071464
Status : Answered
Chosen Option : 3
Marks : 2

Q.4 खालीलपैकी कोणत्या व्यक्तीने मोतीलाल नेहरूंसोबत स्वराज पक्षाची स्थापना केली?

- Ans
- 1. आर. सी. दत्त
 - 2. महात्मा गांधी
 - 3. डब्ल्यू. सी. बॅनर्जी
 - 4. सी. आर. दास

Question Type : MCQ

Question ID : 630680270079

Option 1 ID : 6306801049569

Option 2 ID : 6306801049568

Option 3 ID : 6306801049570

Option 4 ID : 6306801049567

Status : Answered

Chosen Option : 4

Marks : 2

Q.5 आंतरराष्ट्रीय सीमेपासून 150 यार्डांच्या आत, महिला आणि मुलांच्या तस्करीला प्रतिबंध घालण्यासाठी तसेच विविध विकासात्मक उपक्रम राबविण्यासाठी, 2022 मध्ये खालीलपैकी कोणत्या देशाने भारतासोबत 52 वी बीएसएफ (BSF) डीजी (DG) स्तरावरील द्विपक्षीय चर्चा केली होती?

- Ans
- 1. पाकिस्तान
 - 2. नेपाळ
 - 3. भूतान
 - 4. बांगलादेश

Question Type : MCQ

Question ID : 630680275576

Option 1 ID : 6306801070816

Option 2 ID : 6306801070818

Option 3 ID : 6306801070817

Option 4 ID : 6306801070815

Status : Answered

Chosen Option : 4

Marks : 2

Q.6 खेळो इंडिया युवा क्रीडा स्पर्धा-2022 ची टूॅक सायकलिंग स्पर्धा _____ येथे आयोजित करण्यात आली होती.

- Ans
- 1. मध्य प्रदेश
 - 2. हरियाणा
 - 3. नवी दिल्ली
 - 4. गुजरात

Question Type : MCQ

Question ID : 630680270041

Option 1 ID : 6306801049416

Option 2 ID : 6306801049418

Option 3 ID : 6306801049415

Option 4 ID : 6306801049417

Status : Answered

Chosen Option : 1

Marks : 0

Q.7 ऑगस्ट 2022 मध्ये, गुजरातच्या कोणत्या शहरात मोदी शैक्षणिक संकुलाचे उद्घाटन केले गेले?

- Ans
- 1. राजकोट
 - 2. पोरबंदर
 - 3. अहमदाबाद
 - 4. सुरत

Question Type : MCQ
Question ID : 630680275646
Option 1 ID : 6306801071095
Option 2 ID : 6306801071096
Option 3 ID : 6306801071097
Option 4 ID : 6306801071098
Status : Answered
Chosen Option : 4
Marks : 0

Q.8 2011 च्या जनगणनेनुसार, भारतातील महिलांमध्ये साक्षरता दर किती आहे?

- Ans
- 1. 65.46%
 - 2. 72.46%
 - 3. 75.46%
 - 4. 69.46%

Question Type : MCQ
Question ID : 630680270562
Option 1 ID : 6306801051435
Option 2 ID : 6306801051437
Option 3 ID : 6306801051434
Option 4 ID : 6306801051436
Status : Answered
Chosen Option : 1
Marks : 2

Q.9 फेब्रुवारी 2023 मध्ये, भारताच्या आदिवासी वारशाचे भव्यदिव्य चित्रण सादर करणारा आदी महोत्सव कोठे पार पडला होता?

- Ans
- 1. नागालँड
 - 2. ओडिशा
 - 3. नवी दिल्ली
 - 4. झारखंड

Question Type : MCQ
Question ID : 630680275633
Option 1 ID : 6306801071045
Option 2 ID : 6306801071044
Option 3 ID : 6306801071046
Option 4 ID : 6306801071043
Status : Answered
Chosen Option : 1
Marks : 0

Q.10 1951 मध्ये बापू धर्म सभा आदिवासी सेवा मंडळाची स्थापना _____ यांनी केली होती.

- Ans
- 1. कमला चट्टोपाध्याय
 - 2. सावित्रीबाई फुले
 - 3. राजमोहिनी देवी
 - 4. किन्नूर चेन्नम्मा

Question Type : MCQ
Question ID : 630680278309
Option 1 ID : 6306801081593
Option 2 ID : 6306801081596
Option 3 ID : 6306801081594
Option 4 ID : 6306801081595
Status : Answered
Chosen Option : 1
Marks : 0

Q.11 भारताच्या कोणत्या प्रदेशात शेकरू (इंडियन जायंट स्क्विचरल) आढळते?

- Ans
- 1. पश्चिम घाट
 - 2. सुंदरबन
 - 3. थारचे वाळवंट
 - 4. माळवा पठार

Question Type : MCQ
Question ID : 630680275780
Option 1 ID : 6306801071631
Option 2 ID : 6306801071632
Option 3 ID : 6306801071634
Option 4 ID : 6306801071633
Status : Answered
Chosen Option : 1
Marks : 2

Q.12 महात्मा गांधींनी _____ येथील साबरमती आश्रमापासून दांडीपर्यंत मिठाचा सत्याग्रह काढला होता.

- Ans
- 1. पोरबंदर
 - 2. बडोदा
 - 3. अहमदाबाद
 - 4. जामनगर

Question Type : MCQ
Question ID : 630680278304
Option 1 ID : 6306801081574
Option 2 ID : 6306801081575
Option 3 ID : 6306801081573
Option 4 ID : 6306801081576
Status : Answered
Chosen Option : 1
Marks : 0

Q.13 भारतीय राज्यघटनेतील कोणती तरतूद जर्मनीच्या घटनेतून स्वीकारण्यात आलेली आहे?

- Ans 1. आणीबाणीदरम्यान मूलभूत हक्कांचे निलंबन
 2. राज्यसभा सदस्यांची निवडणूक
 3. शोषाधिकार केंद्राकडे असणे
 4. समवर्ती सूचीची संकल्पना

Question Type : MCQ

Question ID : 630680275834

Option 1 ID : 6306801071847

Option 2 ID : 6306801071848

Option 3 ID : 6306801071850

Option 4 ID : 6306801071849

Status : Answered

Chosen Option : 1

Marks : 2

Q.14 नोव्हेंबर 2022 मध्ये, भारतीय वन्यजीव जीवशास्त्रज्ञ डॉ. पूर्णिमा देवी बर्मन यांना संयुक्त राष्ट्रसंघाच्या (UN) सर्वोच्च पर्यावरण पुरस्काराने सन्मानित करण्यात आले. त्या कोणत्या समूहाचे नेतृत्व करतात?

- Ans 1. टायगर ग्रुप
 2. हरगिला आर्मी
 3. पिकॉक आर्मी
 4. ग्रेट बस्टर्ड ग्रुप

Question Type : MCQ

Question ID : 630680275579

Option 1 ID : 6306801070828

Option 2 ID : 6306801070829

Option 3 ID : 6306801070827

Option 4 ID : 6306801070830

Status : Answered

Chosen Option : 4

Marks : 0

Q.15 खालीलपैकी कोणाला भारतीय राज्यघटनेच्या अनुच्छेद 243 Q अंतर्गत कोणतेही क्षेत्र 'संक्रमणशील क्षेत्र' म्हणून विनिर्दिष्ट करण्याचा अधिकार आहे?

- Ans 1. मुख्यमंत्री
 2. राष्ट्रपती
 3. पंतप्रधान
 4. राज्यपाल

Question Type : MCQ

Question ID : 630680270111

Option 1 ID : 6306801049697

Option 2 ID : 6306801049698

Option 3 ID : 6306801049696

Option 4 ID : 6306801049695

Status : Answered

Chosen Option : 2

Marks : 0

Q.16 राज्याचे मुख्य माहिती आयुक्त आणि राज्य माहिती आयुक्तांना _____ द्वारे विहित केल्यानुसार, देय असलेले वेतन आणि भत्ते दिले जातील.

- Ans 1. राज्याची विधानसभा
 2. केंद्र सरकार
 3. राज्य सरकार
 4. राज्याचे राज्यपाल

Question Type : MCQ
Question ID : 630680275886
Option 1 ID : 6306801072056
Option 2 ID : 6306801072057
Option 3 ID : 6306801072058
Option 4 ID : 6306801072055
Status : Answered
Chosen Option : 4
Marks : 0

Q.17 महाराष्ट्रातील खालीलपैकी कोणत्या समाजसेवकाने आनंदवनाची स्थापना केली आणि कुष्ठरोगींसाठी त्यांनी केलेल्या सेवेसाठी ते ओळखले गेले?

- Ans 1. शिवरामपंत दामले
 2. सिंधुताई सपकाळ
 3. पांडुरंग सदाशिव साने
 4. बाबा आमटे

Question Type : MCQ
Question ID : 630680275217
Option 1 ID : 6306801069380
Option 2 ID : 6306801069381
Option 3 ID : 6306801069382
Option 4 ID : 6306801069379
Status : Answered
Chosen Option : 4
Marks : 2

Q.18 दर्पण हे मराठी वृत्तपत्र खालीलपैकी कोणी सुरू केले?

- Ans 1. भाऊ दाजी लाड
 2. पांडुरंग सदाशिव साने
 3. बाळशास्त्री जांभेकर
 4. सार्वजनिक काका

Question Type : MCQ
Question ID : 630680275235
Option 1 ID : 6306801069452
Option 2 ID : 6306801069454
Option 3 ID : 6306801069451
Option 4 ID : 6306801069453
Status : Answered
Chosen Option : 3
Marks : 2

Q.19 कोणत्या पंतप्रधानांच्या कार्यकाळात, 42 वा घटनादुरुस्ती अधिनियम 1976 द्वारे राज्यघटनेमध्ये मूलभूत कर्तव्ये समाविष्ट केली गेली?

- Ans
- 1. मोरारजी देसाई
 - 2. राजीव गांधी
 - 3. चरण सिंह
 - 4. इंदिरा गांधी

Question Type : MCQ
Question ID : 630680275849
Option 1 ID : 6306801071908
Option 2 ID : 6306801071910
Option 3 ID : 6306801071909
Option 4 ID : 6306801071907
Status : Answered
Chosen Option : 4
Marks : 2

Q.20 बंगालचे _____ यांनी 1859 चा निळीचा सत्याग्रह केला होता.

- Ans
- 1. शेतकरी
 - 2. कारागीर
 - 3. व्यापारी
 - 4. जमीनदार

Question Type : MCQ
Question ID : 630680270062
Option 1 ID : 6306801049501
Option 2 ID : 6306801049502
Option 3 ID : 6306801049500
Option 4 ID : 6306801049499
Status : Answered
Chosen Option : 1
Marks : 2

Q.21 खालीलपैकी कोणाला 'आउटलाइन फॉर डेअरी टेक्नॉलॉजी' (Outline for Dairy Technology) या पुस्तकाचे लेखक म्हणून श्रेय दिले जाते?

- Ans
- 1. जेन डेव्हिस
 - 2. हिना शर्मा
 - 3. सुकुमार डे
 - 4. रॉबर्ट विल्सन

Question Type : MCQ
Question ID : 630680270146
Option 1 ID : 6306801049838
Option 2 ID : 6306801049835
Option 3 ID : 6306801049836
Option 4 ID : 6306801049837
Status : Answered
Chosen Option : 2
Marks : 0

Q.22 RTI अधिनियम संपूर्ण भारतात _____ पासून लागू झाला.

- Ans
- 1. जानेवारी 2006
 - 2. ऑक्टोबर 2006
 - 3. डिसेंबर 2005
 - 4. ऑक्टोबर 2005

Question Type : MCQ
Question ID : 630680275890
Option 1 ID : 6306801072072
Option 2 ID : 6306801072074
Option 3 ID : 6306801072071
Option 4 ID : 6306801072073
Status : Answered
Chosen Option : 4
Marks : 2

Q.23 केंद्रीय भूवैज्ञानिक मंत्रालयाने हाती घेतलेल्या समुद्रयान मोहिमेचा एक भाग म्हणून, किती व्यक्तींना समुद्रसपाटीपासून 6000 मीटर खाली पाठविण्याचे भारताचे उद्दिष्ट आहे?

- Ans
- 1. 3
 - 2. 2
 - 3. 4
 - 4. 5

Question Type : MCQ
Question ID : 630680278292
Option 1 ID : 6306801081526
Option 2 ID : 6306801081525
Option 3 ID : 6306801081527
Option 4 ID : 6306801081528
Status : Answered
Chosen Option : 3
Marks : 0

Q.24 लाखेच्या (lac) उत्पादनाचा स्रोत काय आहे?

- Ans
- 1. कीटक
 - 2. मासे
 - 3. पाने
 - 4. उंदीर

Question Type : MCQ
Question ID : 630680270126
Option 1 ID : 6306801049756
Option 2 ID : 6306801049757
Option 3 ID : 6306801049758
Option 4 ID : 6306801049755
Status : Answered
Chosen Option : 1
Marks : 2

Q.25 खालीलपैकी कोणती नदी ब्रह्मपुत्रा नदीची उपनदी आहे?

- Ans 1. मांडवी नदी
 2. दिबांग नदी
 3. यमुना नदी
 4. कृष्णा नदी

Question Type : MCQ

Question ID : 630680270526

Option 1 ID : 6306801051293

Option 2 ID : 6306801051290

Option 3 ID : 6306801051291

Option 4 ID : 6306801051292

Status : Answered

Chosen Option : 2

Marks : 2

Section : General Intelligence

Q.1 दिलेल्या मालिकेत ? च्या जागी काय यायला हवे?

1, 9, 25, 43, 79, 117, 193, 271, ?, 585

- Ans 1. 472
 2. 512
 3. 427
 4. 521

Question Type : MCQ

Question ID : 630680277029

Option 1 ID : 6306801076612

Option 2 ID : 6306801076609

Option 3 ID : 6306801076610

Option 4 ID : 6306801076611

Status : Answered

Chosen Option : 3

Marks : 2

Q.2 A, B आणि C हे एक काम अनुक्रमे 20, 30 आणि 60 दिवसांत करू शकतात. दर तिसऱ्या दिवशी B आणि C यांची मदत घेतल्यास, A हा किती दिवसांत ते काम करू शकेल?

- Ans 1. 12 दिवस
 2. 15 दिवस
 3. 16 दिवस
 4. 18 दिवस

Question Type : MCQ

Question ID : 630680287446

Option 1 ID : 6306801117691

Option 2 ID : 6306801117692

Option 3 ID : 6306801117693

Option 4 ID : 6306801117694

Status : Answered

Chosen Option : 2

Marks : 2

Q.3 

- Ans 1. ₹69,600
 2. ₹75,000
 3. ₹1,12,500
 4. ₹1,08,750

Question Type : MCQ
Question ID : 630680287189
Option 1 ID : 6306801116663
Option 2 ID : 6306801116665
Option 3 ID : 6306801116666
Option 4 ID : 6306801116664
Status : Answered
Chosen Option : 4
Marks : 2

Q.4 एक रेल्वेगाडी सोमवारी 525.80 km, आणि मंगळवारी 514.75 km अंतर पार करते. तीन दिवसांत पार केलेले एकूण अंतर 1600 km असल्यास, बुधवारी ती किती अंतर पार करेल?

- Ans 1. 558.55 km
 2. 558.45 km
 3. 559.45 km
 4. 559.55 km

Question Type : MCQ
Question ID : 630680277272
Option 1 ID : 6306801077538
Option 2 ID : 6306801077537
Option 3 ID : 6306801077539
Option 4 ID : 6306801077540
Status : Answered
Chosen Option : 3
Marks : 2

Q.5 दिलेली मालिका तर्कदृष्ट्या पूर्ण होण्यासाठी प्रश्नचिन्हाच्या (?) जागी खालीलपैकी कोणता पर्याय आला पाहिजे?
2, 8, 18, 32, 50, ?

- Ans 1. 65
 2. 80
 3. 72
 4. 88

Question Type : MCQ
Question ID : 630680256923
Option 1 ID : 630680997603
Option 2 ID : 630680997605
Option 3 ID : 630680997604
Option 4 ID : 630680997606
Status : Answered
Chosen Option : 3
Marks : 2

Q.6 वेंकट एक सेकंड-हॅंड स्कूटर खरेदी करतो आणि तिच्या दुरुस्तीसाठी किमतीच्या 10% खर्च करतो. त्याने ती स्कूटर ₹2,200 नफ्याने विकली. जर त्याने 20% नफा कमावला असेल, तर दुरुस्तीवर किती खर्च केला?

- Ans
- 1. ₹400
 - 2. ₹1,200
 - 3. ₹1,000
 - 4. ₹750

Question Type : MCQ
Question ID : 630680287179
Option 1 ID : 6306801116623
Option 2 ID : 6306801116625
Option 3 ID : 6306801116626
Option 4 ID : 6306801116624
Status : Answered
Chosen Option : 3
Marks : 2

Q.7 दिलेले/ली विधान/ने आणि निष्कर्ष लक्षपूर्वक वाचा. विधानामध्ये दिलेली माहिती ही सामान्यपणे ज्ञात तथ्यांपेक्षा वेगळी असल्याचे आढळले, तरी ती सत्य आहे असे गृहीत धरून, दिलेल्या निष्कर्षांपैकी कोणता/ते दिलेल्या विधानांशी तर्कसंगत आहे/आहेत ते ठरवा.
विधाने : सर्व चपला, बूट आहेत.
सर्व बूट, मोजे आहेत.
निष्कर्ष (I): सर्व मोजे, चपला आहेत.
निष्कर्ष (II): काही चपला, मोजे आहेत.

- Ans
- 1. निष्कर्ष (I) आणि (II) हे दोन्ही तर्कसंगत आहेत
 - 2. निष्कर्ष (I) किंवा निष्कर्ष (II) पैकी एकही तर्कसंगत नाही.
 - 3. केवळ निष्कर्ष (II) तर्कसंगत आहे.
 - 4. केवळ निष्कर्ष (I) तर्कसंगत आहे.

Question Type : MCQ
Question ID : 630680272650
Option 1 ID : 6306801059162
Option 2 ID : 6306801059161
Option 3 ID : 6306801059160
Option 4 ID : 6306801059159
Status : Answered
Chosen Option : 2
Marks : 0

Q.8 एका विशिष्ट तर्कानुसार 'YV2' हे 'TQ4' शी संबंधित आहे. त्याचप्रकारे, 'NK6' हे 'IF12' शी संबंधित आहे. त्याच तर्काचे अनुसरण केल्यास, 'SP10' हे खालीलपैकी कशाशी संबंधित आहे?

- Ans
- 1. LM21
 - 2. NK20
 - 3. NH20
 - 4. MK20

Question Type : MCQ
Question ID : 630680271611
Option 1 ID : 6306801055518
Option 2 ID : 6306801055519
Option 3 ID : 6306801055516
Option 4 ID : 6306801055517
Status : Answered
Chosen Option : 2
Marks : 2

Q.9 जर 'A' चा अर्थ '+' आहे, 'B' चा अर्थ 'x' आहे, 'C' चा अर्थ '-' आणि 'D' चा अर्थ '÷' आहे, तर खालीलपैकी कशाची परिणामी संख्या 1820 असेल?

Ans 1. 68 D 2 B 54 A 11 C 27

2. 68 A 2 B 54 C 11 D 27

3. 68 C 2 A 54 B 11 D 27

4. 68 D 2 B 54 C 11 A 27

Question Type : MCQ

Question ID : 630680271649

Option 1 ID : 6306801055668

Option 2 ID : 6306801055669

Option 3 ID : 6306801055670

Option 4 ID : 6306801055671

Status : Answered

Chosen Option : 1

Marks : 2

Q.10 प्रवाहाच्या दिशेने एका माणसाचा वेग 15 km/h आहे आणि प्रवाहाचा वेग 2.5 km/h आहे. प्रवाहाच्या विरुद्ध दिशेने माणसाचा वेग किती आहे?

Ans 1. 8.5 km/h

2. 12.5 km/h

3. 9 km/h

4. 10 km/h

Question Type : MCQ

Question ID : 630680287437

Option 1 ID : 6306801117655

Option 2 ID : 6306801117658

Option 3 ID : 6306801117656

Option 4 ID : 6306801117657

Status : Answered

Chosen Option : 2

Marks : 0

Q.11 इंग्रजी वर्णक्रमावर आधारित दिलेल्या मालिकेत प्रश्नचिन्हाच्या (?) जागी काय यायला हवे?

EF, JK, OP, TU, ?

Ans 1. WX

2. UW

3. YZ

4. YX

Question Type : MCQ

Question ID : 630680272744

Option 1 ID : 6306801059537

Option 2 ID : 6306801059538

Option 3 ID : 6306801059536

Option 4 ID : 6306801059535

Status : Answered

Chosen Option : 3

Marks : 2

Q.12 दिलेली मालिका तर्कदृष्ट्या पूर्ण करण्यासाठी ? च्या स्थानी काय आले पाहिजे?
N, 2, Q, 3, T, 5, W, 7, Z, ?

- Ans 1. 11
 2. 9
 3. 13
 4. 8

Question Type : MCQ
Question ID : 630680272775
Option 1 ID : 6306801059660
Option 2 ID : 6306801059661
Option 3 ID : 6306801059662
Option 4 ID : 6306801059659
Status : Answered
Chosen Option : 1
Marks : 2

Q.13 एका पोलिसाला 100 मीटर अंतरावर एक चोर दिसतो आणि तो त्याचा पाठलाग करू लागतो. चोर त्याला बघतो आणि तो देखील धावण्यास सुरुवात करतो. जर चोर 8 km/h या वेगाने धावत असेल आणि पोलीस 10 km/h वेगाने धावत असेल, तर पोलीसाद्वारे पकडले जाण्यापूर्वी चोराने पार केलेले अंतर शोधा.

- Ans 1. 250 मीटर
 2. 401 मीटर
 3. 400 मीटर
 4. 450 मीटर

Question Type : MCQ
Question ID : 630680287432
Option 1 ID : 6306801117635
Option 2 ID : 6306801117638
Option 3 ID : 6306801117636
Option 4 ID : 6306801117637
Status : Answered
Chosen Option : 3
Marks : 2

Q.14 खालील मालिकेचा संदर्भ घ्या आणि प्रश्नाचे उत्तर द्या. (सर्व संख्या केवळ एक-अंकी संख्या आहेत)

(डावी) 5 3 2 6 8 1 9 6 4 7 3 2 6 8 4 8 9 5 4 7 1 8 5 6 3 5 2 (उजवी)

यात असे किती विषम अंक आहेत, ज्यांच्या प्रत्येकाच्या लगेचच आधी एक सम अंक येतो आणि लगेचच नंतर एक विषम अंकदेखील येतो?

- Ans 1. तीन
 2. सहा
 3. चार
 4. पाच

Question Type : MCQ
Question ID : 630680272694
Option 1 ID : 6306801059335
Option 2 ID : 6306801059337
Option 3 ID : 6306801059336
Option 4 ID : 6306801059338
Status : Answered
Chosen Option : 4
Marks : 2

Q.15 मेघनाने प्रत्येकी ₹1.2 ला 8000 उत्पादने खरेदी केली, प्रत्येकी ₹1.5 ला आणखी 3000 उत्पादने आणि प्रत्येकी ₹1.4 ला आणखी 5000 उत्पादने खरेदी केली. प्रति उत्पादनाची सरासरी किंमत शोधा. (उत्तर दोन दशांश स्थानांपर्यंत पूर्णांकित करा.)

- Ans
- 1. ₹1.41
 - 2. ₹1.32
 - 3. ₹1.27
 - 4. ₹1.39

Question Type : MCQ
Question ID : 630680277284
Option 1 ID : 6306801077585
Option 2 ID : 6306801077588
Option 3 ID : 6306801077586
Option 4 ID : 6306801077587
Status : Answered
Chosen Option : 2
Marks : 2

Q.16 चार शब्द-जोड्या दिल्या आहेत, त्यापैकी तीन विशिष्ट तऱ्हेने समान आहेत आणि एक वेगळी आहे. गटात न बसणारी शब्द-जोडी निवडा.

- Ans
- 1. कुत्रा : पिल्लू
 - 2. माकडे : टोळी
 - 3. पक्षी : थवा
 - 4. सुरवंट : सैन्य

Question Type : MCQ
Question ID : 630680277010
Option 1 ID : 6306801076533
Option 2 ID : 6306801076534
Option 3 ID : 6306801076535
Option 4 ID : 6306801076536
Status : Answered
Chosen Option : 1
Marks : 0

Q.17 Four word pairs have been given, out of which three are alike in some manner and one is different. Select the one that is different.

- Ans
- 1. Pen : Pencil
 - 2. Jack : Car
 - 3. Printer : Printing
 - 4. Tester : Electricity

Question Type : MCQ
Question ID : 630680277012
Option 1 ID : 6306801076543
Option 2 ID : 6306801076541
Option 3 ID : 6306801076544
Option 4 ID : 6306801076542
Status : Answered
Chosen Option : 1
Marks : 2

Q.18 

- Ans 1. 5 मिनिटे
 2. 10 मिनिटे
 3. 9 मिनिटे
 4. 15 मिनिटे

Question Type : MCQ
Question ID : 630680287468
Option 1 ID : 6306801117779
Option 2 ID : 6306801117781
Option 3 ID : 6306801117780
Option 4 ID : 6306801117782
Status : Answered
Chosen Option : 3
Marks : 2

Q.19 सोडवा : $3 \times 7 + 4 - 6 \div 3 - 7 + 45 \div 5 \times 4 + 49$.

- Ans 1. 103
 2. 99
 3. 35
 4. 101

Question Type : MCQ
Question ID : 630680277228
Option 1 ID : 6306801077362
Option 2 ID : 6306801077363
Option 3 ID : 6306801077364
Option 4 ID : 6306801077361
Status : Answered
Chosen Option : 4
Marks : 2

Q.20 8.25 L द्रव पेयापासून, 55 ml च्या किती लहान पिशव्या बनवता येतील?

- Ans 1. 145
 2. 120
 3. 150
 4. 125

Question Type : MCQ
Question ID : 630680277267
Option 1 ID : 6306801077519
Option 2 ID : 6306801077517
Option 3 ID : 6306801077520
Option 4 ID : 6306801077518
Status : Answered
Chosen Option : 3
Marks : 2

Q.21 दिलेली मालिका तर्कदृष्ट्या पूर्ण होण्यासाठी, प्रश्नचिन्हाच्या (?) जागी दिलेल्या पर्यायांपैकी कोणता पर्याय आला पाहिजे?

QT18 OR27 LO36 HK45 ?

- Ans
- 1. DF55
 - 2. CF54
 - 3. DG54
 - 4. CE55

Question Type : MCQ

Question ID : 630680277051

Option 1 ID : 6306801076700

Option 2 ID : 6306801076697

Option 3 ID : 6306801076699

Option 4 ID : 6306801076698

Status : Answered

Chosen Option : 2

Marks : 2

Q.22 दिलेल्या अक्षर-समूहांच्या जोडीचा ज्याप्रमाणे एकमेकांशी संबंध आहे त्याचप्रमाणे समान संबंध असलेला अक्षर-समूह पर्यायांतून निवडा.

HLG : MQL

DAV : IFA

- Ans
- 1. UJM : ZPS
 - 2. YHN : ENS
 - 3. BUT : GZY
 - 4. TGB : ZMG

Question Type : MCQ

Question ID : 630680272702

Option 1 ID : 6306801059369

Option 2 ID : 6306801059368

Option 3 ID : 6306801059370

Option 4 ID : 6306801059367

Status : Answered

Chosen Option : 3

Marks : 2

Q.23 दिलेली विधाने आणि निष्कर्ष लक्षपूर्वक वाचा. विधानांमध्ये दिलेली माहिती ही सामान्यपणे ज्ञात तथ्यांपेक्षा वेगळी असल्याचे आढळले, तरी ती सत्य आहे असे गृहीत धरून, दिलेल्या निष्कर्षांपैकी कोणता/ते निष्कर्ष दिलेल्या विधानांशी तर्कसंगत आहे/आहेत हे ठरवा.

विधाने:

सर्व प्लास्टिक, पडदे आहेत. एकही पडदा, गाय नाही.

निष्कर्ष 1: एकही गाय, प्लास्टिक नाही.

निष्कर्ष 2: सर्व गायी, पडदे आहेत.

- Ans
- 1. केवळ निष्कर्ष 2 तर्कसंगत आहे.
 - 2. केवळ निष्कर्ष 1 तर्कसंगत आहे.
 - 3. 1 किंवा 2 हे दोन्ही निष्कर्ष तर्कसंगत आहेत.
 - 4. 1 किंवा 2 पैकी एकही निष्कर्ष तर्कसंगत नाही.

Question Type : MCQ

Question ID : 630680276986

Option 1 ID : 6306801076438

Option 2 ID : 6306801076437

Option 3 ID : 6306801076440

Option 4 ID : 6306801076439

Status : Answered

Chosen Option : 2

Marks : 2

Q.24 एका कपाटाची विक्री किंमत दुप्पट केली, तर नफा तिप्पट होतो. तर सुरुवातीची नफ्याची टक्केवारी शोधा.

Ans 1. 50%

2. 100%

3. 25%

4. 10%

Question Type : MCQ

Question ID : 630680287145

Option 1 ID : 6306801116489

Option 2 ID : 6306801116490

Option 3 ID : 6306801116488

Option 4 ID : 6306801116487

Status : Answered

Chosen Option : 2

Marks : 2

Q.25 

Ans 1. ₹2,037.50

2. ₹2,171.25

3. ₹2,210.40

4. ₹2,185.75

Question Type : MCQ

Question ID : 630680287205

Option 1 ID : 6306801116727

Option 2 ID : 6306801116728

Option 3 ID : 6306801116730

Option 4 ID : 6306801116729

Status : Answered

Chosen Option : 3

Marks : 0