





महाराष्ट्र शासन  
GOVERNMENT OF MAHARASHTRA

मुख्य कार्यालय : महसूल व वन विभाग, मंत्रालय, मुंबई-32

राज्य समन्वयक कार्यालय :

2 व 3 मजला नवीन प्रशासकीय इमारत, जमाबंदी आयुक्त आणि संचालक,  
भूमि अभिलेख कार्यालय, महाराष्ट्र राज्य, पुणे.



Participant ID	000000000000
Participant Name	www.mpscmaterial.com
Test Center Name	iON Digital Zone iDZ Ramtekdi 3
Test Date	20/08/2023
Test Time	12:30 PM - 2:30 PM
Subject	Talathi
Registration Photograph	
Capture Photo	
Upload Photo	

Section : Marathi Language

Q.1 खालीलपैकी कोणती जोडी चुकीची आहे ?

- Ans
- 1. नवरा - पती
  - 2. खूण - ब्रण
  - 3. दुर्ग - तलाव
  - 4. गृह - घर

Question Type : MCQ  
Question ID : 630680291106  
Option 1 ID : 6306801132332  
Option 2 ID : 6306801132331  
Option 3 ID : 6306801132334  
Option 4 ID : 6306801132333  
Status : Answered  
Chosen Option : 3  
Marks : 2

Q.2 'रज' शब्दाचा अर्थ काय आहे?

- Ans
- 1. भट्टी
  - 2. फुलाची पाकळी
  - 3. धुळीचा कण
  - 4. चादर

Question Type : MCQ  
Question ID : 630680291090  
Option 1 ID : 6306801132270  
Option 2 ID : 6306801132269  
Option 3 ID : 6306801132268  
Option 4 ID : 6306801132267  
Status : Answered  
Chosen Option : 3  
Marks : 2

Q.3 'सर्वाना समज दिली जाईल.' - प्रयोग ओळखा.

- Ans
- 1. भावे
  - 2. कर्तृ-भाव संकर
  - 3. कर्म-भाव संकर
  - 4. कर्मकर्तरी

Question Type : MCQ

Question ID : 630680291091

Option 1 ID : 6306801132271

Option 2 ID : 6306801132273

Option 3 ID : 6306801132272

Option 4 ID : 6306801132274

Status : Answered

Chosen Option : 4

Marks : 2

Q.4 खाली काही शब्द व त्यांचे अर्थ दिलेले आहेत, त्यांतील चुकीची जोडी कोणती आहे ?

- Ans
- 1. पार - कट्टा
  - 2. माया - प्रेम
  - 3. वट - समेट
  - 4. पाखर - छाया

Question Type : MCQ

Question ID : 630680291089

Option 1 ID : 6306801132264

Option 2 ID : 6306801132265

Option 3 ID : 6306801132266

Option 4 ID : 6306801132263

Status : Answered

Chosen Option : 3

Marks : 2

Q.5 'विंग्ज ऑफ फायर' या डॉ.ए.पी.जे.अब्दुल कलाम यांच्या पुस्तकाचा मराठी अनुवाद कोणत्या शीर्षकाने प्रकाशित झाला आहे ?

- Ans
- 1. अग्निपथ
  - 2. उड्डाण
  - 3. अग्निपंख
  - 4. ज्वाला

Question Type : MCQ

Question ID : 630680291110

Option 1 ID : 6306801132347

Option 2 ID : 6306801132350

Option 3 ID : 6306801132348

Option 4 ID : 6306801132349

Status : Answered

Chosen Option : 3

Marks : 2

Q.6 'त्याला आंबा खावतो.' - प्रयोग ओळखा.

- Ans
- 1. प्रधानकर्तृक कर्मणी प्रयोग
  - 2. शक्य कर्मणी प्रयोग
  - 3. समापन कर्मणी प्रयोग
  - 4. नवीन कर्मणी प्रयोग

Question Type : MCQ

Question ID : 630680291092

Option 1 ID : 6306801132278

Option 2 ID : 6306801132277

Option 3 ID : 6306801132275

Option 4 ID : 6306801132276

Status : Answered

Chosen Option : 2

Marks : 2

Q.7 'माझी जन्मठेप' हे आत्मचरित्र कोणाचे आहे?

- Ans
- 1. लोकमान्य बाळ गंगाधर टिळक
  - 2. स्वातंत्र्यवीर वि.दा.सावरकर
  - 3. नेताजी सुभाषचंद्र बोस
  - 4. महात्मा गांधी

Question Type : MCQ

Question ID : 630680291109

Option 1 ID : 6306801132344

Option 2 ID : 6306801132343

Option 3 ID : 6306801132346

Option 4 ID : 6306801132345

Status : Answered

Chosen Option : 2

Marks : 2

Q.8 'कडू कारले,तुपात तळले, साखरेत घोळले, तरी कडू ते कडूच.' - या म्हणीचा अर्थ ओळखा.

- Ans
- 1. दोन्ही बाजूंनी कोंडमारा
  - 2. दुर्जन कशानेही सुधारत नाही
  - 3. कडू कारल्याची चव बदलत नाही
  - 4. समाजात सज्जन माणसे कमी आहेत

Question Type : MCQ

Question ID : 630680291100

Option 1 ID : 6306801132309

Option 2 ID : 6306801132310

Option 3 ID : 6306801132307

Option 4 ID : 6306801132308

Status : Answered

Chosen Option : 2

Marks : 2

Q.9 खालीलपैकी कोणत्या वाक्प्रचाराचा अर्थ चुकीचा दिलेला आहे?

- Ans
- ✓ 1. नावे ठेवणे - स्तुती करणे
  - ✗ 2. फशी पाडणे - फसवून संकटात पाडणे
  - ✗ 3. वर्ज्य करणे - टाळणे
  - ✗ 4. हातापाया पडणे - गयावया करणे

Question Type : MCQ  
Question ID : 630680291103  
Option 1 ID : 6306801132322  
Option 2 ID : 6306801132321  
Option 3 ID : 6306801132320  
Option 4 ID : 6306801132319  
Status : Answered  
Chosen Option : 1  
Marks : 2

Q.10 'नावडती व्यक्ती समोर पाहताच अक्षयचे पित्त खवळले.' - या वाक्यातील वाक्प्रचाराचा अर्थ कोणता आहे ?

- Ans
- ✗ 1. चक्कर येणे
  - ✗ 2. आनंद वाटणे
  - ✗ 3. उलटी होणे
  - ✓ 4. रागावणे

Question Type : MCQ  
Question ID : 630680291105  
Option 1 ID : 6306801132327  
Option 2 ID : 6306801132330  
Option 3 ID : 6306801132329  
Option 4 ID : 6306801132328  
Status : Answered  
Chosen Option : 4  
Marks : 2

Q.11 खालीलपैकी कोणती विरुद्धार्थी शब्दांची जोडी आहे?

Ans

- ✓ 1. भंग x अभंग  
✗ 2. उपकार x मदत  
✗ 3. दोषी x दयाळू  
✗ 4. सुसंगत x नियंत्रित

Question Type : MCQ

Question ID : 630680291096

Option 1 ID : 6306801132294

Option 2 ID : 6306801132291

Option 3 ID : 6306801132293

Option 4 ID : 6306801132292

Status : Answered

Chosen Option : 1

Marks : 2

Q.12 वाक्यप्रचार व त्यांच्या अर्थाच्या योग्य जोड्या लावा.

'अ' गट	'ब' गट
a. राम नसणे	i. जाणीव नसणे
b. भान नसणे	ii. अर्थ नसणे
c. डोळ्यात खुपणे	iii. दुर्लक्ष करणे
d. गळ घालणे	iv. सहन न होणे
	v. आग्रह करणे

Ans

- ✗ 1. a-i, b-v, c-iii, d-ii  
✗ 2. a-v, b-iii, c-iv, d-i  
✗ 3. a-iii, b-iv, c-i, d-v  
✓ 4. a-ii, b-i, c-iv, d-v

Question Type : MCQ

Question ID : 630680291104

Option 1 ID : 6306801132325

Option 2 ID : 6306801132324

Option 3 ID : 6306801132326

Option 4 ID : 6306801132323

Status : Answered

Chosen Option : 4

Marks : 2

Q.13 खालील शब्दगट वापरून योग्य वाक्य बनवा.

अ. आम्ही अभयारण्यातील

आ. एका मचाणावर

इ. मुक्काम करावयाचे ठरवले

ई. झाडावर बांधलेल्या

Ans  1.

आम्ही अभयारण्यातील एका मचाणावर मुक्काम करावयाचे ठरवले झाडावर बांधलेल्या.

 2.

झाडावर बांधलेल्या एका मचाणावर मुक्काम करावयाचे ठरवले आम्ही अभयारण्यातील.

 3.

आम्ही अभयारण्यातील झाडावर बांधलेल्या एका मचाणावर मुक्काम करावयाचे ठरवले.

 4.

एका मचाणावर अभयारण्यातील झाडावर बांधलेल्या मुक्काम करावयाचे ठरवले आम्ही.

Question Type : MCQ

Question ID : 630680291088

Option 1 ID : 6306801132261

Option 2 ID : 6306801132260

Option 3 ID : 6306801132259

Option 4 ID : 6306801132262

Status : Answered


Chosen Option : 3


Marks : 2


Q.14 समानार्थी शब्द ओळखा.


'पिपीलिका'

Ans

 1. मुंगी

 2. मुंगुस

 3. घर

 4. मुंगळा

Question Type : MCQ

Question ID : 630680291094

Option 1 ID : 6306801132283

Option 2 ID : 6306801132284

Option 3 ID : 6306801132285

Option 4 ID : 6306801132286

Status : Answered

Chosen Option : 4

Marks : 0



Q.15 खालीलपैकी कोणती चुकीची वाक्यरचना आहे?

Ans

✗ 1. माहूत अंकुश घेऊन सरसावला.

✓ 2. होता गळ्यात लाल रेशमी गोफ.

✗ 3.

गणपतीच्या देवळाच्या नगारखान्यात चौघडा झणझणू लागला.

✗ 4. अंकुशाची कळ अजूनही गंडस्थळ खात होती.

Question Type : MCQ

Question ID : 630680291087

Option 1 ID : 6306801132257

Option 2 ID : 6306801132258

Option 3 ID : 6306801132256

Option 4 ID : 6306801132255

Status : Answered

Chosen Option : 2

Marks : 2

Q.16 (शेजार) गावात एक बलाढ्य सावकार मरण (पावणे) बातमी ऐकून भिमाने ताडकन उडी मारली.' - कंसातील शब्दांची योग्य रूपे वापरून वाक्य बनवा.

Ans

✗ 1.

शेजारचा गावात एक बलाढ्य सावकार मरण पावल्याने बातमी ऐकून भिमाने ताडकन उडी मारली.

✗ 2.

शेजारच्या गावात एक बलाढ्य सावकार मरण पावल्याहून बातमी ऐकून भिमाने ताडकन उडी मारली.

✗ 3.

शेजारने गावात एक बलाढ्य सावकार मरण पावल्याची बातमी ऐकून भिमाने ताडकन उडी मारली.

✓ 4.

शेजारच्या गावात एक बलाढ्य सावकार मरण पावल्याची बातमी ऐकून भिमाने ताडकन उडी मारली.

Question Type : MCQ

Question ID : 630680291086

Option 1 ID : 6306801132254

Option 2 ID : 6306801132253

Option 3 ID : 6306801132251

Option 4 ID : 6306801132252

Status : Answered

Chosen Option : 4

Marks : 2

Q.17 विरुद्धार्थी शब्दांच्या योग्य जोड्या लावा.

'अ' गट	'ब' गट
a. सुश्राव्य	i. मलीन
b. विमल	ii. द्वेष
c. प्रीती	iii. विसंगत
d.सुसंबद्ध	iv. कर्णकटू

- Ans
- ✗ 1. a-i, b-iii, c-iv, d-ii
  - ✗ 2. a-iii, b-ii, c-iv, d-i
  - ✗ 3. a-ii, b-iii, c-i, d-iv
  - ✓ 4. a-iv, b-i, c-ii, d-iii

Question Type : MCQ  
Question ID : 630680291097  
Option 1 ID : 6306801132297  
Option 2 ID : 6306801132295  
Option 3 ID : 6306801132298  
Option 4 ID : 6306801132296  
Status : Answered  
Chosen Option : 4  
Marks : 2

Q.18 'अभिनव' म्हणजे \_\_\_\_\_

- Ans
- ✗ 1. हावभाव
  - ✗ 2. अभिनय
  - ✗ 3. उत्साह
  - ✓ 4. नाविन्यपूर्ण

Question Type : MCQ  
Question ID : 630680291107  
Option 1 ID : 6306801132337  
Option 2 ID : 6306801132336  
Option 3 ID : 6306801132338  
Option 4 ID : 6306801132335  
Status : Answered  
Chosen Option : 4  
Marks : 2

Q.19 'शेतकऱ्याचा आसूड' हा ग्रंथ कोणाचा आहे?

- Ans
- 1. डॉ. बाबासाहेब आंबेडकर
  - 2. सावित्रीबाई फुले
  - 3. विनोबा भावे
  - 4. महात्मा जोतीराव फुले

Question Type : MCQ  
Question ID : 630680291108  
Option 1 ID : 6306801132340  
Option 2 ID : 6306801132342  
Option 3 ID : 6306801132339  
Option 4 ID : 6306801132341  
Status : Answered  
Chosen Option : 4  
Marks : 2

Q.20 'वाटसरू पाणी मागत होता.' - अधोरेखित शब्दाचा समानार्थी नसलेला शब्द ओळखा.

- Ans
- 1. पांथस्थ
  - 2. प्रवासी
  - 3. सेवक
  - 4. पथिक

Question Type : MCQ  
Question ID : 630680291093  
Option 1 ID : 6306801132279  
Option 2 ID : 6306801132280  
Option 3 ID : 6306801132282  
Option 4 ID : 6306801132281  
Status : Answered  
Chosen Option : 3  
Marks : 2

Q.21 खालीलपैकी कोणता सामासिक शब्द नाही?

- Ans
- ✗ 1. नीलकंठ
  - ✗ 2. दररोज
  - ✗ 3. आईवडील
  - ✓ 4. पोळी

Question Type : MCQ

Question ID : 630680291098

Option 1 ID : 6306801132300

Option 2 ID : 6306801132301

Option 3 ID : 6306801132299

Option 4 ID : 6306801132302

Status : Answered

Chosen Option : 4

Marks : 2

Q.22 'पोटभर भोजन करून ती तृप्त झाली.'- अधोरेखित शब्दाचा विरुद्धार्थी शब्द ओळखा.

- Ans
- ✗ 1. आवड
  - ✗ 2. मुद्रा
  - ✗ 3. उदंड
  - ✓ 4. अतृप्त

Question Type : MCQ

Question ID : 630680291095

Option 1 ID : 6306801132290

Option 2 ID : 6306801132288

Option 3 ID : 6306801132287

Option 4 ID : 6306801132289

Status : Answered

Chosen Option : 4

Marks : 2

Q.23 'भीक नको; पण कुत्रा आवर' या म्हणीचा अर्थ काय आहे?

Ans  1. उपकार नकोत, पण छळ आवर

2. थड्डा करणे

3. भीक मागायला गेल्यावर कुत्रा अंगावर सोडणे

4. स्वार्थी वृत्तीने वागणे

Question Type : MCQ

Question ID : 630680291101

Option 1 ID : 6306801132312

Option 2 ID : 6306801132314

Option 3 ID : 6306801132311

Option 4 ID : 6306801132313

Status : Answered

Chosen Option : 1

Marks : 2

Q.24 समास ओळखा.

'दुःखप्राप्त'

Ans  1. तृतीया तत्पुरुष

2. पंचमी तत्पुरुष

3. द्वितीया तत्पुरुष

4. चतुर्थी तत्पुरुष

Question Type : MCQ

Question ID : 630680291099

Option 1 ID : 6306801132304

Option 2 ID : 6306801132306

Option 3 ID : 6306801132303

Option 4 ID : 6306801132305

Status : Answered

Chosen Option : 3

Marks : 2

Q.25 कालच्या लग्नात तुषारने प्रमाणापेक्षा जास्त लाडू खाल्ले; त्यामुळे त्याला दवाखान्यात भरती करावे लागले. म्हणतात ना

Ans

- ✓ 1. अती तेथे माती  
✗ 2. अती राग भीक माग  
✗ 3. असेल हरी तर देईल खाटल्यावरी  
✗ 4. खाई त्याला खवखवे

Question Type : MCQ

Question ID : 630680291102

Option 1 ID : 6306801132315

Option 2 ID : 6306801132317

Option 3 ID : 6306801132318

Option 4 ID : 6306801132316

Status : Answered

Chosen Option : 1

Marks : 2

Section : English Language

Q.1 Select the most appropriate option to fill in the blank.

Virat plays well, \_\_\_\_\_ he?

Ans

- ✗ 1. isn't  
✗ 2. don't  
✗ 3. aren't  
✓ 4. doesn't

Question Type : MCQ

Question ID : 630680274424

Option 1 ID : 6306801066207

Option 2 ID : 6306801066208

Option 3 ID : 6306801066210

Option 4 ID : 6306801066209

Status : Answered

Chosen Option : 4

Marks : 2

**Q.2 Select the most appropriate question tag to fill in the blank.**

None of us have gone to the garden, \_\_\_\_\_?

- Ans  1. have we  
 2. will we  
 3. haven't we  
 4. did we

Question Type : **MCQ**  
Question ID : **630680274680**  
Option 1 ID : **6306801067234**  
Option 2 ID : **6306801067233**  
Option 3 ID : **6306801067231**  
Option 4 ID : **6306801067232**  
Status : **Answered**  
Chosen Option : **1**  
Marks : **2**

**Q.3 Select the option that expresses the given sentence in passive voice.**

When Bella was young, her uncle looked after her.

- Ans  1. Whenever Bella was young, uncle was looked after.  
 2. When Bella was young, she was looked after by her uncle.  
 3. Bella was young when her uncle was looking after her.  
 4. When uncle was young, Bella looked after him.

Question Type : **MCQ**  
Question ID : **630680274437**  
Option 1 ID : **6306801066260**  
Option 2 ID : **6306801066261**  
Option 3 ID : **6306801066262**  
Option 4 ID : **6306801066259**  
Status : **Answered**  
Chosen Option : **2**  
Marks : **2**

**Q.4 Select the most appropriate ANTONYM of the given word.**

**Dormant**

- Ans  1. Active  
 2. Abrupt  
 3. Shallow  
 4. Rough

Question Type : **MCQ**  
Question ID : **630680252540**  
Option 1 ID : **630680980141**  
Option 2 ID : **630680980142**  
Option 3 ID : **630680980140**  
Option 4 ID : **630680980139**  
Status : **Answered**  
Chosen Option : **1**  
Marks : **2**

**Q.5 Identify the spelling errors in the following sentence and select the correctly spelt sentence from the given options.**

**A new definition of adolascent has also been introduced to prohebit the employment of tenegers aged between 14 and 18 in hajardous jobs, a government statement said.**

- Ans**
- 1. A new definition of adolescent has also been introduced to prohebit the employment of teenegers aged between 14 and 18 in hazerdous jobs, a government statement said
  - 2. A new definition of adolascent has also been introduced to prohibit the employment of tenegers aged between 14 and 18 in hajardous jobs, a government statement said
  - 3. A new definition of adolescent has also been introduced to prohibit the employment of teenageers aged between 14 and 18 in hazardus jobs, a government statement said
  - 4. A new definition of adolescent has also been introduced to prohibit the employment of teenegers aged between 14 and 18 in hazardous jobs, a government statement said

Question Type : **MCQ**

Question ID : **630680252527**

Option 1 ID : **630680980089**

Option 2 ID : **630680980087**

Option 3 ID : **630680980088**

Option 4 ID : **630680980090**

Status : **Answered**

Chosen Option : **4**

Marks : **2**

**Q.6 The following sentence has been split into four segments. Identify the segment that contains a grammatical error.**

**This news were / broadcasted / all over the world / from CBC Radio.**

- Ans**
- 1. all over the world
  - 2. from CBC Radio
  - 3. The news were
  - 4. broadcasted

Question Type : **MCQ**

Question ID : **630680279751**

Option 1 ID : **6306801087257**

Option 2 ID : **6306801087258**

Option 3 ID : **6306801087255**

Option 4 ID : **6306801087256**

Status : **Answered**

Chosen Option : **3**

Marks : **2**



Q.7 Select the most appropriate ANTONYM of the underlined word.

The dowry system was abolished around the mid-17th century in India.

- Ans
- 1. reserved
  - 2. retained
  - 3. reviewed
  - 4. rebuked

Question Type : MCQ  
Question ID : 630680252311  
Option 1 ID : 630680979224  
Option 2 ID : 630680979225  
Option 3 ID : 630680979223  
Option 4 ID : 630680979226  
Status : Answered  
Chosen Option : 2  
Marks : 2

Q.8 Select the most appropriate option to fill in the blank.

That purple covered book on the shelf \_\_\_\_ very interesting.

- Ans
- 1. was being
  - 2. were been
  - 3. is
  - 4. have been

Question Type : MCQ  
Question ID : 630680274689  
Option 1 ID : 6306801067268  
Option 2 ID : 6306801067269  
Option 3 ID : 6306801067267  
Option 4 ID : 6306801067270  
Status : Answered  
Chosen Option : 3  
Marks : 2

Q.9 Select the most appropriate meaning of the given proverb.

A leopard can't change its spots.

- Ans
- 1. A person's good character, will not change, even if he intends to change.
  - 2. An animal's basic instincts, especially if it is bad, will not change, even if it pretends that it will.
  - 3. A person's character, especially if it is bad, will not change, even if he pretends that he will.
  - 4. A person's character, especially if it is bad, will change, even if he remains immoral.

Question Type : MCQ  
Question ID : 630680274515  
Option 1 ID : 6306801066573  
Option 2 ID : 6306801066572  
Option 3 ID : 6306801066571  
Option 4 ID : 6306801066574  
Status : Answered  
Chosen Option : 3  
Marks : 2

Q.10 Select the most appropriate punctuation mark to fill in the blank.

He asked me how I was \_\_\_\_\_.

- Ans
- 1. , (comma)
  - 2. ? (question mark)
  - 3. . (full stop)
  - 4. ; (semi-colon)

Question Type : MCQ  
Question ID : 630680274461  
Option 1 ID : 6306801066357  
Option 2 ID : 6306801066355  
Option 3 ID : 6306801066356  
Option 4 ID : 6306801066358  
Status : Answered  
Chosen Option : 3  
Marks : 2

Q.11 The following sentence has been split into four segments. Identify the segment that contains a grammatical error.

The Commander ordered / the soldiers to / stop and camp / besides the lake.

- Ans
- 1. the soldiers to
  - 2. besides the lake
  - 3. stop and camp
  - 4. The Commander ordered

Question Type : MCQ  
Question ID : 630680252296  
Option 1 ID : 630680979164  
Option 2 ID : 630680979166  
Option 3 ID : 630680979165  
Option 4 ID : 630680979163  
Status : Answered  
Chosen Option : 1  
Marks : 0

Q.12 Select the most appropriate option to fill in the blank.

The \_\_\_\_\_ building in the city is the Empire State Building.

- Ans
- 1. tallish
  - 2. tallest
  - 3. tall
  - 4. taller

Question Type : MCQ  
Question ID : 630680274554  
Option 1 ID : 6306801066730  
Option 2 ID : 6306801066729  
Option 3 ID : 6306801066727  
Option 4 ID : 6306801066728  
Status : Answered  
Chosen Option : 2  
Marks : 2

Q.13 Select the most appropriate option to fill in the blank

Stay inside the building \_\_\_\_\_ young fellow.

- Ans  1. . (Full stop)  
 2. ? (Question mark)  
 3. , (Comma)  
 4. ! (Exclamation mark)

Question Type : MCQ

Question ID : 630680252514

Option 1 ID : 630680980037

Option 2 ID : 630680980038

Option 3 ID : 630680980035

Option 4 ID : 630680980036

Status : Answered

Chosen Option : 3

Marks : 2

Q.14 Select the appropriate meaning of the given word.

Excruiciating

- Ans  1. Mild  
 2. Wrenching  
 3. Soothing  
 4. Facile

Question Type : MCQ

Question ID : 630680280676

Option 1 ID : 6306801090941

Option 2 ID : 6306801090939

Option 3 ID : 6306801090942

Option 4 ID : 6306801090940

Status : Answered

Chosen Option : 2

Marks : 2

Q.15 Parts of the given sentence have been underlined. One of them contains an error. The underlined parts are given as options with some changes. Select the option that correctly rectifies the error.

Riya is studying for her exam while her sister watched television without any worry about the exam.

- Ans  1. because of her exam  
 2. Riya studies  
 3. without any worry from the exam  
 4. her sister is watching television

Question Type : MCQ

Question ID : 630680274470

Option 1 ID : 6306801066392

Option 2 ID : 6306801066391

Option 3 ID : 6306801066394

Option 4 ID : 6306801066393

Status : Answered

Chosen Option : 4

Marks : 2

Q.16 Select the most appropriate option to fill in the blank.

My teacher has often commented on my handwriting and appearance, \_\_\_\_\_.

- Ans  1. too  
 2. to  
 3. ever  
 4. already

Question Type : MCQ  
Question ID : 630680252553  
Option 1 ID : 630680980194  
Option 2 ID : 630680980191  
Option 3 ID : 630680980193  
Option 4 ID : 630680980192  
Status : Answered  
Chosen Option : 1  
Marks : 2

Q.17 Select the INCORRECTLY spelt word in the given sentence.

The Green Space Project is sponsored by the Pensioners Welfare Association of the country.

- Ans  1. Sponsored  
 2. Pensioners  
 3. Welfare  
 4. Association

Question Type : MCQ  
Question ID : 630680274698  
Option 1 ID : 6306801067303  
Option 2 ID : 6306801067306  
Option 3 ID : 6306801067304  
Option 4 ID : 6306801067305  
Status : Answered  
Chosen Option : 1  
Marks : 2

Q.18 Select the most appropriate meaning of the given proverb.

Better late than never.

- Ans  1. It is better to be on time than late.  
 2. It is better to be late than to never do it at all.  
 3. It is better to be early than late.  
 4. It is better to never do it at all than to be late.

Question Type : MCQ  
Question ID : 630680274551  
Option 1 ID : 6306801066716  
Option 2 ID : 6306801066717  
Option 3 ID : 6306801066715  
Option 4 ID : 6306801066718  
Status : Answered  
Chosen Option : 2  
Marks : 2

Q.19 Parts of the given sentence have been underlined. One of them contains an error. The underlined parts are given as options with some changes. Select the option that correctly rectifies the error.

By the time we had arrived at the metro station, the train had left.

Ans  1. the train leaving

2. we arrived

3. train left

4. By time

Question Type : MCQ

Question ID : 630680252910

Option 1 ID : 630680981621

Option 2 ID : 630680981619

Option 3 ID : 630680981622

Option 4 ID : 630680981620

Status : Answered

Chosen Option : 2

Marks : 2

Q.20 Select the most appropriate preposition to fill in the blank.

In spite of being warned, Tamara insisted \_\_\_\_\_ meeting the conman.

Ans  1. on

2. for

3. from

4. to

Question Type : MCQ

Question ID : 630680278255

Option 1 ID : 6306801081378

Option 2 ID : 6306801081379

Option 3 ID : 6306801081377

Option 4 ID : 6306801081380

Status : Answered

Chosen Option : 2

Marks : 0

Q.21 Select the most appropriate article to fill in the blank.

She is \_\_\_\_\_ tallest student in the class

Ans  1. No article required

2. a

3. an

4. the

Question Type : MCQ

Question ID : 630680274378

Option 1 ID : 6306801066026

Option 2 ID : 6306801066023

Option 3 ID : 6306801066024

Option 4 ID : 6306801066025

Status : Answered

Chosen Option : 4

Marks : 2

**Q.22 Select the most appropriate option to fill in the blank and make a grammatically correct sentence.**

Mohan \_\_\_ join the army next month.

- Ans
- 1. would
  - 2. would go
  - 3. will be
  - 4. will

Question Type : **MCQ**  
Question ID : **630680280626**  
Option 1 ID : **6306801090739**  
Option 2 ID : **6306801090742**  
Option 3 ID : **6306801090741**  
Option 4 ID : **6306801090740**  
Status : **Answered**  
Chosen Option : **4**  
Marks : **2**

**Q.23 Select the most appropriate article to fill in the blank.**

She is studying in \_\_\_ university fifty miles away from her home.

- Ans
- 1. a
  - 2. No article required
  - 3. an
  - 4. the

Question Type : **MCQ**  
Question ID : **630680274486**  
Option 1 ID : **6306801066455**  
Option 2 ID : **6306801066458**  
Option 3 ID : **6306801066456**  
Option 4 ID : **6306801066457**  
Status : **Answered**  
Chosen Option : **3**  
Marks : **0**

**Q.24 Select the most appropriate meaning of the given proverb.**

An empty vessel makes much noise.

- Ans
- 1. Stupid people speak the loudest.
  - 2. All the utensils should be kept together.
  - 3. Vessels must not be kept empty.
  - 4. Hungry people lose their temper easily.

Question Type : **MCQ**  
Question ID : **630680252531**  
Option 1 ID : **630680980104**  
Option 2 ID : **630680980106**  
Option 3 ID : **630680980103**  
Option 4 ID : **630680980105**  
Status : **Answered**  
Chosen Option : **1**  
Marks : **2**

Q.25 Select the option that expresses the given sentence in passive voice.

It is time to knock the door.

- Ans
- 1. It is time for the door to knock.
  - 2. It is time the door knocks.
  - 3. It is being time to knock the door.
  - 4. It is time for the door to be knocked.

Question Type : MCQ

Question ID : 630680274397

Option 1 ID : 6306801066100

Option 2 ID : 6306801066099

Option 3 ID : 6306801066102

Option 4 ID : 6306801066101

Status : Answered

Chosen Option : 4

Marks : 2

Section : General Knowledge

Q.1 माहितीचा अधिकार अधिनियम, 2005 नुसार, राज्य माहिती आयोगावर कमाल किती राज्य माहिती आयुक्तांची नेमणूक केली जाऊ शकते?

- Ans
- 1. आठ
  - 2. बारा
  - 3. पाच
  - 4. दहा

Question Type : MCQ

Question ID : 630680275366

Option 1 ID : 6306801069976

Option 2 ID : 6306801069978

Option 3 ID : 6306801069975

Option 4 ID : 6306801069977

Status : Answered

Chosen Option : 4

Marks : 2

Q.2 खालीलपैकी कोणते भारतीय आरक्षित जैव-क्षेत्र (bio-reserve) हे जागतिक आरक्षित जैव-क्षेत्रजालाचा (global bio-reserve network) एक भाग नाही?

- Ans
- 1. मानस
  - 2. पन्ना
  - 3. मन्नारचे आखात
  - 4. निलगिरी

Question Type : MCQ

Question ID : 630680275782

Option 1 ID : 6306801071639

Option 2 ID : 6306801071641

Option 3 ID : 6306801071640

Option 4 ID : 6306801071642

Status : Answered

Chosen Option : 2

Marks : 0

Q.3 भारतीय नागरिकत्व किती मार्गांनी मिळू शकते?

- Ans
- 1. सात
  - 2. नऊ
  - 3. तीन
  - 4. पाच

Question Type : MCQ

Question ID : 630680270120

Option 1 ID : 6306801049733

Option 2 ID : 6306801049734

Option 3 ID : 6306801049731

Option 4 ID : 6306801049732

Status : Answered

Chosen Option : 4

Marks : 2

Q.4 2023 मध्ये, सानिया मिर्झा आणि रोहन बोपण्णा खालीलपैकी कोणत्या ग्रॅण्ड स्लॅममध्ये मिश्र दुहेरीत उपविजेते ठरले?

- Ans
- 1. विम्बल्डन, 2023
  - 2. यूएस (US) ओपन, 2023
  - 3. ऑस्ट्रेलियन ओपन, 2023
  - 4. फ्रेंच ओपन, 2023

Question Type : MCQ

Question ID : 630680270033

Option 1 ID : 6306801049386

Option 2 ID : 6306801049384

Option 3 ID : 6306801049383

Option 4 ID : 6306801049385

Status : Answered

Chosen Option : 2

Marks : 0

Q.5 हवामान बदल कामगिरी निर्देशांक (CCPI 2023) संदर्भात खालीलपैकी कोणते/ती विधान/ने अचूक/सत्य आहे/आहेत?

I) हवामान बदलावर सर्वोत्तम कामगिरी करणाऱ्या पहिल्या 5 देशांपैकी भारत हा एक आहे.

II) हवामान बदल कामगिरी निर्देशांक (CCPI 2023) ने भारताला G-20 देशांमध्ये सर्वोत्तम स्थान दिले आहे.

III) भारताचा क्रमांक 5 वा आहे.

- Ans
- 1. I आणि III
  - 2. फक्त II
  - 3. I आणि II
  - 4. II आणि III

Question Type : MCQ

Question ID : 630680278289

Option 1 ID : 6306801081514

Option 2 ID : 6306801081516

Option 3 ID : 6306801081513

Option 4 ID : 6306801081515

Status : Answered

Chosen Option : 1

Marks : 0



Q.6 मे 2023 मध्ये, राणा कपूर यांना मुंबई उच्च न्यायालयाने जामीन नाकारला. राणा कपूर हे कोणत्या बँकेचे संस्थापक आहेत?

- Ans  1. ICICI बँक  
 2. येस बँक  
 3. सिटी (CITI) बँक  
 4. लॉर्ड कृष्ण

Question Type : MCQ  
Question ID : 630680275613  
Option 1 ID : 6306801070963  
Option 2 ID : 6306801070966  
Option 3 ID : 6306801070964  
Option 4 ID : 6306801070965  
Status : Answered  
Chosen Option : 3  
Marks : 0

Q.7 जननद्रव्याच्या निरंतरतेचा सिद्धांत कोणत्या शास्त्रज्ञाने मांडला?

- Ans  1. अल्ब्रेक्ट कोसेल (Albrecht Kossel)  
 2. रिचर्ड लेवॉटिन (Richard Lewontin)  
 3. ऑगस्ट वेझमन (August Weismann)  
 4. थिओडोर श्वान (Theodor Schwann)

Question Type : MCQ  
Question ID : 630680270135  
Option 1 ID : 6306801049793  
Option 2 ID : 6306801049792  
Option 3 ID : 6306801049791  
Option 4 ID : 6306801049794  
Status : Answered  
Chosen Option : 4  
Marks : 0

Q.8 1782 साली ब्रिटिश ईस्ट इंडिया कंपनी आणि \_\_\_\_\_ यांच्यादरम्यानच्या सालबाईच्या तहावर स्वाक्षरी केली गेली.

- Ans  1. मुघल  
 2. राजपूत  
 3. फ्रेंच  
 4. मराठे

Question Type : MCQ  
Question ID : 630680270069  
Option 1 ID : 6306801049527  
Option 2 ID : 6306801049529  
Option 3 ID : 6306801049530  
Option 4 ID : 6306801049528  
Status : Answered  
Chosen Option : 4  
Marks : 2

Q.9 मार्च 2023 मध्ये, आसामच्या मुख्यमंत्र्यांनी कामरूप जिल्ह्यात ईशान्य भारतातील पहिल्या \_\_\_\_\_ चे उद्घाटन केले.

- Ans  1. संपीडित बायोगॅस संयंत्र  
 2. एक्सप्रेस वे (expressway)  
 3. सौरऊर्जा संयंत्र  
 4. इलेक्ट्रिक बस

Question Type : MCQ  
Question ID : 630680275600  
Option 1 ID : 6306801070913  
Option 2 ID : 6306801070912  
Option 3 ID : 6306801070914  
Option 4 ID : 6306801070911  
Status : Answered  
Chosen Option : 2  
Marks : 0

Q.10 खालीलपैकी कोणते समाजसुधारक प्रार्थना समाज आणि सत्यशोधक समाजाशी जोडले गेले होते आणि त्यांनी समाज विवाह आणि भैय्या एज्युकेशन यांसारखे कार्यक्रम सुरू केले?

- Ans  1. शंकरराव मोरे  
 2. माधुरी देशमुख  
 3. नाना पाटील  
 4. केशवराव जाधव

Question Type : MCQ  
Question ID : 630680275244  
Option 1 ID : 6306801069488  
Option 2 ID : 6306801069487  
Option 3 ID : 6306801069490  
Option 4 ID : 6306801069489  
Status : Answered  
Chosen Option : 4  
Marks : 0

Q.11 खालीलपैकी कोणते विकरजन (Zymogen) शी संबंधित आहे?

- Ans  1. पूर्वद्रव्य विकर  
 2. विकर विष  
 3. विकर संदमक  
 4. विकर प्रारूप

Question Type : MCQ  
Question ID : 630680276561  
Option 1 ID : 6306801074739  
Option 2 ID : 6306801074740  
Option 3 ID : 6306801074742  
Option 4 ID : 6306801074741  
Status : Answered  
Chosen Option : 1  
Marks : 2

Q.12 अनुच्छेद 170 नुसार, प्रत्येक राज्याच्या विधानसभेत 500 हून अधिक आणि \_\_\_\_ पेक्षा कमी सदस्य असू नयेत.

- Ans  1. 50  
 2. 66  
 3. 60  
 4. 55

Question Type : MCQ  
Question ID : 630680275833  
Option 1 ID : 6306801071843  
Option 2 ID : 6306801071846  
Option 3 ID : 6306801071845  
Option 4 ID : 6306801071844  
Status : Answered  
Chosen Option : 1  
Marks : 0

Q.13 'काथ' ('Kattha') खालीलपैकी कोणत्या झाडाच्या लाकडातून मिळतो?

- Ans  1. लिची  
 2. खैर  
 3. साल  
 4. सागवान

Question Type : MCQ  
Question ID : 630680270536  
Option 1 ID : 6306801051331  
Option 2 ID : 6306801051332  
Option 3 ID : 6306801051330  
Option 4 ID : 6306801051333  
Status : Answered  
Chosen Option : 2  
Marks : 2

Q.14 राज्याचे मुख्य माहिती आयुक्त किंवा राज्य माहिती आयुक्तांना त्यांच्या कार्यालयातून केवळ \_\_\_\_\_ च्या आदेशाने पदमुक्त केले जाईल.

- Ans  1. भारताचे राष्ट्रपती  
 2. मुख्य सचिव  
 3. पंतप्रधान  
 4. राज्याचे राज्यपाल

Question Type : MCQ  
Question ID : 630680275256  
Option 1 ID : 6306801069535  
Option 2 ID : 6306801069537  
Option 3 ID : 6306801069538  
Option 4 ID : 6306801069536  
Status : Answered  
Chosen Option : 1  
Marks : 0

Q.15 खालीलपैकी कोणते/ती विधान/ने हवामानासाठीच्या कृषी नवोपक्रम अभियानाबाबत अचूक आहे/आहेत?

- I) भारत हा फेब्रुवारी 2023 मध्ये हवामानासाठीच्या कृषी नवोपक्रम अभियानात सामील झाला.  
II) अमेरिकेची संयुक्त संस्थाने आणि संयुक्त अरब अमिरातीने नोव्हेंबर 2020 मध्ये हवामानासाठीचे कृषी नवोपक्रम अभियान सुरू केले.  
III) त्याचे संक्षेपाक्षर AIM4C असे आहे.

- Ans  1. फक्त I  
 2. I आणि II  
 3. फक्त II  
 4. I आणि III

Question Type : MCQ  
Question ID : 630680278288  
Option 1 ID : 6306801081509  
Option 2 ID : 6306801081511  
Option 3 ID : 6306801081510  
Option 4 ID : 6306801081512  
Status : Answered  
Chosen Option : 4  
Marks : 2

Q.16 महालवारी पद्धत \_\_\_\_\_ मध्ये प्रस्तावित केली गेली.

- Ans  1. 1819  
 2. 1821  
 3. 1822  
 4. 1820

Question Type : MCQ  
Question ID : 630680275275  
Option 1 ID : 6306801069611  
Option 2 ID : 6306801069613  
Option 3 ID : 6306801069614  
Option 4 ID : 6306801069612  
Status : Answered  
Chosen Option : 4  
Marks : 0

Q.17 खालीलपैकी कोणत्या वर्षी हिंदुस्तान रिपब्लिकन असोसिएशनचे (HRA) हिंदुस्थान सोशालिस्ट रिपब्लिकन असोसिएशन (HSRA) असे नामकरण करण्यात आले?

- Ans  1. 1928  
 2. 1926  
 3. 1924  
 4. 1927

Question Type : MCQ  
Question ID : 630680275277  
Option 1 ID : 6306801069622  
Option 2 ID : 6306801069620  
Option 3 ID : 6306801069619  
Option 4 ID : 6306801069621  
Status : Answered  
Chosen Option : 2  
Marks : 0

Q.18 1955 च्या नागरिकत्व अधिनियमात खालीलपैकी काय समाविष्ट नाही?

- Ans  1. दुहेरी नागरिकत्व  
 2. समाप्ती  
 3. संपादन  
 4. हक्कत्याग

Question Type : MCQ

Question ID : 630680270122

Option 1 ID : 6306801049742

Option 2 ID : 6306801049740

Option 3 ID : 6306801049739

Option 4 ID : 6306801049741

Status : Answered

Chosen Option : 1

Marks : 2

Q.19 उत्तरप्रदेश (UP) सरकारने ऑक्टोबर 2022 मध्ये, किती पूर्ण महिला प्रांतीय सशस्त्र पोलीस दल (PAC) बटालियनची स्थापना केली?

- Ans  1. 6  
 2. 3  
 3. 8  
 4. 2

Question Type : MCQ

Question ID : 630680278299

Option 1 ID : 6306801081555

Option 2 ID : 6306801081554

Option 3 ID : 6306801081556

Option 4 ID : 6306801081553

Status : Answered

Chosen Option : 2

Marks : 2

Q.20 मार्च 2023 मध्ये, केंद्र सरकारने वर्ष 2023 मध्ये आतापर्यंत UAPA अंतर्गत किती संघटनांना दहशतवादी संघटना म्हणून अधिसूचित केले आहे?

- Ans  1. चार  
 2. तीन  
 3. दोन  
 4. एक

Question Type : MCQ

Question ID : 630680278298

Option 1 ID : 6306801081552

Option 2 ID : 6306801081551

Option 3 ID : 6306801081550

Option 4 ID : 6306801081549

Status : Answered

Chosen Option : 1

Marks : 2

Q.21 खालील समाजसुधारकांपैकी कोण प्रार्थना समाजाचे संस्थापक आणि बॉम्बे नॅचरल हिस्ट्री सोसायटीचे सहसंस्थापक होते?

- Ans
- 1. ई.सी. विद्यासागर
  - 2. आर.जी. भांडारकर
  - 3. आत्माराम पांडुरंग
  - 4. एम.जी. रानडे

Question Type : MCQ  
Question ID : 630680275225  
Option 1 ID : 6306801069414  
Option 2 ID : 6306801069412  
Option 3 ID : 6306801069411  
Option 4 ID : 6306801069413  
Status : Answered  
Chosen Option : 3  
Marks : 2

Q.22 1866 साली \_\_\_\_\_ यांनी लंडनमधील ईस्ट इंडिया असोसिएशनची स्थापना केली होती.

- Ans
- 1. जमशेदजी टाटा
  - 2. नौरोजी फुर्दूनजी
  - 3. केआर कामा
  - 4. दादाभाई नौरोजी

Question Type : MCQ  
Question ID : 630680270074  
Option 1 ID : 6306801049548  
Option 2 ID : 6306801049550  
Option 3 ID : 6306801049549  
Option 4 ID : 6306801049547  
Status : Answered  
Chosen Option : 4  
Marks : 2

Q.23 तारकेंद्र (centrosome) चे प्राथमिक कार्य काय आहे?

- Ans
- 1. DNA प्रतिकृतीकरण
  - 2. केवळ मेंदूच्या विभाजनाचे नियमन
  - 3. तर्कु तंतूची निर्मिती
  - 4. अनुवांशिक सामग्रीचा संग्रह

Question Type : MCQ  
Question ID : 630680276559  
Option 1 ID : 6306801074733  
Option 2 ID : 6306801074732  
Option 3 ID : 6306801074734  
Option 4 ID : 6306801074731  
Status : Answered  
Chosen Option : 4  
Marks : 0

Q.24 वेबसाईटचे फ्रंट-एंड पेजेस तयार करण्यासाठी कोणती लॅंग्वेज वापरली जाते?

- Ans  1. HTML  
 2. जावा WWW  
 3. C  
 4. C++

Question Type : MCQ

Question ID : 630680276510

Option 1 ID : 6306801074537

Option 2 ID : 6306801074538

Option 3 ID : 6306801074536

Option 4 ID : 6306801074535

Status : Answered

Chosen Option : 1

Marks : 2

Q.25 2011 च्या जनगणनेनुसार, भारतातील खालीलपैकी कोणत्या केंद्रशासित प्रदेशातील साक्षरता दर सर्वात कमी आहे?

- Ans  1. अंदमान आणि निकोबार बेटे  
 2. दमण आणि दीव  
 3. दादरा आणि नगर हवेली  
 4. लक्षद्वीप

Question Type : MCQ

Question ID : 630680268957

Option 1 ID : 6306801045138

Option 2 ID : 6306801045136

Option 3 ID : 6306801045135

Option 4 ID : 6306801045137

Status : Answered

Chosen Option : 1

Marks : 0

Section : General Intelligence

Q.1 800 km च्या एका प्रवासासाठी, 50 km/h वेगाने एक ट्रक पहिले 300 km अंतर कापतो. सरासरी वेग 60 km/h असण्यासाठी उर्वरित अंतर किती वेगाने पार केले पाहिजे?

- Ans
- 1. 72 km/h
  - 2. 52 km/h
  - 3.  $\frac{750}{11}$  km/h
  - 4.  $\frac{600}{13}$  km/h

Question Type : MCQ

Question ID : 630680287415

Option 1 ID : 6306801117570

Option 2 ID : 6306801117568

Option 3 ID : 6306801117569

Option 4 ID : 6306801117567

Status : Answered

Chosen Option : 3

Marks : 2

Q.2 सरळरूप द्या:  $2 + 2 \div 2 \times 2 - 2$ .

- Ans
- 1. 1
  - 2. 0
  - 3. 2
  - 4. -2

Question Type : MCQ

Question ID : 630680277244

Option 1 ID : 6306801077428

Option 2 ID : 6306801077425

Option 3 ID : 6306801077427

Option 4 ID : 6306801077426

Status : Answered

Chosen Option : 3

Marks : 2



Q.3 दिलेली विधाने आणि निष्कर्ष लक्षपूर्वक वाचा. विधानांमध्ये दिलेली माहिती ही सामान्यपणे ज्ञात तथ्यांपेक्षा वेगळी असल्याचे आढळले, तरी ती सत्य आहे असे गृहीत धरून, दिलेल्या निष्कर्षांपैकी कोणता/ते निष्कर्ष दिलेल्या विधानांशी तर्कसंगत आहे/आहेत हे ठरवा.  
विधाने:  
काही द्रव, कपाटे आहेत. सर्व द्रव आणि कपाटे ही कापूस आहेत.  
निष्कर्ष 1: सर्व कापूस, द्रव आहेत.  
निष्कर्ष 2: सर्व कपाटे, द्रव आहेत.

- Ans
- 1. केवळ निष्कर्ष 1 तर्कसंगत आहे.
  - 2. 1 किंवा 2 हे दोन्ही निष्कर्ष तर्कसंगत आहेत.
  - 3. 1 किंवा 2 पैकी एकही निष्कर्ष तर्कसंगत नाही.
  - 4. केवळ निष्कर्ष 2 तर्कसंगत आहे.

Question Type : MCQ  
Question ID : 630680276989  
Option 1 ID : 6306801076449  
Option 2 ID : 6306801076452  
Option 3 ID : 6306801076451  
Option 4 ID : 6306801076450  
Status : Answered  
Chosen Option : 3  
Marks : 2

Q.4 A, B आणि C हे तीन नळ अनुक्रमे 12, 15 आणि 20 तासांत एक टाकी भरू शकतात. जर A ही पूर्ण वेळ उघडी ठेवली आणि B व C या दोन्ही आळीपाळीने एक-एक तासासाठी उघड्या ठेवल्या, तर टाकी किती वेळात पूर्ण भरली जाईल?

- Ans
- 1. 6 तास
  - 2.  $7\frac{1}{2}$  तास
  - 3.  $6\frac{2}{3}$  तास
  - 4. 7 तास

Question Type : MCQ  
Question ID : 630680287477  
Option 1 ID : 6306801117815  
Option 2 ID : 6306801117818  
Option 3 ID : 6306801117816  
Option 4 ID : 6306801117817  
Status : Answered  
Chosen Option : 2  
Marks : 0

Q.5 एक ट्रेन ही उत्तरेकडून दक्षिण दिशेकडे धावत आहे. ती त्याच दिशेने 2 km/h आणि 4 km/h या वेगांनी चालणारे राज आणि मधुर यांना अनुक्रमे 9 सेकंदांत आणि 10 सेकंदांत ओलांडते. जर ट्रेनची लांबी x मीटर असेल, तर x चे मूल्य शोधा.

- Ans  1. 90  
 2. 30  
 3. 50  
 4. 70

Question Type : MCQ  
Question ID : 630680287425  
Option 1 ID : 6306801117607  
Option 2 ID : 6306801117610  
Option 3 ID : 6306801117609  
Option 4 ID : 6306801117608  
Status : Answered  
Chosen Option : 3  
Marks : 2

Q.6 जर एका वस्तूची मूळ किंमत ₹4,500 असेल आणि नफा 5% असेल, तर तिची विक्री किंमत (₹ मध्ये) शोधा.

- Ans  1. 4657  
 2. 4527  
 3. 4675  
 4. 4725

Question Type : MCQ  
Question ID : 630680287165  
Option 1 ID : 6306801116570  
Option 2 ID : 6306801116569  
Option 3 ID : 6306801116568  
Option 4 ID : 6306801116567  
Status : Answered  
Chosen Option : 4  
Marks : 2

Q.7 संख्या, चिन्हे असलेल्या खालील मालिकेचा संदर्भ घ्या आणि प्रश्नाचे उत्तर द्या. मोजणी ही केवळ डावीकडून उजवीकडे करावयाची आहे.

(डावे) < 2 & % 4 6 @ 8 \$ 7 & 3 Ω 9 # 1 \* £ 5 > (उजवे)

जर मालिकेतून सर्व संख्या वगळल्या गेल्या, तर उजवीकडून सातव्या स्थानी खालीलपैकी काय असेल?

- Ans  1. &  
 2. Ω  
 3. @  
 4. \$

Question Type : MCQ  
Question ID : 630680272688  
Option 1 ID : 6306801059312  
Option 2 ID : 6306801059313  
Option 3 ID : 6306801059311  
Option 4 ID : 6306801059314  
Status : Answered  
Chosen Option : 4  
Marks : 2

Q.8 दिलेले/ली विधान/ने आणि निष्कर्ष लक्षपूर्वक वाचा. विधानामध्ये दिलेली माहिती ही सामान्यपणे ज्ञात तथ्यांपेक्षा वेगळी असल्याचे आढळले, तरी ती सत्य आहे असे गृहीत धरून, दिलेल्या निष्कर्षांपैकी कोणता/ते दिलेल्या विधानांशी तर्कसंगत आहे/आहेत ते ठरवा.  
विधाने : सर्व कप, बश्या आहेत.  
काही बश्या, किटल्या आहेत.  
निष्कर्ष (I): सर्व किटल्या, कप आहेत.  
निष्कर्ष (II): सर्व कप, किटल्या आहेत.

- Ans
- 1. केवळ निष्कर्ष (II) तर्कसंगत आहे.
  - 2. केवळ निष्कर्ष (I) तर्कसंगत आहे.
  - 3. निष्कर्ष (I) आणि (II) हे दोन्ही तर्कसंगत आहेत
  - 4. निष्कर्ष (I) किंवा निष्कर्ष (II) पैकी एकही तर्कसंगत नाही.

Question Type : MCQ  
Question ID : 630680272656  
Option 1 ID : 6306801059184  
Option 2 ID : 6306801059183  
Option 3 ID : 6306801059186  
Option 4 ID : 6306801059185  
Status : Answered  
Chosen Option : 4  
Marks : 2

Q.9 इंग्रजी वर्णमालाक्रमानुसार आधारित दिलेल्या मालिकेत प्रश्नचिन्हाच्या (?) जागी काय आले पाहिजे?

CAW, KES, SIO, AOK, ?

- Ans
- 1. HVG
  - 2. IVG
  - 3. IUG
  - 4. HUG

Question Type : MCQ  
Question ID : 630680277521  
Option 1 ID : 6306801078535  
Option 2 ID : 6306801078536  
Option 3 ID : 6306801078534  
Option 4 ID : 6306801078533  
Status : Answered  
Chosen Option : 3  
Marks : 2

Q.10 जेव्हा 53 kg वजनाच्या कर्मचाऱ्यांपैकी एकाची जागा नवीन माणसाने घेतली, तेव्हा बोटीतील 10 वल्हेकऱ्यांचे सरासरी वजन 1.8 kg ने वाढते. तर नवीन माणसाचे वजन शोधा.

- Ans  1. 71 kg  
 2. 69 kg  
 3. 67 kg  
 4. 73 kg

Question Type : MCQ  
Question ID : 630680277291  
Option 1 ID : 6306801077615  
Option 2 ID : 6306801077614  
Option 3 ID : 6306801077613  
Option 4 ID : 6306801077616  
Status : Answered  
Chosen Option : 1  
Marks : 2

Q.11 A हा 20 दिवसांत 80% काम करतो. त्यानंतर तो B ला बोलावतो आणि ते दोघे मिळून उरलेले काम 3 दिवसांत पूर्ण करतात. संपूर्ण काम एकट्याने करण्यासाठी B ला किती वेळ लागेल?

- Ans  1.  $37\frac{1}{2}$  दिवस  
 2. 23 दिवस  
 3. 40 दिवस  
 4. 37 दिवस

Question Type : MCQ  
Question ID : 630680287452  
Option 1 ID : 6306801117717  
Option 2 ID : 6306801117715  
Option 3 ID : 6306801117718  
Option 4 ID : 6306801117716  
Status : Answered  
Chosen Option : 1  
Marks : 2

Q.12 एका दूधवाल्याने सकाळी 15 L दूध विकत घेतले. वितरणानंतर, 3.025 L दूध शिल्लक आहे. किती दूध वितरण झाले?

- Ans  1. 12.775 L  
 2. 11.775 L  
 3. 11.975 L  
 4. 12.975 L

Question Type : MCQ  
Question ID : 630680277266  
Option 1 ID : 6306801077515  
Option 2 ID : 6306801077516  
Option 3 ID : 6306801077514  
Option 4 ID : 6306801077513  
Status : Answered  
Chosen Option : 3  
Marks : 2

Q.13 चार पदे दिली आहेत, त्यापैकी तीन विशिष्ट तऱ्हेने समान आहेत आणि एक वेगळे आहे. गटात न बसणारे पद निवडा.

- Ans  1. KPJ  
 2. YDJ  
 3. MRL  
 4. DIC

Question Type : MCQ  
Question ID : 630680277006  
Option 1 ID : 6306801076517  
Option 2 ID : 6306801076519  
Option 3 ID : 6306801076518  
Option 4 ID : 6306801076520  
Status : Answered  
Chosen Option : 2  
Marks : 2

Q.14 एका विशिष्ट तर्कानुसार 'TR3' हे 'PN9' शी संबंधित आहे. त्याचप्रकारे, 'MK5' हे 'IG25' शी संबंधित आहे. त्याच तर्काचे अनुसरण केल्यास, 'FD7' हे खालीलपैकी कशाशी संबंधित आहे?

- Ans  1. BZ49  
 2. BX49  
 3. AX48  
 4. AZ48

Question Type : MCQ  
Question ID : 630680271610  
Option 1 ID : 6306801055514  
Option 2 ID : 6306801055512  
Option 3 ID : 6306801055515  
Option 4 ID : 6306801055513  
Status : Answered  
Chosen Option : 1  
Marks : 2

Q.15 जेव्हा एका टीव्हीची विक्री किंमत ₹18,700 असते, तेव्हा दुकानदाराला 15% तोटा होतो. 15% नफा होण्यासाठी त्या टीव्हीची विक्री किंमत किती असली पाहिजे?

- Ans  1. ₹25,300  
 2. ₹19,800  
 3. ₹34,200  
 4. ₹43,200

Question Type : MCQ  
Question ID : 630680287146  
Option 1 ID : 6306801116494  
Option 2 ID : 6306801116492  
Option 3 ID : 6306801116491  
Option 4 ID : 6306801116493  
Status : Answered  
Chosen Option : 1  
Marks : 2

Q.16 दिलेली मालिका तर्कदृष्ट्या पूर्ण करण्यासाठी ? च्या स्थानी काय आले पाहिजे?  
VJ7, UK11, TL20, SM36, ?

- Ans  1. RN64  
 2. Q018  
 3. Q063  
 4. RN61

Question Type : MCQ  
Question ID : 630680272773  
Option 1 ID : 6306801059651  
Option 2 ID : 6306801059652  
Option 3 ID : 6306801059654  
Option 4 ID : 6306801059653  
Status : Answered  
Chosen Option : 4  
Marks : 2

Q.17 एका विशिष्ट तर्कानुसार 'WU7' हे 'AY14' शी संबंधित आहे. त्याचप्रकारे, 'LJ9' हे 'PN16' शी संबंधित आहे.  
त्याच तर्काचे अनुसरण केल्यास, 'FD11' हे खालीलपैकी कशाशी संबंधित आहे?

- Ans  1. IJ18  
 2. JP17  
 3. JH18  
 4. JK17

Question Type : MCQ  
Question ID : 630680271612  
Option 1 ID : 6306801055522  
Option 2 ID : 6306801055521  
Option 3 ID : 6306801055520  
Option 4 ID : 6306801055523  
Status : Answered  
Chosen Option : 3  
Marks : 2

Q.18 चार शब्द-जोड्या दिलेल्या आहेत, ज्यांपैकी तिन्हीमध्ये एक विशिष्ट साधर्म्य आहे आणि एक वेगळी आहे. ती  
वेगळी शब्द-जोडी ओळखा.

- Ans  1. स्विचेस : बेकलाईट  
 2. चामडे : पट्टा  
 3. लस्सी : दही  
 4. पडदा : कापड

Question Type : MCQ  
Question ID : 630680280752  
Option 1 ID : 6306801091245  
Option 2 ID : 6306801091243  
Option 3 ID : 6306801091246  
Option 4 ID : 6306801091244  
Status : Answered  
Chosen Option : 3  
Marks : 0

Q.19 एक बस 1 L पेट्रोलमध्ये 15 km 75 m प्रवास करू शकते. तर 7 L पेट्रोलमध्ये बस किती किलोमीटर प्रवास करू शकते?

- Ans  1. 105 km 425 m  
 2. 105 km 525 m  
 3. 105 km 595 m  
 4. 105 km 495 m

Question Type : MCQ  
Question ID : 630680277277  
Option 1 ID : 6306801077560  
Option 2 ID : 6306801077559  
Option 3 ID : 6306801077557  
Option 4 ID : 6306801077558  
Status : Answered  
Chosen Option : 2  
Marks : 2

Q.20 जर '+' आणि '-' यांची अदलाबदल केली आणि 'x' आणि '÷' यांची अदलाबदल केली, तर खालील समीकरणात प्रश्नचिन्हाच्या (?) जागी काय येईल?

$$17 \div 11 + 149 - 125 \times 5 = ?$$

- Ans  1. 73  
 2. 63  
 3. 56  
 4. 65

Question Type : MCQ  
Question ID : 630680272723  
Option 1 ID : 6306801059454  
Option 2 ID : 6306801059453  
Option 3 ID : 6306801059452  
Option 4 ID : 6306801059451  
Status : Answered  
Chosen Option : 2  
Marks : 2

Q.21 A आणि B या दोन बँकांनी, अनुक्रमे 4.5% आणि 5.5% वार्षिक दराने कर्ज देऊ केले. रमेशने प्रत्येक बँकेकडून ₹2,00,000 चे कर्ज घेतले. रमेश यांनी 2 वर्षांनंतर दोन्ही बँकांना भरलेल्या सरळव्याजाच्या रकमेतील धनात्मक फरक शोधा.

- Ans  1. ₹4,000  
 2. ₹8,000  
 3. ₹6,000  
 4. ₹2,000

Question Type : MCQ  
Question ID : 630680287188  
Option 1 ID : 6306801116662  
Option 2 ID : 6306801116659  
Option 3 ID : 6306801116660  
Option 4 ID : 6306801116661  
Status : Answered  
Chosen Option : 1  
Marks : 2

Q.22 दिलेली मालिका तर्कदृष्ट्या पूर्ण होण्यासाठी प्रश्नचिन्हाच्या (?) जागी खालीलपैकी कोणता पर्याय आला पाहिजे?  
1, 6, 21, 66, 201, ?

- Ans  1. 510  
 2. 606  
 3. 548  
 4. 622

Question Type : MCQ  
Question ID : 630680256911  
Option 1 ID : 630680997558  
Option 2 ID : 630680997557  
Option 3 ID : 630680997556  
Option 4 ID : 630680997555  
Status : Answered  
Chosen Option : 2  
Marks : 2

Q.23 सरळव्याजाच्या वार्षिक किती दराने ₹7,500 ची रक्कम 7 वर्षात ₹9,150 एवढी होईल?

- Ans  1.  $3\frac{1}{3}\%$   
 2.  $6\frac{1}{3}\%$   
 3.  $4\frac{1}{3}\%$   
 4.  $5\frac{1}{3}\%$

Question Type : MCQ  
Question ID : 630680287207  
Option 1 ID : 6306801116738  
Option 2 ID : 6306801116735  
Option 3 ID : 6306801116737  
Option 4 ID : 6306801116736  
Status : Answered  
Chosen Option : 1  
Marks : 2

Q.24 दिलेल्या मालिकेमध्ये ? च्या स्थानी काय आले पाहिजे?  
27, 31, 39, 55, 87, ?

- Ans  1. 156  
 2. 147  
 3. 127  
 4. 151

Question Type : MCQ  
Question ID : 630680272788  
Option 1 ID : 6306801059714  
Option 2 ID : 6306801059712  
Option 3 ID : 6306801059711  
Option 4 ID : 6306801059713  
Status : Answered  
Chosen Option : 4  
Marks : 2



Q.25 इंग्रजी वर्णक्रमावर आधारित दिलेल्या मालिकेत प्रश्नचिन्हाच्या (?) जागी काय यायला हवे?

M, E, P, F, S, G, ?

Ans  1. O

 2. U

 3. V

 4. R

Question Type : MCQ

Question ID : 630680272738

Option 1 ID : 6306801059514

Option 2 ID : 6306801059512

Option 3 ID : 6306801059511

Option 4 ID : 6306801059513

Status : Answered

Chosen Option : 3

Marks : 2