





महाराष्ट्र शासन
GOVERNMENT OF MAHARASHTRA

मुख्य कार्यालय : महसूल व वन विभाग, मंत्रालय, मुंबई-32

राज्य समन्वयक कार्यालय :

2 व 3 मजला नवीन प्रशासकीय इमारत, जमाबंदी आयुक्त आणि संचालक,
भूमि अभिलेख कार्यालय, महाराष्ट्र राज्य, पुणे.



Participant ID	-----
Participant Name	www.mpscmaterial.com
Test Center Name	ION DIGITAL ZONE iDZ Cityland
Test Date	10/09/2023
Test Time	12:30 PM - 2:30 PM
Subject	Talathi
Registration Photograph	
Capture Photo	
Upload Photo	

Section : Marathi Language

Q.1 'विद्यापीठात पहिला आल्यामुळे समीरचे _____' रिकाम्या जागी योग्य वाक्यप्रचार शोधा

- Ans 1. डोळे पांढरे झाले
 2. हात गगनाला पोचले असे वाटले.
 3. रक्ताचे पाणी झाले.
 4. नाक खाली झाले.

Question Type : MCQ

Question ID : 630680330808

Option 1 ID : 6306801286901

Option 2 ID : 6306801286903

Option 3 ID : 6306801286904

Option 4 ID : 6306801286902

Status : Answered

Chosen Option : 2

Marks : 2

Q.2 'कर्णमधुर' या शब्दाचा विरुद्धार्थी शब्द सांगा

- Ans 1. करुणानिधी
 2. कर्णबधीर
 3. कृपण
 4. कर्णकटू

Question Type : MCQ

Question ID : 630680330801

Option 1 ID : 6306801286876

Option 2 ID : 6306801286875

Option 3 ID : 6306801286873

Option 4 ID : 6306801286874

Status : Answered

Chosen Option : 4

Marks : 2

Q.3 प्रमाणलेखनानुसार अचूक शब्द शोधा.

- Ans 1. भुबुक्षित
 2. बुभुक्षित
 3. बुभूक्षत
 4. बुभूक्षित

Question Type : MCQ

Question ID : 630680330812

Option 1 ID : 6306801286918

Option 2 ID : 6306801286920

Option 3 ID : 6306801286919

Option 4 ID : 6306801286917

Status : Answered

Chosen Option : 2

Marks : 2

Q.4 पुढीलपैकी कोणता शब्द 'सीमा' चा समानार्थी शब्द नाही ?

- Ans 1. समूह
 2. मर्यादा
 3. हद्द
 4. शीव

Question Type : MCQ
Question ID : 630680330800
Option 1 ID : 6306801286870
Option 2 ID : 6306801286872
Option 3 ID : 6306801286869
Option 4 ID : 6306801286871
Status : Answered
Chosen Option : 1
Marks : 2

Q.5 'द्विरेफ' शब्दाचा अर्थ सांगा.

- Ans 1. द्रुत
 2. भेदभाव
 3. भ्रमर
 4. द्वीप

Question Type : MCQ
Question ID : 630680330796
Option 1 ID : 6306801286854
Option 2 ID : 6306801286855
Option 3 ID : 6306801286853
Option 4 ID : 6306801286856
Status : Answered
Chosen Option : 2
Marks : 0

Q.6 'चार दिवसांनी दात दुखायचा थांबला !' या वाक्यातील प्रयोग ओळखा.

- Ans 1. भावे
 2. समापन कर्मणी
 3. कर्तरी
 4. शक्य कर्मणी

Question Type : MCQ
Question ID : 630680330797
Option 1 ID : 6306801286858
Option 2 ID : 6306801286859
Option 3 ID : 6306801286857
Option 4 ID : 6306801286860
Status : Answered
Chosen Option : 2
Marks : 0

Q.7 'श्यामसुन्दर' हा कोणता समास आहे?

- Ans 1. अव्ययीभाव
 2. द्वंद्व
 3. बहुव्रीही
 4. कर्मधारय

Question Type : MCQ

Question ID : 630680330805

Option 1 ID : 6306801286892

Option 2 ID : 6306801286889

Option 3 ID : 6306801286890

Option 4 ID : 6306801286891

Status : Answered

Chosen Option : 2

Marks : 0

Q.8 'खेळाडू मैदानावर गेले.' हा वाक्य प्रकार कोणता आहे ?

- Ans 1. उद्गारार्थी
 2. संकेतार्थी
 3. स्वार्थी
 4. विध्यर्थी

Question Type : MCQ

Question ID : 630680330792

Option 1 ID : 6306801286837

Option 2 ID : 6306801286838

Option 3 ID : 6306801286839

Option 4 ID : 6306801286840

Status : Answered

Chosen Option : 4

Marks : 0

Q.9 आशा बगे यांच्या साहित्य अकादमी पुरस्कारप्राप्त कादंबरीचे नाव सांगा.

- Ans 1. झुंबर
 2. भूमी
 3. त्रिदल
 4. मनस्विनी

Question Type : MCQ

Question ID : 630680330815

Option 1 ID : 6306801286930

Option 2 ID : 6306801286931

Option 3 ID : 6306801286929

Option 4 ID : 6306801286932

Status : Answered

Chosen Option : 2

Marks : 2

Q.10 'विजयोन्माद' या समासाचा योग्य विग्रह ओळखा.

- Ans 1. विजय आणि उन्माद
 2. विजय किंवा उन्माद
 3. विजयाचा उन्माद
 4. विजयांना उन्माद

Question Type : MCQ

Question ID : 630680330804

Option 1 ID : 6306801286887

Option 2 ID : 6306801286888

Option 3 ID : 6306801286885

Option 4 ID : 6306801286886

Status : Answered

Chosen Option : 1

Marks : 0

Q.11 'हिरण्य' शब्दाचा अर्थ सांगा.

- Ans 1. हरीण
 2. रमणीय
 3. हिमाद्री
 4. सुवर्ण

Question Type : MCQ

Question ID : 630680330795

Option 1 ID : 6306801286849

Option 2 ID : 6306801286852

Option 3 ID : 6306801286851

Option 4 ID : 6306801286850

Status : Answered

Chosen Option : 4

Marks : 2

Q.12 'अनुमती' या शब्दाची समानार्थी जोडी सांगा.

- Ans 1. परवानगी, अंतर्भाव
 2. सांगता, संमती
 3. अंतर्भाव, सांगता
 4. परवानगी, संमती

Question Type : MCQ

Question ID : 630680330799

Option 1 ID : 6306801286865

Option 2 ID : 6306801286866

Option 3 ID : 6306801286868

Option 4 ID : 6306801286867

Status : Answered

Chosen Option : 4

Marks : 2

Q.13 ' दगडाचे नाव धोंडा आणि _____ ' ही म्हण पूर्ण करा.

- Ans 1. निजेला धोंडा
 2. धोंड्याचे नाव दगड
 3. त्याला कोण मारी
 4. वीट मऊ

Question Type : MCQ
Question ID : 630680330806
Option 1 ID : 6306801286896
Option 2 ID : 6306801286895
Option 3 ID : 6306801286894
Option 4 ID : 6306801286893
Status : Answered
Chosen Option : 2
Marks : 2

Q.14 ' अनुज ' या शब्दाचा विरुद्धार्थी शब्द सांगा

- Ans 1. तनय
 2. अग्रज
 3. अगणित
 4. आग्रह

Question Type : MCQ
Question ID : 630680330802
Option 1 ID : 6306801286877
Option 2 ID : 6306801286880
Option 3 ID : 6306801286878
Option 4 ID : 6306801286879
Status : Answered
Chosen Option : 2
Marks : 2

Q.15 ' चारी मुंड्या चीत होणे ' या वाक्यचाराचा अर्थ सांगा.

- Ans 1. मर्यादा घालणे
 2. पूर्णपणे पराभूत होणे
 3. भीतीने गाळण उडणे
 4. कर्ज काढणे

Question Type : MCQ
Question ID : 630680330809
Option 1 ID : 6306801286907
Option 2 ID : 6306801286906
Option 3 ID : 6306801286908
Option 4 ID : 6306801286905
Status : Answered
Chosen Option : 2
Marks : 2

Q.16 ' उत्सुकतेने मी झोपलो ' या कादंबरीचे लेखक कोण आहेत?

- Ans 1. सदानंद देशमुख
 2. सदानंद रेगे
 3. श्याम मनोहर
 4. विश्राम बेडेकर

Question Type : MCQ

Question ID : 630680330814

Option 1 ID : 6306801286926

Option 2 ID : 6306801286927

Option 3 ID : 6306801286925

Option 4 ID : 6306801286928

Status : Answered

Chosen Option : 3

Marks : 2

Q.17 " आपल्याला केवढा तजेला आणि विरंगुळा देतात या वृक्षवेली ! " या वाक्याचा प्रकार ओळखा.

- Ans 1. नकारार्थी
 2. उद्गारार्थी
 3. विधानार्थी
 4. विध्यर्थी

Question Type : MCQ

Question ID : 630680330794

Option 1 ID : 6306801286845

Option 2 ID : 6306801286847

Option 3 ID : 6306801286846

Option 4 ID : 6306801286848

Status : Answered

Chosen Option : 2

Marks : 2

Q.18 'माझी पुस्तके कोणाला देण्यास मी तयार नसतो, कारण अनेकजण पुस्तकाना _____ ' _____ रिकाम्या जागी योग्य वाक्यप्रचार शोधा .

- Ans 1. गिळंकृत करतात
 2. घोर लावतात
 3. गुजराण करतात
 4. खापर फोडतात

Question Type : MCQ

Question ID : 630680330811

Option 1 ID : 6306801286915

Option 2 ID : 6306801286916

Option 3 ID : 6306801286913

Option 4 ID : 6306801286914

Status : Answered

Chosen Option : 1

Marks : 2

Q.19 ' एवढ्याशा अंतरासाठी 500 रुपये ही मोठी रक्कम आहे. ' या वाक्याचे नकारार्थी वाक्य शोधा.

- Ans 1. एवढ्याशा अंतरासाठी 500 रुपये ही मोठी रक्कम नसावी.
2. एवढ्याशा अंतरासाठी 500 रुपये ही काही लहान रक्कम नाही.
3. केवढी मोठी रक्कम आहे 500 रुपये या एवढ्याशा अंतरासाठी !
4. एवढ्याशा अंतरासाठी 500 रुपये ही काही मोठी रक्कम नाही.

Question Type : MCQ

Question ID : 630680330793

Option 1 ID : 6306801286844

Option 2 ID : 6306801286842

Option 3 ID : 6306801286843

Option 4 ID : 6306801286841

Status : Answered

Chosen Option : 2

Marks : 2

Q.20 ' काप गेले आणि भोके राहिली ' या म्हणीचा योग्य अर्थ सांगा .

- Ans 1. घोर तपश्चर्या करणे
2. वैभव गेले आणि खुणा राहिल्या.
3. संकटाच्या वेळी मदत करणे चांगले असते
4. वाईट कृत्याची फळे भोगावीच लागतात.

Question Type : MCQ

Question ID : 630680330807

Option 1 ID : 6306801286898

Option 2 ID : 6306801286897

Option 3 ID : 6306801286899

Option 4 ID : 6306801286900

Status : Answered

Chosen Option : 2

Marks : 2

Q.21 ' सैन्याची चक्राकार पद्धतीने केलेली रचना ' या शब्द समूहाबद्दल एक शब्द लिहा.

- Ans 1. चक्रवात
2. चक्रव्यूह
3. चक्रधर
4. चक्रवर्ती

Question Type : MCQ

Question ID : 630680330813

Option 1 ID : 6306801286922

Option 2 ID : 6306801286923

Option 3 ID : 6306801286924

Option 4 ID : 6306801286921

Status : Answered

Chosen Option : 2

Marks : 2

Q.22 ' तोंडात तीळ न भिजणे ' या वाक्यप्रचाराचा योग्य अर्थ सांगा .

- Ans 1. भीतीने गप्प बसणे
 2. वाद घालणे
 3. सतत बडबड करणे
 4. गुप्तता बाळगणे

Question Type : MCQ

Question ID : 630680330810

Option 1 ID : 6306801286911

Option 2 ID : 6306801286909

Option 3 ID : 6306801286910

Option 4 ID : 6306801286912

Status : Answered

Chosen Option : 1

Marks : 0

Q.23 ' उत्कर्ष ' या शब्दाचा विरुद्धार्थी शब्द सांगा

- Ans 1. सहर्ष
 2. विमर्श
 3. अपकर्ष
 4. संघर्ष

Question Type : MCQ

Question ID : 630680330803

Option 1 ID : 6306801286884

Option 2 ID : 6306801286882

Option 3 ID : 6306801286883

Option 4 ID : 6306801286881

Status : Answered

Chosen Option : 3

Marks : 2

Q.24 ' टीकास्वयंवर ' हा ग्रंथ कोणाचा आहे ?

- Ans 1. के. रं. शिरवाडकर
 2. राजन गवस
 3. भालचंद्र नेमाडे
 4. रंगनाथ पठारे

Question Type : MCQ

Question ID : 630680330816

Option 1 ID : 6306801286935

Option 2 ID : 6306801286933

Option 3 ID : 6306801286936

Option 4 ID : 6306801286934

Status : Answered

Chosen Option : 3

Marks : 2

Q.25 ' सेनिकांनी शत्रूला सीमेवर रोखले !' या वाक्यातील प्रयोग ओळखा.

- Ans
- 1. नवीन कर्मणी
 - 2. अकर्मक कर्तरी
 - 3. भाव कर्तरी
 - 4. भावे प्रयोग

Question Type : MCQ

Question ID : 630680330798

Option 1 ID : 6306801286863

Option 2 ID : 6306801286862

Option 3 ID : 6306801286864

Option 4 ID : 6306801286861

Status : Answered

Chosen Option : 4

Marks : 2

Section : English Language

Q.1 The given sentence has an error. Select the option that correctly rectifies the error.

Sujata gets up early on the morning.

- Ans
- 1. early in the morning
 - 2. got up
 - 3. get up
 - 4. early at the morning

Question Type : MCQ

Question ID : 630680274297

Option 1 ID : 6306801065702

Option 2 ID : 6306801065700

Option 3 ID : 6306801065699

Option 4 ID : 6306801065701

Status : Answered

Chosen Option : 1

Marks : 2

Q.2 Parts of the given sentence have been underlined. One of them contains an error. The underlined parts are given as options with some changes. Select the option that correctly rectifies the error.

When I go out in the evening here, the moon is shining and the crickets chirping.

- Ans
- 1. I have gone out
 - 2. moon has been shining
 - 3. crickets are chirping
 - 4. I have been going out

Question Type : MCQ

Question ID : 630680270798

Option 1 ID : 6306801052378

Option 2 ID : 6306801052379

Option 3 ID : 6306801052380

Option 4 ID : 6306801052381

Status : Answered

Chosen Option : 3

Marks : 2

Q.3 Select the most appropriate adjective to fill in the blank.

Sreeja is _____ than Rachel.

- Ans
- 1. taller
 - 2. tall-like
 - 3. tallest
 - 4. tall

Question Type : MCQ

Question ID : 630680270822

Option 1 ID : 6306801052475

Option 2 ID : 6306801052477

Option 3 ID : 6306801052474

Option 4 ID : 6306801052476

Status : Answered

Chosen Option : 4

Marks : 0

Q.4 The following sentence has been split into four segments. Identify the segment that contains a grammatical error.

These are / good books / in / our library.

- Ans 1. These are
 2. good books
 3. in
 4. our library

Question Type : MCQ
Question ID : 630680280581
Option 1 ID : 6306801090561
Option 2 ID : 6306801090560
Option 3 ID : 6306801090559
Option 4 ID : 6306801090562
Status : Answered
Chosen Option : 4
Marks : 0

Q.5 Select the most appropriate synonym of the given word.

Curse

- Ans 1. Bane
 2. Piety
 3. Praise
 4. Reverence

Question Type : MCQ
Question ID : 630680274318
Option 1 ID : 6306801065783
Option 2 ID : 6306801065786
Option 3 ID : 6306801065784
Option 4 ID : 6306801065785
Status : Answered
Chosen Option : 4
Marks : 0

Q.6 Select the most appropriate option to fill in the blank.

I _____ the bell several times, but the door was not opened.

- Ans 1. have rang
 2. rang
 3. rung
 4. ring

Question Type : MCQ
Question ID : 630680252094
Option 1 ID : 630680978357
Option 2 ID : 630680978356
Option 3 ID : 630680978358
Option 4 ID : 630680978355
Status : Answered
Chosen Option : 4
Marks : 0

Q.7 The given sentence has an error. Select the option that rectifies the error.
I were calling my boss at 9 o'clock yesterday morning, but she didn't pick up the call.

- Ans** 1. I have been calling my boss at 9 o'clock yesterday morning, but she didn't pick up the call.
2. I called my boss at 9 o'clock yesterday morning, but she didn't pick up the call.
3. I was calling my boss at 9 o'clock yesterday morning, but she didn't pick up the call.
4. I had been calling my boss at 9 o'clock yesterday morning, but she didn't pick up the call.

Question Type : **MCQ**

Question ID : **630680277575**

Option 1 ID : **6306801078729**

Option 2 ID : **6306801078730**

Option 3 ID : **6306801078732**

Option 4 ID : **6306801078731**

Status : **Answered**

Chosen Option : **2**

Marks : **2**

Q.8 Parts of the given sentence have been underlined. One of them contains an error. The underlined parts are given as options with some changes. Select the option that correctly rectifies the error.

The (1)news of the(2) election results have (3)spread quickly(4) throughout the town.

- Ans** 1. (3) has
2. (2) a
3. (1)No article
4. (4) quick

Question Type : **MCQ**

Question ID : **630680279571**

Option 1 ID : **6306801086549**

Option 2 ID : **6306801086548**

Option 3 ID : **6306801086547**

Option 4 ID : **6306801086550**

Status : **Answered**

Chosen Option : **3**

Marks : **0**

Q.9 Parts of the following sentence have been given as options. Select the option that contains an error.
They were discussing about the potential impact of the new policy on the company's operations.

- Ans 1. about the potential impact
 2. of the new policy on
 3. They were discussing
 4. the company's operations

Question Type : **MCQ**
Question ID : **630680277928**
Option 1 ID : **6306801080070**
Option 2 ID : **6306801080071**
Option 3 ID : **6306801080069**
Option 4 ID : **6306801080072**
Status : **Answered**
Chosen Option : **1**
Marks : **2**

Q.10 Select the most appropriate articles to fill in the blanks.
_____ good teacher always paves the way for discussions after _____ class.

- Ans 1. An, a
 2. A, a
 3. An, an
 4. A, an

Question Type : **MCQ**
Question ID : **630680280575**
Option 1 ID : **6306801090536**
Option 2 ID : **6306801090538**
Option 3 ID : **6306801090537**
Option 4 ID : **6306801090535**
Status : **Answered**
Chosen Option : **4**
Marks : **0**

Q.11 Select the option that expresses the given sentence in passive voice.

Why did your sister compose such a poem?

- Ans 1. Why was a poem composed by your sister such ?
 2. Why was the poem composed by your sister such?
 3. Why was such a poem composed by your sister?
 4. Why did such a poem compose your sister?

Question Type : **MCQ**
Question ID : **630680252098**
Option 1 ID : **630680978374**
Option 2 ID : **630680978372**
Option 3 ID : **630680978371**
Option 4 ID : **630680978373**
Status : **Answered**
Chosen Option : **3**
Marks : **2**

Q.12 Select the most appropriate meaning of the given idiom.

To be rolling in money

- Ans 1. To be wealthy
 2. To give money in charity
 3. To waste money
 4. To be in financial crisis

Question Type : MCQ
Question ID : 630680274286
Option 1 ID : 6306801065655
Option 2 ID : 6306801065658
Option 3 ID : 6306801065656
Option 4 ID : 6306801065657
Status : Answered
Chosen Option : 3
Marks : 0

Q.13 Select the most appropriate ANTONYM of the underlined word.
Despite numerous challenges, she remained diligent in her studies.

- Ans 1. painstaking
 2. wary
 3. lazy
 4. thorough

Question Type : MCQ
Question ID : 630680277940
Option 1 ID : 6306801080120
Option 2 ID : 6306801080117
Option 3 ID : 6306801080118
Option 4 ID : 6306801080119
Status : Answered
Chosen Option : 4
Marks : 0

Q.14 Select the most appropriate punctuation mark to fill in the blank.

My son has given me a list of the following items_____pencils, notebooks and pens.

- Ans 1. Semi-colon (;)
 2. Period (.)
 3. Comma (,)
 4. Colon (:)

Question Type : MCQ
Question ID : 630680252080
Option 1 ID : 630680978300
Option 2 ID : 630680978302
Option 3 ID : 630680978299
Option 4 ID : 630680978301
Status : Answered
Chosen Option : 4
Marks : 2

Q.15 Select the option that expresses the given sentence in passive voice.

They employ online platforms for conducting meetings.

- Ans
- 1. For conducting meetings they employed online platforms
 - 2. Online platforms have employed for conducting meetings
 - 3. Online platforms are employed for conducting meetings
 - 4. Online platforms they are employing for conducting meetings

Question Type : MCQ
Question ID : 630680252099
Option 1 ID : 630680978377
Option 2 ID : 630680978378
Option 3 ID : 630680978376
Option 4 ID : 630680978375
Status : Answered
Chosen Option : 4
Marks : 0

Q.16 Select the most appropriate meaning of the given idiom.

In hot water

- Ans
- 1. In favour
 - 2. In need of
 - 3. In trouble
 - 4. In summer

Question Type : MCQ
Question ID : 630680270816
Option 1 ID : 6306801052452
Option 2 ID : 6306801052453
Option 3 ID : 6306801052451
Option 4 ID : 6306801052450
Status : Answered
Chosen Option : 4
Marks : 0

Q.17 Parts of the given sentence have been underlined. One of them contains an error. Select the option that correctly rectifies the error.

The committee, along with its ancillary staff, were working tirelessly to complete the report.

- Ans
- 1. for
 - 2. a
 - 3. their
 - 4. was

Question Type : MCQ
Question ID : 630680279144
Option 1 ID : 6306801084856
Option 2 ID : 6306801084853
Option 3 ID : 6306801084854
Option 4 ID : 6306801084855
Status : Answered
Chosen Option : 2
Marks : 0

Q.18 Select the most appropriate option to fill in the blank.

Attitudes are ____ real figures of speech.

- Ans
- 1. an
 - 2. the
 - 3. in
 - 4. a

Question Type : MCQ
Question ID : 630680252905
Option 1 ID : 630680981600
Option 2 ID : 630680981602
Option 3 ID : 630680981599
Option 4 ID : 630680981601
Status : Answered
Chosen Option : 3
Marks : 0

Q.19 Select the most appropriate question tag to fill in the blank.

I am never punctual when it comes to submitting my assignments, _____?

- Ans
- 1. aren't I
 - 2. amn't I
 - 3. am I
 - 4. are I

Question Type : MCQ
Question ID : 630680252119
Option 1 ID : 630680978457
Option 2 ID : 630680978456
Option 3 ID : 630680978455
Option 4 ID : 630680978458
Status : Answered
Chosen Option : 1
Marks : 0

Q.20 In the following sentence, four words are underlined, of which one is incorrectly spelt. Identify the INCORRECTLY spelt word.

Discourtecy is not a legal offence, and it does not excuse assault and battery.

- Ans
- 1. Discourtecy
 - 2. assault
 - 3. battery
 - 4. offence

Question Type : MCQ
Question ID : 630680270786
Option 1 ID : 6306801052330
Option 2 ID : 6306801052332
Option 3 ID : 6306801052333
Option 4 ID : 6306801052331
Status : Answered
Chosen Option : 4
Marks : 0

Q.21 Select the most appropriate question tag to fill in the blank.

He isn't a kid anymore, _____?

- Ans 1. is he
 2. isn't he
 3. does he
 4. has he

Question Type : MCQ
Question ID : 630680270791
Option 1 ID : 6306801052352
Option 2 ID : 6306801052350
Option 3 ID : 6306801052351
Option 4 ID : 6306801052353
Status : Answered
Chosen Option : 1
Marks : 2

Q.22 Select the most appropriate meaning of the given proverb.
Brevity is the soul of wit.

- Ans 1. Art of expressing views using few words
 2. Art of expressing views using many words
 3. Expressing views cunningly
 4. Expressing views with hesitation

Question Type : MCQ
Question ID : 630680278105
Option 1 ID : 6306801080777
Option 2 ID : 6306801080778
Option 3 ID : 6306801080780
Option 4 ID : 6306801080779
Status : Answered
Chosen Option : 4
Marks : 0

Q.23 Select the most appropriate punctuation mark to fill in the blank.
John is an avid traveller _____ he has visited over 20 countries in the past five years.

- Ans 1. Semi-colon (;)
 2. Period (.)
 3. Colon (:)
 4. Comma (,)

Question Type : MCQ
Question ID : 630680279139
Option 1 ID : 6306801084834
Option 2 ID : 6306801084836
Option 3 ID : 6306801084835
Option 4 ID : 6306801084833
Status : Answered
Chosen Option : 1
Marks : 2

Q.24 Select the most appropriate synonym of the underlined word.

The professor's lecture helped elucidate complex scientific concepts.

- Ans 1. Clarify
 2. Complicate
 3. Confuse
 4. Distort

Question Type : MCQ
Question ID : 630680252149
Option 1 ID : 630680978576
Option 2 ID : 630680978575
Option 3 ID : 630680978578
Option 4 ID : 630680978577
Status : Answered
Chosen Option : 3
Marks : 0

Q.25 In the following sentence, four words are underlined, of which one is incorrectly spelt. Identify the INCORRECTLY spelt word.

"I feel like some dowdy, dicrepit, horribly, dingy old fly," she said.

- Ans 1. dingy
 2. horribly
 3. dicrepit
 4. dowdy

Question Type : MCQ
Question ID : 630680270788
Option 1 ID : 6306801052341
Option 2 ID : 6306801052340
Option 3 ID : 6306801052339
Option 4 ID : 6306801052338
Status : Answered
Chosen Option : 4
Marks : 0

Section : General Knowledge

Q.1 ट्रान्सपरन्सी इंडरनेशनलने जारी केलेल्या 2021 च्या भ्रष्टाचार धारणा निर्देशकामध्ये (Corruption Perceptions Index) भारताने 100 पैकी _____ गुण मिळवले.

- Ans 1. 44
 2. 42
 3. 38
 4. 40

Question Type : MCQ
Question ID : 630680275448
Option 1 ID : 6306801070306
Option 2 ID : 6306801070305
Option 3 ID : 6306801070303
Option 4 ID : 6306801070304
Status : Answered
Chosen Option : 1
Marks : 0

Q.2 खालीलपैकी कोणत्या अनुच्छेदात मूलभूत हक्कांच्या अंमलबजावणीसाठी सर्वोच्च न्यायालयात जाण्याचा हक्क अनुस्यूत आहे?

- Ans  1. अनुच्छेद 32
 2. अनुच्छेद 28
 3. अनुच्छेद 30
 4. अनुच्छेद 24

Question Type : MCQ

Question ID : 630680269981

Option 1 ID : 6306801049178

Option 2 ID : 6306801049176

Option 3 ID : 6306801049177

Option 4 ID : 6306801049175

Status : Answered

Chosen Option : 2

Marks : 0

Q.3 खालीलपैकी कोणत्या भारतीय शहराला वर्ल्ड ग्रीन सिटी अवॉर्ड 2022 प्रदान करण्यात आला?

- Ans  1. हैदराबाद
 2. मुंबई
 3. बंगळूरु
 4. कोची

Question Type : MCQ

Question ID : 630680275410

Option 1 ID : 6306801070153

Option 2 ID : 6306801070151

Option 3 ID : 6306801070152

Option 4 ID : 6306801070154

Status : Answered

Chosen Option : 1

Marks : 2

- Q.4 माहितीचा अधिकार (RTI) अधिनियम, 2005 च्या कलम 13 (5) नुसार चुकीचा पर्याय निवडा.
- A) मुख्य माहिती आयुक्तांना देय असलेले वेतन आणि भत्ते व इतर सेवा अटी आणि शर्ती या मुख्य निवडणूक आयुक्तांप्रमाणेच आहेत.
- B) मुख्य माहिती आयुक्तांना देय असलेले वेतन आणि भत्ते व इतर सेवा अटी आणि शर्ती या उच्च न्यायालयाच्या मुख्य न्यायाधीशांप्रमाणेच आहेत.
- C) मुख्य माहिती आयुक्तांना देय असलेले वेतन आणि भत्ते व इतर सेवा अटी आणि शर्ती या उच्च न्यायालयाच्या न्यायाधीशांप्रमाणेच आहेत.
- D) मुख्य माहिती आयुक्तांना देय असलेले वेतन आणि भत्ते व इतर सेवा अटी आणि शर्ती या सर्वोच्च न्यायालयाच्या न्यायाधीशांप्रमाणेच आहेत.

- Ans 1. फक्त B, C आणि D
2. फक्त A, C आणि D
3. A, B, C आणि D हे सर्व
4. फक्त A, B आणि C

Question Type : MCQ
Question ID : 630680287128
Option 1 ID : 6306801116419
Option 2 ID : 6306801116421
Option 3 ID : 6306801116422
Option 4 ID : 6306801116420
Status : Answered
Chosen Option : 1
Marks : 0

- Q.5 फेब्रुवारी 2022 मध्ये, इंदूरमध्ये खालीलपैकी कोणी महापालिकेच्या घनकचरा-आधारित गोबर-धन प्लांटचे उद्घाटन केले?

- Ans 1. अमित शाह
2. हरदीप पुरी
3. जयराम ठाकूर
4. नरेंद्र मोदी

Question Type : MCQ
Question ID : 630680270580
Option 1 ID : 6306801051508
Option 2 ID : 6306801051506
Option 3 ID : 6306801051509
Option 4 ID : 6306801051507
Status : Answered
Chosen Option : 1
Marks : 0

Q.6 एप्रिल 2023 मध्ये प्रकाशित झालेले 'क्रॉसकोर्ट (Crosscourt)' हे पुस्तक खालीलपैकी कोणी लिहिले आहे?

- Ans 1. जयदीप मुखर्जी
 2. महेश भूपती
 3. लिअँडर पेस
 4. सोमदेव देववर्मन

Question Type : MCQ
Question ID : 630680255008
Option 1 ID : 630680989991
Option 2 ID : 630680989994
Option 3 ID : 630680989993
Option 4 ID : 630680989992
Status : Answered
Chosen Option : 3
Marks : 0

Q.7 केंद्रीय पशुसंवर्धन, मत्स्यव्यवसाय आणि दुग्धव्यवसाय राज्यमंत्री डॉ. संजीव कुमार बालियान यांनी शेतकरी, सहकारी संस्था आणि कृत्रिम रेतनामध्ये सहभागी असलेल्या तंत्रज्ञांना देशातील दुग्धोत्पादन क्षेत्रातील त्यांच्या अनुकरणीय योगदानाबद्दल _____ प्रदान केला.

- Ans 1. बिहारी पुरस्कार
 2. राष्ट्रीय गोपाल रत्न पुरस्कार
 3. मूर्ती देवी पुरस्कार
 4. राजीव गांधी राष्ट्रीय सद्भावना पुरस्कार

Question Type : MCQ
Question ID : 630680275407
Option 1 ID : 6306801070140
Option 2 ID : 6306801070142
Option 3 ID : 6306801070139
Option 4 ID : 6306801070141
Status : Answered
Chosen Option : 2
Marks : 2

Q.8 22 जानेवारी 1760 रोजी, तामिळनाडूमधील वांडीवॉश येथे ब्रिटिशांनी जिंकलेली 'वांडीवॉशची लढाई' खालीलपैकी कोणत्या युद्धाचा भाग होती?

- Ans 1. तिसरे कर्नाटक युद्ध
 2. दुसरे कर्नाटक युद्ध
 3. पहिले कर्नाटक युद्ध
 4. चौथे कर्नाटक युद्ध

Question Type : MCQ
Question ID : 630680275675
Option 1 ID : 6306801071213
Option 2 ID : 6306801071212
Option 3 ID : 6306801071211
Option 4 ID : 6306801071214
Status : Answered
Chosen Option : 2
Marks : 0

Q.9 भारतातील कोणत्या पर्वतरांगला 'युवा वलित पर्वते' असे संबोधले जाते?

- Ans
- 1. पश्चिम घाट
 - 2. पूर्व घाट
 - 3. अरवली पर्वतरांग
 - 4. हिमालय

Question Type : MCQ
Question ID : 630680268945
Option 1 ID : 6306801045087
Option 2 ID : 6306801045089
Option 3 ID : 6306801045088
Option 4 ID : 6306801045090
Status : Answered
Chosen Option : 3
Marks : 0

Q.10 _____ असे बाळ गंगाधर टिळक यांनी म्हटले होते.

- Ans
- 1. "जर सरकार अस्पृश्यता सहन करत असेल, तर मी त्याला सरकार म्हणून अजिबात मान्यता देणार नाही"
 - 2. "जर संस्कृती अस्पृश्यता सहन करत असेल, तर मी तिला संस्कृती म्हणून अजिबात मान्यता देणार नाही"
 - 3. "जर समाज अस्पृश्यता सहन करत असेल, तर मी त्याला समाज म्हणून अजिबात मान्यता देणार नाही"
 - 4. "जर देवाने अस्पृश्यता सहन केली असती, तर मी त्याला अजिबात देव असे मानणार नाही"

Question Type : MCQ
Question ID : 630680287111
Option 1 ID : 6306801116351
Option 2 ID : 6306801116354
Option 3 ID : 6306801116353
Option 4 ID : 6306801116352
Status : Answered
Chosen Option : 1
Marks : 0

Q.11 1852 मध्ये _____ यांनी मद्रास नेटिव्ह असोसिएशन (MNA) ची स्थापना केली.

- Ans
- 1. गजुला लक्ष्मीनरसु चेट्टी
 - 2. महादेव गोविंद रानडे
 - 3. दादाभाई नौरोजी
 - 4. काशिनाथ त्र्यंबक तेलंग

Question Type : MCQ
Question ID : 630680275678
Option 1 ID : 6306801071226
Option 2 ID : 6306801071223
Option 3 ID : 6306801071225
Option 4 ID : 6306801071224
Status : Answered
Chosen Option : 4
Marks : 0

Q.12 खालीलपैकी कोणते मद्य पेय हे किण्वित द्राक्षांच्या रसापासून तयार केले जाते?

- Ans 1. वाइन
 2. स्कॉच
 3. बिअर
 4. व्हिस्की

Question Type : MCQ

Question ID : 630680270000

Option 1 ID : 6306801049254

Option 2 ID : 6306801049252

Option 3 ID : 6306801049253

Option 4 ID : 6306801049251

Status : Answered

Chosen Option : 1

Marks : 2

Q.13 सायबर फॉरेन्सिक-नि-प्रशिक्षण प्रयोगशाळा (cyber forensic-cum-training laboratories) स्थापन करण्यासाठी, क्षमता वाढवण्यासाठी आणि कनिष्ठ सायबर सल्लागारांची नियुक्ती करण्यासाठी _____ मंत्रालयाने राज्ये आणि केंद्रशासित प्रदेशांना 'सायबर क्राईम प्रिव्हेन्शन अगेन्स्ट विमेन अँड चिल्ड्रन' (CCPWC) या योजनेअंतर्गत आर्थिक सहाय्य प्रदान केले आहे.

- Ans 1. कायदा आणि न्याय
 2. गृह व्यवहार
 3. महिला आणि बाल विकास
 4. वित्त

Question Type : MCQ

Question ID : 630680275481

Option 1 ID : 6306801070438

Option 2 ID : 6306801070437

Option 3 ID : 6306801070435

Option 4 ID : 6306801070436

Status : Answered

Chosen Option : 3

Marks : 0

Q.14 भवानी पाठक आणि देवी चौधुरानी खालीलपैकी कोणत्या विद्रोहाशी/बंडाशी संबंधित आहेत?

- Ans 1. भिल्लांचा उठाव
 2. कोल विद्रोह
 3. संथाळांचा विद्रोह
 4. संन्यासी बंड

Question Type : MCQ

Question ID : 630680275708

Option 1 ID : 6306801071343

Option 2 ID : 6306801071345

Option 3 ID : 6306801071344

Option 4 ID : 6306801071346

Status : Answered

Chosen Option : 3

Marks : 0

Q.15 भारताच्या 2011 च्या जणगणनेनुसार, भारताच्या कोणत्या राज्यामध्ये झोरास्ट्रियन (पारसी) जनसंख्येचे सर्वाधिक केंद्रीकरण आहे?

- Ans 1. कर्नाटक
 2. पश्चिम बंगाल
 3. गोवा
 4. महाराष्ट्र

Question Type : MCQ
Question ID : 630680275808
Option 1 ID : 6306801071745
Option 2 ID : 6306801071743
Option 3 ID : 6306801071746
Option 4 ID : 6306801071744
Status : Answered
Chosen Option : 3
Marks : 0

Q.16 जल जीवन मिशन अंतर्गत, _____ पर्यंत प्रत्येक ग्रामीण कुटुंबाला नळाद्वारे पाणी पुरविण्याच्या सरकारच्या संकल्पाचे कार्यान्वयन प्रगतीपथावर आहे.

- Ans 1. 2024
 2. 2030
 3. 2027
 4. 2025

Question Type : MCQ
Question ID : 630680270581
Option 1 ID : 6306801051513
Option 2 ID : 6306801051512
Option 3 ID : 6306801051511
Option 4 ID : 6306801051510
Status : Answered
Chosen Option : 3
Marks : 0

Q.17 'परदेशात प्रवास करण्याचा अधिकार' हा भारतीय राज्यघटनेच्या अनुच्छेद _____ मध्ये समाविष्ट आहे.

- Ans 1. अनुच्छेद 21
 2. अनुच्छेद 22
 3. अनुच्छेद 32
 4. अनुच्छेद 20

Question Type : MCQ
Question ID : 630680281044
Option 1 ID : 6306801092412
Option 2 ID : 6306801092413
Option 3 ID : 6306801092414
Option 4 ID : 6306801092411
Status : Answered
Chosen Option : 2
Marks : 0

Q.18 वारंवार येणाऱ्या पुरांमुळे 'बिहारचे दुःख' म्हणून ओळखल्या जाणाऱ्या नदीचे नाव काय आहे?

- Ans 1. यमुना
 2. कृष्णा
 3. कोसी
 4. कावेरी

Question Type : MCQ

Question ID : 630680268948

Option 1 ID : 6306801045099

Option 2 ID : 6306801045102

Option 3 ID : 6306801045101

Option 4 ID : 6306801045100

Status : Answered

Chosen Option : 3

Marks : 2

Q.19 अटल इनोव्हेशन मिशन, _____ आणि भारतातील डेन्मार्कचा राजदूतावास यांनी डिसेंबर 2021 मध्ये इंडो-डॅनिश बायलॅटरल ग्रीन स्ट्रॅटेजिक (Indo-Danish Bilateral Green Strategic) भागीदारीचा भाग म्हणून नवकल्पनांच्या माध्यमातून जागतिक जल समस्यांना तोंड देण्यासाठी जल नवोन्मेष स्पर्धेच्या (वॉटर इनोव्हेशन चॅलेंजच्या) दुसऱ्या आवृत्तीची घोषणा केली.

- Ans 1. शहरी विकास मंत्रालय
 2. पृथ्वी विज्ञान मंत्रालय
 3. जलशक्ती मंत्रालय
 4. नीती आयोग

Question Type : MCQ

Question ID : 630680275464

Option 1 ID : 6306801070369

Option 2 ID : 6306801070370

Option 3 ID : 6306801070367

Option 4 ID : 6306801070368

Status : Answered

Chosen Option : 3

Marks : 0

Q.20 राज्य माहिती आयुक्त (SIC) बद्दल खालीलपैकी कोणती विधाने अचूक आहेत?

- (a) SIC ची नियुक्ती राज्याच्या राज्यपालाद्वारे केली जाते.
(b) SIC ची पुनर्नियुक्ती केली जाऊ शकते.
(c) SIC राज्य सरकारकडे वार्षिक अहवाल सादर करते.
(d) राज्य माहिती आयोगामध्ये, राज्य मुख्य माहिती आयुक्त (SCIC) आणि 10 पेक्षा जास्त राज्य माहिती आयुक्त (SIC) समाविष्ट असतात.

- Ans 1. B, C आणि D
 2. A, B आणि C
 3. A, C आणि D
 4. A, B आणि D

Question Type : MCQ

Question ID : 630680275206

Option 1 ID : 6306801069335

Option 2 ID : 6306801069336

Option 3 ID : 6306801069337

Option 4 ID : 6306801069338

Status : Answered

Chosen Option : 3

Marks : 2

Q.21 जेव्हा हुल्लडखोर तरुणांचा एक गट उद्यानात धर्मविरोधी घोषणा देतो, तेव्हा ती खालीलपैकी कोणत्या मूलभूत कर्तव्याच्या विरोधातील कृती ठरते?

- Ans 1. सामंजस्य आणि समान बंधुत्वाच्या भावनेला प्रोत्साहन देणे
 2. नैसर्गिक पर्यावरणाचे संरक्षण आणि सुधारणा करणे
 3. पालक असलेल्या व्यक्तीने शिक्षणाची संधी उपलब्ध करून देणे
 4. आपल्या संमिश्र संस्कृतीच्या समृद्ध वारशाचे मूल्य आणि जतन करणे

Question Type : MCQ

Question ID : 630680281046

Option 1 ID : 6306801092422

Option 2 ID : 6306801092419

Option 3 ID : 6306801092420

Option 4 ID : 6306801092421

Status : Answered

Chosen Option : 1

Marks : 2

Q.22 12 ऑक्टोबर 2005 रोजी कोणता अधिनियम लागू झाला?

- Ans 1. RTI अधिनियम
 2. महाराष्ट्र मानवाधिकार अधिनियम
 3. भ्रष्टाचार विरोधी अधिनियम
 4. राष्ट्रीय मानवाधिकार अधिनियम

Question Type : MCQ

Question ID : 630680275187

Option 1 ID : 6306801069259

Option 2 ID : 6306801069261

Option 3 ID : 6306801069262

Option 4 ID : 6306801069260

Status : Answered

Chosen Option : 1

Marks : 2

Q.23 खालीलपैकी कोणत्या महिला क्रिकेटपटूने एप्रिल 2023 मध्ये 'विस्डेन T20 क्रिकेटर ऑफ द इयर अवॉर्ड 2022' जिंकला?

- Ans 1. हरमनप्रीत कौर
 2. रेणुका सिंह
 3. स्मृती मंधाना
 4. शेफाली वर्मा

Question Type : MCQ
Question ID : 630680269892
Option 1 ID : 6306801048820
Option 2 ID : 6306801048822
Option 3 ID : 6306801048819
Option 4 ID : 6306801048821
Status : Answered
Chosen Option : 1
Marks : 2

Q.24 खालीलपैकी कोणती MS-वर्डमधील फॉन्ट स्टाईल (font style) नाही?

- Ans 1. रेग्यूलर (Regular)
 2. इटॅलीक (Italic)
 3. बोल्ड (Bold)
 4. सूपरस्क्रिप्ट (Superscript)

Question Type : MCQ
Question ID : 630680275393
Option 1 ID : 6306801070086
Option 2 ID : 6306801070085
Option 3 ID : 6306801070083
Option 4 ID : 6306801070084
Status : Answered
Chosen Option : 4
Marks : 2

Q.25 1893 मध्ये, विधवा विवाह संघाची स्थापना कोणी केली?

- Ans 1. एम.जी. रानडे
 2. गोपाळ कृष्ण गोखले
 3. धोंडो केशव कर्वे
 4. दादाभाई नौरोजी

Question Type : MCQ
Question ID : 630680287118
Option 1 ID : 6306801116380
Option 2 ID : 6306801116382
Option 3 ID : 6306801116379
Option 4 ID : 6306801116381
Status : Answered
Chosen Option : 1
Marks : 0

Section : General Intelligence

Q.1 A हा सकाळी 9:00 वाजता X येथून निघतो आणि दुपारी 1:00 वाजता Y येथे पोहोचतो. त्याच दिवशी B हा देखील सकाळी 9:00 वाजता Y येथून निघतो आणि A च्या समान मार्गाने प्रवास करत दुपारी 3:00 वाजता X येथे पोहोचतो. ते दोघे किती वाजता भेटतील?

- Ans 1. सकाळी 11:30 वाजता
 2. सकाळी 11:24 वाजता
 3. सकाळी 11:12 वाजता
 4. सकाळी 10:00 वाजता

Question Type : MCQ
Question ID : 630680279369
Option 1 ID : 6306801085745
Option 2 ID : 6306801085746
Option 3 ID : 6306801085744
Option 4 ID : 6306801085743
Status : Answered
Chosen Option : 1
Marks : 0

Q.2 खालील चारपैकी तीन एका विशिष्ट तऱ्हेने समान आहेत आणि म्हणून ते एक गट तयार करतात. त्या गटात न बसणारा पर्याय निवडा.

- Ans 1. YTQ
 2. SNK
 3. KFB
 4. OJG

Question Type : MCQ
Question ID : 630680256954
Option 1 ID : 630680997728
Option 2 ID : 630680997727
Option 3 ID : 630680997730
Option 4 ID : 630680997729
Status : Answered
Chosen Option : 3
Marks : 2

Q.3 जर $2^x \times 4^{12} \times 8^3 = 16^{11}$ आहे, तर x चे मूल्य किती आहे?

- Ans 1. 13
 2. 12
 3. 11
 4. 14

Question Type : MCQ
Question ID : 630680277181
Option 1 ID : 6306801077199
Option 2 ID : 6306801077197
Option 3 ID : 6306801077198
Option 4 ID : 6306801077200
Status : Answered
Chosen Option : 3
Marks : 2

Q.4 चार शब्द-जोड्या दिल्या आहेत. त्यांपैकी तीन विशिष्ट प्रकारे समान आहेत आणि एक वेगळी आहे, वेगळी असलेली शब्द-जोडी निवडा.

- Ans 1. फळ : बी
 2. झाड : फांदी
 3. फूल : पाकळी
 4. पान : लाकूड

Question Type : MCQ

Question ID : 630680273888

Option 1 ID : 6306801064072

Option 2 ID : 6306801064073

Option 3 ID : 6306801064071

Option 4 ID : 6306801064074

Status : Answered

Chosen Option : 4

Marks : 2

Q.5 एका शिबिरात 60 विद्यार्थ्यांसाठी 18 दिवसांची तरतूद केलेली आहे. शिबिरातील विद्यार्थ्यांची संख्या 72 पर्यंत वाढल्यास ती तरतूद किती दिवसांत संपून जाईल?

- Ans 1. 15 दिवस
 2. 8 दिवस
 3. 18 दिवस
 4. 12 दिवस

Question Type : MCQ

Question ID : 630680279390

Option 1 ID : 6306801085829

Option 2 ID : 6306801085827

Option 3 ID : 6306801085830

Option 4 ID : 6306801085828

Status : Answered

Chosen Option : 1

Marks : 2

Q.6 दिलेली विधाने आणि निष्कर्ष लक्षपूर्वक वाचा. दिलेली विधाने जरी सामान्यतः ज्ञात तथ्यांशी विसंगत वाटत असली तरीही ती सत्य आहेत असे तुम्हाला गृहीत धरायचे आहे. दिलेल्या निष्कर्षांपैकी कोणता/ते निष्कर्ष दिलेल्या विधानांशी तर्कसंगत आहे/आहेत हे तुम्हाला ठरवायचे आहे.

विधाने: सर्व वाट्या, चमचे आहेत. एकही चमचा, काटा नाही. एकही काटा, थाळी नाही.

निष्कर्ष (I): एकही वाटी, काटा नाही.

निष्कर्ष (II): काही चमचे, थाळ्या असू शकतात.

- Ans 1. निष्कर्ष I आणि II हे दोन्ही सत्य आहेत.
2. फक्त निष्कर्ष II सत्य आहे.
3. निष्कर्ष I किंवा निष्कर्ष II पैकी एकही सत्य नाही.
4. फक्त निष्कर्ष I सत्य आहे.

Question Type : MCQ

Question ID : 630680271397

Option 1 ID : 6306801054662

Option 2 ID : 6306801054661

Option 3 ID : 6306801054663

Option 4 ID : 6306801054660

Status : Answered

Chosen Option : 3

Marks : 0

Q.7

- Ans 1. ₹16
2. ₹18
3. ₹21
4. ₹20

Question Type : MCQ

Question ID : 630680277318

Option 1 ID : 6306801077724

Option 2 ID : 6306801077721

Option 3 ID : 6306801077723

Option 4 ID : 6306801077722

Status : Answered

Chosen Option : 1

Marks : 2

Q.8

Ans  1. 12.55

 2. 125.5

 3. 1.255

 4. 12.25

Question Type : MCQ

Question ID : 630680277175

Option 1 ID : 6306801077174

Option 2 ID : 6306801077176

Option 3 ID : 6306801077175

Option 4 ID : 6306801077173

Status : Answered

Chosen Option : 3

Marks : 0

Q.9

Ans  1. 95%

 2. 90%

 3. 85%

 4. 70%

Question Type : MCQ

Question ID : 630680277211

Option 1 ID : 6306801077318

Option 2 ID : 6306801077319

Option 3 ID : 6306801077320

Option 4 ID : 6306801077317

Status : Answered

Chosen Option : 2

Marks : 2

Q.10 पाईप A आणि पाईप B हे एका रिकाम्या टाकीला 18 तासांत भरू शकतात, पाईप B आणि पाईप C हे त्याच टाकीला 15 तासांत भरू शकतात, तर पाईप A आणि पाईप C हे त्याच टाकीला 12 तासांत भरू शकतात. जर ते एकत्रपणे कार्यरत असतील, तर त्याच टाकीला भरण्यासाठी त्यांना लागणारा वेळ किती असेल?

Ans  1.

 2.

 3.

 4.

Question Type : MCQ

Question ID : 630680280563

Option 1 ID : 6306801090488

Option 2 ID : 6306801090487

Option 3 ID : 6306801090490

Option 4 ID : 6306801090489

Status : Answered

Chosen Option : 3

Marks : 0

Q.11 एक व्यक्ति प्रवाहाच्या विरुद्ध दिशेने 7 km/h वेगाने आणि प्रवाहाच्या दिशेने 10 km/h वेगाने नौकायन करू शकते. तर प्रवाहाचा वेग शोधा.

- Ans 1. 8.5 km/h
 2. 6.5 km/h
 3. 4.5 km/h
 4. 1.5 km/h

Question Type : MCQ

Question ID : 630680279378

Option 1 ID : 6306801085782

Option 2 ID : 6306801085781

Option 3 ID : 6306801085780

Option 4 ID : 6306801085779

Status : Answered

Chosen Option : 2

Marks : 0

Q.12 एक व्यक्ति 1 वर्षासाठी वार्षिक 20% दराने ₹20,000 एवढे कर्ज घेतो. अर्ध-वार्षिक गणना विचारात घेतल्यास, सुरुवातीपासून 12 महिन्यांचे व्याज किती असेल?

- Ans 1. ₹4,100
 2. ₹2,000
 3. ₹4,200
 4. ₹4,000

Question Type : MCQ

Question ID : 630680277361

Option 1 ID : 6306801077895

Option 2 ID : 6306801077893

Option 3 ID : 6306801077896

Option 4 ID : 6306801077894

Status : Answered

Chosen Option : 4

Marks : 0

Q.13 सोडवा:

$$19 - 20 \div 4.$$

- Ans 1. 14
 2. 24
 3. 19
 4. -1

Question Type : MCQ

Question ID : 630680277159

Option 1 ID : 6306801077109

Option 2 ID : 6306801077112

Option 3 ID : 6306801077110

Option 4 ID : 6306801077111

Status : Answered

Chosen Option : 1

Marks : 2

Q.14 वर्णक्रमानुसार, खालील चार अक्षर-समूहांपैकी तीन अक्षर-समूह एका विशिष्ट प्रकारे समान आहेत आणि अशा तऱ्हेने एक गट तयार करतात. त्या गटाशी संबंधित नसलेला पर्याय निवडा.

- Ans 1. LMQ
 2. HGK
 3. ONR
 4. TSW

Question Type : MCQ

Question ID : 630680273881

Option 1 ID : 6306801064045

Option 2 ID : 6306801064046

Option 3 ID : 6306801064044

Option 4 ID : 6306801064043

Status : Answered

Chosen Option : 1

Marks : 2

Q.15 अशोकने एक रेडिओ संच खरेदी केला आणि श्यामला तो 25% नफ्याने विकला, श्यामने तो मोहनला 10% तोट्याने विकला, आणि मोहनने त्यासाठी ₹675 दिले. तर अशोकने रेडिओ संच किती किमतीत खरेदी केला?

- Ans 1. ₹500
 2. ₹550
 3. ₹600
 4. ₹450

Question Type : MCQ

Question ID : 630680277322

Option 1 ID : 6306801077738

Option 2 ID : 6306801077739

Option 3 ID : 6306801077740

Option 4 ID : 6306801077737

Status : Answered

Chosen Option : 3

Marks : 2

Q.16 खालील संख्या-मालिकेचा संदर्भ घ्या आणि त्याखालील प्रश्नाचे उत्तर द्या. (सर्व संख्या या केवळ एक-अंकी संख्या आहेत.)
(डावे) 5 7 3 4 6 8 6 3 4 7 5 7 9 5 2 1 2 4 1 8 2 1 (उजवे)
यात अशा किती विषम संख्या आहेत, ज्यांपैकी प्रत्येकीच्या ताबडतोब आधी एक सम संख्या आहे आणि ताबडतोब नंतर एक पूर्ण वर्ग देखील आहे?
(टीप: '1' हा देखील एक पूर्ण वर्ग आहे.)

- Ans 1. 2
 2. 1
 3. 0
 4. 3

Question Type : MCQ
Question ID : 630680257442
Option 1 ID : 630680999673
Option 2 ID : 630680999672
Option 3 ID : 630680999671
Option 4 ID : 630680999674
Status : Answered
Chosen Option : 2
Marks : 2

Q.17 खालील अक्षरे, संख्या, चिन्हांच्या मालिकेचा संदर्भ घ्या आणि त्याखालील प्रश्नांची उत्तरे द्या.
(डावी) 9 @ 6 B & 8 Y F) 7 D * Z 5 P # R T % S 3 (उजवी)
मालिकेतून सर्व चिन्हे वगळल्यास उजवीकडून 6 व्या स्थानी खालीलपैकी काय असेल?

- Ans 1. P
 2. Z
 3. D
 4. 5

Question Type : MCQ
Question ID : 630680276946
Option 1 ID : 6306801076278
Option 2 ID : 6306801076277
Option 3 ID : 6306801076279
Option 4 ID : 6306801076280
Status : Answered
Chosen Option : 4
Marks : 2

Q.18 QJ 17 हा NG 23 शी एका विशिष्ट तऱ्हेने संबंधित आहे. त्याचप्रमाणे, AS 28 हा XP 34 शी संबंधित आहे.
खालीलपैकी कोणते TF 41 शी संबंधित आहे?

- Ans 1. SC 48
 2. RA 47
 3. QC 47
 4. RB 49

Question Type : MCQ
Question ID : 630680273860
Option 1 ID : 6306801063961
Option 2 ID : 6306801063962
Option 3 ID : 6306801063960
Option 4 ID : 6306801063959
Status : Answered
Chosen Option : 3
Marks : 2

Q.19 खालील मालिकेत प्रश्नचिन्हाच्या (?) जागी काय आले पाहिजे?
15, 22, ?, 57, 85, 120

- Ans 1. 36
 2. 49
 3. 29
 4. 42

Question Type : MCQ
Question ID : 630680273923
Option 1 ID : 6306801064212
Option 2 ID : 6306801064214
Option 3 ID : 6306801064211
Option 4 ID : 6306801064213
Status : Answered
Chosen Option : 4
Marks : 0

Q.20 अक्षर-गटांच्या चार जोड्या दिलेल्या आहेत, ज्यांपैकी तिघींमध्ये एक विशिष्ट साधर्म्य आहे आणि एक वेगळी आहे. ती वेगळी अक्षरगट-जोडी ओळखा.

- Ans 1. GJ - KN
 2. CF - GJ
 3. OR - TW
 4. RU - VY

Question Type : MCQ
Question ID : 630680277554
Option 1 ID : 6306801078665
Option 2 ID : 6306801078667
Option 3 ID : 6306801078668
Option 4 ID : 6306801078666
Status : Answered
Chosen Option : 3
Marks : 2

Q.21 खालील चारपैकी तीन शब्दजोड्यांमध्ये समान सहसंबंध आहे आणि त्यामुळे त्यांचा एक गट तयार होतो. त्या गटात न बसणारी शब्दजोडी कोणती आहे?
(या शब्दांना अर्थपूर्ण मराठी शब्द मानले जावे आणि शब्दातील अक्षरे/व्यंजन/स्वर यांच्या संख्येच्या आधारे त्यांचे गट पाडले जाऊ नयेत.)

- Ans 1. छित्री : कोरणे
 2. कुंचला : रंगवणे
 3. बंदूक : गोळी मारणे
 4. सुई : छिद्रण करणे

Question Type : MCQ
Question ID : 630680271427
Option 1 ID : 6306801054783
Option 2 ID : 6306801054780
Option 3 ID : 6306801054781
Option 4 ID : 6306801054782
Status : Answered
Chosen Option : 2
Marks : 0

Q.22 दिलेली मालिका तर्कदृष्ट्या पूर्ण होण्यासाठी ? च्या जागी काय आले पाहिजे?



NQ17 OR19 PS23 QT31 ?

- Ans 1. SV47
 2. RU40
 3. RU47
 4. SV40

Question Type : MCQ
Question ID : 630680271420
Option 1 ID : 6306801054752
Option 2 ID : 6306801054755
Option 3 ID : 6306801054753
Option 4 ID : 6306801054754
Status : Answered
Chosen Option : 3
Marks : 2

Q.23 जर 'A' म्हणजे '+', 'B' म्हणजे '-', 'C' म्हणजे 'x' आणि 'D' म्हणजे '÷' असेल, तर खालील समीकरणात प्रश्नचिन्हाच्या (?) जागी काय येईल?

56 D 8 A 4 C 7 B 14 = ?

- Ans  1. 23
 2. 15
 3. 18
 4. 21

Question Type : MCQ
Question ID : 630680271194
Option 1 ID : 6306801053850
Option 2 ID : 6306801053851
Option 3 ID : 6306801053848
Option 4 ID : 6306801053849
Status : Answered
Chosen Option : 4
Marks : 2

Q.24 खालील मालिकेत प्रश्नचिन्हाच्या (?) जागी येईल अशी संख्या दिलेल्या पर्यायांतून निवडा.

25, 26, 30, 39, 55, ?

- Ans  1. 79
 2. 80
 3. 82
 4. 81

Question Type : MCQ
Question ID : 630680271184
Option 1 ID : 6306801053808
Option 2 ID : 6306801053809
Option 3 ID : 6306801053811
Option 4 ID : 6306801053810
Status : Answered
Chosen Option : 2
Marks : 2

Q.25 दिलेली विधाने आणि निष्कर्ष काळजीपूर्वक वाचा. दिलेली विधाने जरी सामान्यतः ज्ञात तथ्यांशी विसंगत वाटत असली तरीही ती सत्य आहेत असे तुम्हाला गृहीत धरायचे आहे. कोणता/ते निष्कर्ष दिलेल्या विधानांशी तर्कसंगत आहे/आहेत हे तुम्हाला ठरवायचे आहे.

विधाने:

सर्व पट्टे, घड्याळे आहेत.

सर्व घड्याळे, टाय आहेत.

एकही घड्याळ, पॅट नाही.

निष्कर्ष:

(I) एकही पॅट, घड्याळ नाही.

(II) काही पट्टे, पॅट आहेत.

Ans 1. निष्कर्ष-I आणि निष्कर्ष-II दोन्ही तर्कसंगत आहेत.

2. केवळ निष्कर्ष-II तर्कसंगत आहे.

3. केवळ निष्कर्ष-I तर्कसंगत आहे.

4. निष्कर्ष-I आणि निष्कर्ष-II यांपैकी एकही तर्कसंगत नाही.

Question Type : MCQ

Question ID : 630680276951

Option 1 ID : 6306801076299

Option 2 ID : 6306801076298

Option 3 ID : 6306801076297

Option 4 ID : 6306801076300

Status : Answered

Chosen Option : 1

Marks : 0