

कच्च्या कामासाठी जागा/SPACE FOR ROUGH WORK

1. 'अभिनव भारत' या संघटनेच्या बाबतीत खालीलपैकी कोणती विधाने बरोबर आहेत ?

- (a) अभिनव भारत च्या सभासदांना दांडपट्टा शिकविण्यास ईब्राहीम भाई होते.
- (b) त्र्यंबक चक्रवर्ती मार्फत शस्त्रास्त्र मिळविले जात.
- (c) कोटूर येथील बर्वेवाडा हा संघटनेचा शस्त्रगारच होते.
- (d) पूणे हे अभिनव भारताचे 'केंद्र' होते.

वरीलपैकी योग्य पर्याय खालील जोडीतून निवडा.

- (1) (a) आणि (b) बरोबर
- (2) (b) आणि (d) बरोबर
- (3) (c), (b) आणि (a) बरोबर
- (4) चारही बरोबर

Which of the following statements are true about Abhinav Bharat Organization ?

- (a) Ibrahimhai was the trainer to teach 'Dand-Patta' to the members of Abhinav Bharat.
- (b) Weapons used to be acquired through Trimbak Chakravarti.
- (c) Barvewada from Kothur was the Arms Depot of organization.
- (d) Pune was the centre of Abhinav Bharat.

Select the correct option from the above pair.

- (1) (a) and (b) correct
- (2) (b) and (d) correct
- (3) (c), (b) and (a) correct
- (4) All correct

2. स्वातंत्र्यपूर्व काळात केरळ मध्ये नारायण गुरुंच्या चळवळीची खालीलप्रमाणे शिकवण होती.

- (a) एक धर्म
- (b) एक जात
- (c) एक परमेश्वर
- (d) एक भूमी

योग्य पर्याय निवडा.

- (1) (a) आणि (c) बरोबर
- (2) (b) आणि (d) बरोबर
- (3) (c), (b) आणि (a) बरोबर
- (4) चारही बरोबर आहेत

The following is the teaching of Narayan Guru's movement in Pre-Independent Kerala.

- (a) One Religion
- (b) One Caste
- (c) One God
- (d) One Land

Select the correct option.

- (1) (a) and (c) correct
- (2) (b) and (d) correct
- (3) (c), (b) and (a) correct
- (4) All are correct

कच्च्या कामासाठी जागा / SPACE FOR ROUGH WORK

P.T.O.

3. पुढील वाक्यात कोणाचे वर्णन केले आहे ?

- (a) ते प्राच्य विद्येचे उत्तम अभ्यासक होते.
- (b) त्यांना सर्वोच्च न्यायालयाचे न्यायाधिश नेमले होते.
- (c) ते हिब्रू, अरबी, फारसी, तुर्की भाषात निष्णात होते आणि त्यांना चिनी भाषेचे जुजबी ज्ञान होते.
- (d) त्यांना संस्कृतचेही ज्ञान होते.

पर्यायी उत्तरे :

- (1) माऊंटस्टुअर्ट एलफिन्स्टन
- (2) सर विल्यम जोन्स
- (3) फ्रान्स बॉप
- (4) आंकेतील द्यूपेरॉन

Who is described in the following sentences ?

- (a) He was orientalist par excellence.
- (b) He was appointed as a judge of Supreme Court.
- (c) He was conversant with Hebrew, Arabic, Persian, Turkish and had a smattering of Chinese.
- (d) He had knowledge of Sanskrit too.

Answer options :

- (1) Mountstuart Elphinstone
- (2) Sir William Jones
- (3) Franz Bopp
- (4) Anquetil Duperron

4. "परदेशी भांडवलाची गुंतवणूक आणि कायदा व सुव्यवस्था याचे रक्षण, हे भारताच्या विकासाचे प्रमुख साधन आहे." असे आपल्या अर्थविषयक निबंधात लिहिणारे तज्ञ :

- (a) जॉन स्टुअर्ट मिल
- (b) अल्फ्रेड मार्शल
- (c) दादाभाई नौरोजी
- (d) न्या. म.गो. रानडे

पर्यायी उत्तरे :

- (1) (a) आणि (b)
- (2) (b) आणि (c)
- (3) (c) आणि (d)
- (4) (d) आणि (a)

"Investment of foreign capitals and protection of law and order are the main instruments of Development of India". This statement is written in an Economical essay written by :

- (a) John Stuart Mill
- (b) Alfred Marshall
- (c) Dadabhai Naoroji
- (d) Justice M.G. Ranade

Answer options :

- (1) (a) and (b)
- (2) (b) and (c)
- (3) (c) and (d)
- (4) (d) and (a)

कच्च्या कामासाठी जागा / SPACE FOR ROUGH WORK

5. कॅनडा व ब्राझील हे देश कोणत्या प्रकारच्या खनिज क्षेत्रात येतात ?

- | | |
|---------------------------------|--------------------------------|
| (1) अत्यल्प खनिज संसाधन क्षेत्र | (2) मध्यम खनिज संसाधन क्षेत्र |
| (3) अधिक खनिज संसाधन क्षेत्र | (4) खनिज संसाधन विरहीत क्षेत्र |

The countries Canada and Brazil come under which type of mineral resource area ?

- | | |
|--------------------------------|----------------------------------|
| (1) Low mineral resource area | (2) Medium mineral resource area |
| (3) High mineral resource area | (4) No mineral resource area |

6. संयुक्त संस्थाने या देशाचा पूर्व-पश्चिम विस्तार अधिक असल्यामुळे येथे वेळेचे कोणते चार पट्टे आहेत ?

- | |
|--|
| (1) ईस्टर्न झोन, सेंट्रल झोन, मिडल झोन व वेस्टर्न झोन |
| (2) ईस्टर्न झोन, मिडल झोन, सेंट्रल झोन व पॅसिफिक झोन |
| (3) ईस्टर्न झोन, सेंट्रल झोन, माऊंटन झोन व पॅसिफिक झोन |
| (4) ईस्टर्न झोन, मिडल झोन, माऊंटन झोन व पॅसिफिक झोन |

Due to east-west expansion of United States, the country is divided into which four time zones ?

- | |
|--|
| (1) Eastern zone, Central zone, Middle zone and Western zone |
| (2) Eastern zone, Middle zone, Central zone and Pacific zone |
| (3) Eastern zone, Central zone, Mountain zone and Pacific zone |
| (4) Eastern zone, Middle zone, Mountain zone and Pacific zone |

7. मानव व पर्यावरण या विषयावर संयुक्त राष्ट्रांची पहिली परिषद केव्हा आयोजित करण्यात आली होती ?

- | | | | |
|----------------|----------------|----------------|----------------|
| (1) 5 जून 1970 | (2) 5 जून 1972 | (3) 5 जून 1974 | (4) 5 जून 1976 |
|----------------|----------------|----------------|----------------|

When was the first United Nation Conference on human and environment held ?

- | | | | |
|-----------------|-----------------|-----------------|-----------------|
| (1) 5 June 1970 | (2) 5 June 1972 | (3) 5 June 1974 | (4) 5 June 1976 |
|-----------------|-----------------|-----------------|-----------------|

कच्च्या कामासाठी जागा / SPACE FOR ROUGH WORK

P.T.O.

8. योग्य नकाशाशास्त्रीय तंत्राची निवड ही कोणकोणत्या घटकांच्या आधारे केली जाते ?

- (1) गुणात्मक माहिती व संख्यात्मक माहिती
- (2) माहितीचे स्वरूप, विश्लेषणाचे प्रकार व नकाशाचा उद्देश
- (3) प्राथमिक माहिती व द्वितीयक माहिती
- (4) चिन्हांचा वापर, रंगाचा वापर व अक्षरांचा वापर

The selection of suitable cartographic technique depends on which factors ?

- (1) Qualitative and Quantitative information
- (2) Nature of information, type of explanation and objective of map
- (3) Primary information and secondary information
- (4) Use of sign, colours and Alphabets

9. भारतीय संविधानाच्या कोणत्या कलमानुसार विधान परिषद नष्ट करण्याचा किंवा निर्माण करण्याचा केलेला कायदा हा घटनादुरुस्तीचा कायदा आहे, असे मानले जाणार नाही ?

- (1) कलम 169(1)
- (2) कलम 169(2)
- (3) कलम 169(3)
- (4) कलम 169(4)

According to which article of Indian Constitution, the Act of abolishing or creating a Legislative Council will not be considered as an Constitution Amendment Act ?

- (1) Article 169(1)
- (2) Article 169(2)
- (3) Article 169(3)
- (4) Article 169(4)

10. घटक राज्यातील विधान परिषद संदर्भात खालीलपैकी कोणती/कोणत्या जोडी/जोड्या जुळत नाही ?

- | | | |
|-----------------|---|----|
| (a) बिहार | - | 75 |
| (b) महाराष्ट्र | - | 78 |
| (c) उत्तरप्रदेश | - | 99 |
| (d) कर्नाटक | - | 90 |

पर्यायी उत्तरे :

- | | |
|---------------------------|----------------------|
| (1) फक्त (b) | (2) फक्त (a) आणि (d) |
| (3) फक्त (a), (c) आणि (d) | (4) फक्त (c) आणि (d) |

Which of the following pair/pairs does not match with the respect to the Legislative Council ?

- | | | |
|-------------------|---|----|
| (a) Bihar | - | 75 |
| (b) Maharashtra | - | 78 |
| (c) Uttar Pradesh | - | 99 |
| (d) Karnataka | - | 90 |

Answer options :

- | | |
|---------------------------|----------------------|
| (1) Only (b) | (2) Only (a) and (d) |
| (3) Only (a), (c) and (d) | (4) Only (c) and (d) |

कच्च्या कामासाठी जागा / SPACE FOR ROUGH WORK

11. (A) : राज्यात मंत्री हे मुख्यमंत्र्यांचा विश्वास असेपर्यंत पदावर राहतात.

(R) : मतभेदाच्या परिस्थितीत मुख्यमंत्री त्यांचा राजीनामा मागू शकतात किंवा त्यांना मंत्रिमंडळातून हटविण्यासाठी राज्यपालांना सल्ला देवू शकतात.

खालीलपैकी योग्य पर्याय निवडा.

(1) (A) आणि (R) दोघेही बरोबर आहेत आणि (R) हे (A) चे बरोबर स्पष्टीकरण आहे.

(2) (A) आणि (R) दोघेही बरोबर आहेत परंतु (R) हे (A) चे चुकीचे स्पष्टीकरण आहे.

(3) (A) बरोबर आहे मात्र (R) चुकीचे आहे.

(4) (R) बरोबर आहे मात्र (A) चुकीचे आहे.

(A) : A Minister at the state level continues in office till he enjoys the confidence of the Chief Minister.

(R) : The Chief Minister can ask him to resign or advise the Governor to dismiss him in case of difference of opinion.

Choose the correct following :

(1) Both (A) and (R) are true and (R) is right explanation of (A).

(2) Both (A) and (R) are true but (R) is a wrong explanation of (A).

(3) (A) is right but (R) is wrong.

(4) (R) is right but (A) is wrong.

12. महाराष्ट्रात विधानसभा सदस्यांमार्फत विधान परिषदेवर किती सदस्य निवडले जातात ?

(1) 31 सदस्य

(2) 21 सदस्य

(3) 7 सदस्य

(4) यापैकी नाही

In Maharashtra, how many members in the Legislative Council are elected by the members of Legislative Assembly ?

(1) 31 members

(2) 21 members

(3) 7 members

(4) None of these

कच्च्या कामासाठी जागा / SPACE FOR ROUGH WORK

P.T.O.

13. 'मॉर्निंग कन्सल्ट पॉलिटिकल इंटेलिजन्स' या संकेत स्थळवर 13 जागतिक नेत्यांच्या यादीत अमेरिकेचे अध्यक्ष जो बायडेन हे 43 टक्के रेटिंगसह _____ क्रमांकावर आहेत.

- (1) आठव्या (2) बाराव्या (3) दहाव्या (4) सहाव्या

On the website of the 'Morning Consult Political Intelligences' the U.S. President Joe Biden is at _____ number with 43% rating among the list of 13 world leaders.

- (1) 8th (2) 12th (3) 10th (4) 6th

14. भारतीय हवामानशास्त्र खात्याकडून विविध 'रंगांची' चेतावणी जाहीर होते त्याविषयी पुढीलपैकी कोणते विधान सत्य आहे ?

- (1) हवामानाविषयी चेतावणी देण्यासाठी पाच विविध रंगांचा वापर केला जातो.
 (2) निळ्या रंगाचा इशारा म्हणजे तातडीने कोणत्याही कृतीची गरज नाही.
 (3) लाल रंगाचा इशारा म्हणजे पहा आणि सद्यस्थितीचा आढावा घेत रहा.
 (4) हिरवा रंग म्हणजे कोणत्याही कृतीची गरज नाही.

Which of the following statement about colour code warnings by India Meteorological Department is true ?

- (1) There are five different colours used to issue warning about weather
 (2) Blue colour warning means no immediate action needed
 (3) Red colour warning means watch and stay updated
 (4) Green colour means no action needed

15. अजोड निसर्ग सौंदर्य आणि दोन देशातील कमी अंतर यामुळे 'भूतान' हा चिमुकला देश भारतातील पर्यटकांसाठी नेहमीच खुणावत असतो. परंतु, या देशात प्रवेश करण्यासाठी _____ या महिन्यापासून प्रत्येकी ₹ 1,200 आकारण्यात येणार आहेत.

- (1) मे 2020 (2) जुलै 2020 (3) जून 2020 (4) नोव्हेंबर 2020

Bhutan, the small country is always a attraction for the tourists in India because of it's extraordinary beauty and shortest distance between the two countries. But from the month of _____ the entry fees for the country will be charged ₹ 1,200.

- (1) May 2020 (2) July 2020 (3) June 2020 (4) November 2020

कच्च्या कामासाठी जागा / SPACE FOR ROUGH WORK

16. सोचा-करो बेटावरचे रहिवासी कोणत्याही प्रश्नाचे उत्तर दोन वाक्यांत देतात. त्यापैकी एक वाक्य नेहमीच खरे असते व दुसरे वाक्य नेहमी खोटे असते. बेटावर भटकणाऱ्या नीनाला, एक वकील, एक अध्यापक, आणि एक निवृत्त असे तीन रहिवासी भेटले. कोण कोण आहे या संबंधाने नीनाने प्रश्न विचारले तेव्हा त्यांचे प्रतिसाद पुढीलप्रमाणे होते.

डोलू : मी शिक्षक नाही. कोलू शिक्षक नाही.

मालू : डोलू वकील नाही. कोलू शिक्षक आहे.

कोलू : डोलू निवृत्त नाही. मी शिक्षक नाही.

पर्यायांतून सत्य विधान निवडा.

- | | |
|---------------------|----------------------------|
| (1) कोलू शिक्षक आहे | (2) डोलू निवृत्त आहे |
| (3) मालू वकील आहे | (4) वरील तीनपैकी एकही नाही |

On an island Socha-karo the inhabitants always answer any question with two sentences - one of which is always true and other is always false. Nina while moving around, meets three inhabitants, a lawyer, a teacher and a pensioner. When Nina questioned about who is who they answered as follows :

Dolu : I am not a teacher. Kolu is not a teacher.

Malu : Dolu is not a lawyer. Kolu is a teacher.

Kolu : Dolu is not a pensioner. I am not a teacher.

Select the true statement from options.

- | | |
|--------------------------|-----------------------------|
| (1) Kolu is the teacher. | (2) Dolu is the pensioner |
| (3) Malu is the lawyer | (4) None of the above three |

कच्च्या कामासाठी जागा / SPACE FOR ROUGH WORK

P.T.O.

17. ज्या वेळी ताकदीच्या राजकीय नेतृत्वाचा उदय होण्याची शक्यता नसते तेव्हा काही देशांत लष्कराकडून क्रांती घडवून सत्ता ताब्यात घेतली जाण्याची शक्यता असते. डाव्या विचारांचे विद्यार्थी गट किंवा श्रमिकांच्या संघटना या विरुद्ध क्रांती घडवू पाहतात परंतु लष्कराची सत्ता ताकदीची असल्यामुळे स्वतःचे कायदे वापरून तसे घडू दिले जात नाही. लष्करी शासन आणि राजकारणापासून सत्तेची माघार याचा संबंध समाजाच्या राजकीय विकासाच्या पातळीशी असतो.

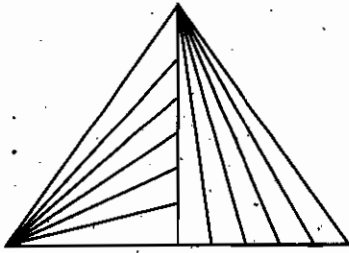
राजकीय विकासाच्या संदर्भात वरील युक्तिवादाचे गृहीतक निवडा.

- (1) लष्कर राजकीय पोकळी भरून काढते
- (2) विकासासाठी लष्करी शासन आहे
- (3) विकासासाठी राजकीय नेतृत्व हा परिणामकारक पर्याय नाही
- (4) वरीलपैकी एकही नाही

There is likelihood of military coup to take over power in some countries in case there is no emergence of strong political leadership. Leftist students groups or unions of labour's may try to raise revolutions but military power being very strong will not allow this to happen using their rules. Military ruling and withdrawal of power from politics are closely related to societies' level of political development. With respect to political development, select the assumptions of above argument.

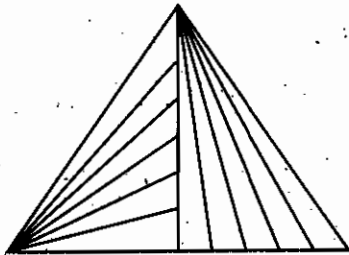
- (1) Military fills in political vacuum
- (2) Military ruling is necessary for development
- (3) Political leadership is not effective option for development
- (4) None of the above

18. सोबतच्या आकृतीमधील त्रिकोणांची संख्या सांगा.



- (1) 41
- (2) 42
- (3) 43
- (4) 33

Find out the number of triangles in the adjoining figure.



- (1) 41
- (2) 42
- (3) 43
- (4) 33

कच्च्या कामासाठी जागा / SPACE FOR ROUGH WORK

19. जर A=1, B=2, C=3, D=4 या प्रमाणे असल्यास आकृतीमधील लुप्त भाग शोधा.

		D	W	Q
		F	E	X
Y	S	M	G	A
B	U	T	N	H
I	C	V	P	O

(1)

J	R
L	K

(2)

K	F
R	L

(3)

K	J
R	L

(4)

R	L
J	K

Find the missing part if A=1, B=2, C=3, D=4 respectively.

		D	W	Q
		F	E	X
Y	S	M	G	A
B	U	T	N	H
I	C	V	P	O

(1)

J	R
L	K

(2)

K	F
R	L

(3)

K	J
R	L

(4)

R	L
J	K

कच्च्या कामासाठी जागा / SPACE FOR ROUGH WORK

P.T.O.

20. पाच मित्र P, Q, R, S आणि T गोव्यातून स्वतंत्रपणे पाच शहरांसाठी प्रवास करतात. म्हणजे - चेन्नई, दिल्ली, हैद्राबाद, कोलकाता आणि मंगळूर आणि वाहतुकीच्या विविध साधनांनी म्हणजे बस, ट्रेन, विमान, कार आणि बोट. दिल्लीसाठी प्रवास केलेल्या व्यक्तीने बोटीचा वापर केलेला नाही. R ने मंगळूरला कारने प्रवास केला आणि S ने बोटीने प्रवास केला. Q ने कोलकातासाठी विमानाने प्रवास केलेला आहे आणि T ने ट्रेनने प्रवास केला. दिल्ली आणि चेन्नई गोव्याशी बसमार्गाने जोडलेले नाही.

खालीलपैकी कोणती ठिकाणे व वाहतूक यांचे संयोजन खरे आहे ?

- | | |
|--------------------|--------------------|
| (1) कोलकाता - बस | (2) दिल्ली - विमान |
| (3) मंगळूर - ट्रेन | (4) चेन्नई - बोट |

Five friends P, Q, R, S and T travelled for Goa individually for five cities. i.e. Chennai, Delhi, Hyderabad, Kolkata and Mangalore by different means of transport. i.e. bus, train, aeroplane, car and boat.

The one who travelled for Delhi didn't use boat. R travelled for Mangalore by car and S travelled by boat. Q travelled by aeroplane for Kolkata and T travelled by train. Delhi and Chennai are not connected with bus route with Goa.

Which combination of place and transport of the following is true ?

- | | |
|-----------------------|-----------------------|
| (1) Kolkata - bus | (2) Delhi - aeroplane |
| (3) Mangalore - train | (4) Chennai - boat |

21. प्रगत देशांत आरोग्य सेवांसाठी पुरवल्या जाणाऱ्या आर्थिक पातळीचा त्यांच्या लोकसंख्येच्या आरोग्यावर फारच थोडा परिणाम होतो असे सांख्यिकी विश्लेषण दाखवून देते. जरी काही देश दरडोई सहापट जादा खर्च करतात आणि काही फक्त याच्या निम्मे खर्च करतात तरी त्यांच्या लोकसंख्येचे आयुर्मान जवळपास सारखेच आहे. यामुळे लोकांचे आरोग्य दरडोई खर्च केलेल्या पैशांच्या पुरवठ्यावर अवलंबून असते असे म्हणणे निरर्थक आहे.

या युक्तिवादासंदर्भातील आधारभूत गृहीतक निवडा.

- (1) लोकांचे आरोग्य सुधारण्यासाठी देशाने दरडोई अर्थपुरवठा वाढवायला हवा.
- (2) लोकांचे आरोग्य त्यांच्या आयुर्मानातून निर्देशित केले जाते.
- (3) दरडोई अर्थपुरवठ्याचे प्रमाण हा देशातील लोकांच्या आरोग्याचा उचित निर्देशक नाही.
- (4) लोकांचे आयुर्मान वाढवण्यासाठी परिष्कारक आरोग्य सेवा प्रणाली विकसित करणे ही देशाच्या प्रशासनाची जबाबदारी आहे.

Statistical analysis shows that in the advanced countries the level of financing towards health services is making little impact on the health of their populations. Though some countries spend six times as much per head on the health facilities and countries spending only half as much, life expectancies of their populations are almost same. Thus it is meaningless to say that the health of population depends in the level of finances spent per head.

Select the underlying assumption with respect to above argument.

- (1) For improving health of its population country should increase per head finance.
- (2) The health of populations is indicated by life expectancy of population.
- (3) Proportion of finances spent per head is not an appropriate indicator of health of population of any country.
- (4) It is responsibility of the government to develop efficient health care system for increasing life expectancy of its population.

कच्च्या कामासाठी जागा / SPACE FOR ROUGH WORK

22. स्तंभ I हे अंकाच्या संकेतात केलेले आहे ते स्तंभ II मध्ये लिहिलेले आहेत. पण अंकाचा क्रम हा वेगळ्या आहे. अक्षरांचा योग्य क्रम ओळखा.

स्तंभ I	स्तंभ II
BLO	369
EPL	279
PJT	175
JNS	018
NLB	309
RTJ	451

LJN या शब्दाचा अंक संकेत काय आहे ?

- (1) 713 (2) 910 (3) 610 (4) 817

The letters in column I are coded in the form of digits which is written in column II. But the order of digit is different. Identify the correct code of letters.

Column I	Column II
BLO	369
EPL	279
PJT	175
JNS	018
NLB	309
RTJ	451

What will be the code of LJN ?

- (1) 713 (2) 910 (3) 610 (4) 817

कच्च्या कामासाठी जागा / SPACE FOR ROUGH WORK

P.T.O.

23. 'A' हा वर्तुळकार क्षेत्राभोवती एक फेरी प्रति तास या वेगाने फिरतो. तर 'B' त्याभोवती तासाला 6 फेऱ्या या वेगाने फिरतो. ते एकाच बिंदूपासून त्याचदिशेने सकाळी 7:30 वाजता फिरणे सुरू करतात. ते प्रथम एकमेकांना केंव्हा ओलांडतील ?

- | | |
|----------------------|----------------------|
| (1) सकाळी 8:30 वाजता | (2) सकाळी 8:10 वाजता |
| (3) सकाळी 7:48 वाजता | (4) सकाळी 7:42 वाजता |

'A' walks around a circular field at the rate of one round per hour, while 'B' runs it at the rate of 6 rounds per hour. They start in the same direction from the same point at 7:30 a.m. They shall first cross each other at :

- | | |
|---------------|---------------|
| (1) 8:30 a.m. | (2) 8:10 a.m. |
| (3) 7:48 a.m. | (4) 7:42 a.m. |

24. A व B यांनी X या ठिकाणापासून Y या ठिकाणापर्यंत बसने प्रवास करण्याचे ठरवले. A जवळ 10 रुपये आहेत आणि ही रक्कम दोन व्यक्तींच्या बस दराच्या 80% आहे असे A च्या लक्षात आले. स्वतःकडे 3 रुपये असल्याचे B ला आढळले आणि त्याने ती रक्कम A कडे सोपवली. या संदर्भात पर्यायांतून योग्य विधान निवडा.

- (1) A ला 2 तिकिटे घेण्यासाठी अजूनही 2 रुपयांची गरज आहे.
- (2) 2 तिकिटे खरेदी केल्यानंतर A कडे 50 पैसे शिल्लक राहिले.
- (3) आता A कडे तिकिटे खरेदी करण्यासाठी नेमकी रक्कम आहे.
- (4) आता A कडे असलेले पैसे दोन तिकिटे खरेदी करण्यासाठी पुरेसे नाहीत.

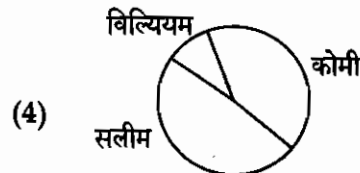
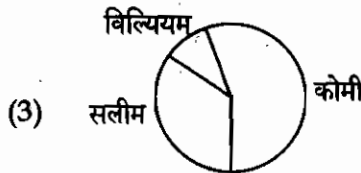
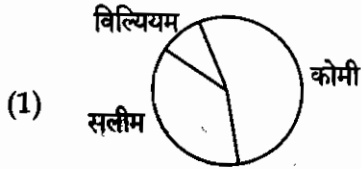
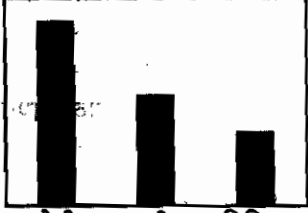
A and B decide to travel from place X to place Y by bus. A has ₹ 10 with him and he finds that it is 80% of the bus fare of two persons. B finds that he has ₹ 3 with him and hands it over to A. In this context select to the correct statement from options.

- (1) A still needs ₹ 2 for buying 2 tickets.
- (2) A is left with 50 paise after purchasing 2 tickets.
- (3) Now A has exact money to buy tickets.
- (4) Now A has not sufficient money to buy two tickets.

कच्च्या कामासाठी जागा / SPACE FOR ROUGH WORK

25. तीन मित्रांच्या खात्यांत वर्षाच्या सुरुवातीला असलेली रक्कम सोबतच्या स्तंभालेखात दाखवल्यानुसार होती. आतापर्यंत त्यांनी समान रक्कम खर्च केली आहे आणि सलीमच्या खात्यातील रक्कम निम्मे झाली आहे. पर्यायांतून त्यांच्या खात्यातील आताच्या रकमांचे सर्वांत जवळचे असू शकणारे वर्तुळ खंडात्मक प्रतिरूपण निवडा.


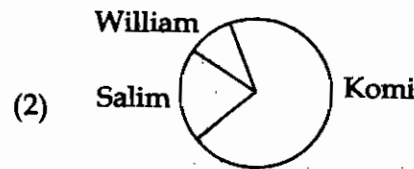

खात्यामधील शिल्लक



Money in the accounts at the beginning of the year that three friends had as shown in the accompanying bar graph. They did spend equal amount till now from their accounts and the account of Salim is halved.

Select from the options that would represent the pie chart that most closely represents amount in their account now.

Account Balance



कच्च्या कामासाठी जागा / SPACE FOR ROUGH WORK

P.T.O.

26. A\$B चा अर्थ A, B चे वडील आहेत; A#B चा अर्थ A, B ची बहीण आहे; A*B चा अर्थ A, B ची मुलगी आहे आणि A@B चा अर्थ A, B चा भाऊ आहे. M, Q ची बायको आहे हे दर्शवणारा पर्याय निवडा.

- (1) Q\$R#T@M (2) Q\$R@T#M (3) Q\$R*T#M (4) Q\$R@T*M

A\$B means A is the father of B; A#B means A is the sister of B; A*B means A is the daughter of B and A@B means A is the brother of B. Select the following that indicate 'M is the wife of Q'.

- (1) Q\$R#T@M (2) Q\$R@T#M (3) Q\$R*T#M (4) Q\$R@T*M

27. 7 : 3 असे कर्मचाऱ्यांचे व्यवस्थापकाशी प्रमाण असलेल्या एका कारखान्यातील 70% कर्मचारी व 30% व्यवस्थापक कॅन्टीन मध्ये जेवण घेतात. तर कॅन्टीन मध्ये जेवण घेणाऱ्यांचे एकूण प्रमाण किती % आहे ?

- (1) 100% (2) 58% (3) 95% (4) 45%

The ratio of employee to manager is 7 : 3. 70% of the employees and 30% of the managers take lunch in the canteen. What % of total work force takes lunch in canteen ?

- (1) 100% (2) 58% (3) 95% (4) 45%

28. एका स्पर्धा परीक्षेत ऋण गुणदान आहे. एक प्रश्न बरोबर सोडवल्यास 5 गुण तर एक प्रश्न चुकीचा सोडवल्यास -2 गुण मिळतात. रोहितने 50 प्रश्न सोडवले त्याला 145 गुण मिळले तर त्याने किती प्रश्न बरोबर सोडवले ?

- (1) 13 (2) 15 (3) 35 (4) 45

There is negative marking system in a competitive exam. If a question is right it gets 5 marks and if a question is wrong it gets -2 marks. Rohit attempted 50 question and he got 145 marks.

How many right questions did he solve ?

- (1) 13 (2) 15 (3) 35 (4) 45

29. वार्षिक हॉकी साखळी स्पर्धेच्या पहिल्या टप्प्यात सहभागी झालेले एकूण 32 संघ 4 गटांच्या 8 भागात विभागले. प्रत्येक गटातील सर्व संघ एकदा एकमेकांबरोबर खेळतात. नंतर गट विजेते बाद फेरी, उपांत्यपूर्व फेरी, उपांत्य फेरी आणि अंतिम फेरी अशी प्रगती करतात. थोडक्यात सर्व संघ किमान 3 सामने खेळतात. त्याचवेळी अंतिम सामन्यात उतरलेले दोन संघ सह सामने खेळतात. विजेत्या संघाला चषक देण्याबरोबर स्पर्धेच्या दरम्यान सर्वांत जास्त सरासरी गोल करणाऱ्या संघालाही पारितोषिक दिले जाते. गतवर्षी चक्रवात संघाने 4.75 ही सरासरी गाठून 'उच्च सरासरी पारितोषिक' जिंकले.

गत वर्षाच्या चक्रवात संघाच्या प्रगतीचे वर्णन करणारा पर्याय निवडा.

- (1) फक्त पहिल्या फेरीपर्यंत (2) फक्त उपांत्यपूर्व फेरीपर्यंत
(3) फक्त उपांत्य फेरीपर्यंत (4) अंतिम फेरीत पोहोचला

In the first phase of the annual Hockey Tournament the 32 participating teams are divided into 8 groups of 4. In each group all the teams play each other once. The group winners progress to the knockout phase, which consists of quarter-finals, semi-finals and the final. This means that all the teams play at least 3 matches, whilst the two teams that contest the final play 6 matches. Along with awarding the trophy to winning team, the team that makes highest average number of goals during the tournament is also awarded. Last year the team 'chakravata' won the 'highest average award' by scoring an average 4.75.

Select the option that describes the last year's progress of 'chakravata' team.

- (1) Only till first round (2) Only up to quarter finals
(3) Only up to semi-finals (4) Reached to the finals

कळ्या कामासाठी जागा / SPACE FOR ROUGH WORK

30. N हा वर्गात 5 व्या क्रमांकावर आहे. S हा शेवटच्या क्रमांकावरून 8 वा आहे. जर T हा N नंतर सहावा आणि N आणि S च्या मध्यभागी असेल, तर वर्गात किती विद्यार्थी आहेत ?

- (1) 23 (2) 24 (3) 25 (4) 26

N ranks fifth in the class. S is eighth from the last. If T is sixth after N and just in the middle of N and S. Then how many students are there in a class ?

- (1) 23 (2) 24 (3) 25 (4) 26

31. जर 14 मजूर रोज 6 तास काम करून 21 खेळणी बनवतात तर 8 मजूर रोज 7 तास काम करून किती खेळणी बनवतील ?

- (1) 12 (2) 14 (3) 16 (4) 18

If 14 labours make 21 toys by working 6 hrs, daily then how many toys will make by 8 labours by working daily 7 hrs. ?

- (1) 12 (2) 14 (3) 16 (4) 18

32. शिशुवर्गात 50 विद्यार्थी आहेत. काही विद्यार्थी फक्त इंग्रजी बोलतात आणि काही फक्त हिन्दीतून संवाद साधतात. 10 विद्यार्थी या दोन्ही भाषांतून अस्खलितपणे संवाद साधतात. जर इंग्रजीत संवाद साधणाऱ्यांची संख्या 21 असेल तर अनुक्रमे हिन्दी बोलणाऱ्यांची, फक्त हिन्दी बोलणाऱ्यांची व फक्त इंग्रजी बोलणाऱ्यांची संख्या दर्शवणारा पर्याय निवडा.

- (1) अनुक्रमे 21, 11 व 29 (2) अनुक्रमे 27, 18 व 22
(3) अनुक्रमे 37, 27 व 13 (4) अनुक्रमे 39, 29 व 11

There are 50 students in the nursery class. Some students can speak English only and some can converse in only Hindi. 10 students can converse fluently in both these languages. If number of students conversing in English is 21 then select the option indicating the number of student those speak Hindi, number of students those only Hindi and number of students those can speak only English respectively.

- (1) 21, 11 and 29 respectively (2) 27, 18 and 22 respectively
(3) 37, 27 and 13 respectively (4) 39, 29 and 11 respectively

33. पर्यावरण संवर्धनासाठी जलवायुमान बदलाचे परिणाम कमी करण्यात सर्वसाधारण लोकांना स्वारस्य असते. परंतु वायुमान बदलाला प्रतिसाद देऊन पर्यावरणाची काळजी घेण्याऐवजी मानव प्रजाती टिकवून ठेवण्याला प्राधान्य दिले पाहिजे. पृथ्वी ग्रहाच्या दहा हजार वर्षांच्या इतिहासानुसार तापमानाचे सापेक्ष स्थैर्य दुर्मिळ होते. निसर्ग सातत्याने मोठ्या तापमान बदलांशी जुळवून घेत होता. परंतु हवामान विश्वसाह आणि अटकळ बांधण्याजोगे असतानाच्या कालखंडादरम्यान मानव संस्कृती उत्क्रांत होत होत्या. निसर्ग संतत बदलत राहतो पण मानव संस्कृतीवर हवामान बदलाचा घातक परिणाम होईल.

दिलेल्यापैकी वरील युक्तिवादाच्या मुख्य निष्कर्षाची उचित अभिव्यक्ती करणारा एक पर्याय निवडा.

- (1) लोक पर्यावरण संवर्धनासाठी हवामान बदल धोरणांना प्रतिसाद देतात.
- (2) निसर्गापेक्षा मानव प्रजातीला तगवण्यासाठी हवामान बदलाचे व्यवस्थापन करणे अधिक महत्वाचे आहे.
- (3) आता पर्यंत मानव संस्कृती मोठ्या हवामान बदलाला सामोऱ्या गेलेल्या नाहीत.
- (4) निसर्ग जुळवून घेण्याचा मार्ग शोधेल परंतु हवामान बदलांचा मानवांवर फार त्रासदायक परिणाम होईल.

Generally people are interested in conserving environment by reducing the effects of climate. But instead taking care of environment by responding to climate change priority should be given to preserving human species. As per the ten thousand years history of the planet earth there was rarely relative stability of temperatures. Nature has been adapting to large temperature variations continually. But the human civilisations that have evolved during time span have developed during a period, when weather was reliable and predictable. The nature will keep on changing but climate change will impact human civilisations severely.

Select the one option that appropriately expresses the main conclusion of the above argument.

- (1) People respond to climate change policies in order to conserve environment
- (2) Acting to manage climate change is more important for the survival of human species than for nature
- (3) Human civilisations have not been exposed to large variations in temperature till now
- (4) Nature will find a way to adapt, but humans will get severely impacted by climate change

कच्च्या कामासाठी जागा / SPACE FOR ROUGH WORK

34. जर $A \times B$ चा अर्थ A, B च्या दक्षिणेला आहे; $A + B$ चा अर्थ आहे A, B च्या उत्तरेला आहे; $A \% B$ चा अर्थ A, B च्या पूर्वेला आहे; $A - B$ चा अर्थ A, B च्या पश्चिमेला आहे; तर ' $P \% Q + R - S$ ', Q च्या संदर्भात S ची दिशा निवडा.

- (1) ईशान्य (2) वायव्य (3) नैऋत्य (4) आग्नेय

If $A \times B$ means A is to the south of B; $A + B$ means A is to the north of B; $A \% B$ means A is to the east of B; $A - B$ means A is to the west of B; then as per ' $P \% Q + R - S$ ', select the direction of S with respect to Q :

- (1) North-east (2) North-west (3) South-west (4) South-east

35. पुढे दिलेल्या युक्तिवादापाठच्या तत्वाचे सर्वात उत्तम विवरण दिलेल्या पर्यायांतून निवडा.

जरी काही वाहन मालक फक्त 200 किमी आणि काही 2000 किमी रस्ता वापरतात तरी सर्वजण सारखाच रस्ताकर भरतात. हे न्याय्य नाही. महसूल मिळवण्यासाठी रस्ताकर रद्द करून इंधनावरील कर वाढवण्याची गरज आहे. या करप्रणालीमुळे जास्त प्रमाणात रस्ता वापरणारे खात्रीने जास्त पैसे भरतील. ही न्याय्य प्रणाली आहे आणि ती अधिक महसूल मिळवायला मदत देईल.

- (1) दूरदर्शन वाहिन्या पाहणाऱ्या लोकांना त्या वाहिन्यांना त्यांची वर्गणी भरायला लावली पाहिजे म्हणजे फक्त त्या वाहिन्या पाहणाऱ्यांनाच पैसे मोजावे लागतील.
 (2) फक्त पैसे देणे शक्य होत नसेल तरच मुलींना विनामूल्य शिक्षण मिळायला हवे.
 (3) विश्रांतीगृह मालकांनी घरगुती ग्राहकांपेक्षा जास्त पाणीपट्टी मोजली पाहिजे कारण प्रणाली वापरून ते नफा मिळवतात.
 (4) वैद्यकीय उपचारांसाठी पगारी लोकांनी रोजंदारी करणाऱ्यांपेक्षा जादा शुल्क मोजायला हवे.

Select from options given, the best illustration of principle underlying argument given below.

All motorist pay same road tax though some of them cover only 200 km and some cover 2000 km. This is not fair. It is necessary to do away with the road tax and tax on fuel should be increased to get revenue. This taxing system will ensure that those who use roads more will be paying more. This system is fair system and will help to earn more revenue.

- (1) People who watch television channels should be made to pay those channels by subscription so only people watching those channels only have to pay
 (2) Girls should receive free education only if they cannot afford to pay for it
 (3) Water charges should be higher for restaurant owners than for domestic customers as they are earning profit by using the system
 (4) Salaried persons should pay more for medical treatment than those who are daily wagers

कच्च्या कामासाठी जागा / SPACE FOR ROUGH WORK

P.T.O.

36. 8 वर्षांपूर्वी नेहा व रेखा यांच्या वयांचे गुणोत्तर 2 : 5 होते आज त्यांच्या वयांचे गुणोत्तर 1 : 2 आहे. तर नेहाचे आजचे वय किती ?
 (1) 20 वर्षे (2) 22 वर्षे (3) 25 वर्षे (4) 24 वर्षे

If 8 year ago, the ages of Neha and Rekha were in the ratio 2 : 5 and the ratio of today's ages is 1 : 2, then what is today's age of Neha ?

- (1) 20 yrs (2) 22 yrs (3) 25 yrs (4) 24 yrs

37. जर एका वर्तुळात विशालकंसाचे माप हे त्याच्या लघुकंसाच्या मापाच्या पाचपटीपेक्षा 48° ने अधिक आहे तर त्याच्या विशालकंसाचे माप किती ?

- (1) 52° (2) 308° (3) 312° (4) 132°

If measurement of major arc of a circle is more than 48° of 5 times of its minor arc then what is the measurement of major arc of a circle ?

- (1) 52° (2) 308° (3) 312° (4) 132°

38. $\frac{18.84 \times 12.56}{6.28} \times \frac{21.98}{15.70} \div \frac{9.42 \times 3.14}{25.12} = ?$

- (1) 11.2 (2) 22.4 (3) 33.6 (4) 44.8

$\frac{18.84 \times 12.56}{6.28} \times \frac{21.98}{15.70} \div \frac{9.42 \times 3.14}{25.12} = ?$

- (1) 11.2 (2) 22.4 (3) 33.6 (4) 44.8

39. दोन संख्यांची बेरीज 85 आहे व त्यांची वजाबाकी 15 आहे तर त्या संख्यांचे गुणोत्तर किती ?

- (1) 10 : 7 (2) 5 : 3 (3) 27 : 5 (4) 5 : 1

If addition and subtraction of two numbers are 85 and 15 respectively then what is the ratio of these two numbers ?

- (1) 10 : 7 (2) 5 : 3 (3) 27 : 5 (4) 5 : 1

40. एक ₹ 4,000 किमतीची वस्तु 10% सुट देवून विकल्यास आलेल्या किमतीवर मंदीमुळे परत 5% सुट दिली तर त्या वस्तुची विक्री किंमत किती ?

- (1) ₹ 3,420 (2) ₹ 3,500 (3) ₹ 3,600 (4) ₹ 3,400

An article worth ₹ 4,000 is sold at 10% discount and further discount of 5% is given due to off season. What is the selling price of article ?

- (1) ₹ 3,420 (2) ₹ 3,500 (3) ₹ 3,600 (4) ₹ 3,400

कच्चा कामासाठी जागा / SPACE FOR ROUGH WORK

41. सोडवा : $\frac{(x^2-y^2)(x^2+2xy+y^2)}{(x+y)^3} = ?$

- (1) $x-y$ (2) $x+y$ (3) x^2-y^2 (4) x^2+y^2

Solve : $\frac{(x^2-y^2)(x^2+2xy+y^2)}{(x+y)^3} = ?$

- (1) $x-y$ (2) $x+y$ (3) x^2-y^2 (4) x^2+y^2

42. जे काम संजु 45 दिवसात करतो तेच काम राजु 30 दिवसात करतो. तर ते दोघे मिळून तेच काम किती दिवसात करतील ?

- (1) 15 (2) 18 (3) 22 (4) 20

Sanju finishes a work in 45 days, Raju finishes the same work in 30 days. In how many days will both finish the same work together ?

- (1) 15 (2) 18 (3) 22 (4) 20

43. रमेशला कापडाच्या ₹ 1650 बिलावर 14% सुट मिळाली तर ते कापड त्याला केवढ्यास मिळाले ?

- (1) ₹ 1485 (2) ₹ 1376 (3) ₹ 1419 (4) ₹ 1353

If Ramesh got 14% discount on purchase of cloths of ₹ 1650 then how much rupees did he pay for purchasing cloths ?

- (1) ₹ 1485 (2) ₹ 1376 (3) ₹ 1419 (4) ₹ 1353

44. खालीलपैकी सर्वात मोठी संख्या कोणती ?

- (1) 280.98 (2) 280.99 (3) 280.100 (4) 280.101

Which of the following is the largest number ?

- (1) 280.98 (2) 280.99 (3) 280.100 (4) 280.101

45. एका दुकानदाराने 18 शर्ट ₹ 2,800 ला विकल्यास ₹ 80 तोटा झाला, तर प्रत्येक शर्टची खरेदी किंमत किती ?

- (1) ₹ 150 (2) ₹ 140 (3) ₹ 160 (4) ₹ 180

If a shopkeeper sells 18 shirts for ₹ 2,800, he suffers a loss of ₹ 80. What is the cost price of each shirt ?

- (1) ₹ 150 (2) ₹ 140 (3) ₹ 160 (4) ₹ 180

कच्च्या कामासाठी जागा / SPACE FOR ROUGH WORK

P.T.O.

46. एक नैसर्गिक संख्या व तिची गुणाकार व्यस्त संख्या यांची बेरीज $\frac{50}{7}$ असेल तर ती संख्या कोणती ?

- (1) 7 (2) 8 (3) 9 (4) 3

A sum of natural number and its multiplicative inverse is $\frac{50}{7}$. What is a natural number ?

- (1) 7 (2) 8 (3) 9 (4) 3

47. 3689*5 या संख्येला 11 ने पूर्ण भाग जाण्यासाठी * च्या ठिकाणी खालीलपैकी कोणता अंक असावा ?

- (1) 5 (2) 9 (3) 4 (4) 7

Which digit from below should be in place of * so that 3689*5 will be completely divisible by 11 ?

- (1) 5 (2) 9 (3) 4 (4) 7

48. एका 70 व्यक्तींच्या गटात, 28 व्यक्ती फक्त चहा पितात, 32 व्यक्ती चहा व दूध पितात तर फक्त दूध पिणाऱ्यांची संख्या किती ?

- (1) 12 (2) 10 (3) 14 (4) 38

In a group of 70 persons, 28 drinks only tea, 32 drinks both tea and milk, how many persons drinks milk only ?

- (1) 12 (2) 10 (3) 14 (4) 38

49. सार्थकने ₹ 3.25 प्रति समोसाप्रमाणे 60 समोसे खरेदी केले. जर त्याने त्याऐवजी ₹ 39 प्रति कि.ग्रॅ. प्रमाणे मिठाई घेतली असती तर त्याला किती मिठाई मिळाली असती ?

- (1) 2 कि.ग्रॅ. (2) 5 कि.ग्रॅ. (3) 500 ग्रॅम (4) 4 कि.ग्रॅ.

Sarthak bought 60 sammosas at the rate of ₹ 3.25 per sammosa. Instead had he bought sweet at the rate of ₹ 39 per kg. How much of sweet could he have bought ?

- (1) 2 kg (2) 5 kg (3) 500 gm (4) 4 kg

कच्च्या कामासाठी जागा / SPACE FOR ROUGH WORK

50. जर $\frac{7}{8}, \frac{5}{9}, \frac{3}{5}, \frac{1}{4}$ आणि $\frac{1}{3}$ हे अपूर्णांक चढत्या क्रमाने लावले तर पहिल्या व शेवटच्या अपूर्णाकांची बेरीज किती ?

- (1) $\frac{2}{3}$ (2) $\frac{9}{8}$ (3) $\frac{29}{24}$ (4) $\frac{5}{13}$

If we arrange the fractions $\frac{7}{8}, \frac{5}{9}, \frac{3}{5}, \frac{1}{4}$ and $\frac{1}{3}$ in increasing order then what is sum of first and last fraction ?

- (1) $\frac{2}{3}$ (2) $\frac{9}{8}$ (3) $\frac{29}{24}$ (4) $\frac{5}{13}$

51. एका दूकानदाराने वस्तुंच्या किमती शेंकडा 15 ने वाढवून लिहील्या आणि त्या किमतीवर शेंकडा 5 सुट दिली तर त्याला शेंकडा नफा किती झाला ?

- (1) 9% (2) 9.25% (3) 9.50% (4) 9.75%

If seller increased selling price by 15% with writing on that thing and he gave 5% discount on that written price of that thing, then how much percentage in profit did he get ?

- (1) 9% (2) 9.25% (3) 9.50% (4) 9.75%

52. जर $(16)^2 \times (8^m)^2 = 2^{26}$, तर $m = ?$

- (1) 4 (2) 3 (3) 7 (4) 5

If $(16)^2 \times (8^m)^2 = 2^{26}$, then $m = ?$

- (1) 4 (2) 3 (3) 7 (4) 5

53. दोन वर्षापूर्वी पेट्रोलचा दर प्रति लिटर ₹ 90 होता आणि यावर्षी तो प्रतिलिटर ₹ 120 झाला. तर पेट्रोलच्या दरात शेंकडा वाढ किती ?

- (1) 33.33 (2) 66.66 (3) 25 (4) 35

If 2 year ago, the price of petrol was ₹ 90 per litre and today it is ₹ 120 per litre. What is the percentage increase in price of petrol ?

- (1) 33.33 (2) 66.66 (3) 25 (4) 35

कच्च्या कामासाठी जागा / SPACE FOR ROUGH WORK

P.T.O.

54. दोन क्रमवार संख्याचा गुणाकार 4692 आहे तर त्यातील लहान संख्या कोणती ?

- (1) 66 (2) 63 (3) 68 (4) 73

If product of two consecutive number is 4692 then which is smallest number among them ?

- (1) 66 (2) 63 (3) 68 (4) 73

55. दोन क्रमवार संख्यांच्या वर्गातील फरक 31 आहे तर त्या संख्या कोणत्या ?

- (1) 13 व 14 (2) 14 व 15 (3) 15 व 16 (4) 16 व 17

If difference between square of two consecutive numbers is 31 then which of these numbers ?

- (1) 13 and 14 (2) 14 and 15 (3) 15 and 16 (4) 16 and 17

56. माहिती अधिकार कायदा 2005 नुसार प्रथम अपिलीय अधिकारी यांनी प्रथम अपीलाचा निर्णय किती दिवसात द्यावा ?

- (a) 30 दिवसात
(b) अपवादात्मक परिस्थितीत, कारणे नोंदवून 45 दिवसात
(c) अशी कोणतीही कालमर्यादा या कायद्यात दिलेली नाही

पर्यायी उत्तरे :

- (1) फक्त (a) (2) फक्त (c)
(3) (a) आणि (b) खरे आहेत (4) वरीलपैकी कोणतेही नाही

Within how many days a first appeal be disposed by first appellate authority, under the RTI Act 2005 ?

- (a) Within 30 days
(b) Within 45 days in exceptional cases, by stating reasons
(c) No such time limit is provided in the Act

Answer options :

- (1) Only (a) (2) Only (c)
(3) (a) and (b) are true (4) None of the above

कच्च्या कामासाठी जागा / SPACE FOR ROUGH WORK

57. माहितीचा अधिकार 2005 प्रमाणे प्रत्येक सार्वजनिक प्राधिकरण हा अधिनियम अधिनियमीत झाल्यापासून _____ दिवसांच्या आत आपली संस्था, कार्ये व कर्तव्ये यांचा तपशील प्रसिद्ध करील आणि त्यानंतर दरवर्षी ती प्रकाशने अद्ययावत करील.

- (1) 30 (2) 60 (3) 90 (4) 120

As per Right to Information Act 2005 Every Public Authority shall publish within _____ days from the enrolment of this act the particulars of its organisation, functions and duties and theme after update these publications every year.

- (1) 30 (2) 60 (3) 90 (4) 120

58. माहिती अधिकार कायदा 2005 चा मुख्य उद्देश आहे :

- (a) शासकीय कामात पारदर्शकता आणि उत्तरदायित्व यास प्रोत्साहन देणे.
 (b) शासकीय कार्यालयावर नियंत्रण ठेवण्याचे अमर्याद अधिकार नागरिकांना देणे.
 (c) शासकीय कार्यालयाच्या कामात हस्तक्षेप करण्याचे मर्यादित अधिकार नागरिकांना देणे.
 (d) भ्रष्टाचारावर अंकुश लावणे.

पर्यायी उत्तरे :

- (1) फक्त (b) आणि (c) बरोबर (2) फक्त (a) आणि (d) बरोबर
 (3) सर्व बरोबर आहेत (4) वरील पैकी नाही

The main object of RTI Act 2005 is :

- (a) To promote transparency and accountability in working of Government.
 (b) To give unlimited powers to citizen to have control over Government offices.
 (c) To give limited powers to citizens to interfere in working of Govt. offices.
 (d) To combat corruption.

Answer options :

- (1) Only (b) and (c) are right (2) Only (a) and (d) are right
 (3) All are right (4) None of the above

कच्च्या कामासाठी जागा / SPACE FOR ROUGH WORK

P.T.O.

59. माहिती अधिकार कायद्यांतर्गत मागीतलेली माहिती जेथे व्यक्तीच्या जीवीत अथवा स्वतंत्रतेशी संबंधित असेल, ती माहिती विनंती अर्ज प्राप्त झाल्यानंतर _____ च्या आत देण्यात यावी.

- (1) 72 तास (2) 48 तास (3) 24 तास (4) 36 तास

Where the information sought under the Right to Information Act is concerned with the life or liberty of a person, the same shall be provided within _____ of the receipt of request.

- (1) 72 Hours (2) 48 Hours (3) 24 Hours (4) 36 Hours

60. माहिती अधिकार कायदा 2005 च्या कक्षेतून वगळली असल्याने खालील कोणती संस्था या कायद्यांतर्गत येत नाही ?

- (a) अंमलीपदार्थ विरोधी यंत्रणा
(b) राज्याने निर्मित कोणतेही विद्यापीठ
(c) केंद्राने निर्मित कोणतेही विद्यापीठ

पर्यायी उत्तरे :

- (1) फक्त (b) आणि (c) (2) फक्त (a)
(3) (a), (b), (c) पैकी कोणतेही नाही (4) (a), (b), (c) हे सर्व

Which of the following organization don't come under the scope of Right to Information Act 2005 as being exempted organization ?

- (a) Narcotics Control Bureau
(b) Any State University
(c) Any Central University

Answer options :

- (1) Only (b) and (c) (2) Only (a)
(3) None of (a), (b), (c) (4) All among (a), (b), (c)

61. माहिती व तंत्रज्ञान विभागाने भारत सरकारच्या संकेतस्थळासाठी जी नियमावली तयार केली त्यास _____ नॉर्म असे म्हणतात.

- (1) डब्ल्यु.एन.जी.डब्ल्यु. (2) एन.एफ.जी.डब्ल्यु.
(3) डब्ल्यु.आय.जी.डब्ल्यु. (4) जी.आय.जी.डब्ल्यु.

Department of Information Technology has created a guide lines for Indian Government websites, and it is known as _____ norms.

- (1) WNGW (2) NFGW
(3) WIGW (4) GIGW

कच्च्या कामासाठी जागा / SPACE FOR ROUGH WORK

62. "डिजिटल इंडीया" मुव्हमेंट मधे सर्व ए.पी.एम.सी. मार्केटना जोडणारी व सर्वांना सर्व माहिती देणारी पोर्टल _____ या नावे ओळखले जाते.

- (1) इ-ए.पी.एम.सी. (2) इ-नाम (3) आय-ए.पी.एम.सी (4) आय-मार्केट

_____ portal provides a single window to all APMC related information and services in Digital India Movement.

- (1) E-APMC (2) e-Nam (3) i-APMC (4) i-market

63. मिडीया लॅब एशियाची शैक्षणिक क्षेत्राला मदत देणारी _____ ही सिस्टीम आहे.

- (1) धारा (2) जिवनदीप (3) सहायीका (4) इ-सिस

_____ is a system developed by Media lab Asia to support educational domain.

- (1) Dhara (2) Jeevandeep (3) Sahayika (4) E-sys

64. नॅशनल इन्फोमॅटिक्स सेंटरने नॅशनल अग्रीकल्चर मार्केट अटलास या नावे तयार केलेल्या GIS (जी आय एस) सिस्टीम चे नाव _____ आहे.

- (1) ए.एम.जी.आय.एस. (2) एन.ए.एम.ए. (3) ए.एम.ए.जी. (4) ए.एम.ए.एन.

National Informatics Center has created National Agriculture Market Atlas known as _____ GIS.

- (1) AMGIS (2) NAMA (3) AMAG (4) AMAN

65. सी डॅक ने तयार केलेले वेब बेस "पॉवर मॉनिटरिंग अण्ड कंट्रोलिंग टूल" ज्यामुळे जास्तीत जास्त वीज वाचवून वापर केला जातो त्यास _____ म्हणतात.

- (1) ए-मॅक (2) डी-मॅक (3) पी-मॅक (4) एम-मॅक

_____ is a unified web based 'power monitoring and controlling tool' used for power optimization developed by C-DAC.

- (1) A-MAC (2) D-MAC (3) P-MAC (4) M-MAC

66. सूक्ष्म विमामध्ये किती रक्कमेपर्यंतची विमापत्रके विमाकर्ता निर्गमित करू शकतो ?

- (1) 5,00,000 (2) 1,00,000 (3) 50,000 (4) 75,000

In case of micro insurance, upto what amount can the insurer issue a policy ?

- (1) 5,00,000 (2) 1,00,000 (3) 50,000 (4) 75,000

67. भारतात विम्याची औपचारिक सुरुवात कोणत्या शतकात झाली ?

- (1) अठराव्या शतकात (2) सोळाव्या शतकात
(3) एकोणिसाव्या शतकात (4) विसाव्या शतकात

In which century insurance began formally in India ?

- (1) 18th century (2) 16th century
(3) 19th century (4) 20th century

68. खालील विधाने खरी आहेत किंवा खोटी याची उत्तरे द्या.

- (a) पुनर्विमा बाजारात प्राथमिक विमाकर्ता कंपनीला "ceding company" म्हणतात.
(b) प्राथमिक विमाकर्त्याने वितरीत केलेली जोखीम पुनर्विमाकर्ता स्विकारतो.

पर्यायी उत्तरे :

- (1) फक्त (a) खरे (2) फक्त (b) खरे
(3) (a) आणि (b) दोन्ही खरे (4) (a) आणि (b) दोन्ही खोटे

Give answers whether the following statements are true or false ?

- (a) The primary insurer is called "ceding company" in reinsurance market.
(b) The reinsurer accept the risk passes by primary insurer.

Answer options :

- (1) Only (a) is true (2) Only (b) is true
(3) (a) and (b) both are true (4) (a) and (b) both are false

कच्च्या कामासाठी जागा / SPACE FOR ROUGH WORK

69. खालीलपैकी कोणती कार्ये IRDA ची आहेत ?

- (a) विमा कंपन्यांद्वारे केलेल्या निधीच्या गुंतवणुकीचे नियमन करणे
- (b) सॉल्व्हन्सी मार्जिनच्या देखभालीचे नियमन करणे

पर्यायी उत्तरे :

- (1) फक्त (a) (2) फक्त (b) (3) (a) आणि (b) दोन्ही (4) वरीलपैकी नाही.

Which of the following are functions of IRDA ?

- (a) Regulating investment of the fund by insurance companies
- (b) Regulating maintenance of margin of solvency

Answer options :

- (1) Only (a) (2) Only (b) (3) (a) and (b) both (4) None of above

70. खालीलपैकी कोणता पुनर्विमा करार नाही ?

- (1) वैकल्पिक पुनर्विमा करार
- (2) अतिरीक्त पुनर्विमा करार
- (3) मूलभूत पुनर्विमा करार
- (4) वाटा पुनर्विमा करार

Which of the following is not a reinsurance treaty ?

- (1) Facilitative reinsurance treaty
- (2) Surplus reinsurance treaty
- (3) Fundamentals reinsurance treaty
- (4) Quota share reinsurance treaty

कच्च्या कामासाठी जागा / SPACE FOR ROUGH WORK

P.T.O.

71. पहिला भारतीय विमा कायदा पारित झाला :

- (1) 1938 (2) 1985 (3) 1912 (4) 1956

The first Indian Insurance Act was passed on :

- (1) 1938 (2) 1985 (3) 1912 (4) 1956

72. विमा कंपन्यांचा महसूल कोठून येतो ?

- (1) विमाधारकाने भरलेला विमाहप्त
 (2) विमा कंपनीने केलेल्या गुंतवणुकीवरील व्याजाचे उत्पन्न
 (3) विमा कंपनीने केलेल्या गुंतवणुकीवरील लाभांशाचे उत्पन्न
 (4) वरील सर्व

Where insurance companies revenue come from ?

- (1) Premium paid by insured
 (2) Income from interest on investment that insurance co. have made
 (3) Income from dividends on investment that insurance co. have made
 (4) All of above

73. धोक्याची संभाव्यता अंशतः अवलंबून असेल,

- (a) धोका किती वारंवारतेने येऊ शकतो
 (b) त्याचा प्रभाव किती गंभीर असू शकतो.

पर्यायी उत्तरे :

- (1) फक्त (a) बरोबर आहे (2) फक्त (b) बरोबर आहे
 (3) दोन्ही बरोबर आहेत (4) दोन्ही चुकीचे आहेत

The probability of risk will depend partly on,

- (a) How frequently the peril may occur.
 (b) How severe its impact can be

Answer options :

- (1) Only (a) is true (2) Only (b) is true
 (3) Both are true (4) Both are false

रुज्या कामासाथे जागा / SPACE FOR ROUGH WORK

74. अधिकार आणि दायित्वे हस्तांतरित करणारा पॉलिसीधारक _____ म्हणून ओळखला जातो.

- (1) अभिहस्तांकनकर्ता (2) अभिहस्तांकिती (3) अभिहस्तांकन (4) नामनिर्देशक

The policyholder who transfers the rights and liabilities is known as the _____.

- (1) assignor (2) assignee (3) assignment (4) nominatorer

75. _____ यांचेच नामांकन फक्त अनुकूल ठरते.

- (1) पती/पत्नी आणि मुले पालकांसह
 (2) जोडीदार आणि अल्पवयीन मुले
 (3) पालक, जोडीदार आणि मुले
 (4) कोणतीही व्यक्ति

A nomination can be made only in favour of _____.

- (1) Spouse and children with guardian
 (2) Spouse and minor children
 (3) Parents, spouse and children
 (4) Any individual

76. खालीलपैकी विमा बाजाराचा कोण सदस्य नाही ?

- (1) आय.आर.डी.ए. (2) टी.पी.ए. (3) एम.एम.आर.डी.ए. (4) सर्वेक्षक

Who among the following is not a member of insurance market ?

- (1) I.R.D.A. (2) T.P.A. (3) M.M.R.D.A. (4) Surveyors

कच्च्या कामासाठी जागा / SPACE FOR ROUGH WORK

P.T.O.

77. IRDA ही एक :

- (a) उद्योगावर नजर ठेवणारी
- (b) विमा नियामक
- (c) परवाना प्राधिकरण

पर्यायी उत्तरे :

- (1) फक्त (a) बरोबर आहे
- (2) (b) आणि (c) बरोबर आहेत
- (3) (a) आणि (b) बरोबर आहेत
- (4) वरील सर्व बरोबर आहेत

IRDA is the :

- (a) Industry watchdog
- (b) Insurance regulator
- (c) Licensing authority

Answer options :

- (1) Only (a) is true
- (2) (b) and (c) are true
- (3) (a) and (b) are true
- (4) All the above are true

78. भारतामध्ये जीवन विमा व्यवसाय सुरू करण्यासाठी किमान किती भांडवल आवश्यक आहे ?

- (1) ₹ 25 कोटी
- (2) ₹ 50 कोटी
- (3) ₹ 75 कोटी
- (4) ₹ 100 कोटी

How much is the minimum capital required for starting life insurance business in India ?

- (1) ₹ 25 crores
- (2) ₹ 50 crores
- (3) ₹ 75 crores
- (4) ₹ 100 crores

79. पिक विम्यामध्ये खालील कुठल्या अपरिहार्य परिस्थितीत विमा संरक्षण प्रदान करण्यात येते ?

- (a) हवामान कारणे जसे की - दुष्काळ, पूर, चक्रीवादळ
- (b) कीटक संसर्ग
- (c) वनस्पती रोग
- (d) दंगली आणि स्ट्राइक

पर्यायी उत्तरे :

- (1) फक्त (a)
- (2) (a) आणि (b)
- (3) (a), (b) आणि (c)
- (4) सर्व

In which of the following unavoidable conditions insurance cover is provided in Crop Insurance ?

- (a) Climate Factors like - Drought, Flood, Cyclone
- (b) Pest infection
- (c) Botanical diseases
- (d) Riots and strikes

Answer options :

- (1) Only (a)
- (2) (a) and (b)
- (3) (a), (b) and (c)
- (4) All

कच्च्या कामासाठी जागा / SPACE FOR ROUGH WORK

80. भारतात विमा क्षेत्रात जास्तीत जास्त किती थेट परकीय गुंतवणुकीला (FDI) परवानगी आहे ?

- (1) 26% (2) 49% (3) 74% (4) 100%

How much is the maximum Foreign Direct Investment (FDI) allowed in insurance sector in India ?

- (1) 26% (2) 49% (3) 74% (4) 100%

81. भारतीय जनरल इन्शुरन्स कॉर्पोरेशनची स्थापना _____ या द्वारे केली आहे.

- (1) संसदेचा कायदा
(2) विमा अधिनियम, 1938
(3) साधारण विमा व्यवसाय (राष्ट्रीयकरण) अधिनियम, 1972
(4) कर्मचारी राज्य विमा अधिनियम, 1948

General Insurance Corporation of India are established by _____

- (1) Acts of Parliament
(2) Insurance Act, 1938
(3) General Insurance Business (Nationalisation) Act, 1972
(4) Employees State Insurance Act, 1948

82. सार्वजनिक दायित्व विमा प्रकारामध्ये खालीलपैकी कोणत्या घटना मोडतात ?

- (1) अपघाती मृत्यू
(2) शारीरिक इजा
(3) विमाधारकाच्या हलगर्जीपणामुळे तृतीय पक्षांच्या मालमत्तेस झालेले नुकसान
(4) वरील सर्व

Which of the following incidents fall into the category of Public Liability Insurance ?

- (1) Accidental death
(2) Physical injury
(3) Damage to third party property due to negligence of the insured
(4) All of the above

83. _____ हा पॉलिसीधारक आहे जो पॉलिसीचे शीर्षक हस्तांतरित करतो.

- (1) नेमणूक झालेला (2) नामनिर्देशीत व्यक्ती (3) नेमणूक करणारा (4) पात्रवाहक

_____ is the policyholder who transfers the title of the policy.

- (1) Assignee (2) Nominee (3) Assignor (4) Consignee

84. मनी लॉडेरिंग प्रतिबंधक कायदा, 2002 _____ पासून अंमलात आला.

- (1) 1 जुलै 2005 (2) 1 सप्टेंबर 2005 (3) 1 जानेवारी 2000 (4) 1 जून 2003

The Prevention of Money Laundering Act (PMLA) 2002 was brought into force from :

- (1) 1st July 2005 (2) 1st Sept. 2005 (3) 1st Jan. 2000 (4) 1st June 2003

85. सार्वजनिक तक्रारीचे निवारण नियम 1998 मुळे ही प्रणाली तयार झाली :

- (1) विमा एजन्सी (2) विमा लोकपाल
(3) राज्य आयोग (4) ग्राहक मंच

Redressal of Public Grievance Rules 1998 created the system of :

- (1) Insurance agency (2) Insurance ombudsman
(3) State commission (4) Consumer forum

86. कलम 41 चा तरतुदीचे पालन करण्यात कोणतीही चूक करणारी व्यक्ती या दंडास पात्र ठरू शकते.

- (1) ₹ 100 (2) ₹ 500 (3) ₹ 1000 (4) ₹ 5000

Any person making default in complying with the provisions of section 41 shall be punishable with fine which may extend to :

- (1) ₹ 100 (2) ₹ 500 (3) ₹ 1000 (4) ₹ 5000

कच्चा कागसाची जागा / SPACE FOR ROUGH WORK

87. _____ चे तत्व विमाधारकाला एका पेक्षा अधिक विमा कंपनीकडे विमा करुन नफा न मिळण्याची खात्री करते.

- (1) योगदान (2) सहविमा (3) नुकसान भरपाई (4) विशेष सरासरी

The principle of _____ ensures that an insured doesnot profit by insuring with multiple insurers.

- (1) Contribution (2) Co-insurance (3) Indemnity (4) Particular average

88. खालीलपैकी कोणाचे अधिकार इतर तिघांपेक्षा वेगळे आहेत ?

- (1) जिल्हा मंच (2) राज्य आयोग
(3) राष्ट्रीय आयोग (4) कायदा आयोग

Which of the following authorities is dissimilar to another three ?

- (1) District Forum (2) State Commission
(3) National Commission (4) Law Commission

89. अर्थव्यवस्थेच्या बदलांच्या परिणामांमुळे आलेली जोखीम :

- (1) स्थिर धोका (2) सट्टा (3) गतिमान धोका (4) शुद्ध धोका

_____ risk are those resulting from changes in the economy.

- (1) Static risk (2) Speculative risk (3) Dynamic risk (4) Pure risk

90. _____ हा विमा संकीर्ण विमा प्रकारामध्ये येत नाही.

- (1) वाहन विमा (2) इमान हमी विमा
(3) आग विमा (4) आरोग्य विमा

_____ is not included in Miscellaneous Insurance.

- (1) Motor Insurance (2) Fidelity Insurance
(3) Fire Insurance (4) Health Insurance

कच्च्या कामासाठी जागा / SPACE FOR ROUGH WORK

P.T.O.

91. खालीलपैकी कोणते विमातत्व आहे ?

- | | |
|------------------------|-----------------|
| (1) विम्यातील स्वारस्य | (2) क्षतिपुर्ती |
| (3) अत्यंत सद्भावना | (4) वरील सर्व |

Which of the following is an insurance principle ?

- | | |
|------------------------|------------------|
| (1) Insurable interest | (2) Indemnity |
| (3) Utmost good faith | (4) All of above |

92. IRDA मध्ये एकूण _____ सदस्य आहेत.

- | | | | |
|-------|--------|--------|-------|
| (1) 9 | (2) 10 | (3) 11 | (4) 7 |
|-------|--------|--------|-------|

The total members in IRDA body are _____.

- | | | | |
|-------|--------|--------|-------|
| (1) 9 | (2) 10 | (3) 11 | (4) 7 |
|-------|--------|--------|-------|

93. जीवन विमामध्ये सामान्यतः वापरल्या जाणाऱ्या SA चा विस्तारीत फॉर्म निवडा.

- | | |
|--------------------------------|---|
| (1) विमा रक्कम (Sum Assured) | (2) पूरक आश्वासन (Supplementary Assurance) |
| (3) मुद्रांक कायदा (Stamp Act) | (4) वाचलेल्यांची वार्षिकी (Survivors Annuity) |

Select the expanded form of SA as commonly used in life insurance.

- | | |
|-----------------|-----------------------------|
| (1) Sum Assured | (2) Supplementary Assurance |
| (3) Stamp Act | (4) Survivors Annuity |

94. TPA साठी किमान किती भागभांडवल गरजेचे आहे ?

- | | |
|------------|------------------------|
| (1) 1 कोटी | (2) 10 कोटी |
| (3) 50 लाख | (4) किमान मर्यादा नाही |

How much is minimum share capital requirement for TPA ?

- | | |
|-------------|--|
| (1) 1 crore | (2) 10 crore |
| (3) 50 lakh | (4) No minimum share capital requirement |

कच्च्या कामासाठी जागा / SPACE FOR ROUGH WORK

95. भारतात, विमा कंपन्या विमाहप्ता गोळा करतात.

- (a) आगाऊ, गटात सदस्यांच्या प्रवेशाच्या वेळी
 (b) गोळा केलेल्या विमाहप्त्यामधून एक फंड तयार केला जातो आणि नुकसान झालेल्या सदस्यांच्या दाव्यांचा निपटारा करण्यासाठी वापरला जातो.

पर्यायी उत्तरे :

- (1) फक्त (a) बरोबर आहे (2) फक्त (b) बरोबर आहे
 (3) (a) आणि (b) दोन्हीही बरोबर आहेत (4) वरीलपैकी एकही नाही

In India, the premium is collected by insurance companies,

- (a) In advance at the time of admission of the member to the group
 (b) A fund is created from the premiums collected and is used to settle claims of members who suffer loss

Answer options :

- (1) Only (a) is true (2) Only (b) is true
 (3) (a) and (b) both are true (4) None of the above

96. विमा संचालनालयाचे विभाग प्रमुख कोण आहेत ?

- (1) विमा सचिव (2) विमा आयुक्त
 (3) विमा संचालक (4) विमा महासंचालक

Who is the Head of Department for Directorate of Insurance ?

- (1) Insurance Secretary (2) Commissioner of Insurance
 (3) Director of Insurance (4) Director General of Insurance

कच्च्या कामासाठी जागा / SPACE FOR ROUGH WORK

P.T.O.

97. महाराष्ट्र शासनाने शासकीय विमा निधीच्या व्यवस्थापनासाठी दि. _____ रोजी स्वतंत्र विमा संचालनालयाची स्थापना केली.

- | | |
|-----------------|---------------------|
| (1) 1 जुलै 1972 | (2) 1 सप्टेंबर 1972 |
| (3) 1 जुलै 1971 | (4) 1 सप्टेंबर 1971 |

The Government of Maharashtra established an Independent Insurance directorate on _____ for the management of Government Insurance funds ?

- | | |
|------------------|-----------------------|
| (1) July 1, 1972 | (2) September 1, 1972 |
| (3) July 1, 1971 | (4) September 1, 1971 |

98. विमासंचालनालयाचे उपसंचालक यांना अहवाल देतात :

- | | |
|---------------------------|-------------------|
| (1) संचालक | (2) सहसंचालक |
| (3) आहरण व सवितरण अधिकारी | (4) वरीलपैकी नाही |

Deputy Director of Directorate of Insurance reports to :

- | | |
|------------------------------------|-----------------------|
| (1) Director | (2) Joint Director |
| (3) Drawing and Disbursing officer | (4) None of the above |

कच्च्या कामासाठी जागा / SPACE FOR ROUGH WORK

99. शासकीय विमा निधी खालील विभागास विमा सेवा पुरवते,

- (a) राज्य सरकारी विभाग
- (b) निमशासकीय विभाग
- (c) राज्य वैधानिक संस्था
- (d) मंडळे किंवा संस्था ज्यामध्ये सरकारचे आर्थिक हितसंबंध गुंतले आहेत

पर्यायी उत्तरे :

- (1) फक्त (a) बरोबर
- (2) फक्त (a), (b) आणि (d) बरोबर
- (3) फक्त (a) आणि (b) बरोबर
- (4) वरील सर्व (a), (b), (c) आणि (d) बरोबर

The Government Insurance Fund provides insurance services to :

- (a) State Government Department
- (b) Semi Government Department
- (c) State Statutory Institutions
- (d) Boards or Institutions in which government having substantial financial interest

Answer optoins :

- (1) Only (a) is true
- (2) Only (a), (b) and (d) is true
- (3) Only (a) and (b) is true
- (4) All above (a), (b), (c) and (d) is true

100. विमा संचालनालयाचे प्रादेशिक कार्यालय कुठे आहे ?

- (1) पुणे
- (2) नाशिक
- (3) नागपूर
- (4) औरंगाबाद

Where is the Regional Office of Directorate of Insurance ?

- (1) Pune
- (2) Nashik
- (3) Nagpur
- (4) Aurangabad

- o O o -

कच्च्या कामासाठी जागा / SPACE FOR ROUGH WORK

P.T.O.

सूचना - (पृष्ठ 1 बरून पुढे....)

- (8) प्रश्नपुस्तिकेमध्ये विहित केलेल्या विशिष्ट जागीच कच्चे काम (रफ वर्क) करावे. प्रश्नपुस्तिकेव्यतिरिक्त उत्तरपत्रिकेवर वा इतर कागदावर कच्चे काम केल्यास ते कॉपी करण्याच्या उद्देशाने केले आहे, असे मानले जाईल व त्यानुसार उमेदवारावर शासनाने जारी केलेल्या "परीक्षांमध्ये होणाऱ्या गैरप्रकारांना प्रतिबंध करण्याबाबतचे अधिनियम-82" यातील तरतुदीनुसार कारवाई करण्यात येईल व दोषी व्यक्ती कमाल एक वर्षाच्या कारावासाच्या आणि/किंवा रुपये एक हजार रकमेच्या दंडाच्या शिक्षेस पात्र होईल.
- (9) सदर प्रश्नपत्रिकेसाठी आयोगाने विहित केलेली वेळ संपल्यानंतर उमेदवारांला ही प्रश्नपुस्तिका स्वतःबरोबर परीक्षाकक्षाबाहेर घेऊन जाण्यास परवानगी आहे. मात्र परीक्षाकक्षाबाहेर जाण्यापूर्वी उमेदवाराने आपल्या उत्तरपत्रिकेचा भाग-1 सम्बन्धितकाकडे न विसरता पस्त करणे आवश्यक आहे.

नमुना प्रश्न

प्र. क्र. 201. सतीची चाल नष्ट करण्यासाठी कोणी मूलतः प्रयत्न केले ?

- (1) स्वामी दयानंद सरस्वती (2) ईश्वरचंद्र विद्यासागर
(3) राजा राममोहन रॉय (4) गोपालकृष्ण गोखले

ह्या प्रश्नाचे योग्य उत्तर "(3) राजा राममोहन रॉय" असे आहे. त्यामुळे या प्रश्नाचे उत्तर "(3)" होईल. यास्तव खालीलप्रमाणे प्रश्न क्र. 201 समोरील उत्तर-क्रमांक "3" हे वर्तुळ पूर्णपणे छायांकित करून दाखविणे आवश्यक आहे.

प्र. क्र. 201. ① ② ● ④

अशा पद्धतीने प्रस्तुत प्रश्नपुस्तिकेतील प्रत्येक प्रश्नाचा तुमचा उत्तर-क्रमांक हा तुम्हाला स्वतंत्ररीत्या पुरविलेल्या उत्तरपत्रिकेवरील त्या त्या प्रश्नक्रमांकासमोरील संबंधित वर्तुळ पूर्णपणे छायांकित करून दाखवावा. ह्याकरिता फक्त काळ्या शाईचे बॉल्पेन वापरावे, पेन्सिल वा शाईचे पेन वापरू नये.

कच्च्या कामासाठी जागा / SPACE FOR ROUGH WORK