

→ संच क्रमांक

2017

प्रश्नपुस्तिका क्रमांक

BOOKLET NO.

प्रश्नपुस्तिका

मराठी, इंग्रजी, सामान्य ज्ञान, बुद्धिमत्ता चाचणी,

एकूण प्रश्न : 200

वेळ : 2 (दोन) तास

मूलभूत गणितीय कौशल्य आणि पुस्तपालन व लेखाकर्म

एकूण गुण : 400

सूचना

- (1) सदर प्रश्नपुस्तिकेत 200 अनिवार्य प्रश्न आहेत. उमेदवारांनी प्रश्नांची उत्तरे लिहिण्यास सुरुवात करण्यापूर्वी या प्रश्नपुस्तिकेत सर्व प्रश्न आहेत किंवा नाहीत याची खात्री करून घ्यावी. तसेच अन्य काही दोष आढळल्यास ही प्रश्नपुस्तिका समवेक्षकांकडून लगेच बदलून घ्यावी.
- (2) आपला परीक्षा-क्रमांक ह्या चौकोनात न विसरता बॉलपेनने लिहावा.
- (3) वर छापलेला प्रश्नपुस्तिका क्रमांक तुमच्या उत्तरपत्रिकेवर विशिष्ट जागी उत्तरपत्रिकेवरील सूचनेप्रमाणे न विसरता नमूद करावा.
- (4) (अ) या प्रश्नपुस्तिकेतील प्रत्येक प्रश्नाला 4 पर्यायी उत्तरे सुचविली असून त्यांना 1, 2, 3 आणि 4 असे क्रमांक दिलेले आहेत. त्या चार उत्तरांपैकी सर्वात योग्य उत्तराचा क्रमांक उत्तरपत्रिकेवरील सूचनेप्रमाणे तुमच्या उत्तरपत्रिकेवर नमूद करावा. अशा प्रकारे उत्तरपत्रिकेवर उत्तरक्रमांक नमूद करताना तो संबंधित प्रश्नक्रमांकासमोर छायांकित करून दर्शविला जाईल याची काळजी घ्यावी. ह्याकरिता फक्त काळ्या शाईचे बॉलपेन वापरावे, पेन्सिल वा शाईचे पेन वापरू नये.
- (ब) आयोगाने ज्या विषयासाठी मराठी बरोबर इंग्रजी माध्यम विहित केलेले आहे. त्या विषयाचा प्रत्येक प्रश्न मराठी बरोबर इंग्रजी भाषेत देखील छापण्यात आला आहे. त्यामधील इंग्रजीतील किंवा मराठीतील प्रश्नामध्ये मुद्रणदोषांमुळे अथवा अन्य कारणांमुळे विसंगती निर्माण झाल्याची शंका आल्यास, उमेदवाराने संबंधित प्रश्न पर्यायी भाषेतील प्रश्नाशी ताडून पहावा.
- (5) सर्व प्रश्नांना समान गुण आहेत. यास्तव सर्व प्रश्नांची उत्तरे द्यावीत. घाईमुळे चुका होणार नाहीत याची दक्षता घेऊनच शक्य तितक्या वेगाने प्रश्न सोडवावेत. क्रमाने प्रश्न सोडविणे श्रेयस्कर आहे पण एखादा प्रश्न कठीण वाटल्यास त्यावर वेळ न घालता पुढील प्रश्नाकडे वळावे. अशा प्रकारे शेवटच्या प्रश्नापर्यंत पोहोचल्यानंतर वेळ शिल्लक राहिल्यास कठीण म्हणून वगळलेल्या प्रश्नांकडे परतणे सोईस्कर ठरेल.
- (6) उत्तरपत्रिकेत एकदा नमूद केलेले उत्तर खोडता येणार नाही. नमूद केलेले उत्तर खोडून नव्याने उत्तर दिल्यास ते तपासले जाणार नाही.
- (7) प्रस्तुत परीक्षेच्या उत्तरपत्रिकांचे मूल्यांकन करताना उमेदवारांच्या उत्तरपत्रिकेतील योग्य उत्तरांनाच गुण दिले जातील. तसेच " उमेदवाराने वस्तुनिष्ठ बहुपर्यायी स्वरूपाच्या प्रश्नांची दिलेल्या चार उत्तरांपैकी सर्वात योग्य उत्तरेच उत्तरपत्रिकेत नमूद करावीत. अन्यथा त्यांच्या उत्तरपत्रिकेत सोडविलेल्या प्रत्येक चार चुकीच्या उत्तरांसाठी एका प्रश्नाचे गुण वजा करण्यात येतील".

ताकीद

ह्या प्रश्नपत्रिकेसाठी आयोगाने विहित केलेली वेळ संपेपर्यंत ही प्रश्नपुस्तिका आयोगाची मालमत्ता असून ती परीक्षाकक्षात उमेदवारांला परीक्षेसाठी वापरण्यास देण्यात येत आहे. ही वेळ संपेपर्यंत सदर प्रश्नपुस्तिकेची प्रत/प्रती, किंवा सदर प्रश्नपुस्तिकेतील काही आशय कोणत्याही स्वरूपात प्रत्यक्ष वा अप्रत्यक्षपणे कोणत्याही व्यक्तीस पुरविणे, तसेच प्रसिद्ध करणे हा गुन्हा असून अशी कृती करणाऱ्या व्यक्तीवर शासनाने जारी केलेल्या "परीक्षांमध्ये होणाऱ्या गैरप्रकारांना प्रतिबंध करण्याबाबतचा अधिनियम-82" यातील तरतुदीनुसार तसेच प्रचलित कायद्याच्या तरतुदीनुसार कारवाई करण्यात येईल व दोषी व्यक्ती कमाल एक वर्षाच्या कारावासाच्या आणि/किंवा रुपये एक हजार रकमेच्या दंडाच्या शिक्षेस पात्र होईल. तसेच ह्या प्रश्नपत्रिकेसाठी विहित केलेली वेळ संपण्याआधी ही प्रश्नपुस्तिका अनधिकृतपणे बाळगणे हा सुद्धा गुन्हा असून तसे करणारी व्यक्ती आयोगाच्या कर्मचारीवृंदापैकी, तसेच परीक्षेच्या पर्यवेक्षकीयवृंदापैकी असली तरीही अशा व्यक्तीविरुद्ध उक्त अधिनियमानुसार कारवाई करण्यात येईल व दोषी व्यक्ती शिक्षेस पात्र होईल.

पुढील सूचना प्रश्नपुस्तिकेच्या शेवटच्या पृष्ठावर पहा

पर्यवेक्षकांच्या सूचनेविना हे सील उघडू नये

X10

2

A

कच्च्या कामासाठी जागा /SPACE FOR ROUGH WORK

1. 'शामा चित्र काढत राहिल.' या वाक्याचा काळ ओळखा.

- | | |
|---------------------|---------------------|
| (1) साधा भविष्यकाळ | (2) रीति भविष्यकाळ |
| (3) पूर्ण भविष्यकाळ | (4) साधा वर्तमानकाळ |

2. पुढीलपैकी सकर्मक क्रियापदाचे योग्य उदाहरण कोणते ?

- (अ) सुनील उद्या पुण्याला जाईल.
(ब) अनुराग निबंध लिहितो.

पर्यायी उत्तरे :

- | | |
|--------------------|-----------------------|
| (1) फक्त (अ) बरोबर | (2) (अ) आणि (ब) बरोबर |
| (3) फक्त (ब) बरोबर | (4) (अ) आणि (ब) चूक |

3. योग्य जोड्या लावा.

- | | |
|----------|-------------|
| (अ) रेडा | (i) कालचड |
| (ब) बैल | (ii) भाटी |
| (क) बोका | (iii) म्हैस |
| (ड) खोंड | (iv) गाय |

पर्यायी उत्तरे :

(अ) (ब) (क) (ड)

- | |
|-------------------------|
| (1) (ii) (iii) (i) (iv) |
| (2) (iv) (i) (iii) (ii) |
| (3) (i) (ii) (iv) (iii) |
| (4) (iii) (iv) (ii) (i) |

4. पुढील विधाने वाचा.

- (अ) संयुक्त वाक्यात प्रधानत्व बोधक उभयान्वयी अव्यये वापरली जातात.
(ब) मिश्रवाक्य गौणत्व बोधक उभयान्वयी अव्ययांनी बनते.
(क) मिश्र संयुक्त वाक्यासाठी कोणत्याच उभयान्वयी अव्ययांची आवश्यकता नसते.

पर्यायी उत्तरे :

- | | |
|------------------|------------------------|
| (1) फक्त (अ) चूक | (2) फक्त (अ) व (ब) चूक |
| (3) फक्त (क) चूक | (4) फक्त (अ) व (क) चूक |

कच्च्या कामासाठी जागा /SPACE FOR ROUGH WORK

P.T.O.

5. 'राजकीय नेते फक्त लेखनात शूरपणा दाखवतात.' अधोरेखित शब्दासाठी वाक्प्रचार ओळखा.

- | | |
|----------------------|------------------------|
| (1) गुण उधळणे | (2) कागदी घोडे नाचविणे |
| (3) चुरमुरे खात बसणे | (4) जीवाची उलघाल होणे |

6. नवरा, संसार किंवा कोणतेही निमित्त नसताना विनाकारण त्रास सहन करावा लागणे असा अर्थ व्यक्त करणारी म्हण ओळखा.

- | | |
|--------------------------------------|---------------------------------------|
| (1) त्यालकार रडता म्हणान नालकार रडता | (2) तोंडाच्यो वाता आनि भीक मागान खाता |
| (3) घोव नाय धगड नि हातपाय रगड | (4) घराक नाय घरती आणि धेंगा जाली वरती |

7. पुढील वाक्यातील विशेषनाम ओळखा.

'माधुरी उद्या मुंबईला जाईल.'

- | | | | |
|-----------|-------------|----------|------------|
| (1) उद्या | (2) मुंबईला | (3) जाईल | (4) माधुरी |
|-----------|-------------|----------|------------|

8. Antinational या पारिभाषिक शब्दाचा भराठीतील अर्थ काय ?

- | | |
|-------------------|-------------------|
| (1) देशप्रेमी | (2) निवासी भारतीय |
| (3) देशाचा नागरिक | (4) राष्ट्रद्रोही |

9. 'आयदाना' या शब्दाचा अर्थ सांगा.

- | | |
|--------------|-----------------------------|
| (1) आमंत्रण | (2) जेवणासाठी लागणारी भांडी |
| (3) पायपुसणी | (4) झाडू |

10. प्रयोजक क्रियापदात _____.

- (अ) कर्ता स्वतः क्रिया करित असतो.
 (ब) कर्ता दुसऱ्याकडून क्रिया करून घेतो.
 (क) क्रियापदाला 'अव' किंवा 'अवव' हे प्रत्यय लागतात.

पर्यायी उत्तरे :

- | | |
|------------------------|------------------------|
| (1) (अ) व (ब) बरोबर | (2) फक्त (अ) चूक |
| (3) फक्त (ब) व (क) चूक | (4) फक्त (अ) व (क) चूक |

कच्च्या कामासाठी जागा /SPACE FOR ROUGH WORK

11. एकच शब्द वाक्यात दोन अर्थानी वापरल्यामुळे जेव्हा चमत्कृती साधते तेव्हा _____ अलंकार होतो.

- (1) अनुप्रास (2) यमक (3) श्लेष (4) अर्थालंकार

12. पुढीलपैकी प्रधानत्वसूचक उभयान्वयी अव्ययांच्या पोटप्रकारांपैकी न्यूनत्वबोधक उभयान्वयी अव्ययाचे योग्य उदाहरण कोणते ?

- (1) तुम्ही त्याचा अपमान केला; याकरिता तो तुमच्याकडे येत नाही
 (2) आईला थोडे बरे नाही बाकी सर्व ठीक
 (3) तू ये किंवा न ये, मी जाणारच
 (4) विजा चमकू लागल्या आणि पावसाला सुरूवात झाली

13. विधेय म्हणजे -

- (1) कर्म (2) पूरक (3) कर्ता (4) क्रियापद

14. तंबाखू, बटाटा, हापूस, फणस, कोबी हे शब्द मराठी भाषेत कोणत्या परकीय भाषेतून आलेत ?

- (1) अरबी (2) फारसी (3) पोर्तुगीज (4) तेलगू

15. अन्योक्ती अलंकाराचे उदाहरण ओळखा.

- (1) दमडिचं तेल आणलं, सासुबाईचं न्हाणं झालं।
 (2) श्वानपुच्छ नलिकेत घातले होईना सरळ।
 (3) येथ समस्त बहिरे बसतात लोक
 का भाषणे मधुर तू करिशी अनेक।
 (4) गडद निळे गडद निळे जलद भरुनि आले।

16. 'बोले तैसा चाले त्याची वंदावी पाऊले' या म्हणीच्या विरुद्ध असणारी म्हण ओळखा.

- (1) नाव मोठे लक्षण खोटे (2) बोलाचाच भात बोलाचीच कढी
 (3) भरवशाच्या म्हशीला टोणगा (4) पुढे तिखट मागे पोचट

17. 'रामूला शेळीचे दूध आवडते' - या वाक्यातील 'दूध' हा शब्द व्याकरणिक दृष्ट्या काय दर्शवितो ?

- (1) कर्ता (2) क्रियापद (3) कर्म (4) अव्यय

कच्च्या कामासाठी जागा /SPACE FOR ROUGH WORK

P.T.O.

18. खाली दिलेल्या जोड्या लावा.

(अ) गट

(ब) गट

(अ) भाषेचे स्पष्टीकरण करणारे शास्त्र

(i) अनुस्वार

(ब) पूर्ण अर्थाचे बोलणे

(ii) ऱ्हस्वस्वर

(क) ज्यांचा उच्चार करण्यास कमी वेळ लागतो

(iii) व्याकरण

(ड) स्पष्ट व खणखणीत उच्चार

(iv) वाक्य

पर्यायी उत्तरे :

(अ) (ब) (क) (ड)

(1) (iii) (iv) (i) (ii)

(2) (iii) (iv) (ii) (i)

(3) (iii) (ii) (iv) (i)

(4) (ii) (i) (iv) (iii)

19. संयुक्त वाक्य ओळखा.

(1) लोक आपली स्तुती करतात म्हणून निंदा करतात.

(2) लोक आपली स्तुती करोत किंवा लोक आपली निंदा करोत.

(3) लोकांनी आपली स्तुती, निंदा करावी .

(4) लोक आपली स्तुती करतात कारण निंदा ही करतात.

20. अपूर्ण भूतकाळाचे उदाहरण निवडा.

(1) राजेश रडत होता

(2) राजेश रडला होता

(3) राजेश रडत असे

(4) राजेश रडला

21. विड्याची पाने तोडण्याचे एक वाकडे हत्यार _____.

(1) नायटा

(2) नारकत

(3) नालकी

(4) नाबदार

कच्च्या कामासाठी जागा /SPACE FOR ROUGH WORK

22. वाक्यात दोन शब्द जोडतांना कोणते चिन्ह वापरतात ?

- (1) अपसरण चिन्ह (2) संयोग चिन्ह (3) अपूर्ण विराम (4) स्वल्प विराम

23. 'ती गुलाबी उषा म्हणजे परमेश्वराचे प्रेम जणू' हे विधान खालीलपैकी कोणत्या अलंकाराचे उदाहरण आहे ?

- (1) उपमा (2) रूपक (3) उत्प्रेक्षा (4) यमक

24. शेजारचे घर पावसाळ्यात गळते. - या वाक्याचा प्रकार ओळखा.

- (1) संयुक्तवाक्य (2) नकारार्थी वाक्य (3) केवलवाक्य (4) मिश्रवाक्य

25. शुद्ध शब्द ओळखा.

- (1) अध्यात्मीक (2) आध्यात्मीक
(3) अध्यात्मिक (4) आध्यात्मिक

26. अकारान्त स्त्रीलिंगी नामांचे अनेकवचन _____ होते.

- (1) आकारान्त (2) याकारान्त (3) ईकारान्त (4) वाकारान्त

27. 'तुला पहिले बक्षिस मिळो' या वाक्याचे विद्यर्थी वाक्यरूपांतर ओळखा.

- (1) तुला पहिले बक्षिस मिळावे (2) तुला पहिले बक्षिस मिळाले
(3) तुला पहिले बक्षिस मिळेल (4) तुला पहिले बक्षिस मिळते

28. पुढे काही वर्णप्रकार दिलेले आहेत. त्याचा अचूक क्रम ओळखा.

'श, क, ह, व् '

- (1) स्पर्श, महाप्राण, अर्धस्वर, उष्मे (2) उष्मे, स्पर्श, महाप्राण, अर्धस्वर
(3) महाप्राण, अर्धस्वर, स्पर्श, उष्मे (4) अर्धस्वर, उष्मे, महाप्राण, स्पर्श

कच्च्या कामासाठी जागा /SPACE FOR ROUGH WORK

P.T.O.

29. 'मंदाक्रांता' या अक्षरगणवृत्तातील प्रत्येक चरणामध्ये किती अक्षरे असतात ?

- (1) 14 (2) 15 (3) 17 (4) 18

30. पुढे काही जोडशब्द दिले आहेत. त्यातील अनुक्रमे स्वरसंधी ओळखा.

'महिलाश्रम, सूर्यास्त, विद्यार्थी, देवालय'

- (1) आ+अ, अ+आ, आ+आ, अ+अ (2) अ+अ, आ+आ, आ+अ, अ+आ
(3) आ+आ, अ+अ, आ+अ, अ+आ (4) अ+आ, आ+अ, अ+अ, आ+आ

31. पुढीलपैकी आत्मवाचक सर्वनामे नसलेले वाक्य कोणते ?

- (1) मी स्वतः त्याला पाहिले (2) कोणी-कोणास हसू नये
(3) तो आपण होऊन माझ्याकडे आला (4) तू स्वतः मोटार हाकशील का ?

32. पुढीलपैकी प्रयोजक क्रियापदाचे योग्य उदाहरण कोणते ?

(अ) आई त्या मुलाला हसविते

(ब) मला आता काम करवते

पर्यायी उत्तरे :

- (1) फक्त (अ) योग्य (2) फक्त (ब) योग्य
(3) (अ) आणि (ब) योग्य (4) (अ) आणि (ब) अयोग्य

33. 'ज्याने पुष्कळ ऐकले व वाचले आहे असा.' या शब्दसमूहाबद्दल एक शब्द लिहा.

- (1) ज्ञानी (2) पंडित (3) विद्वान (4) बहुश्रुत

34. 'साधा पण गुणी मनुष्य' या अर्थाशी संबंधित वाक्प्रचार लिहा.

- (1) घागरगडचा सुभेदार (2) झाकले माणिक
(3) उंबराचे फूल (4) ओनामा

35. 'फारच दुर्मिळ, पुष्कळ काळाने येणारी संधी किंवा अपूर्व घटना' - या शब्दसमूहासाठी खालील योग्य त्या वाक्प्रचाराचा पर्याय लिहा.

- (1) गंगेत घोडे न्हाणे (2) डोळ्याचे पारणे फिटणे
(3) अंगारकीचा योग (4) कपिलाषष्ठीचा योग

कच्च्या कामासाठी जागा /SPACE FOR ROUGH WORK

36. 'तू जेथे गेला होतास तेथेच तो सुद्धा गेला आहे.' या वाक्याचा प्रकार ओळखा.

- (1) संयुक्तवाक्य (2) केवलवाक्य (3) संकेतार्थीवाक्य (4) मिश्रवाक्य

37. खाली दिलेल्या वाक्यातून केवलवाक्य नसलेले वाक्य ओळखा.

- (1) खूप अभ्यास केल्यामुळे प्रभाला उज्वल यश मिळाले.
 (2) देवळात प्रभाने स्वतःभोवती गिरकी घेऊन देवाला नमस्कार केला.
 (3) प्रभाने पाठवलेल्या डब्यात गोड पदार्थ होते.
 (4) प्रभाने डबा पाठवला तेव्हा त्यांत गोड पदार्थ होते.

38. पुढे काही सामासिक शब्द दिले आहेत. त्यांचे अनुक्रमे लिंग ओळखा.

'मीठभाकरी, गायरान, भाजीपाला, भाऊबहीण'

- (1) स्त्री, नपुंसक, पुल्लिंग, स्त्री (2) नपुंसक, स्त्री, स्त्री, पुल्लिंग
 (3) पुल्लिंग, पुल्लिंग, स्त्री, नपुंसक (4) पुल्लिंग, नपुंसक, स्त्री, स्त्री

39. पुढे काही विधाने दिली आहेत. त्या आधारे योग्य पर्याय निवडा.

- (अ) स्वर हे पूर्ण उच्चार्याचे वर्ण आहेत.
 (ब) व्यंजने ही अपूर्ण उच्चार्यांची आहेत.

पर्यायी उत्तरे :

- (1) फक्त (अ) बरोबर (2) फक्त (ब) बरोबर
 (3) (अ) आणि (ब) बरोबर (4) (अ) आणि (ब) चूक

40. 'तो कोठेही न थांबता बोलला'. या नकारात्म वाक्याला होकारात्म वाक्यात रूपांतरित करा.

- (1) तो भराभर बोलला (2) तो सलग बोलला
 (3) तो अस्खलित बोलला (4) तो हुशारीने बोलला

कच्च्या कामासाठी जागा /SPACE FOR ROUGH WORK

P.T.O.

41. Identify the unit in which there is an error :

Many people are painting their houses white these days

- (a) (b) (c)
 (1) only - (a) (2) only - (b) (3) only - (c) (4) No error

42. Change the following into interrogative :

'She drew a picture'.

- (1) Was she drawing an picture ? (2) Have she drawn a picture ?
 (3) Did she draw a picture ? (4) Has she draw a picture ?

43. Fill in the blank with the correct form of the tense given in bracket.

Reena did not go to school yesterday as she _____ (finish) her homework.

- (1) had not finished (2) have not finished
 (3) has not finished (4) will not finished

44. Identify the correct figure of speech in the given lines.

Alone, alone, all, all alone

Alone on a wide, wide sea

- (1) Personification (2) Alliteration (3) Apostrophe (4) Irony

45. Change the following into indirect speech :

She said to him, "I know you."

- (1) She said to him that I knew him.
 (2) She said to him that she knew me.
 (3) She said to him that she knew him.
 (4) She said to him that she knows him.

46. Choose the most suitable word opposite in meaning of the word :

'Casual'

- (1) accidental (2) formal (3) informal (4) systematic

47. Find out the incorrect sentence from the following :

- (1) Fifty thousand rupees is a big amount.
 (2) Ten miles are not a short distance.
 (3) Five years is a long period.
 (4) One of the books is damaged.

कच्चा कामासाठी जागा /SPACE FOR ROUGH WORK

48. Complete the following sentence by choosing the correct phrasal verb :

She is very strong. She does not _____ easily.

- (1) give in (2) give up (3) give out (4) give away
-

49. Choose the right option for the following underlined idiom.

I am prepared to meet you half-way .

- (1) Come to discuss with you.
(2) Come to a compromise with you.
(3) Come to celebrate with you.
(4) Come to fight with you.
-

50. Fill in the blank with correct preposition :

He has been in hospital _____ last week.

- (1) in (2) for (3) since (4) from
-

51. Fill the blanks from the options given below.

It _____ already _____ raining when I _____ an umbrella.

- (1) stopped, brought, had (2) had, brought, stopped
(3) brought, stopped, had (4) had, stopped, brought
-

52. Choose the correct option to fill in the blank :

My eyes are aching now because I _____ since morning.

- (1) am reading (2) have read
(3) have been reading (4) read
-

53. Identify the part of speech of the underlined word :

He is an idle boy, he does not work.

- (1) Noun (2) Verb (3) Adjective (4) Adverb
-

54. Select the word which means the same as the following group of words :

'One who does not believe in God.'

- (1) Unreligious (2) Atheist (3) Pagan (4) Theist
-

कच्चा कामासाठी जागा /SPACE FOR ROUGH WORK

P.T.O.

55. Complete the following sentence by using the **correct** option :

Man is related to shout in the same way crow is related to _____.

- (1) caw (2) chirp (3) mutter (4) mob
-

56. Find out the word that is misspelt :

- (1) Believe (2) Relieve (3) Grieve (4) Decieve
-

57. A word is spelt in four different ways, out of which only one is **correct**. Find the correctly spelt word :

- (1) Commettee (2) Committe (3) Comittee (4) Committee
-

58. Kolkata is more populous than most other cities of India.

Which of the following option is correctly converted from the above sentence.

- (1) Kolkata is the most popular city of India.
 (2) There is no other city in India as populous as Kolkata.
 (3) Some other cities of India are not more populous than Kolkata.
 (4) Kolkata is one of the most populous cities of India.
-

59. Choose the **correct** word which expresses the meaning of the underlined word in the following sentence :

She looked at the physically challenged children with contempt.

- (1) hatred (2) disrespect (3) pity (4) sympathy
-

60. Fill in the blank by choosing the **correct** alternative :

Is that my book, or is it _____ ?

- (1) Your (2) Your's (3) Yours (4) Your's book
-

61. Choose the **correct** pair of articles to fill in the blanks :

He was _____ honest man but _____ people in the neighbourhood did not like him.

- (1) a, the (2) the, a (3) an, the (4) the, the
-

कच्च्या कामासाठी जागा /SPACE FOR ROUGH WORK

62. Choose the right option given below. Convert the following into indirect speech.

"Have you finished your lesson, Hari?" Said Mr. Sharma to his son.

- (1) Mr. Sharma said to Hari if he had finished his lesson.
- (2) Mr. Sharma said to his son Hari that have you finished your lesson.
- (3) Mr. Sharma asked his son Hari whether he had finished his lesson.
- (4) Mr. Sharma enquired of his son Hari that whether had he finished his lesson.

63. Arrange the following sentences in proper sequence.

- (a) He gives raw materials for many industries.
- (b) If the agriculture fails, the industry fails and the whole national economy collapses.
- (c) The farmer is the very backbone of our national economy.
- (d) He gives food to the nation.

Answer options :

- (1) (c), (a), (d), (b)
- (2) (d), (b), (c), (a)
- (3) (c), (d), (a), (b)
- (4) (b), (d), (a), (c)

64. Fill in the blank with the correct word from the given options :

Walking twenty kilometres non-stop is quite a _____.

- (1) feat
- (2) feet
- (3) fit
- (4) foot

65. Match (A) and (B) to make four meaningful sentences :

(A)

(B)

- | | |
|--------------------------------|-----------------------------------|
| (a) Never talk | (i) After the match had been over |
| (b) We marched back | (ii) When the sun had set |
| (c) The farmer left his fields | (iii) Where from it cannot return |
| (d) His soul has reached | (iv) While you are at meals |

Answer options :

- | | (a) | (b) | (c) | (d) |
|-----|-------|-------|-------|-------|
| (1) | (iv) | (i) | (ii) | (iii) |
| (2) | (iii) | (ii) | (i) | (iv) |
| (3) | (i) | (ii) | (iii) | (iv) |
| (4) | (iv) | (iii) | (ii) | (i) |

66. Choose the meaning of the underlined idiom :

She's a great singer. She'll make it big one day.

- (1) become rich
- (2) become famous
- (3) become popular
- (4) make the record

कच्चा कामासाठी जागा /SPACE FOR ROUGH WORK

P.T.O.

67. Identify the unit in which there is an error :

There is Several reasons for your mistakes .

- (a) (b) (c)
 (1) only - (a) (2) only - (b) (3) only - (c) (4) No error

68. Choose the alternative that indicates **correct** meaning of the underlined word :

Inspite of the financial constraint , Vishal started his business and very soon became a successful industrialist.

- (1) Freedom (2) Restriction (3) Support (4) Promise

69. Pick out the **correct** sentence from the following :

- (a) The drought in this year is very serious.
 (b) What has he been doing from Tuesday ?
 (c) He will return at midnight.
 (d) I met him on last Monday.

Answer options :

- (1) (a) and (b) are correct (2) (c) and (d) are correct
 (3) only (c) is correct (4) only (c) is incorrect

70. Identify the kind of sentence given below :

She must weep or she will die.

- (1) Simple sentence (2) Compound sentence
 (3) Complex sentence (4) Compound - Complex sentence

71. Fill in the blank with appropriate pair of prepositions :

Jawaharlal Nehru was born _____ Allahabad _____ Uttar Pradesh.

- (1) at, in (2) in, at (3) in, from (4) in, in

72. Fill in the blank with the **correct** phrasal verb from the given options :

I was _____ his behaviour.

- (1) shocked for (2) shocked on (3) shocked from (4) shocked at

73. Which of the following pairs of antonyms is **incorrect** :

- (a) Accept x Reject (b) Bloom x Fade
 (c) Defend x Suspend (d) Progress x Regress

Answer options :

- (1) (a) only (2) (a) and (b) (3) (c) only (4) (c) and (d)

कच्च्या कामासाठी जागा /SPACE FOR ROUGH WORK

74. Fill in the blank :

My Father _____ me to go to picnic with my friends.

- (1) aloud (2) allowed (3) pray (4) prey
-

75. Fill in the blank with the correct word choosing from the given options :

The _____ of our house was leaking because of heavy rain.

- (1) Sealing (2) Ceiling (3) Sailing (4) Celling
-

76. Choose the right option for the following underlined idiom.

Today he is in high spirits.

- (1) Fearful (2) Joyful (3) Hopeful (4) Greatful
-

77. Identify the correct meaning of the expression :

viz.

- (1) Namely (2) Contrary (3) In fact (4) In short
-

78. Identify the correct sentence from the following :

- (1) Death is preferable than dishonour.
(2) Death is preferable to dishonour.
(3) Dying is preferable to dishonour.
(4) Dying is most preferable to dishonour.
-

79. Choose from the given alternatives the word which is opposite in meaning of the underlined word :

He issues only verbal orders to escape the inquiry against those orders in future.

- (1) Oral (2) Vague (3) Informal (4) Written
-

80. Identify the correct and incorrect sentence from the following :

- (a) One of the boys told me about Asha's result.
(b) He has only one woolen trouser.

Answer options :

- (1) (a) is correct (b) is incorrect (2) (b) is correct (a) is incorrect
(3) Both (a) and (b) are correct (4) Both (a) and (b) are incorrect
-

कच्चा कामासाठी जागा /SPACE FOR ROUGH WORK

P.T.O.

81. जोड्या लावा :

- | | |
|-----------------------------------|--|
| (a) महाराजा सयाजीराव गायकवाड | (i) न्यायपक्षाची स्थापना |
| (b) पी. त्यागराव आणि टी.एम्. नायर | (ii) 'विटाल विध्वंसन' ग्रंथाचे लेखन |
| (c) गोपाळ बाबा वलंगकर | (iii) चोखामेळा सुधारणा मंडळाची स्थापना |
| (d) किसन फागुजी बंदसोडे | (iv) अस्पृश्यता निवारक परिषदेचे आयोजन |
- पर्यायी उत्तरे :

- | | | | | |
|-----|-------|-------|------|-------|
| | (a) | (b) | (c) | (d) |
| (1) | (iv) | (i) | (ii) | (iii) |
| (2) | (iii) | (iv) | (i) | (ii) |
| (3) | (ii) | (i) | (iv) | (iii) |
| (4) | (i) | (iii) | (iv) | (ii) |

Match the following :

- | | |
|--------------------------------|--|
| (a) Maharaja Sayajirao Gaikwad | (i) Establishment of Justice Party |
| (b) P. Tyagrao and T.M. Nair | (ii) Writing of scripture of 'Vital Vidhvansan' |
| (c) Gopal Baba Walangkar | (iii) Establishment of 'Chokha Mela Development Mandal' |
| (d) Kisan Faguji Bandsode | (iv) Organization of Council for Eradication of untouchability |

Answer Options :

- | | | | | |
|-----|-------|-------|------|-------|
| | (a) | (b) | (c) | (d) |
| (1) | (iv) | (i) | (ii) | (iii) |
| (2) | (iii) | (iv) | (i) | (ii) |
| (3) | (ii) | (i) | (iv) | (iii) |
| (4) | (i) | (iii) | (iv) | (ii) |

82. भारत छोडो चळवळीमध्ये _____ यांनी सातारा येथे प्रतिसरकारची स्थापना केली.

- | | |
|--------------------|----------------|
| (1) नरदेव शास्त्री | (2) उमाजी नाईक |
| (3) गणपतराव कथळे | (4) नाना पाटील |

_____ established parallel government in Satara during the Quit India Movement.

- | | |
|----------------------|----------------|
| (1) Nardev Shastri | (2) Umaji Naik |
| (3) Ganpatrao Kathle | (4) Nana Patil |

कच्च्या कामासाठी जागा /SPACE FOR ROUGH WORK

83. 'ब्रदर्स-इन-लॉ' म्हणून कोणास ओळखले जाते ?

- (a) फिरोजशाहा मेहता - बद्रुद्दीन तय्यबजी - काशीनाथ तेलंग
- (b) दिनशा वाच्छा - दादाभाई नौरोजी - शिवराम साठे
- (c) रामचंद्र साने - सिताराम चिपळूणकर - गोपाळकृष्ण गोखले
- (d) कृष्णाजी नुलकर - नारायण चंदावरकर - गंगाराम मस्के

वरीलपैकी कोणते विधान/विधाने बरोबर आहेत ?

- (1) (a) आणि (b) फक्त
- (2) (a), (b) आणि (d) फक्त
- (3) (a) फक्त
- (4) (a) आणि (c) फक्त

Who are known as 'Brothers-in-Law' ?

- (a) Phirozshah Mehta - Badruddin Tayyabaji - Kashinath Telang
- (b) Dinsha Wachha - Dadabhai Nauroji - Shivram Sathe
- (c) Ramchandra Sane - Shitaram Chiplunkar - Gopalkrishna Gokhale
- (d) Krishnaji Nulkar - Narayan Chandavarkar - Gangaram Maske

Which of the statement/s given above is/are correct ?

- (1) (a) and (b) only
- (2) (a), (b) and (d) only
- (3) (a) only
- (4) (a) and (c) only

84. आमचे नाव काय आहे ? बंड. आमचे काम काय आहे ? बंड. हे बंड कुठे होईल ? भारतात. अशी सुरुवात कोणत्या साप्ताहिकाने केली ?

- (1) गदर
- (2) धुमकेतू
- (3) ज्ञानप्रकाश
- (4) प्रभाकर

Who started the weekly, stating that what is your name ? Mutiny. What is our work ? Mutiny. Where will Mutiny break out ? In India ?

- (1) Gaddar
- (2) Dhumketu (Comet)
- (3) Dyanprakash
- (4) Prabhakar

कच्च्या कामासाठी जागा /SPACE FOR ROUGH WORK

P.T.O.

85. जोड्या लावा :

- | | |
|-----------------------------|--------------------------------------|
| (a) दादोबा पांडुरंग तर्खडकर | (i) 'यमुना पर्यटन' कादंबरीचे लेखन |
| (b) बाबा पद्मजी | (ii) 'मुक्ती सदन' संस्थेची सुरुवात |
| (c) पंडिता रमाबाई | (iii) 'सोशल सर्व्हिस लीग' ची स्थापना |
| (d) ना.म. जोशी | (iv) परमहंस सभेची स्थापना |

पर्यायी उत्तरे :

- | | | | | |
|-----|-------|-------|------|-------|
| | (a) | (b) | (c) | (d) |
| (1) | (iii) | (ii) | (iv) | (i) |
| (2) | (ii) | (iii) | (iv) | (i) |
| (3) | (iv) | (i) | (ii) | (iii) |
| (4) | (iii) | (iv) | (i) | (ii) |

Match the following :

- | | |
|---------------------------------|--|
| (a) Dadoba Pandurang Tarkhadkar | (i) Writing of the Novel 'Yamuna Paryatan' |
| (b) Baba Padamji | (ii) Beginning of Mukti-Sadan Sanstha |
| (c) Pandita Ramabai | (iii) Establishment of Social Service League |
| (d) N.M. Joshi | (iv) Establishment of Paramhansa Sabha |

Answer Options :

- | | | | | |
|-----|-------|-------|------|-------|
| | (a) | (b) | (c) | (d) |
| (1) | (iii) | (ii) | (iv) | (i) |
| (2) | (ii) | (iii) | (iv) | (i) |
| (3) | (iv) | (i) | (ii) | (iii) |
| (4) | (iii) | (iv) | (i) | (ii) |

86. दिलेल्या जिल्ह्यांच्या भौगोलिक क्षेत्राचा विचार करून लहान ते मोठा अशा क्रमाने जो पर्याय दिला आहे, तो ओळखून योग्य पर्याय निवडा.

- (1) हिंगोली - सिंधुदुर्ग - गोंदिया - नंदुरबार
- (2) हिंगोली - गोंदिया - सिंधुदुर्ग - नंदुरबार
- (3) सिंधुदुर्ग - हिंगोली - नंदुरबार - गोंदिया
- (4) सिंधुदुर्ग - गोंदिया - हिंगोली - नंदुरबार

On the basis of size of the geographical area, identify the correct option arranged with the order from small to large size district. Choose that option for the correct answer.

- (1) Hingoli - Sindhudurg - Gondia - Nandurbar
- (2) Hingoli - Gondia - Sindhudurg - Nandurbar
- (3) Sindhudurg - Hingoli - Nandurbar - Gondia
- (4) Sindhudurg - Gondia - Hingoli - Nandurbar

कच्च्या कामासाठी जागा /SPACE FOR ROUGH WORK

87. चंद्रपूरमधील नागभिड येथे कोणता उद्योग आहे ?

- | | |
|----------------|---------------|
| (1) लुगडी | (2) रेशम कापड |
| (3) लकडी खेळणी | (4) चादरी |

Which industry is found at Nagbhid in Chandrapur ?

- | | |
|---------------|----------------------|
| (1) Lugdi | (2) Resham cloth |
| (3) Wood toys | (4) Blanket (chadri) |

88. महाराष्ट्र शासनाच्या कृषी विभागाच्या दिनांक 9.11.17 च्या आकडेवारीनुसार, खाली दिलेल्यांपैकी अशा कोणत्या दोन विभागांमध्ये जून 2017 ते ऑक्टोबर 2017 या कालावधीत त्या त्या विभागाच्या सर्वसाधारण पर्जन्यमानाच्या 90% पेक्षा जास्त पर्जन्य झाल्याची नोंद झाली ?

- | | |
|-------------------|-----------------------|
| (1) पुणे व नागपूर | (2) पुणे व अमरावती |
| (3) कोंकण व नाशिक | (4) औरंगाबाद व नागपूर |

According to the Department of Agriculture, Government of Maharashtra data of 9.11.17, which of the following two divisions received more than 90% rainfall to their normal rainfall between June 2017 and October 2017 ?

- | | |
|----------------------|---------------------------|
| (1) Pune and Nagpur | (2) Pune and Amravati |
| (3) Konkan and Nasik | (4) Aurangabad and Nagpur |

89. नागरी नोंदणी प्रणाली (सिव्हील रजिस्ट्रेशन सिस्टीम), 2015 च्या अहवालाप्रमाणे, जन्माच्या वेळचे लिंग गुणोत्तर हे सर्वाधिक म्हणून दादर-नगर हवेली (1001), त्या खालोखाल त्रिपुरा (1000), मेघालय (975) आणि _____ (973) येथे नोंदविले गेले आहे.

- | | |
|-----------------------|-----------------------------|
| (1) महाराष्ट्र व केरळ | (2) गोवा व छत्तीसगड |
| (3) सिक्कीम व मिझोराम | (4) पुडुचेरी व आंध्र प्रदेश |

According to the report of Civil Registration System, 2015, sex ratio at birth has been recorded as a highest at Dadar - Nagar Haveli (1001), followed by Tripura (1000), Meghalaya (975) and _____ (973).

- | | |
|----------------------------|-----------------------------------|
| (1) Maharashtra and Kerala | (2) Goa and Chhattisgarh |
| (3) Sikkim and Mizoram | (4) Puducherry and Andhra Pradesh |

कच्च्या कामासाठी जागा /SPACE FOR ROUGH WORK

P.T.O.

90. महाराष्ट्रातील थंड हवेची ठिकाणे व त्यांचे स्थान असलेले जिल्हे यांच्या योग्य जोड्या लावा.

थंड हवेचे ठिकाण	जिल्हा
(a) माथेरान	(i) सिंधुदुर्ग
(b) चिखलदरा	(ii) नंदुरबार
(c) तोरणमाळ	(iii) रायगड
(d) अंबोली	(iv) अमरावती

पर्यायी उत्तरे :

	(a)	(b)	(c)	(d)
(1)	(iii)	(i)	(ii)	(iv)
(2)	(iii)	(iv)	(ii)	(i)
(3)	(i)	(ii)	(iii)	(iv)
(4)	(ii)	(iv)	(i)	(iii)

Match the pairs of Hill Stations and its locational district in Maharashtra.

Hill Station	Location district
(a) Matheran	(i) Sindhudurg
(b) Chikhaldara	(ii) Nandurbar
(c) Toranmal	(iii) Raigad
(d) Amboli	(iv) Amaravati

Answer options :

	(a)	(b)	(c)	(d)
(1)	(iii)	(i)	(ii)	(iv)
(2)	(iii)	(iv)	(ii)	(i)
(3)	(i)	(ii)	(iii)	(iv)
(4)	(ii)	(iv)	(i)	(iii)

91. महाराष्ट्रामधे पहिली सुतगिरणी _____ यांनी _____ साली सुरू केली.

(1) कामराज दावर - 1855	(2) जमशेदजी टाटा - 1854
(3) कावसजी दावर - 1854	(4) जीजीभाई टाटा - 1855

In Maharashtra first cotton textile mill was started by _____ in _____.

(1) Kamraj Dawar - 1855	(2) Jamshedji Tata - 1854
(3) Kawasaji Dawar - 1854	(4) Jijibhai Tata - 1855

कच्च्या कामासाठी जागा /SPACE FOR ROUGH WORK

92. खाली दिलेल्या प्रमुख नद्या त्यांच्या उपनदीशी जुळवा आणि खाली दिलेल्यांमधून योग्य पर्याय निवडा.

प्रमुख नदी	तिची उपनदी
(a) गोदावरी	(i) निरा
(b) नर्मदा	(ii) जगबुडी
(c) भिमा	(iii) येरला
(d) वशिष्ठी	(iv) आसना
	(v) उदाई

पर्यायी उत्तरे :

	(a)	(b)	(c)	(d)
(1)	(iv)	(ii)	(iii)	(i)
(2)	(ii)	(iii)	(iv)	(i)
(3)	(ii)	(iv)	(iii)	(i)
(4)	(iv)	(v)	(i)	(ii)

Match the given main river with its tributary and choose the correct option given below :

Main River	Tributary River
(a) Godavari	(i) Nira
(b) Narmada	(ii) Jagbudi
(c) Bhima	(iii) Yerala
(d) Vashishthi	(iv) Aasana
	(v) Udai

Answer options :

	(a)	(b)	(c)	(d)
(1)	(iv)	(ii)	(iii)	(i)
(2)	(ii)	(iii)	(iv)	(i)
(3)	(ii)	(iv)	(iii)	(i)
(4)	(iv)	(v)	(i)	(ii)

93. महाराष्ट्रातील कोयना प्रकल्पाच्या जलाशयास _____ म्हणतात.

- | | |
|---------------|------------------|
| (1) नाथसागर | (2) शिवसागर |
| (3) यशवंतसागर | (4) नलदमयंतीसागर |

The water storage of Koyana project in Maharashtra is known as _____.

- | | |
|-------------------|----------------------|
| (1) Nathasagar | (2) Shivsagar |
| (3) Yashwantsagar | (4) Naldamyantisagar |

कच्च्या कामासाठी जागा /SPACE FOR ROUGH WORK

P.T.O.

94. खालील विधाने पहा :

- (a) महाराष्ट्राचे हवामान उष्णकटिबंधीय मोसमी प्रकारचे आहे.
- (b) सप्टेंबर ते ऑक्टोबर दरम्यान महाराष्ट्रात चिनुक वाऱ्यापासून पाऊस पडतो.
- (c) महाराष्ट्रात सर्वात जास्त पाऊस आंबोली येथे पडतो.

पर्यायी उत्तरे :

- (1) फक्त विधान (a) बरोबर आहे.
- (2) फक्त विधान (c) बरोबर आहे.
- (3) विधान (a) आणि (c) बरोबर आहेत.
- (4) विधान (a) आणि (b) बरोबर आहेत.

Observe the following statements :

- (a) The climate of Maharashtra is tropical Monsoon type.
- (b) Maharashtra receives rainfall between September to October from Chinuk winds.
- (c) Amboli receive highest rainfall in Maharashtra.

Answer Options :

- (1) Only statement (a) is correct.
- (2) Only statement (c) is correct.
- (3) Statement (a) and (c) are correct.
- (4) Statement (a) and (b) are correct.

कच्च्या कामासाठी जागा /SPACE FOR ROUGH WORK

95. महाराष्ट्रातील नद्यांच्या काठावरील शहरे व नद्या यांच्या योग्य जोड्या लावा.

शहर	नदी
(a) पंढरपुर	(i) पांझरा
(b) कोल्हापूर	(ii) कयाधू
(c) धुळे	(iii) भीमा
(d) हिंगोली	(iv) पंचगंगा

पर्यायी उत्तरे :

(a)	(b)	(c)	(d)
(1) (i)	(iii)	(iv)	(ii)
(2) (iii)	(ii)	(i)	(iv)
(3) (ii)	(i)	(iii)	(iv)
(4) (iii)	(iv)	(i)	(ii)

Match the pairs of river bank city and river in Maharashtra.

City	River
(a) Pandharpur	(i) Panzara
(b) Kolhapur	(ii) Kayadhu
(c) Dhule	(iii) Bheema
(d) Hingoli	(iv) Panchganga

Answer options :

(a)	(b)	(c)	(d)
(1) (i)	(iii)	(iv)	(ii)
(2) (iii)	(ii)	(i)	(iv)
(3) (ii)	(i)	(iii)	(iv)
(4) (iii)	(iv)	(i)	(ii)

96. खालीलपैकी कोणते भारतीय राज्यघटनेतील कलम हे समान नागरी कायद्याच्या संदर्भात आहे ?

- (1) कलम 44 (2) कलम 40 (3) कलम 51 (4) कलम 32

Which of the following Articles of the Indian Constitution is related to the uniform civil code ?

- (1) Article 44 (2) Article 40 (3) Article 51 (4) Article 32

कच्च्या कामासाठी जागा /SPACE FOR ROUGH WORK

P.T.O.

97. मूळ घटनेत 'संपत्तीचा अधिकार' मूलभूत अधिकार होता. कोणत्या वर्षी कोणत्या घटनादुरुस्तीने हा अधिकार मूलभूत अधिकाराच्या प्रकरणातून वगळण्यात आला ?

- (1) 1971, 25 वी घटनादुरुस्तीने (2) 1976, 42 वी घटनादुरुस्तीने
(3) 1978, 44 वी घटनादुरुस्तीने (4) 1993, 74 वी घटनादुरुस्तीने

In the original constitution, 'Right to Property' was a fundamental right. In which year and according to which constitutional amendment this right was removed from the chapter on fundamental rights ?

- (1) 1971, 25th amendment (2) 1976, 42nd amendment
(3) 1978, 44th amendment (4) 1993, 74th amendment

98. कोणत्या राज्यात सर्वप्रथम लोक अदालत शिबीर आयोजित करण्यात आले ?

- (1) महाराष्ट्र (2) गुजरात (3) आंध्र प्रदेश (4) राजस्थान

In which State, the First Lok Adalat Camp was organized ?

- (1) Maharashtra (2) Gujarat (3) Andhra Pradesh (4) Rajasthan

99. भारत-आसियान युवा परिषद- 2017, भारतात कोणत्या शहरात भरविण्यात आली ?

- (1) कलकत्ता (2) मुंबई (3) भोपाल (4) चेन्नाई

In which city of India the India-ASEAN Youth Summit - 2017 was held ?

- (1) Calcutta (2) Mumbai (3) Bhopal (4) Chennai

100. खालीलपैकी कोणते/ती भारतीय राज्यघटनेच्या कलम 51-अ नुसार मूलभूत कर्तव्य आहे/त ?

- (a) स्वातंत्र्य लढ्यास प्रेरक ठरलेल्या उदात्त आदर्शांची जोपासना करून त्यांचे अनुकरण करणे.
(b) आंतरराष्ट्रीय शांतता व सुरक्षितता यांचे संवर्धन करणे.
(c) देशाचे संरक्षण व देशसेवा करण्यास तयार राहणे.

योग्य पर्याय निवडा.

- (1) (a) आणि (b) (2) (a) आणि (c) (3) फक्त (c) (4) वरील सर्व

Which of the following is/are the fundamental duties as per Art. 51-A of the Indian Constitution ?

- (a) To cherish and follow the noble ideas which inspired our national struggle for freedom.
(b) To promote international peace and security.
(c) To defend and serve the country.

Select the proper code.

- (1) (a) and (b) (2) (a) and (c) (3) only (c) (4) All the above

कच्च्या कामासाठी जागा /SPACE FOR ROUGH WORK

101. राज्यपालाच्या निवडीसाठी खालीलपैकी पात्रतेचे निकष कोणते आहे/त ?

- (a) तो भारताचा नागरिक असावा
- (b) वयाची कमीत कमी 35 वर्षे पूर्ण असावीत
- (c) संसदेच्या कोणत्याही सभागृहाचे किंवा राज्य विधीमंडळाचे सदस्य नसावे

योग्य उत्तर निवडा :

- (1) (a) आणि (b) (2) (b) आणि (c) (3) फक्त (b) (4) वरील सर्व

Which of the following is/are the eligibility criteria for selection of Governor ?

- (a) Should be citizen of India
- (b) Should be atleast 35 years of age
- (c) Should not be a member of either house of the Parliament or house of the state legislature

Select correct answer :

- (1) (a) and (b) (2) (b) and (c) (3) Only (b) (4) All the above

102. 1 जानेवारी 2017 पासून संयुक्त राष्ट्रांचे सरचिटणीस कोण आहेत ?

- (1) बान-की-मून (2) कोफी अन्नान
- (3) अँटोनियो गुटेरेस (4) यु थांट

Who is the Secretary General of United Nations (UN) since 1st January 2017 ?

- (1) Ban-Ki-Moon (2) Kofi Annan
- (3) Antonio Guterres (4) U Thant

103. उच्च न्यायालयाच्या संदर्भातील खालीलपैकी कोणता/ते विधान/ने चुकीचे आहे/त ?

- (a) उच्च न्यायालयाच्या सर्व न्यायाधिकांची नियुक्ती राज्यपालाकडून केली जाते.
- (b) उच्च न्यायालयाच्या न्यायाधिकांचे सेवानिवृत्ती वय 65 आहे.
- (c) उच्च न्यायालयाच्या सर न्यायाधिकांची नियुक्ती भारताच्या राष्ट्रपतीकडून केली जाते.

पर्यायी उत्तरे :

- (1) फक्त (a) (2) फक्त (b) (3) (a), (b) (4) वरील सर्व

Which of the following statement (s) is/are false about the High Court ?

- (a) Every judge of a High Court is appointed by the Governor.
- (b) Age of retirement of High Court judge is 65.
- (c) Chief justice of High Court is appointed by the President of India.

Answer options :

- (1) only (a) (2) only (b) (3) (a), (b) (4) All the above

कच्च्या कामासाठी जागा /SPACE FOR ROUGH WORK

P.T.O.

104. संपूर्ण भारतात चित्रपटगृहात चित्रपट सुरु होण्यापूर्वी राष्ट्रगान वाजविणे अनिवार्य आहे हा आदेश भारताच्या सर्वोच्च न्यायालयाने केव्हा दिला ?

- (1) ऑक्टोबर, 2015 (2) जानेवारी, 2015
(3) नोव्हेंबर, 2016 (4) नोव्हेंबर, 2014

When did the Supreme Court of India, made playing of National Anthem compulsory at the start of any cinema, in all the cinema halls of India ?

- (1) October, 2015 (2) January, 2015
(3) November, 2016 (4) November, 2014

105. खालील वाक्य काळजीपूर्वक वाचून योग्य उत्तर निवडा.

- (a) विधानपरिषदेची सभासद संख्या ही विधानसभेच्या सदस्य संख्येवर अवलंबून असते.
(b) विधान परिषद हे स्थायी सभागृह आहे.
(c) विधानपरिषदेचे सर्व सदस्य निर्वाचित असतात.
(d) महाराष्ट्र विधान परिषदेत 288 सदस्य आहेत.

पर्यायी उत्तरे :

- (1) (a), (b) (2) (b), (c) (3) (c), (d) (4) (b), (c), (d)

Read the following sentences carefully and choose **correct** answer.

- (a) Strength of Legislative Council depends on that of the Legislative Assembly.
(b) Vidhan Parishad that is Legislative Council is permanent house.
(c) All members of Legislative Council are elected.
(d) Maharashtra Legislative Council has 288 members.

Answer options :

- (1) (a), (b) (2) (b), (c) (3) (c), (d) (4) (b), (c), (d)

106. 1971 च्या लोकसंख्येला प्रमाण मानून इ.स. 2026 पर्यंत लोकसभेच्या सदस्य संख्येत कोणताही बदल होणार नाही, या तरतूदीनुसार केंद्रशासित प्रदेशांतील जनतेद्वारे 2014 च्या लोकसभा निवडणुकांमध्ये किती प्रतिनिधी निवडले गेले ?

- (1) 13 (2) 20 (3) 18 (4) 15

Based on the population in year 1971 there would be no modification in the number of seats in Loksabha till 2026. According to this provision how many candidates were elected by the citizens of Union Territories in 2014 Loksabha elections ?

- (1) 13 (2) 20 (3) 18 (4) 15

कच्च्या कामासाठी जागा /SPACE FOR ROUGH WORK

107. खालीलपैकी भारतीय संघराज्यासंदर्भात कोणते वैशिष्ट्य चुकीचे आहे ?

- (1) दुहेरी नागरिकत्व (2) दुहेरी शासनव्यवस्था
(3) लिखित राज्यघटना (4) सत्ता विभाजन

Which of the following characteristic is **not** correct in the context of Indian Federalism ?

- (1) Dual Citizenship (2) Dual Polity
(3) Written Constitution (4) Division of Powers

108. एकोणिसाव्या शतकाच्या सुरुवातीला 'चीन हा आता एक निद्रिस्त राक्षस आहे, पण तो ज्या दिवशी जागा होईल त्या दिवशी सर्व जग हादरवून सोडेल' या आशयाचे विधान कोणी केले ?

- (1) हिटलर (2) माओ-त्से-तुंग (3) नेपोलियन (4) मुसोलिनी

'China is a sleeping giant. Let her sleep, for when she wakes she will move the world'. Who made this sort of statement at the beginning of 19th century ?

- (1) Hitler (2) Mao-tse-Tung (3) Napoleon (4) Mussolini

109. राज्य शासनात मंत्रिमंडळ हे सामूहिकरित्या कोणाला जबाबदार असते ?

- (a) राज्यपाल (b) मुख्यमंत्री (c) विधानसभा

योग्य पर्याय निवडा :

- (1) (a) आणि (b) (2) फक्त (b) (3) फक्त (c) (4) वरील सर्व

In the State Government the Council of Ministers is collectively responsible to the :

- (a) Governor (b) Chief Minister (c) Vidhan Sabha

Select **correct** code :

- (1) (a) and (b) (2) only (b) (3) only (c) (4) All the above

110. राज्य विधानसभेची जास्तीत जास्त संख्या काय ठरविण्यात आली आहे ?

- (1) 250 (2) 550 (3) 500 (4) 100

What is the maximum strength prescribed for State Legislative Assemblies ?

- (1) 250 (2) 550 (3) 500 (4) 100

111. जानेवारी 2017 मध्ये केंद्रीय लोकसेवा आयोगाच्या (UPSC) अध्यक्षपदी कोणाची निवड करण्यात आली ?

- (1) दिपक गुप्ता (2) डेव्हिड आर. सिम्लिह
(3) अलका सिरोही (4) माता प्रसाद

Who has been appointed as the Chairman of Union Public Service Commission (UPSC) in Jan. 2017 ?

- (1) Deepak Gupta (2) David R. Syiemlieh
(3) Alka Sirohi (4) Mata Prasad

कच्च्या कामासाठी जागा /SPACE FOR ROUGH WORK

P.T.O.

112. खाली दिलेल्या पर्यायांपैकी भारतीय राजकारणातील एक पुढारी ज्यांनी भारताच्या एका राज्याचे मुख्यमंत्री, राज्यपाल व भारताचे उपराष्ट्रपती व राष्ट्रपती म्हणून जबाबदारी पार पाडली, त्या व्यक्तीचे नाव निवडा.

- (1) रामास्वामी वेंकटरमन (2) ग्यानी झैल सिंह
(3) नीलम संजीव रेड्डी (4) डॉ. शंकर दयाल शर्मा

Who among the following is that one Indian Political Leader who held the post of a Chief Minister, Governor of an Indian State, Vice President as well as President of India ?

- (1) Ramaswamy Venkatraman (2) Gyani Zail Singh
(3) Neelam Sanjiv Reddy (4) Dr. Shankar Dayal Sharma

113. शेतकऱ्यांसाठी स्वयंचलित हवामान स्थानकाचा वापर करणारे खालीलपैकी कोणते राज्य हे भारतातील पहिले राज्य ठरले ?

- (1) महाराष्ट्र (2) बिहार (3) गुजरात (4) राजस्थान

Which of the following states became First Indian State to use Automated Weather Stations for farmers ?

- (1) Maharashtra (2) Bihar (3) Gujarat (4) Rajasthan

114. रिचर्ड थेल्स यांना 2017 चा अर्थशास्त्रातील नोबेल पुरस्कार त्यांच्या _____ योगदानासाठी देण्यात आला.

- (1) कल्याणकारी अर्थशास्त्रामधील (2) आर्थिक समतोल सिद्धांतासंबंधीच्या
(3) आर्थिक वृद्धी संदर्भातील (4) वर्तनवादी अर्थशास्त्रासंबंधीच्या

Richard Thaler was awarded the Nobel Prize in Economic Sciences-2017 for his contribution in _____.

- (1) Welfare Economics (2) Economic Equilibrium Theory
(3) Economic Growth (4) Behavioural Economics

115. भारतातील खालीलपैकी कोणत्या ठिकाणी ज्योतिर्लिंग नाही ?

- (1) ओंकारेश्वर - मध्य प्रदेश
(2) विश्वेश्वर - उत्तर प्रदेश
(3) बृहदीश्वर - तमिलनाडू
(4) परळी वैजनाथ - महाराष्ट्र

Which is the place in India, where a 'Jyotirling' is not present ?

- (1) Onkareshwar - Madhya Pradesh
(2) Vishweshwar - Uttar Pradesh
(3) Brihadishwar - Tamil Nadu
(4) Parli-Vaijnath - Maharashtra

116. कोणत्या वर्षी संयुक्त राष्ट्रांच्या आमसभेने एका ठरावाद्वारे 'माहिती मिळवण्याचे स्वातंत्र्य, हा मूलभूत मानवी अधिकार असल्याचे घोषित केले ?

- (1) 1948 (2) 1946 (3) 1956 (4) 1952

In which year did the United Nations General Assembly declare 'Freedom of Information' as one of the fundamental human rights by a resolution ?

- (1) 1948 (2) 1946 (3) 1956 (4) 1952

कच्च्या कामासाठी जागा /SPACE FOR ROUGH WORK

117. खालीलपैकी कोणत्या संघाने 2017, आय सी सी (ICC) महिला क्रिकेट जागतिक कप जिंकला ?

- (1) इंग्लंड (2) भारत (3) दक्षिण आफ्रीका (4) ऑस्ट्रेलिया

Which of the following team won the 2017, ICC Women's Cricket World Cup ?

- (1) England (2) India (3) South Africa (4) Australia

118. 2017 च्या 53 व्या ज्ञानपीठ पुरस्कारासाठी कोणत्या व्यक्तीची निवड करण्यात आली ?

- (1) रघुवीर चौधरी (2) भालचंद्र नेमाडे

- (3) केदारनाथ सिंग (4) कृष्णा सोबती

Which person is selected for the 53rd Jnanpith Award for the year 2017 ?

- (1) Raghuvver Choudhari (2) Bhalchandra Nemade

- (3) Kedarnath Singh (4) Krishna Sobti

119. 2017 चे नोबेल शांती पुरस्कार कोणाला देण्यात आले ?

- (a) जॉन मॅन्युअल संतोश

- (b) कैलाश सत्यार्थी

- (c) आण्विक शस्त्रास्त्र नष्ट करणारी आंतरराष्ट्रीय मोहीम (ICAN)

योग्य उत्तर निवडा :

- (1) फक्त (b) (2) फक्त (c) (3) (a) आणि (c) (4) यापैकी नाही

Nobel Peace Prize, 2017 awarded to whom ?

- (a) Juan Manuel Santos

- (b) Kailash Satyarthi

- (c) International Campaign to Abolish Nuclear Weapons (ICAN)

Select correct answer :

- (1) only (b) (2) only (c) (3) (a) and (c) (4) None of them

120. कोणत्या वर्षी कोणत्या घटनादुरुस्तीने भारतात मतदारांची वयोमर्यादा 21 वर्षांवरून 18 वर्षे करण्यात आली ?

- (1) 1976, 42 वी घटनादुरुस्तीने (2) 1971, 26 वी घटनादुरुस्तीने

- (3) 1978, 44 वी घटनादुरुस्तीने (4) 1989, 61 वी घटनादुरुस्तीने

In which year and according to which constitutional amendment the minimum age to cast vote in elections was reduced to 18 years from 21 years ?

- (1) 1976, 42nd amendment (2) 1971, 26th amendment

- (3) 1978, 44th amendment (4) 1989, 61st amendment

121. भारतीय राज्यघटनेचा कोणता भाग हा नागरिकत्वाशी संबंधित आहे ?

- (1) भाग - I (2) भाग - II (3) भाग - III (4) भाग - IV

Which part of the Indian Constitution is associated with Citizenship ?

- (1) Part - I (2) Part - II (3) Part - III (4) Part - IV

कच्च्या कामासाठी जागा /SPACE FOR ROUGH WORK

P.T.O.

122. भारतीय संविधानकर्त्यांनी 'केंद्राकडून राज्यांच्या राज्यपालांची नियुक्तीची' कल्पना _____ च्या संविधानातून घेतली.

- (1) रशिया (यु.एस.एस.आर.) (2) दक्षिण अफ्रिका
(3) ऑस्ट्रेलिया (4) कॅनडा

The framers of the Constitution of India, borrowed an idea of an 'Appointment of State Governors by centre', from the Constitution of _____.

- (1) Russia (USSR) (2) South Africa
(3) Australia (4) Canada

123. "साहित्य अकादमी पुरस्कार" आसाराम लोमटेच्या कोणत्या पुस्तकास मिळाला ?

- (1) इडा पिडा टळो (2) धुळ पेर
(3) आलोक (4) 14 महिने 13 दिवस आणि ...

Which book by Asaram Lomate received the "Sahitya Academy Award" ?

- (1) Idha Pidha Talo (2) Dhul Per
(3) Aalok (4) 14 Mahine 13 Diwas Aani ...

124. माहितीच्या अधिकारासंबंधीचे अर्ज ऑनलाईन भरण्याची सोय करणारे भारतातील पहिले राज्य कोणते आहे ?

- (1) गुजरात (2) पश्चिम बंगाल
(3) आंध्र प्रदेश (4) महाराष्ट्र

Which is the first state in India to allow on-line filing of Right to information (RTI) applications ?

- (1) Gujarat (2) West Bengal
(3) Andhra Pradesh (4) Maharashtra

125. यंत्रमानवाला नागरिकत्व बहाल करणारे खालीलपैकी कोणते राष्ट्र हे जगातील पहिले राष्ट्र ठरले ?

- (1) अमेरिका (2) जपान (3) सौदी अरेबिया (4) अफगाणिस्तान

Which of the following countries is the first in the world to grant citizenship to a Robot ?

- (1) America (2) Japan (3) Saudi Arabia (4) Afghanistan

126. सूर्याचा अभ्यास करण्यासाठीची पहिली भारतीय मोहीम _____.

- (1) भास्करायन (2) चंद्रायन (3) आदित्य - एल 1 (4) गगन

First Indian mission to study the Sun _____.

- (1) Bhaskarayan (2) Chandrayan (3) Aditya - L1 (4) Gagan

127. राज्यातील मुलींना बालवाडी ते पी एच् डी पर्यंतचे शिक्षण निःशुल्क देण्याची घोषणा कोणत्या राज्य सरकारने केली ?

- (1) उत्तर प्रदेश सरकार (2) राजस्थान सरकार
(3) गुजरात सरकार (4) पंजाब सरकार

Which State Government declared free education for every girl student from Kindergarten to Ph.D. ?

- (1) Uttar Pradesh Government (2) Rajasthan Government
(3) Gujarat Government (4) Punjab Government

कच्च्या कामासाठी जागा /SPACE FOR ROUGH WORK

128. राज्यघटनेच्या कोणत्या कलमानुसार सर्वोच्च न्यायालयास आपल्या निर्णयांवर व आदेशांवर पुनर्विचार करण्याचा अधिकार आहे ?

- (1) कलम 138 नुसार (2) कलम 142 नुसार (3) कलम 137 नुसार (4) कलम 143 नुसार
According to which article in constitution, the Supreme Court has the right to re-consider its decisions or orders ?
(1) Article 138 (2) Article 142 (3) Article 137 (4) Article 143

129. भारतीय राज्यघटनेच्या सरनाम्याला " भारतीय राज्यघटनेचा आत्मा " कोणी म्हटले आहे ?

- (1) के.एम. मुन्शी (2) डॉ. बी.आर. आंबेडकर
(3) ठाकुर दास भार्गव (4) एम.व्ही. पायली
Who referred the preamble to the Indian Constitution as the "Soul of Indian Constitution"?
(1) K.M. Munshi (2) Dr. B.R. Ambedkar
(3) Thakur Das Bhargav (4) M.V. Pylee

130. इलेक्ट्रॉनिक व्होटींग मशीन व बॅलेट वर 'वरीलपैकी कोणीही नाही' (NOTA) या बटनाची सुरुवात कोणत्या वर्षी करण्यात आली ?

- (1) 2015 (2) 2013 (3) 2011 (4) 2009
In which year was 'None of the above' (NOTA) button introduced in EVMs (Electronic Voting Machines) and ballots ?
(1) 2015 (2) 2013 (3) 2011 (4) 2009

131. 'महाराष्ट्र मिशन 1 मिलियन' हा कार्यक्रम कोणत्या खेळाशी संबंधित आहे ?

- (1) हॉकी (2) क्रिकेट (3) फुटबॉल (4) व्हॉलिबॉल
The 'Maharashtra Mission 1 Million' programme is related to which sport ?
(1) Hockey (2) Cricket (3) Football (4) Volleyball

132. महाराष्ट्र शासनाच्या विविध योजनांची माहिती मिळावी यासाठी महाराष्ट्राच्या राज्य सरकारने कोणते पोर्टल सुरू केले ?

- (1) महालाभार्थी (Mahalabharthi) (2) महालक्ष्मी (Mahalaxmi)
(3) महास्कीम्स (Mahaschemes) (4) महायोजना (Mahayojana)
Which of portal is launched by the State Government of Maharashtra to provide information about all the Maharashtra Government schemes ?
(1) Mahalabharthi (2) Mahalaxmi
(3) Mahaschemes (4) Mahayojana

कच्च्या कामासाठी जागा /SPACE FOR ROUGH WORK

P.T.O.

133. पदासाठी आवश्यक असणारी पात्रता अंगी नसताना एखादे सरकारी/सार्वजनिक पद बेकायदेशिरित्या एखाद्या व्यक्तित्ने बळकावले असेल तर त्यासाठी न्यायालयात कोणता अर्ज केला जातो ?

- (1) प्रतिषेध (2) उत्प्रेषण (3) अधिकार पृच्छा (4) परमादेश

If any ineligible candidate unlawfully acquires any public/Government post, then which of the following can be charged against him/her in the court ?

- (1) Prohibition (2) Certiorari (3) Quo Warranto (4) Mandamus

134. नोबेल पुरस्कार विजेते कैलाश सत्यार्थी यांनी बालकांची विक्री व लैंगिक शोषण या विरुद्ध लढा देण्यासाठी कोणता उपक्रम हाती घेतला ?

- (1) बेटी बचाव - बेटी पढाओ
(2) सुरक्षित माता - सुरक्षित बालक
(3) सुरक्षित बचपन - सुरक्षित भारत
(4) सक्षम भारत - सुरक्षित बालक

Which programme was launched by Nobel Prize Winner Kailash Satyarathi to fight against child trafficking and their sexual abuse ?

- (1) Beti Bachao - Beti Padhao
(2) Surakshit Mata - Surakshit Balak
(3) Surakshit Bachpan - Surakshit Bharat
(4) Saksham Bharat - Surakshit Balak

135. '2017 चा राजीव गांधी खेलरत्न पुरस्कार' देवेंद्र झाझरीया यांना _____ मधील त्यांच्या विशेष कामगिरीसाठी देण्यात आला.

- (1) हॉकी (2) भालाफेक (3) मुष्टियुद्ध (4) कुस्ती

Devendra Jhajhria was awarded 'Rajiv Gandhi Khelratna Award -2017' for his outstanding performance in _____.

- (1) Hockey (2) Javelin throw (3) Boxing (4) Wrestling

136. पुढील संख्यामालिकेत न बसणारी फक्त एक संख्या चुकीची आहे. ती चुकीची संख्या शोधा.

16, 19, 21, 30, 46, 71, 107

- (1) 30 (2) 19 (3) 71 (4) 46

In the following number series, only one number is wrong. Which do not fit in the series.; find out that wrong number.

16, 19, 21, 30, 46, 71, 107

- (1) 30 (2) 19 (3) 71 (4) 46

कच्च्या कामासाठी जागा /SPACE FOR ROUGH WORK

137. खाली एक प्रश्न आणि त्या प्रश्नाचे उत्तर देण्यासंबंधीची माहिती पुरविणारी दोन विधाने दिलेली आहेत.

X हा N शी कसा संबंधित आहे ?

- (a) X ही J ची आई आहे. T चे Z शी लग्न झाले आहे. N ही T ची मुलगी आहे. Z हा J चा भाऊ आहे.
 (b) X चे Y शी लग्न झाले आहे. Y हा J चा वडील आहे. J चे L शी लग्न झाले आहे. J हा N चा चुलता आहे.

विधानांबाबतचा योग्य पर्याय निवडा.

- (1) प्रश्नाचे उत्तर देण्यासाठी विधान (a) व विधान (b) मधील एकत्रित माहिती पुरेशी नाही.
 (2) प्रश्नाचे उत्तर देण्यासाठी फक्त विधान (a) मधील माहिती पुरेशी आहे तर विधान (b) मधील माहिती पुरेशी नाही.
 (3) प्रश्नाचे उत्तर देण्यासाठी फक्त विधान (a) किंवा फक्त विधान (b) मधील माहिती पुरेशी आहे.
 (4) प्रश्नाचे उत्तर देण्यासाठी विधान (a) व विधान (b) मधील एकत्रित माहिती आवश्यक आहे.

One question and two statements providing information to answer the question are given below.

How is X related to N ?

- (a) X is the mother of J. T is married with Z. N is the daughter of T. Z is the brother of J.
 (b) X is married with Y, Y is the father of J. J is married with L. J is the uncle of N.

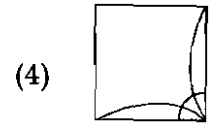
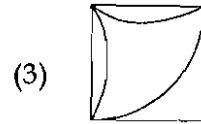
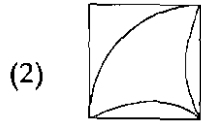
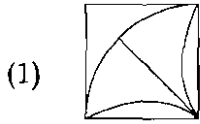
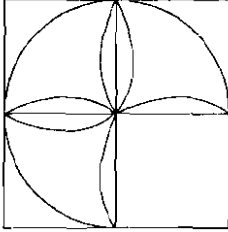
Select correct alternative about the statements.

- (1) The data even in both statements (a) and (b) together are not sufficient to answer the question.
 (2) The data in statement (a) alone is sufficient to answer the question while the data in statement (b) alone is not sufficient to answer the question.
 (3) The data either in statement (a) alone or statement (b) alone are sufficient to answer the question.
 (4) The data in both statements (a) and (b) together are necessary to answer the question.

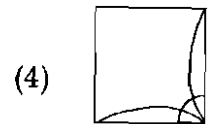
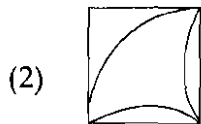
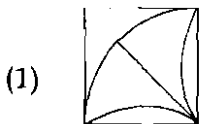
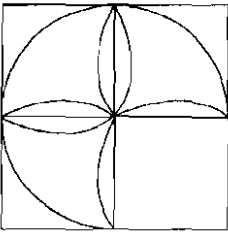
कच्च्या कामासाठी जागा /SPACE FOR ROUGH WORK

P.T.O.

138. स्थिती न बदलता जाळीच्या चौकटीत बसवण्यास योग्य पर्याय निवडा.



Select the option that can be used for completing the grill without changing its position.



कच्च्या कामासाठी जागा /SPACE FOR ROUGH WORK

139. जर A = 1, B = 2, C = 3..... असे क्रमाने असेल तर आकृतीमधील लुप्त झालेला भाग शोधा.

K	J	D	W	Q
R	L	F	E	X
Y	S	M	G	A
B	U	T		
I	C	V		

(1)

N	H
P	O

(2)

H	N
P	O

(3)

P	N
H	O

(4)

O	H
P	N

If A = 1, B = 2, C = 3..... respectively, then find the missing part of the diagram.

K	J	D	W	Q
R	L	F	E	X
Y	S	M	G	A
B	U	T		
I	C	V		

(1)

N	H
P	O

(2)

H	N
P	O

(3)

P	N
H	O

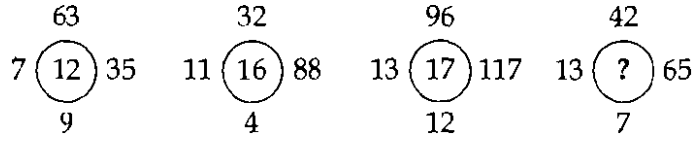
(4)

O	H
P	N

कच्च्या कामासाठी जागा /SPACE FOR ROUGH WORK

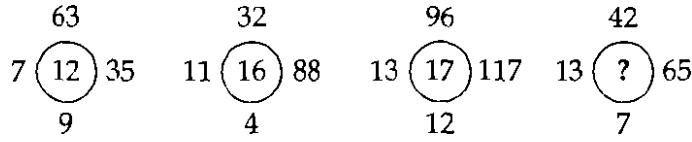
P.T.O.

140. खालील प्रत्येक आकृतीतील संख्या विशिष्ट सुत्रानुसार आहेत. प्रश्नचिन्हाच्या जागी येणारी संख्या शोधा.



- (1) 21 (2) 19 (3) 11 (4) 13

The numbers in each of the following figure are according to some rule. Find the missing number in place of question mark ?



- (1) 21 (2) 19 (3) 11 (4) 13

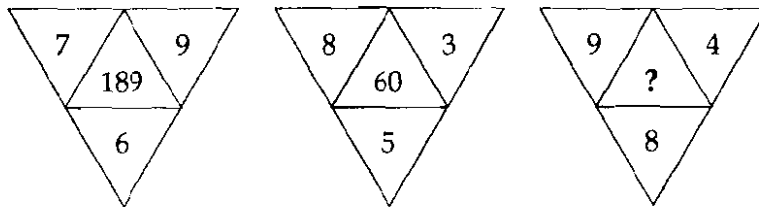
141. एका सांकेतिक भाषेत ANTICIPATION हा शब्द ICITNANOITAP असा लिहितात तर त्याच भाषेत PRODUCTIVITY हा शब्द कसा लिहाल ?

- (1) CUDOPRYTIVIT (2) CUDORPYTIUIT
 (3) CUDORPYTIVIT (4) CUDORPTYIUIT

In a certain code language ANTICIPATION is written as ICITNANOITAP. How will be PRODUCTIVITY written in that code ?

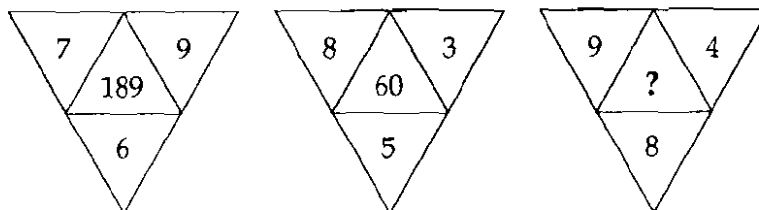
- (1) CUDOPRYTIVIT (2) CUDORPYTIUIT
 (3) CUDORPYTIVIT (4) CUDORPTYIUIT

142. खालील प्रत्येक आकृतीतील संख्या विशिष्ट सुत्रानुसार आहेत. प्रश्नचिन्हाच्या जागी कोणती संख्या येईल ?



- (1) 144 (2) 288 (3) 96 (4) 244

The numbers in each of the following figures are according to some formula. Which number will occur in the place of question mark ?



- (1) 144 (2) 288 (3) 96 (4) 244

कच्च्या कामासाठी जागा /SPACE FOR ROUGH WORK

143. पुढील दिलेली माहिती काळजीपूर्वक वाचा आणि प्रश्नाचे उत्तर द्या :

जर $A \times B$ म्हणजे A हा B चा मुलगा आहे.

जर $A + B$ म्हणजे A ही B ची मुलगी आहे.

जर $A \div B$ म्हणजे A ही B ची पत्नी आहे.

जर $A - B$ म्हणजे A हा B चा वडील आहे.

H ही E ची आई आहे हे प्रस्थापीत होण्यासाठी खालील विधानात प्रश्न चिन्हाच्या जागी काय येईल?

$E + F - G ? H$

(1) \div (2) \times (3) $-$ (4) (1), (2), (3) पैकी नाही

Read the following information carefully and answer the question.

If $A \times B$ means A is son of B.

If $A + B$ means A is daughter of B.

If $A \div B$ means A is wife of B.

If $A - B$ means A is father of B.

What will come in the place of question mark in the following statement to establish that H is mother of E ?

$E + F - G ? H$

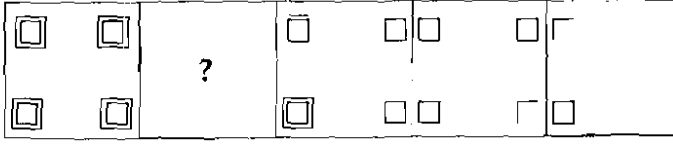
(1) \div (2) \times (3) $-$ (4) None of (1), (2), (3)

कच्च्या कामासाठी जागा /SPACE FOR ROUGH WORK

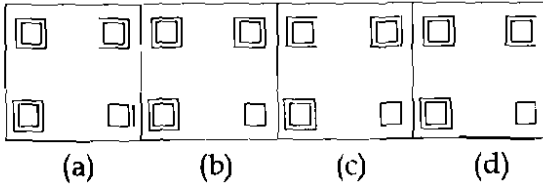
P.T.O.

144. प्रश्न आकृतीत, आकृत्यांची एक शृंखला दिलेली आहे. प्रश्नार्थक चिन्हाच्या ठिकाणी योग्य ती आकृती उत्तर आकृत्यातून निवडा.

प्रश्न आकृत्या :



उत्तर आकृत्या :

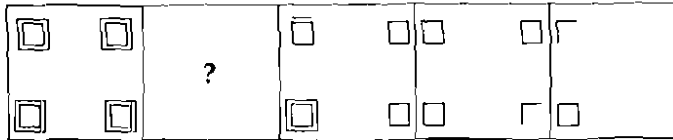


- (1) (a) (2) (b) (3) (c) (4) (d)

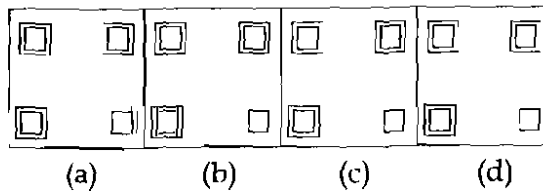
A series of figures is given in the question figure.

Select a correct figure from answer figures which will replace the question mark.

Question Figures :



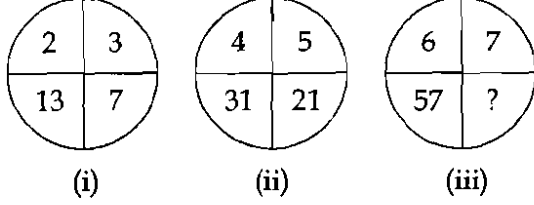
Answer Figures :



- (1) (a) (2) (b) (3) (c) (4) (d)

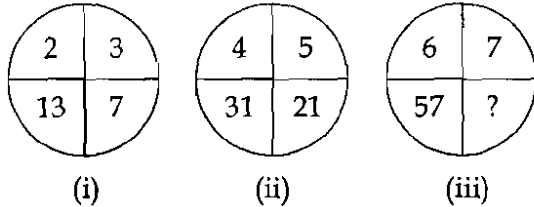
कच्च्या कामासाठी जागा /SPACE FOR ROUGH WORK

145. खालील प्रत्येक आकृतीतील संख्या विशिष्ट सुत्रानुसार आहेत. खालीलपैकी कोणती संख्या प्रश्नार्थक चिन्हाच्या जागी येईल?



- (1) 40 (2) 41 (3) 42 (4) 43

The numbers in each of the following figure are according to some formula. Which one of the following number will occupy the question mark ?



- (1) 40 (2) 41 (3) 42 (4) 43

146. एका कारच्या प्रत्येक चाकाचा व्यास 70 सेमी. आहे. जर कारचा वेग ताशी 66 किमी. असेल तर प्रत्येक चाक 10 मिनिटात किती वेळा पूर्ण फिरेल? ($\pi = 22/7$ घ्या)

- (1) 11,000 (2) 7,000 (3) 5,500 (4) 5,000

Each wheel of a car is of diameter 70 cm. How many complete revolutions does each wheel make in 10 minutes when the car is travelling 66 km/hr ? (Take $\pi = 22/7$)

- (1) 11,000 (2) 7,000 (3) 5,500 (4) 5,000

147. एका वर्षाचे ₹ 8,000 मुद्दलाचे $6\frac{1}{2}$ द.सा.द.शे. दराने व्याज काढा.

- (1) ₹ 520 (2) ₹ 480 (3) ₹ 500 (4) ₹ 560

Calculate yearly interest on ₹ 8,000 at the rate of interest $6\frac{1}{2}\%$ per annum.

- (1) ₹ 520 (2) ₹ 480 (3) ₹ 500 (4) ₹ 560

148. छापील किमतीवर शेकडा 6 सूट देऊन दुकानदाराने एक पंखा ₹ 1,128 ला विकला, तर पंखाची छापील किंमत किती ?

- (1) ₹ 1,134 (2) ₹ 2,000 (3) ₹ 1,200 (4) ₹ 1,250

A shopkeeper sold a fan for ₹ 1,128 after giving 6% discount. Find the Market price.

- (1) ₹ 1,134 (2) ₹ 2,000 (3) ₹ 1,200 (4) ₹ 1,250

कच्च्या कामासाठी जागा /SPACE FOR ROUGH WORK

P.T.O.

149. एका पुस्तकाची छापील किंमत ₹ 180 असून ते ₹ 153 ला विकले. तर शेकडा सूट काढा.

- (1) 15 % (2) 27 % (3) 20 % (4) 17.65 %

A book is marked ₹ 180 and sold for ₹ 153. Find the rate of discount.

- (1) 15 % (2) 27 % (3) 20 % (4) 17.65 %

150. स्वतःच्या विहिरीसाठी लिफ्ट पंप घेण्याकरिता राम ने 3 वर्षासाठी ₹ 12.5 द.सा.द.शे. दराने चक्रवाढ व्याजावर ₹ 16,000 उधार घेतले. जर त्यानी सरळ व्याजावर पैसे उधार घेतले असते तर व्याजातला फरक किती असता ?

- (1) ₹ 780 (2) ₹ 781.25 (3) ₹ 782.50 (4) ₹ 794.75

In order to buy a lift pump for his well Ram borrowed ₹ 16,000 for 3 years at a rate of compound interest of ₹ 12.5 p.c.p.a. What would have been the difference in the interest on his principal had he borrowed it at simple interest ?

- (1) ₹ 780 (2) ₹ 781.25 (3) ₹ 782.50 (4) ₹ 794.75

151. तीन क्रमागत विषम नैसर्गिक संख्या अशा आहेत की पहिल्या व दुसऱ्या संख्यांचा गुणाकार तिसऱ्या संख्येच्या दुप्पटीपेक्षा 1 ने जास्त आहे. तर त्यातली दुसरी संख्या कोणती ?

- (1) 3 (2) 5 (3) 7 (4) 9

Three consecutive odd natural numbers are such that the product of the first and second number is 1 more than two times the third number. Which is the second number ?

- (1) 3 (2) 5 (3) 7 (4) 9

152. 30 कर्मचाऱ्यांनी एका वर्षात उपभोगलेल्या वैद्यकीय रजेची माहिती खालील तक्त्यात दिली आहे.

दिवसांची संख्या	0 - 10	10 - 20	20 - 30	30 - 40	40 - 50
कर्मचाऱ्यांची संख्या	5	7	11	4	3

तर कर्मचाऱ्यांनी एका वर्षात उपभोगलेल्या वैद्यकीय रजेचा मध्य काढा.

- (1) 23.45 दिवस (2) 25 दिवस (3) 22.67 दिवस (4) 27.24 दिवस

Information regarding the medical leave enjoyed by 30 employees in one year is given in the following table.

No. of days	0 - 10	10 - 20	20 - 30	30 - 40	40 - 50
No. of employees	5	7	11	4	3

Find the mean number of medical leaves in one year.

- (1) 23.45 days (2) 25 days (3) 22.67 days (4) 27.24 days

153. द.सा.द.शे. 10 दराने ₹ 50,000 मुद्दलाचे सरळव्याजाने किती वर्षात ₹ 60,000 होतील ?

- (1) 2 वर्षे (2) 4 वर्षे (3) 2.5 वर्षे (4) 3 वर्षे

In how many years a sum of ₹ 50,000 will amount to ₹ 60,000 at 10% per annum simple interest ?

- (1) 2 years (2) 4 years (3) 2.5 years (4) 3 years

कच्च्या कामासाठी जागा /SPACE FOR ROUGH WORK

154. जर एका बादलीत $\frac{3}{5}$ भाग पाणी भरले तर त्या बादलीचे वजन 15 कि.ग्रॅ. भरते आणि जर त्या बादलीत $\frac{4}{5}$ भाग पाणी भरले तर तिचे वजन 19 कि.ग्रॅ. भरते. तर पाण्याने पूर्ण भरलेल्या बादलीचे एकूण वजन काढा.
 (1) 20 कि.ग्रॅ. (2) 21 कि.ग्रॅ. (3) 22 कि.ग्रॅ. (4) 23 कि.ग्रॅ.
- If $\frac{3}{5}$ part of a pail is filled with water then it weighs 15 kg and if $\frac{4}{5}$ part of the pail is filled with water then it weighs 19 kg. Then what is the weight of the pail when it is fully filled ?
 (1) 20 kg (2) 21 kg (3) 22 kg (4) 23 kg
-
155. 4 मुले व 2 मुली यांच्यातून दोघांची एक समिती बनवायची आहे. तर समितीमध्ये कमीतकमी एक मुलगी असण्याची संभाव्यता किती ?
 (1) $\frac{1}{2}$ (2) $\frac{3}{5}$ (3) $\frac{2}{5}$ (4) $\frac{7}{15}$
 A committee of two people is to be formed from 4 boys and 2 girls. What is the probability of having at least one girl in the committee ?
 (1) $\frac{1}{2}$ (2) $\frac{3}{5}$ (3) $\frac{2}{5}$ (4) $\frac{7}{15}$
-
156. एका संघातील 100 विद्यार्थ्यांचे सरासरी वय 60 असून, दुसऱ्या संघातील 50 विद्यार्थ्यांचे सरासरी वय 90 आहे. तर दोन्ही संघ मिळून 150 विद्यार्थ्यांचे सरासरी वय काढा.
 (1) 65 (2) 75 (3) 80 (4) 70
 The average age of group of 100 students is 60 and for another group of 50 students, the average age is 90. Find the average age of combined group of 150 students.
 (1) 65 (2) 75 (3) 80 (4) 70
-
157. एक मधमाशी सकाळी तिचे पोळे सोडते आणि उत्तर दिशेला 30 मिनिटे उडल्यानंतर एका बागेत पोहचते व तिथे 10 मिनिटे मध गोळा करते. त्यानंतर ती पूर्व दिशेला 40 मिनिटे उडते आणि दुसऱ्या बागेत 15 मिनिटे मध गोळा करते. त्यानंतर ती सर्वात जवळच्या मार्गाने तिच्या पोळ्यापाशी परत येते. समजा मधमाशीचा उडण्याचा वेग तिच्या उडण्याच्या प्रवासात एकसमान होता, तर मधमाशी किती काळ आपल्या पोळ्यापासून दूर होती ?
 (1) 145 मि. (2) 135 मि. (3) 125 मि. (4) 115 मि.
 A bee leaves its hive in the morning and after flying for 30 minutes due north reaches a garden and spends 10 minutes there collecting honey. Then it flies for 40 minutes due east and collects honey in another garden for 15 minutes. Then it returns to the hive taking the shortest route. Assuming that the speed of the bee was constant throughout its flight, how long the bee was away from its hive ?
 (1) 145 min. (2) 135 min. (3) 125 min. (4) 115 min.
-
158. एका गाडीने 555 कि.मी प्रवासाचा काही भाग ताशी 60 कि.मी. वेगाने पार केला. नंतर गाडीचा वेग ताशी 15 कि.मी. वाढवून उरलेला प्रवास पूर्ण केला. जर एकूण 8 तासात त्याने सर्व प्रवास पूर्ण केला असेल तर ताशी 60 कि.मी. या वेगाने त्या गाडीने किती कि.मी. प्रवास केला व त्यासाठी त्या गाडीला किती वेळ लागला ?
 (1) 120 कि.मी 2 ताशी (2) 180 कि.मी 3 ताशी (3) 240 कि.मी 4 ताशी (4) 360 कि.मी 6 ताशी
 A car travels some part of a 555 km journey at a speed of 60 km/hr. It increases its speed by 15 km/hr for the remaining distance. If it covers the entire distance in 8 hrs, then how much distance does it cover at 60 km/hr and how much time does it take to cover this distance ?
 (1) 120 km, 2 hrs (2) 180 km, 3 hrs (3) 240 km, 4 hrs (4) 360 km, 6 hrs

कच्च्या कामासाठी जागा /SPACE FOR ROUGH WORK

P.T.O.

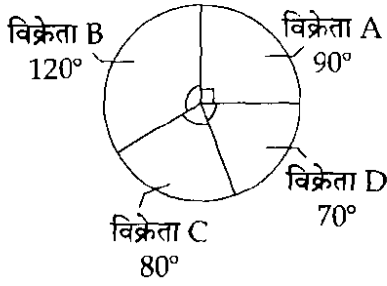
159. तीन माणसे व चार मुले एक काम 14 दिवसात पूर्ण करू शकतात, तर तेच काम चार माणसे व सहा मुले 10 दिवसात पूर्ण करतात. तर दोन माणसांना ते काम पूर्ण करण्यासाठी किती दिवस लागतील ?

- (1) 30 दिवस (2) 35 दिवस (3) 55 दिवस (4) 70 दिवस

Three men and four boys can do a piece of work in 14 days while four men and six boys do the same work in 10 days. How long would it take two men to finish the same work ?

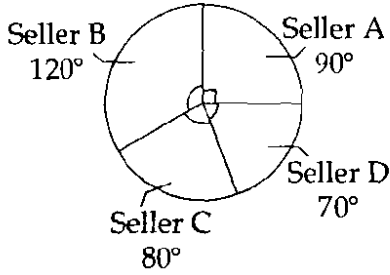
- (1) 30 days (2) 35 days (3) 55 days (4) 70 days

160. एका आठवड्यात चार विक्रेत्यांकडून झालेली विक्री खाली दिलेल्या वृत्तलेखात दिली आहे. त्याचा अभ्यास करून जर विक्रेता A ची एकूण विक्री ₹ 18,000 असेल तर सर्वात जास्त व सर्वात कमी विक्रीमधील फरक काढा.



- (1) ₹ 2,500 (2) ₹ 5,000 (3) ₹ 7,500 (4) ₹ 10,000

The following Pie diagram shows the weekly sales of four sellers. If seller A has a total sale of ₹ 18,000 then find the difference in sales between the highest and lowest seller.



- (1) ₹ 2,500 (2) ₹ 5,000 (3) ₹ 7,500 (4) ₹ 10,000

161. पासबुक मध्ये रक्कम ₹ 5,000 दोनदा नावे करण्यात आली आहे. जर रोकडवहीनुसार आरंभीचा बिंदू अधिकर्ष आहे तर _____.

- (1) ₹ 5,000 वजा केले जातील (2) ₹ 5,000 अधिक केले जातील
(3) ₹ 10,000 वजा केले जातील (4) ₹ 10,000 अधिक केले जातील

An amount of ₹ 5,000 is debited twice in the Pass Book. When overdraft as per the Cash Book is the starting point then _____.

- (1) ₹ 5,000 will be deducted (2) ₹ 5,000 will be added
(3) ₹ 10,000 will be deducted (4) ₹ 10,000 will be added

कच्च्या कामासाठी जागा /SPACE FOR ROUGH WORK

162. खालीलपैकी खतावणीचे उप-विभाग आहे :

- | | |
|-----------------------|-------------------|
| (1) विक्रीचे खतावणी | (2) धनकोचे खतावणी |
| (3) सर्वसाधारण खतावणी | (4) वरीलपैकी सर्व |

The following is the subdivisions of ledger :

- | | |
|--------------------|-----------------------|
| (1) Sales ledger | (2) Creditor's ledger |
| (3) General ledger | (4) All of the above |

163. शालेय कार्यक्रमाच्या मुख्य अतिथीला दिलेली रक्कम _____ म्हणून मानली जाते.

- | | | | |
|---------|---------|----------------|-----------|
| (a) भेट | (b) दान | (c) सेवा शुल्क | (d) मानधन |
|---------|---------|----------------|-----------|

वरीलपैकी कोणते उत्तर/उत्तरे बरोबर आहेत ?

- | | | | |
|-----------------|--------------|--------------|--------------|
| (1) (a) आणि (c) | (2) (b) फक्त | (3) (d) फक्त | (4) (c) फक्त |
|-----------------|--------------|--------------|--------------|

Payment made to the Chief Guest of school program, is termed as :

- | | | | |
|----------|--------------|--------------------|----------------|
| (a) Gift | (b) Donation | (c) Service Charge | (d) Honararium |
|----------|--------------|--------------------|----------------|

Which of the above answer/answers are right ?

- | | | | |
|-----------------|--------------|--------------|--------------|
| (1) (a) and (c) | (2) (b) only | (3) (d) only | (4) (c) only |
|-----------------|--------------|--------------|--------------|

164. _____ हे रोकड आणि धनादेश हाताळणाऱ्या कर्मचाऱ्याने केलेली अफरातफर उघडकीस आणू शकते.

- | | |
|----------------|------------------------|
| (1) ताळेबंद | (2) रोजकिर्द |
| (3) तेरीजपत्रक | (4) बँक मेळजुळणी पत्रक |

_____ can reveals frauds committed by the staff handling cash and cheques.

- | | |
|-------------------|-----------------------------------|
| (1) Balance sheet | (2) Journal |
| (3) Trial balance | (4) Bank Reconciliation statement |

165. अधिकोष मेळजुळणी यांच्याकडून तयार करतात :

- | | | | |
|------------|------------|----------|----------|
| (1) अधिकोष | (2) संस्था | (3) धनको | (4) ऋणको |
|------------|------------|----------|----------|

A Bank Reconciliation is prepared by :

- | | | | |
|------------|--------------|---------------|-------------|
| (1) a Bank | (2) the firm | (3) creditors | (4) debtors |
|------------|--------------|---------------|-------------|

166. उधारीवरची व्यवसायाची मालमत्ता विक्रीची नोंद यामध्ये आहे :

- | | |
|---------------------|-------------------------|
| (1) विक्री रोजकीर्द | (2) सर्वसाधारण रोजकीर्द |
| (3) खरेदी पुस्तक | (4) रोख पुस्तक |

The sale of a business asset on credit is recorded in :

- | | |
|--------------------|---------------------|
| (1) Sales Day Book | (2) General Journal |
| (3) Purchase Book | (4) Cash Book |

कच्च्या कामासाठी जागा /SPACE FOR ROUGH WORK

P.T.O.

167. खालील विधाने विचारात घ्या :

- (a) विक्री - डोबळ नफा = विक्री मालाचा परिव्यय.
- (b) वसूल न होण्याची शक्यता असणाऱ्या कर्जाची तरतूद बुडीत ऋणको खात्याच्या नावे बाजूस केली जाते.
- (c) मालकाच्या वतीने आयकर भरलेली रक्कम नफा आणि तोटा खात्यास नावे बाजूस लिहितात.
- (d) नफा नेहमी रोकड किंवा अधिकोष शिल्लक दर्शवितो.

वरीलपैकी कोणते विधान/विधाने बरोबर आहेत ?

- (1) (a) आणि (b) (2) (a) आणि (c) (3) (a) फक्त (4) (d) फक्त

Consider the following statements :

- (a) Sales - Gross Profit = Cost of goods sold.
- (b) The provision for doubtful debts is debited to Bad Debts Account.
- (c) Income Tax paid on behalf of the proprietor is debited to the Profit and Loss Account.
- (d) Profit is always represented as cash or bank balance.

Which of the statement given above is/are correct ?

- (1) (a) and (b) (2) (a) and (c) (3) (a) only (4) (d) only

168. अधिकोष मेळजुळणी पत्रक हे आहे :

- (1) रोख पुस्तकाचा भाग (2) अधिकोष खात्याचा भाग
- (3) ऋणको खात्याचा भाग (4) वरीलपैकी कोणतेही नाही

A Bank Reconciliation statement is a :

- (1) Part of Cash Book (2) Part of Bank Account
- (3) Part of Debtor's Account (4) None of the above

कच्च्या कामासाठी जागा /SPACE FOR ROUGH WORK

169. खालील जोड्या लावा :

- | | |
|------------------------|----------------------------------|
| (a) आय आणि व्यय खाते | (i) महसूली आय |
| (b) भांडवल निधी | (ii) रोकड व्यवहार नोंदीचा सारांश |
| (c) भांडवली खर्च | (iii) देयतेपेक्षा मालमत्ता अधिक |
| (d) शाळेला वेतन अनुदान | (iv) स्थिर मालमत्ता विकत घेणे |

पर्यायी उत्तरे :

- | | | | | |
|-----|-------|-------|-------|------|
| | (a) | (b) | (c) | (d) |
| (1) | (i) | (ii) | (iii) | (iv) |
| (2) | (iii) | (ii) | (i) | (iv) |
| (3) | (ii) | (iii) | (iv) | (i) |
| (4) | (iv) | (iii) | (i) | (ii) |

Match the following :

- | | |
|---------------------------------|--|
| (a) Receipt and Payment Account | (i) Revenue Income |
| (b) Capital Fund | (ii) Summary Record of cash transactions |
| (c) Capital Expenditure | (iii) Excess of Assets over liabilities |
| (d) Salary grant to school | (iv) Acquiring Fixed Assets |

Answer options :

- | | | | | |
|-----|-------|-------|-------|------|
| | (a) | (b) | (c) | (d) |
| (1) | (i) | (ii) | (iii) | (iv) |
| (2) | (iii) | (ii) | (i) | (iv) |
| (3) | (ii) | (iii) | (iv) | (i) |
| (4) | (iv) | (iii) | (i) | (ii) |

170. एकल व्यापारी संस्थेबाबत, नफा व तोटा पत्रकाला दर्शविलेली निव्वळ तोट्याची रक्कम भांडवल खात्याला वर्ग करतात याचा परिणाम _____.

- (a) भांडवल खाते जमा होते
 (b) भांडवल खाते नावे होते
 (c) नफा आणि तोटा पत्रक नावे होते
 (d) नफा आणि तोटा पत्रक जमा होते

वरीलपैकी कोणते विधान/विधाने बरोबर आहेत ?

- (1) (a) फक्त (2) (b) आणि (c) (3) (b) आणि (d) (4) (a) आणि (d)

In case of sole - proprietary firm, the amount of net loss shown by the Profit and Loss Account is transferred to capital account, the result _____.

- (a) Capital Account is credited
 (b) Capital Account is debited
 (c) Profit and Loss Account is debited
 (d) Profit and Loss Account is credited

Which of the above statement(s) is/are correct ?

- (1) (a) only (2) (b) and (c) (3) (b) and (d) (4) (a) and (d)

कच्च्या कामासाठी जागा /SPACE FOR ROUGH WORK

P.T.O.

171. समायोजित नोंदी बनवलेल्या असतात :

- | | |
|----------------------------------|------------------------------------|
| (1) लेखांकन कालावधीच्या शेवटी | (2) लेखांकन कालावधीच्या सुरुवातीला |
| (3) लेखांकन कालावधीच्या मध्यावधी | (4) वरीलपैकी कोणतेही नाही |

Adjusting entries are made at the :

- | | |
|-------------------------------------|--|
| (1) end of the accounting period | (2) beginning of the accounting period |
| (3) middle of the accounting period | (4) none of the above |

172. मालकाने व्यवसायात आणलेली रक्कम या जमा बाजूस असली पाहिजे.

- | | |
|----------------|-----------------|
| (1) रोख खाते | (2) भांडवल खाते |
| (3) उच्चल खाते | (4) खरेदी खाते |

The amount brought in by the proprietor in the business should be credited to :

- | | |
|----------------------|----------------------|
| (1) Cash Account | (2) Capital Account |
| (3) Drawings Account | (4) Purchase Account |

173. शैक्षणिक संस्थेला इमारत बांधण्याच्या विशेष हेतूने मिळालेली देणगी _____.

- (a) उत्पन्न आणि खर्च खात्यास घेतात
 (b) ताळेबंदाच्या मालमत्ता बाजूस घेतात
 (c) ताळेबंदाच्या देयतेच्या बाजूस घेतात

यापैकी कोणता पर्याय बरोबर आहे ?

- | | |
|--------------|------------------------|
| (1) (a) फक्त | (2) (b) फक्त |
| (3) (c) फक्त | (4) यापैकी कोणताच नाही |

Educational Institution received donation for special purpose of Building Construction it

- (a) should be taken to Income and Expenditure Account
 (b) should be taken to Assets side of Balance Sheet
 (c) should be taken liabilities side of Balance Sheet

Which is correct option ?

- | | |
|--------------|-----------------------|
| (1) (a) only | (2) (b) only |
| (3) (c) only | (4) None of the above |

174. खतावणी नोंदीचे व्यवहार यामध्ये आहेत :

- | | |
|------------------------|------------------------|
| (1) कालक्रमानुसार क्रम | (2) विश्लेषणात्मक क्रम |
| (3) आठवड्यानुसार | (4) वरीलपैकी सर्व |

Ledger records transactions in :

- | | |
|---------------------------|-------------------------|
| (1) a chronological order | (2) an analytical order |
| (3) by weekly | (4) all of the above |

कच्च्या कामासाठी जागा /SPACE FOR ROUGH WORK

175. खालीलपैकी कशाची नोंद उत्पन्न आणि खर्च खात्यास केली जाते ?

- (a) स्थिर मालमतेच्या विक्रीवरील तोटा
- (b) इमारतीची खरेदी
- (c) यंत्रसामग्रीची विक्री
- (d) स्थिर मालमतेवर उद्भवलेला भांडवली खर्च

पर्यायी उत्तरे :

- (1) (a) फक्त (2) (b) फक्त
- (3) (b) आणि (c) फक्त (4) (d) फक्त

Which of the following is/are to be recorded in an Income and Expenditure Account ?

- (a) Loss on sale of Fixed Assets
- (b) Purchase of Building
- (c) Sale of Machinery
- (d) Capital Expenditure incurred on Fixed Assets

Answer options :

- (1) (a) only (2) (b) only
- (3) (b) and (c) only (4) (d) only

176. खरेदी पुस्तकामध्ये केवळ _____ खरेदीची नोंद केली जाते.

- (1) रोख (2) उधार
- (3) लहान आकाराच्या (4) वरीलपैकी नाही

Only _____ purchases are recorded in Purchase Book.

- (1) Cash (2) Credit
- (3) Small Scale (4) None of the above

177. रहस्य/अनिश्चित खाते केव्हा उघडतात :

- (1) ताळेबंद सहमत होत नाही
- (2) तेरीजपत्रक सहमत होत नाही
- (3) नफा व तोटा लेखा सहमत होत नाही
- (4) व्यापारी लेखा सहमत होत नाही

A Suspense Account is opened when :

- (1) The Balance Sheet does not agree
- (2) The Trial Balance does not agree
- (3) The Profit and Loss Account does not agree
- (4) The Trading Account does not agree

कच्च्या कामासाठी जागा /SPACE FOR ROUGH WORK

P.T.O.

178. जोड्या लावा :

- | | |
|--|-------------------|
| (a) आजिवन सभासद शुल्क पावती | (i) महसूली आय |
| (b) भाड्यापोटी दिलेली रक्कम | (ii) भांडवली आय |
| (c) इमारत संपादन करण्यासाठी दिलेली रक्कम | (iii) महसूली खर्च |
| (d) धर्मदाय संस्थेकडून मिळालेली देणगी | (iv) भांडवली व्यय |

पर्यायी उत्तरे :

- | | | | | |
|-----|-------|-------|-------|------|
| | (a) | (b) | (c) | (d) |
| (1) | (iii) | (ii) | (i) | (iv) |
| (2) | (iv) | (i) | (iii) | (ii) |
| (3) | (ii) | (iii) | (iv) | (i) |
| (4) | (iii) | (i) | (ii) | (iv) |

Match the following :

- | | |
|---|------------------------|
| (a) Life membership fees receipts | (i) Revenue Receipts |
| (b) Payment of Rent | (ii) Capital Receipts |
| (c) Payment for acquiring building | (iii) Revenue expenses |
| (d) Donation Received by Charitable Institution | (iv) Capital Payment |

Answer options :

- | | | | | |
|-----|-------|-------|-------|------|
| | (a) | (b) | (c) | (d) |
| (1) | (iii) | (ii) | (i) | (iv) |
| (2) | (iv) | (i) | (iii) | (ii) |
| (3) | (ii) | (iii) | (iv) | (i) |
| (4) | (iii) | (i) | (ii) | (iv) |

179. ₹ 5,125 ची लेखा पुस्तकामध्ये ₹ 5,120 अशी करण्यात आलेली नोंद ही _____ होय.

- | | |
|-------------------------------|-------------------------------|
| (1) नजरचुकीने/विसरलेल्या चुका | (2) जाणीवपूर्वक केलेल्या चुका |
| (3) तात्त्विक चुका | (4) भरपाई चुका |

₹ 5,125 recorded as ₹ 5,120 in the books of account. It is _____.

- | | |
|------------------------|-------------------------|
| (1) Error of Omission | (2) Error of Commission |
| (3) Error of Principle | (4) Compensating Error |

180. जर ढोबळ नफ्याचा दर हा विक्रीवर 25% आहे. वस्तूचा विक्री खर्च ₹ 1,05,300 आहे तर ढोबळ नफ्याची रक्कम _____ असेल.

- | | | | |
|--------------|--------------|--------------|--------------|
| (1) ₹ 26,325 | (2) ₹ 35,100 | (3) ₹ 21,060 | (4) ₹ 10,530 |
|--------------|--------------|--------------|--------------|

If the rate of Gross Profit is 25% on sales and the cost of goods sold is ₹ 1,05,300, the amount of Gross Profit will be _____.

- | | | | |
|--------------|--------------|--------------|--------------|
| (1) ₹ 26,325 | (2) ₹ 35,100 | (3) ₹ 21,060 | (4) ₹ 10,530 |
|--------------|--------------|--------------|--------------|

कच्च्या कामासाठी जागा /SPACE FOR ROUGH WORK

181. भारतातील नवीन आर्थिक सुधारणा काँग्रेस (आय) सरकारने कोणाच्या नेतृत्वाखाली सुरू केली ?

- | | |
|------------------------|------------------------|
| (1) राजीव गांधी | (2) मनमोहन सिंग |
| (3) पो.व्ही. नरसिंहराव | (4) यापैकी कोणीही नाही |

New Economic Reform in India were introduced by the Congress (I) Government led by :

- | | |
|-----------------------|--------------------|
| (1) Rajiv Gandhi | (2) Manmohan Singh |
| (3) P.V. Narsimha Rao | (4) None of these |

182. पुढीलपैकी योग्य विधान निवडा.

- (a) जागतिक व्यापार संघटनेची स्थापना 1 जानेवारी, 1995 रोजी करण्यात आली.
 (b) जागतिक व्यापार संघटनेचे मुख्यालय स्वित्झर्लंडमधील जीनिव्हा येथे आहे.

पर्यायी उत्तरे :

- | | |
|--------------------------|----------------------|
| (1) फक्त (a) | (2) फक्त (b) |
| (3) (a) आणि (b) दोन्हीही | (4) यापैकी एकही नाही |

Select the correct statement from the following.

- (a) World Trade Organisation established on 1st January, 1995.
 (b) The headquarter of World Trade Organisation is at Geneva, Switzerland.

Answer options :

- | | |
|----------------------|-----------------------|
| (1) Only (a) | (2) Only (b) |
| (3) (a) and (b) both | (4) None of the above |

183. खालील विधाने विचारात घ्या :

- (a) कर्ज परतफेड हमी निधीची स्थापना 2001 - 02 मध्ये झाली.
 (b) निर्गुतवणूक विभागाची स्थापना 2002 - 03 मध्ये झाली.
 (c) खर्च सुधारणा आयोगाची स्थापना फेब्रुवारी 2000 मध्ये झाली.

वरीलपैकी कोणते/ती विधान/ने बरोबर आहे/त ?

- | | |
|---------------|-------------------|
| (1) (a) व (b) | (2) (b) व (c) |
| (3) (a) व (c) | (4) वरीलपैकी सर्व |

Consider the following statements :

- (a) Loan Guarantee Redemption Fund was established in 2001 - 02.
 (b) Department of Dis-investment was set up from 2002 - 03.
 (c) Expenditure Reforms Commission was constituted in Feb. 2000.

Which of the statement/s given above is/are correct ?

- | | |
|-----------------|----------------------|
| (1) (a) and (b) | (2) (b) and (c) |
| (3) (a) and (c) | (4) All of the above |

कच्च्या कामासाठी जागा /SPACE FOR ROUGH WORK

P.T.O.

184. प्रत्यक्ष कर संहितेने (DTC) पुढीलपैकी कोणत्या कायद्याची जागा घेतली आहे ?

- (a) आयकर कायदा, 1961 (b) केंद्रीय विक्रीकर कायदा, 1956
(c) केंद्रीय उत्पादनशुल्क कायदा, 1944 (d) केंद्रीय वस्तू व सेवा कर कायदा, 2017

पर्यायी उत्तरे :

- (1) फक्त (d) (2) फक्त (a)
(3) फक्त (a) आणि (d) (4) फक्त (b) आणि (c)

Which of the following Act is replaced with Direct Tax Code (DTC) ?

- (a) The Income Tax Act, 1961 (b) The Central Sales Tax Act, 1956
(c) The Central Excise Act, 1944 (d) The Central Goods and Services Act, 2017

Answer options :

- (1) Only (d) (2) Only (a)
(3) Only (a) and (d) (4) Only (b) and (c)

185. जागतिकीकरणाचे मुख्य घटक कोणते ?

- (a) देशाच्या सीमावर्ती भागात मालमुक्त प्रवाह करण्यास परवानगी देण्याकरीता व्यापारातील अडथळे कमी करणे.
(b) देशा देशांमध्ये भांडवल मुक्तप्रवाह होऊ शकते अशा वातावरणाची निर्मिती करणे.
(c) मुक्त तंत्रज्ञान प्रवाह निर्मितीसाठी वातावरण निर्मिती.
(d) वरीलपैकी सर्व

पर्यायी उत्तरे :

- (1) (a) आणि (b) (2) (b) आणि (c) (3) (a) फक्त (4) (d) फक्त

Which are the main parameters of Globalization ?

- (a) Reduction of trade barriers so as to permit free flow of goods across the national frontiers.
(b) Creation of an environment in which free flow of capital can take place among nation states.
(c) Creation of environment, permitting free flow of technology.
(d) All of the above

Answer options :

- (1) (a) and (b) (2) (b) and (c) (3) (a) only (4) (d) only

कच्च्या कामासाठी जागा /SPACE FOR ROUGH WORK

186. खालील विधाने विचारात घ्या :

- (a) नवव्या पंचवार्षिक योजनेचे मुख्य उद्दिष्ट 'समानता आणि सामाजिक न्यायास वृद्धी' होते.
 (b) दहाव्या पंचवार्षिक योजनेचे उद्दिष्ट देशांतर्गत स्थूल उत्पादनात सरासरी वृद्धी 8% साध्य करणे.
 (c) अकराव्या पंचवार्षिक योजनेत 'जलद आणि अधिक समावेशक वृद्धीला' महत्त्व देण्यात आले.
 वरीलपैकी कोणते/ती विधान/ने बरोबर आहे/त ?

- (1) (a) व (b) (2) (b) व (c)
 (3) (a) व (c) (4) वरीलपैकी सर्व

Consider the following statements :

- (a) The Ninth Five Year Plan main aimed at 'growth with social justice and equality'.
 (b) The Tenth Five Year Plan objectives was to achieve an average growth rate of 8% on the GDP.
 (c) The Eleventh Plan emphasized 'faster and more inclusive growth'.

Which of the above statement/s is/are correct ?

- (1) (a) and (b) (2) (b) and (c)
 (3) (a) and (c) (4) All of the above

187. नवीन आर्थिक धोरणामध्ये पुढीलपैकी कशाचा समावेश होत नाही ?

- (a) उदारीकरण (b) खाजगीकरण (c) राष्ट्रीयीकरण (d) जागतिकीकरण
 पर्यायी उत्तरे :

- (1) फक्त (a) (2) फक्त (b)
 (3) फक्त (c) (4) वरील सर्व

Which of the following is not included in New Economic Policy ?

- (a) Liberalization (b) Privatisation (c) Nationalisation (d) Globalization

Answer options :

- (1) Only (a) (2) Only (b)
 (3) Only (c) (4) All of the above

188. खालील विधाने विचारात घ्या :

- (a) 73 व्या व 74 व्या घटनादुरुस्ती कायद्याने पंचायत राज संस्थांना घटनात्मक दर्जा दिला.
 (b) राजीव गांधी पंचायत सशक्तीकरण अभियान हे संपूर्ण देशातील पंचायतींचे मजबूतीकरण करण्यासाठी सुरू केले.
 (c) राजीव गांधी पंचायत सशक्तीकरण अभियानाची योजना राज्य सरकार प्रायोजित आहे.
 वरीलपैकी कोणते/ती विधान/ने असत्य आहे/त ?

- (1) (a) व (b) (2) (b) व (c) (3) फक्त (c) (4) फक्त (a)

Consider the following statements :

- (a) The 73rd and 74th Constitution Amendment Act provide constitutional status to the Panchayati Raj Institutions.
 (b) The Rajiv Gandhi Panchayat Sashaktikaran Abhiyan (RGPSA) has been launched to strengthen panchayats across the country.
 (c) The RGPSA is state government sponsored scheme.

Which of the above statement/s is/are incorrect ?

- (1) (a) and (b) (2) (b) and (c) (3) only (c) (4) only (a)

कच्च्या कामासाठी जागा /SPACE FOR ROUGH WORK

P.T.O.

189. जागतिक व्यापार संघटनेच्या संदर्भात खालील विधाने विचारात घ्या :

- (a) जागतिक व्यापार संघटनेचा उद्देश आंतरराष्ट्रीय व्यापारावरील बंधने कमी करणे आहे.
 (b) मंत्री परिषद ही सर्वोच्च निर्णय घेणारे मंडळ आहे.
 (c) डिसेंबर 2005 मध्ये सहावी मंत्री परिषद दोहा येथे झाली होती.

वरीलपैकी कोणती विधाने चुकीची आहेत ?

- (1) (a) व (b) (2) (b) व (c) (3) फक्त (b) (4) फक्त (c)

Consider the following statements regarding to WTO :

- (a) The purpose of WTO is to remove restrictions in International Trade.
 (b) The highest decision making body is the Ministerial Conference.
 (c) The sixth ministerial conference was held in Doha in Dec. 2005.

Which of the statements given above is/are incorrect ?

- (1) (a) and (b) (2) (b) and (c) (3) only (b) (4) only (c)

190. डब्ल्यू टी ओ चे 'दोहा फेरी' खालीलपैकी कोणत्या विषयाशी संबंधित आहे ?

- (a) कृषीचे उदारीकरण (b) उद्योगाचे उदारीकरण
 (c) सेवा क्षेत्राचे उदारीकरण (d) गुंतवणूकीचे उदारीकरण

वरीलपैकी कोणते पर्याय बरोबर आहे/आहेत ?

- (1) (a) फक्त (2) (b) आणि (c) फक्त
 (3) (a) आणि (c) फक्त (4) (d) फक्त

'Doha Round' of WTO is related with issues, which of the following ?

- (a) Liberalization of Agriculture (b) Liberalization of Industry
 (c) Liberalization of Service Sector (d) Liberalization of Investment

Which of the option given above is/are correct ?

- (1) (a) only (2) (b) and (c) only
 (3) (a) and (c) only (4) (d) only

191. 'सामाजिक न्याय व समतेसह वृद्धी' यांवर कोणत्या पंचवार्षिक योजनेत भर देण्यात आला ?

- (1) आठवी योजना (2) नववी योजना (3) दहावी योजना (4) अकरावी योजना

Which of the Five Year Plan has focused on 'Growth with Social Justice and Equality' ?

- (1) Eighth Plan (2) Ninth Plan (3) Tenth Plan (4) Eleventh Plan

कच्च्या कामासाठी जागा /SPACE FOR ROUGH WORK

192. वस्तु व सेवा कराशी (GST) संबंधित घटनादुरुस्ती कोणती ?

- (1) 98 वी घटनादुरुस्ती (2) 99 वी घटनादुरुस्ती
(3) 100 वी घटनादुरुस्ती (4) 101 वी घटनादुरुस्ती

Which of the Constitutional Amendment is concerned with Goods and Services Tax (GST) ?

- (1) 98th Constitutional Amendment (2) 99th Constitutional Amendment
(3) 100th Constitutional Amendment (4) 101st Constitutional Amendment

193. 'नवीन आर्थिक धोरण' कोणत्या दिवशी स्वीकारण्यात आले ?

- (1) 24 जून, 1990 (2) 24 जुलै, 1990 (3) 24 जून, 1991 (4) 24 जुलै, 1991

On which day, 'New Economic Policy' accepted ?

- (1) 24th June, 1990 (2) 24th July, 1990 (3) 24th June, 1991 (4) 24th July, 1991

194. दुसऱ्या पंचवार्षिक योजनेत पश्चिम जर्मनीच्या सहाय्याने 1959 मध्ये कोणता प्रकल्प राबविण्यात आला ?

- (a) भिलाई पोलाद प्रकल्प (b) दुर्गापूर पोलाद प्रकल्प
(c) रुरकेला पोलाद प्रकल्प (d) वरीलपैकी सर्व

वरीलपैकी कोणते पर्याय बरोबर आहे/आहेत ?

- (1) (a) फक्त (2) (c) फक्त (3) (a), (b) आणि (c) (4) (d) फक्त

Which of the following projects was implemented in 1959 with the help of West Germany in Second Five Year Plan ?

- (a) Bhilai Steel Project (b) Durgapur Steel Project
(c) Rourkela Steel Project (d) All of above

Which of the option given above is/are correct ?

- (1) (a) only (2) (c) only (3) (a), (b) and (c) (4) (d) only

195. डंकल प्रस्तावातील पुढीलपैकी कोणत्या तरतुदीनुसार बहुराष्ट्रीय कंपन्यांना अल्पविकसित देशांमध्ये मुक्त प्रवेश मिळाला ?

- (1) TRIPS (2) TRIMS
(3) वरील दोन्ही (4) यापैकी एकही नाही

As per the which provision of Dunkel Proposal, Multinational Corporations entered freely in Less Develop Countries ?

- (1) TRIPS (2) TRIMS
(3) Above both (4) None of the above

कच्च्या कामासाठी जागा /SPACE FOR ROUGH WORK

P.T.O.

196. अकराव्या पंचवार्षिक योजनेचा कार्यकाल सांगा ?

- | | |
|------------------------|------------------------|
| (1) 2007 ते 2012 | (2) 2012 ते 2017 |
| (3) 2007/08 ते 2011/12 | (4) 2006/07 ते 2010/11 |

State the period of Eleventh Five Year Plan.

- | | |
|------------------------|------------------------|
| (1) 2007 to 2012 | (2) 2012 to 2017 |
| (3) 2007/08 to 2011/12 | (4) 2006/07 to 2010/11 |

197. खालील विधाने विचारात घ्या :

- (a) महाराष्ट्र हे भारतातील पहिले राज्य आहे ज्याने महिला धोरण तयार करून 1994 मध्ये जाहीर केले होते.
- (b) 2014 मध्ये तिसरे महिला धोरण जाहीर केले होते.
- (c) या धोरणांमध्ये महिलांच्या आर्थिक स्थितीमध्ये सुधारणा करण्याकडे लक्ष केंद्रित केले.
- वरीलपैकी कोणते/ती विधान/ने बरोबर आहे/त ?

- | | |
|---------------|-------------------|
| (1) (a) व (b) | (2) (b) व (c) |
| (3) (a) व (c) | (4) वरीलपैकी सर्व |

Consider the following statements :

- (a) Maharashtra is the first state in India to formulate women policy which was declared in 1994.
- (b) Third women policy was declared in 2014.
- (c) These policies focused on reforms in economic conditions of women.

Which of the above statement/s is/are correct ?

- | | |
|-----------------|----------------------|
| (1) (a) and (b) | (2) (b) and (c) |
| (3) (a) and (c) | (4) All of the above |

198. बाराव्या पंचवार्षिक योजनेला राष्ट्रीय विकास परिषदेने 27 डिसेंबर 2012 रोजी आपल्या कितव्या बैठकित मान्यता दिली ?

- | | | | |
|--------|--------|--------|--------|
| (1) 56 | (2) 57 | (3) 59 | (4) 52 |
|--------|--------|--------|--------|

On 27th December 2012 in which meeting National Development Council approved the 12th Five-Year Plan ?

- | | | | |
|--------|--------|--------|--------|
| (1) 56 | (2) 57 | (3) 59 | (4) 52 |
|--------|--------|--------|--------|

कच्च्या कामासाठी जागा /SPACE FOR ROUGH WORK

199. व्हॅट कोणावर लागू आहे ?

- (a) थेट ग्राहकांवर
- (b) उत्पादनाच्या अंतिम टप्प्यावर
- (c) उत्पादनाच्या पहिल्या टप्प्यावर
- (d) उत्पादन आणि अंतिम विक्री दरम्यान मूल्य वर्धनाच्या सर्व टप्प्यांवर

पर्यायी उत्तरे :

- (1) (a) फक्त (2) (a), (b) आणि (c) (3) (b) आणि (c) (4) (d) फक्त

VAT is imposed :

- (a) Directly on consumer
- (b) On Final stage of Production
- (c) On the First stage of Production
- (d) On all stages of value addition between Production and Final sale

Answer options :

- (1) (a) only (2) (a), (b) and (c) (3) (b) and (c) (4) (d) only

200. 5 जून, 1966 रोजी भारतीय रुपयाचे किती टक्क्यांनी अवमूल्यन करण्यात आले ?

- (1) 33.5 टक्के (2) 17.5 टक्के (3) 19.5 टक्के (4) 36.5 टक्के

At what percent devaluation of Indian Rupees was done on 5th June, 1966 ?

- (1) 33.5 percent (2) 17.5 percent (3) 19.5 percent (4) 36.5 percent

- o o o -

कच्च्या कामासाठी जागा /SPACE FOR ROUGH WORK

P.T.O.

सूचना — (पृष्ठ 1 वरून पुढे....)

- (8) प्रश्नपुस्तिकेमध्ये विहित केलेल्या विशिष्ट जागीच कच्चे काम (रफ वर्क) करावे. प्रश्नपुस्तिकेव्यतिरिक्त उत्तरपत्रिकेवर वा इतर कागदावर कच्चे काम केल्यास ते काँपी करण्याच्या उद्देशाने केले आहे, असे मानले जाईल व त्यानुसार उमेदवारावर शासनाने जारी केलेल्या "परीक्षांमध्ये होणाऱ्या गैरप्रकारांना प्रतिबंध करण्याबाबतचे अधिनियम-82" यातील तरतुदीनुसार कारवाई करण्यात येईल व दोषी व्यक्ती कमाल एक वर्षाच्या कारावासाच्या आणि/किंवा रुपये एक हजार रकमेच्या दंडाच्या शिक्षेस पात्र होईल.
- (9) सदर प्रश्नपत्रिकेसाठी आयोगाने विहित केलेली वेळ संपल्यानंतर उमेदवाऱ्याला ही प्रश्नपुस्तिका स्वतःबरोबर परीक्षाकक्षाबाहेर घेऊन जाण्यास परवानगी आहे. मात्र परीक्षाकक्षाबाहेर जाण्यापूर्वी उमेदवाराने आपल्या उत्तरपत्रिकेचा भाग-1 पर्यवेक्षकाकडे न विसरता परत करणे आवश्यक आहे.

नमुना प्रश्न

प्र. क्र. 201. सतीचो चाल नष्ट करण्यासाठी कोणी मूलतः प्रयत्न केले ?

- | | |
|---------------------------|---------------------------|
| (1) स्वामी दयानंद सरस्वती | (2) ईश्वरचंद्र विद्यासागर |
| (3) राजा राममोहन रॉय | (4) गोपाळकृष्ण गोखले |

ह्या प्रश्नाचे योग्य उत्तर "(3) राजा राममोहन रॉय" असे आहे. त्यामुळे या प्रश्नाचे उत्तर "(3)" होईल. यास्तव खालीलप्रमाणे प्रश्न क्र. 201 समोरील उत्तर-क्रमांक "③" हे वर्तुळ पूर्णपणे छायांकित करून दाखविणे आवश्यक आहे.

प्र. क्र. 201. ① ② ● ④

अशा पद्धतीने प्रस्तुत प्रश्नपुस्तिकेतील प्रत्येक प्रश्नाचा तुमचा उत्तर-क्रमांक हा तुम्हाला स्वतंत्ररीत्या पुरविलेल्या उत्तरपत्रिकेवरील त्या त्या प्रश्नक्रमांकासमोरील संबंधित वर्तुळ पूर्णपणे छायांकित करून दाखवावा. ह्याकरिता फक्त काळ्या शाईचे बॉलपेन वापरावे, पेन्सिल वा शाईचे पेन वापरू नये.

कच्च्या कामासाठी जागा /SPACE FOR ROUGH WORK